

KONU SORU DAĞILIM TABLOLARI

Konu soru dağılım tablosu, öğretim programında yer alan konu ve kazanımlarla ortak sınavlardaki soru dağılımlarının gösterildiği tabloyu ifade eder. Konu soru dağılım tabloları, sınavların kapsam geçerliğinin artırılması ve öğrencilerin sınavlara daha bilinçli hazırlanması için her sınavda hangi konu/kazanımdan kaç soru sorulacağı'nın önceden öğrencilere bildirildiği tablolardır. Millî Eğitim Bakanlığı Ölçme ve Değerlendirme Yönetmeliği'ne göre konu soru dağılım tabloları öğretim yılı başında her sınav için il sınıf/alan zümreleri ve Ölçme ve Değerlendirme Merkezi Müdürlüğü ile birlikte oluşturulacak, ardından öğrencilerle paylaşılacaktır. Ölçme, Değerlendirme ve Sınav Hizmetleri Genel Müdürlüğü olarak il sınıf/alan zümrelerine yardımcı olmak üzere örnek konu soru dağılım tabloları hazırlanmıştır. Bu tablolardaki örnek senaryolarda yer alan sorulardan bazıları tek, bazıları ise birden çok kazanıma erişme durumunu yoklamaktadır.

NOT: Konu soru dağılım tabloları öğretim programında yer alan tüm kazanımlar dikkate alınarak hazırlanmış ancak tabloda sadece soru sorulması planlanan kazanımlara yer verilmiştir.



Coğrafya Dersi Öğretim Programı'na ve Millî Eğitim Bakanlığı Ölçme ve Değerlendirme Yönetmeliği'ne aşağıdaki karekodları okutarak ulaşabilirsiniz.



Coğrafya Dersi
Öğretim Programı



Millî Eğitim Bakanlığı
Ölçme ve Değerlendirme
Yönetmeliği



11. SINIF 2. DÖNEM 1. ORTAK YAZILI KONU SORU DAĞILIM TABLOLARI VE ÖRNEK SENARYOLAR

Senaryolar, okul genelinde yapılacak ortak sınavlara yönelik oluşturulabilecek farklı yazılı örneklerini ifade eder. Genel Müdürlüğümüzce il sınıf/alan zümrelerine örnek oluşturması açısından konu soru dağılım tablosunda verilen örnek senaryolara uygun yazılı kâğıdı örnekleri hazırlanmıştır. Örnek senaryolardaki soruların sayı ve kurulumlarındaki fark, sorularda ölçülen bilişsel düzeylere göre şekillendirilmiştir.

Bilişsel düzey, öğrenme-öğretme sürecinde öğrencilerin bilişsel alanda ulaşacağı hedef davranışların basitten karmaşığa olacak şekilde sıralanmasıyla tanımlanan düzeylerdir.

Basit bilişsel süreçleri ölçmeye yönelik sorular; ders içeriğinde öğretilen içeriğin benzer şekilde tanımlanmasını, gösterilmesini, bulunmasını, örneklendirilmesini, listelenmesini, basit bir şekilde yorumlanmasını vb. içerir.

Karmaşık bilişsel süreçleri ölçmeye yönelik sorular; öğretilen içeriğin yeni durumlar veya günlük yaşam durumları çerçevesinde kullanılmasını, ilişkilendirilmesini, çözümlenmesini, karşılaştırılmasını, çıkarım yapılmasını, değerlendirilmesini, yeni bakış açılarının sunulmasını vb. içerir.

Okul genelinde uygulanacak ortak sınavlar, il sınıf/alan zümreleri tarafından ilan edilen konu soru dağılım tabloları göz önünde bulundurularak açık uçlu veya açık uçlu ve kısa cevaplı sorulardan oluşacak şekilde yapılacaktır. Çoktan seçmeli, eşleştirme, doğru/yanlış gibi diğer soru türleri kesinlikle kullanılmayacaktır.

Konu soru dağılım tablolarında soru dağılımları verilen örnek senaryoların her biri, örnek yazılı kâğıdı olacak şekilde verilmiştir.



Soru çözümlerine ulaşmak için karekodu okutunuz.

Not: Örnek senaryolardaki kazanımlar, öğretmenlerimizin kazanım ve soruları eşleştirmesi için verilmiş; bilgilendirme amaçlıdır. Yapılacak olan yazılı sınavlarda bu kazanım ifadelerine sınav kâğıtlarında yer verilmeyecektir.



11. SINIF COĞRAFYA DERSİ
2. DÖNEM 1. ORTAK YAZILI KONU SORU DAĞILIM TABLOSU

SENARYO 1

Ünite	Kazanımlar	Soru Sayısı
BEŞERİ SİSTEMLER	11.2.15. Türkiye’de tarım sektörünün özelliklerini açıklar.	1
	11.2.17. Türkiye’nin madenleri ve enerji kaynaklarının dağılışını açıklar. 11.2.18. Türkiye’nin maden ve enerji kaynaklarının etkin kullanımını ülke ekonomisine katkısı açısından değerlendirir.	1
	11.2.20. Türkiye sanayisini, ülke ekonomisindeki yeri açısından analiz eder.	1
KÜRESEL ORTAM: BÖLGELER VE ÜLKELER	11.3.1. İlk kültür merkezlerinin ortaya çıkışı, yayılışı ve dağılışlarını belirleyen faktörleri açıklar.	1
	11.3.2. Farklı kültürel bölgelerin yeryüzünde yayılışına etki eden faktörleri açıklar.	1



1. SINAV

COĞRAFYA 11

Örnek Senaryo 1

Soru Sayısı	Ölçülen Bilişsel Düzey
3 soru	Basit bilişsel süreçleri ölçmeye yönelik sorular 1, 2 ve 4. sorular
2 soru	Karmaşık bilişsel süreçleri ölçmeye yönelik sorular 3 ve 5. sorular





Adı ve Soyadı:

Sınıfı:

Numarası:

SENARYO 1

Kazanım: 11.2.15. Türkiye’de tarım sektörünün özelliklerini açıklar.

1. Aşağıdaki haritada Türkiye'deki buğday üretim alanları gösterilmiştir.



Buna göre buğdayın yetişme şartlarını yazarak Türkiye’de buğdayın üretim alanının yaygın olmasının nedenini açıklayınız.

SENARYO 1

Kazanım: 11.2.17. Türkiye'nin madenleri ve enerji kaynaklarının dağılışıını açıklar.

11.2.18. Türkiye'nin maden ve enerji kaynaklarının etkin kullanımını ülke ekonomisine katkısı açısından değerlendirir.

2. Türkiye'de yaklaşık 26 milyon tonluk rezervi bulunan bu madenin yıllık bazda üretimi yaklaşık 1,5 milyon tondur. Türkiye bu üretimiyle dünyanın sayılı üreticileri arasında yer almaktadır. Türkiye'deki önemli yatakları; Guleman Bölgesi, Sivas-Erzincan-Kop Dağ Bölgesi, Fethiye-Köyceğiz-Denizli Bölgesi, Mersin-Adana-Kayseri Bölgesi, Bursa-Kütahya-Eskişehir Bölgesi ve İskenderun-Gaziantep Bölgesi'nde bulunmaktadır. Türkiye, bu maden bakımından zengin bir ülke olmasına rağmen dünya ticaretinde yeterince söz sahibi değildir.

Bu parçada hakkında bilgi verilen madenin adını yazınız. Türkiye'nin bu madenin ticaretinde dünyada yeterince söz sahibi olamamasının nedenini açıklayınız.

Kazanım: 11.2.20. Türkiye sanayisini, ülke ekonomisindeki yeri açısından analiz eder.

3. Aşağıdaki tabloda 1965,1980, 2000 ve 2019 yıllarında Türkiye'nin dış satım gelirlerinde sanayinin payı verilmiştir.

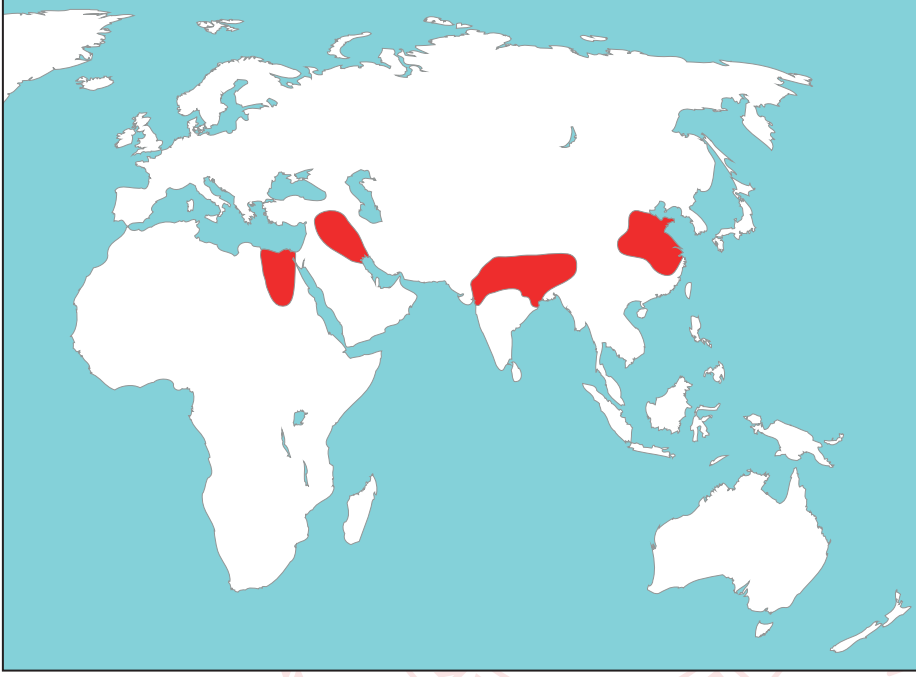
Yıl	Dış Satım (İhracat) (Milyon Dolar)	Sanayi (Milyon Dolar)	(%)
1965	464	91	19,6
1980	2910	1047	35,6
2000	27 775	25 339	91,2
2019	180 832	171 218	94,68

Buna göre Türkiye'nin dış satım gelirlerinde sanayinin katkısını açıklayınız.

SENARYO 1

Kazanım: 11.3.1. İlk kültür merkezlerinin ortaya çıkışı, yayılışı ve dağılışlarını belirleyen faktörleri açıklar.

4. Aşağıdaki haritada ilk uygarlıklardan bazılarının ortaya çıktığı bölgeler gösterilmiştir.

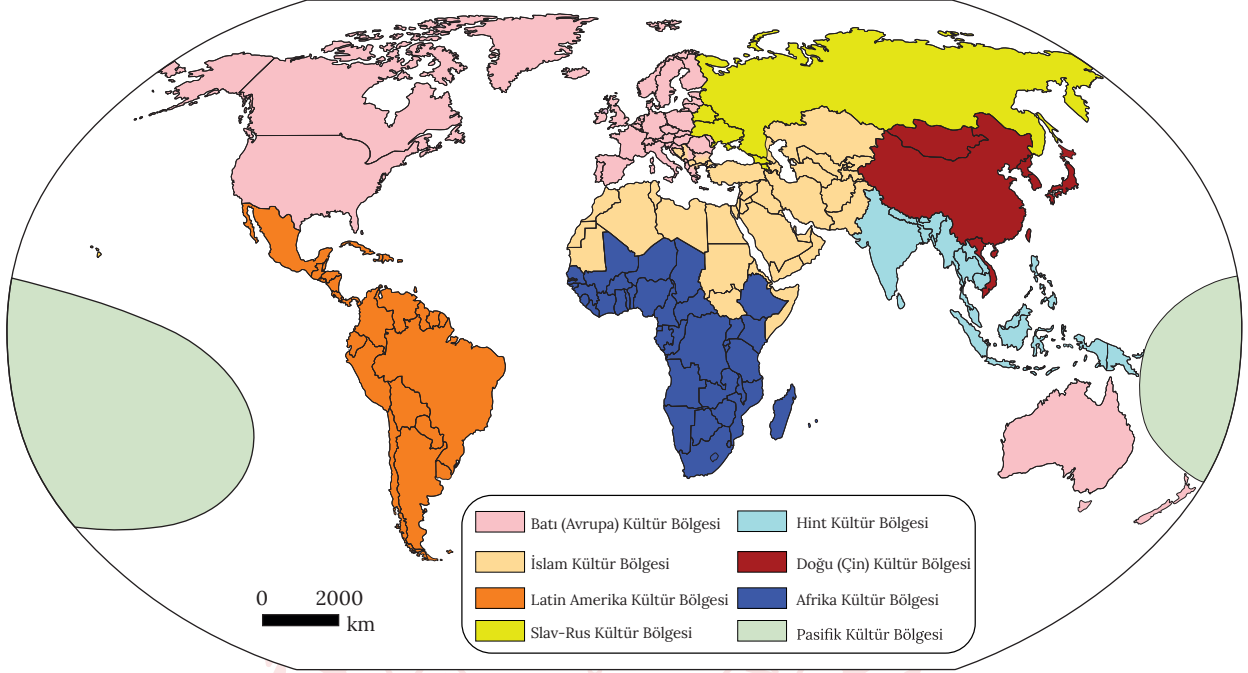


Buna göre bu bölgelerde ilk uygarlıkların ortaya çıkmasını sağlayan başlıca coğrafi özellikleri yazınız.

SENARYO 1

Kazanım: 11.3.2. Farklı kültürel bölgelerin yeryüzünde yayılışına etki eden faktörleri açıklar.

5. Aşağıdaki haritada dünyadaki büyük kültür bölgeleri verilmiştir.



Buna göre yeryüzüne yayılmasında coğrafi keşiflerin etkili olduğu kültür bölgesinin adını yazarak bu kültür bölgesinin yayılışı hakkında bilgi veriniz.



11. SINIF COĞRAFYA DERSİ
2. DÖNEM 1. ORTAK YAZILI KONU SORU DAĞILIM TABLOSU

SENARYO 2

Ünite	Kazanımlar	Soru Sayısı
BEŞERİ SİSTEMLER	11.2.14. Türkiye ekonomisinin sektörel dağılımından hareketle ülke ekonomisi hakkında çıkarımlarda bulunur.	1
	11.2.16. Tarımın Türkiye ekonomisindeki yerini açıklar.	1
	11.2.18. Türkiye'nin maden ve enerji kaynaklarının etkin kullanımını ülke ekonomisine katkısı açısından değerlendirir.	1
	11.2.19. Türkiye'de sanayi sektörünün özelliklerini açıklar.	1
KÜRESEL ORTAM: BÖLGELER VE ÜLKELER	11.3.1. İlk kültür merkezlerinin ortaya çıkışı, yayılışı ve dağılışlarını belirleyen faktörleri açıklar.	1
	11.3.2. Farklı kültürel bölgelerin yeryüzünde yayılışına etki eden faktörleri açıklar.	1

**1. SINAV****COĞRAFYA 11****Örnek Senaryo 2**

Soru Sayısı	Ölçülen Bilişsel Düzey
3 soru	Basit bilişsel süreçleri ölçmeye yönelik sorular 3, 4 ve 5. sorular
3 soru	Karmaşık bilişsel süreçleri ölçmeye yönelik sorular 1, 2 ve 6. sorular





Adı ve Soyadı:

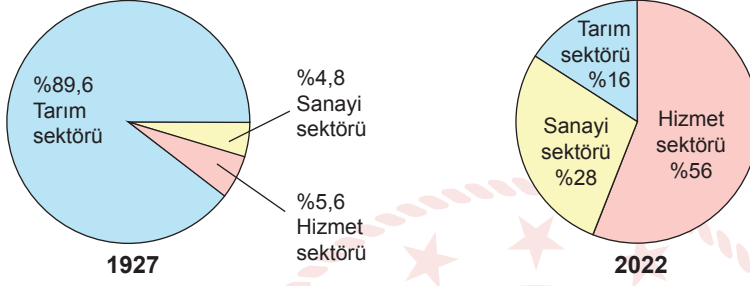
Sınıfı:

Numarası:

SENARYO 2

Kazanım: 11.2.14. Türkiye ekonomisinin sektörel dağılımından hareketle ülke ekonomisi hakkında çıkarımlarda bulunur.

1. Aşağıdaki grafiklerde Türkiye’de 1927 ve 2022’de çalışan nüfusun sektörlere dağılımı verilmiştir.



Grafiklerdeki bilgilerden hareketle Türkiye ekonomisinde meydana gelen değişimi açıklayınız.



1. SINAV

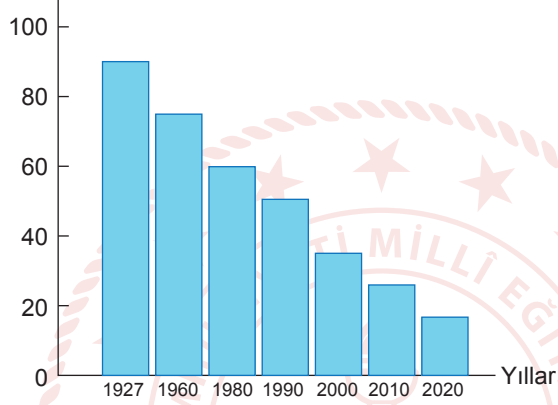
COĞRAFYA 11

SENARYO 2

Kazanım: 11.2.16. Tarımın Türkiye ekonomisindeki yerini açıklar.

2. Aşağıdaki grafikte Türkiye’de 1927- 2020 yılları arasında aktif nüfus içinde tarımda çalışanların oranı verilmiştir.

Aktif nüfus içinde tarımda çalışanların oranı (%)



Buna göre belirtilen yıllar arasında aktif nüfus içinde tarımda çalışanların oranında meydana gelen değişimin Türkiye ekonomisine olan etkisini açıklayınız.



SENARYO 2

Kazanım: 11.2.18. Türkiye'nin maden ve enerji kaynaklarının etkin kullanımını ülke ekonomisine katkısı açısından değerlendirir.

3. Toplamda yaklaşık 26 milyon tonluk krom rezervine sahip olan Türkiye, yıllık bazda yaklaşık 1,5 milyon tonluk üretimiyle dünyanın sayılı krom üreticileri arasında yer almasına rağmen dünya ticaretinde yeterince söz sahibi değildir.

Bu durumun nedenini açıklayınız.



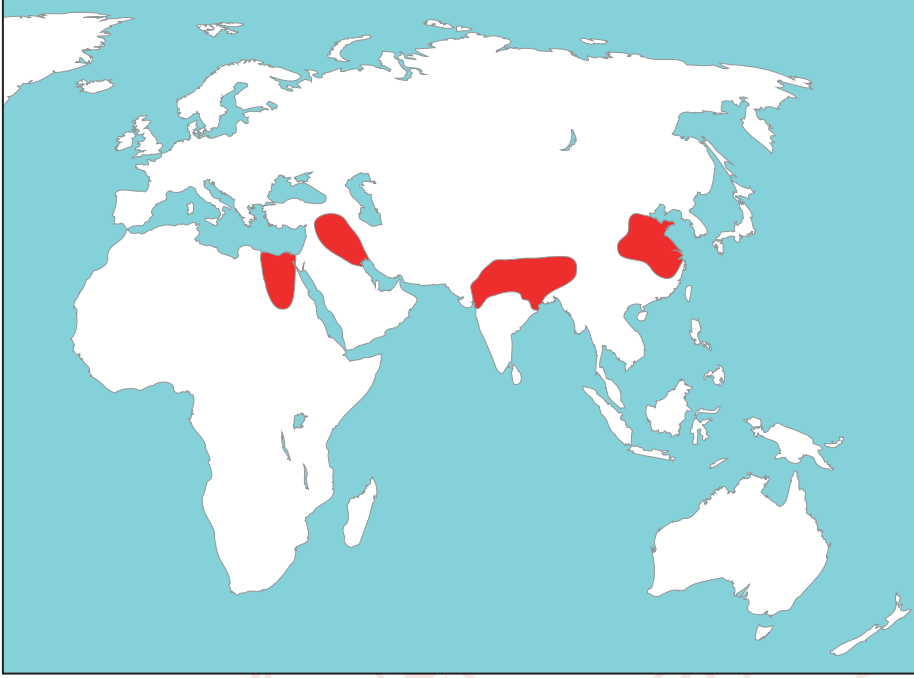
Kazanım: 11.2.19. Türkiye'de sanayi sektörünün özelliklerini açıklar.

4. Karabük ve Ereğli demir - çelik fabrikalarının kuruluş yerlerinin belirlenmesinde etkili olan faktörü gerekçeleriyle açıklayınız.

SENARYO 2

Kazanım: 11.3.1. İlk kültür merkezlerinin ortaya çıkışı, yayılışı ve dağılışlarını belirleyen faktörleri açıklar.

5. Aşağıdaki haritada ilk uygarlıklardan bazılarının ortaya çıktığı bölgeler gösterilmiştir.

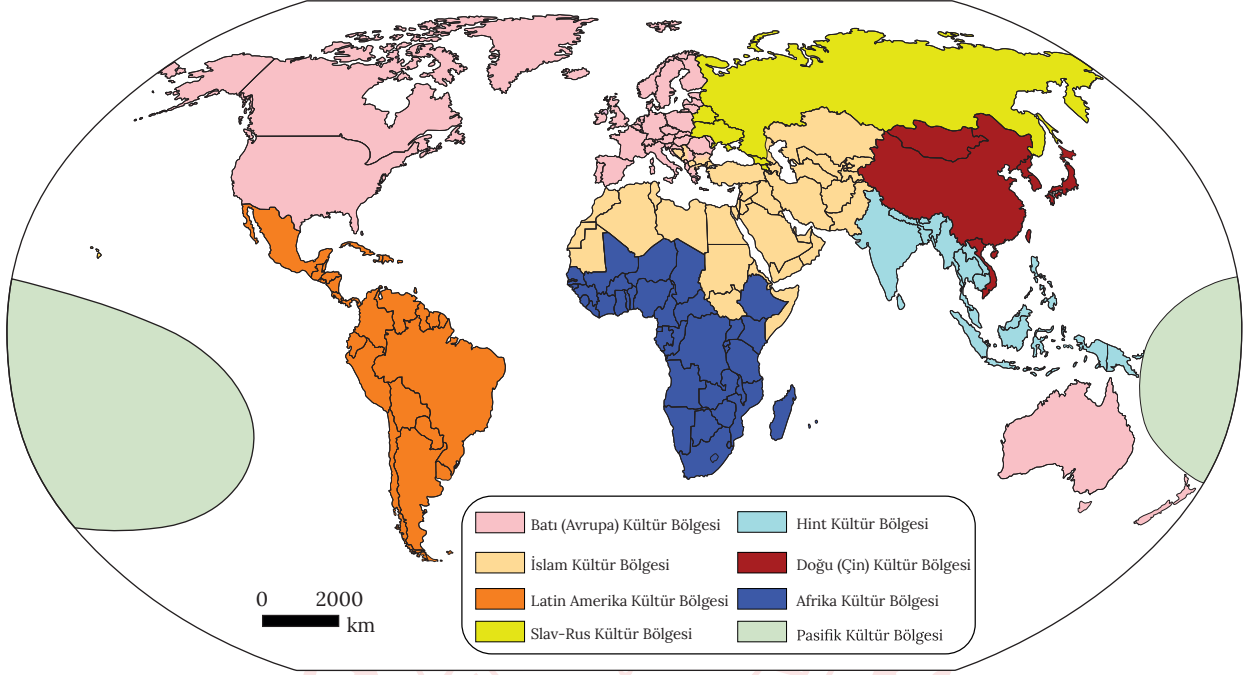


Buna göre bu bölgelerde ilk uygarlıkların ortaya çıkmasını sağlayan başlıca coğrafi özellikleri yazınız.

SENARYO 2

Kazanım: 11.3.2. Farklı kültürel bölgelerin yeryüzünde yayılışına etki eden faktörleri açıklar.

6. Aşağıdaki haritada dünyadaki büyük kültür bölgeleri verilmiştir.



Buna göre yeryüzüne yayılmasında coğrafi keşiflerin etkili olduğu kültür bölgesinin adını yazarak bu kültür bölgesinin yayılışı hakkında bilgi veriniz.