



T.C.  
MİLLÎ EĞİTİM BAKANLIĞI  
ÖLÇME, DEĞERLENDİRME VE  
SINAV HİZMETLERİ GENEL MÜDÜRLÜĞÜ

AÇIK ÖĞRETİM ORTAOKULU  
2024 - 2025 ÖĞRETİM YILI  
1. DÖNEM SINAVI

21 ARALIK 2024 Saat: 10.00

1.  
OTURUM

**DERSLER**

(550) TÜRKÇE – 5	2
(551) MATEMATİK – 5	3
(552) FEN BİLİMLERİ – 5	5
(633) SOSYAL BİLGİLER – 6	7
(634) İNGİLİZCE – 6	8
(634) ALMANCA – 6	9
(634) FRANSIZCA – 6	10
(635) DİN KÜL. VE AHLAK BİLGİSİ – 6	12

**SAYFA**

**DERSLER**

(730) TÜRKÇE – 7	13
(731) MATEMATİK – 7	14
(732) FEN BİLİMLERİ – 7	16
(834) T.C. İNKILAP TARİHİ VE ATATÜRKÇÜLÜK – 8	17
(835) İNGİLİZCE – 8	18
(835) ALMANCA – 8	19
(835) FRANSIZCA – 8	20
(836) DİN KÜL. VE AHLAK BİLGİSİ – 8	21

**SAYFA**

**ADAYLARIN DİKKATİNE!**

- Her ders için 10 soru bulunmaktadır. Bu oturumda **100** dakikalık cevaplama süreniz vardır. Sınavın ilk **30** dakikası tamamlanmadan ve sınav bitimine **15** dakika kala salon dışına çıkmayınız.
- Kullanımı doktor raporu ile belirlenen hasta veya engellilere ait cihazlar ve ilaçlar, anahtarlıksız basit anahtar, ulaşım kartları, para, alyans, şeffaf pet şişe içerisinde bandajı çıkarılmış su ve şeffaf numaralı gözlük hariç; her türlü kesici ve delici alet, ateşli silah, çanta, cüzdan, cep telefonu, her türlü saat, anahtarlık, elektronik anahtar, kablosuz iletişim sağlayan cihaz, kulaklık, kolye, küpe, bilezik, yüzük, broş ve diğer takılar, her türlü plastik, metal ve cam eşya, banka kredi kartları, her türlü elektronik ve mekanik cihaz, her türlü müsvedde kâğıt, defter, ders notu, kitap, sözlük, dergi, gazete ve benzeri yayınlar, cetvel, pergel, açılöçer ve benzeri araçlar, yiyecek, içecek ve diğer tüketim maddeleri yanınızda bulundurmuyunuz. Bu araçları/maddeleri yanınızda bulundurmanız ve kopya çekmeye teşebbüs etmeniz hâlinde sınavınız geçersiz sayılacaktır.
- Başvuru şartlarını taşımadığınız hâlde sınava girmeniz, kopya çekmeniz, başka adayın sınav evrakını kullanmanız ve geçerli kimlik belgenizi ibraz edemediğiniz durumlarda sınavınız geçersiz sayılacaktır.
- Sınavın değerlendirilmesi aşamasında, bilgisayar ortamında yapılan kopya analizinde sistemin ikili ve/veya toplu kopya tespiti hâlinde sınavınız geçersiz sayılacaktır.
- Adaylar, sınav kurallarına ve salon görevlilerinin tüm uyarılarına uymak zorundadır. Kurallara ve uyarılara uymayan adayların sınavları geçersiz sayılacaktır.**
- Sınav başladıktan sonra adayların salon görevlileri ve birbirleri ile konuşmaları; kalem, silgi vb. şeyleri istemeleri yasaktır.
- Adaylar sınav süresince, sınav giriş belgesi ile geçerli kimlik belgelerinden birini masalarının üzerinde bulundurmamak zorundadır.
- Sınav evraklarını teslim etmeyen, soru kitapçıklarının sayfalarından bir kısmını eksik teslim edenlerin sınavları geçersiz sayılacaktır.**
- Sınav başlamadan önce kitapçığın arkasındaki açıklamaları okuyunuz.

**BAŞLAYINIZ DENMEDEN SORU KİTAPÇIKLARINI AÇMAYINIZ.**



# 1. OTURUM

## (550) TÜRKÇE – 5

1. 1. Genci yaşlısı herkes cepheden cepheye koşuyordu.  
2. Sıcak bir yaz günü denizin soğuk suyuna kendimizi bıraktık.  
3. İyisine kötüsüne bakmadan bütün kavunları satın aldı.  
4. Aydın, anlamadan dinlemeden hemen bizi suçladı.

**Numaralanmış cümlelerin hangisinde zıt anlamlı sözcükler bir arada kullanılmamıştır?**

- A) 1 B) 2 C) 3 D) 4

2. Balıkların uykusu, bir çeşit dinlenme hâlidir. Böylece onlar, uyurken de tehlikelere karşı tetikte olurlar.

**Bu parçadaki altı çizili deyim cümleye kattığı anlam aşağıdakilerden hangisidir?**

- A) Her an uyanık ve hazır bulunmak  
B) Bulunduğu yeri ve gideceği yönü şaşırarak  
C) Birini aldatacak kadar kurnaz olmak  
D) İstenmeyen bir durumu kabullenmek

3. (1) Kutup dairelerinde hava sıcaklıkları  $-50^{\circ}\text{C}$ 'ye kadar düşebilir. (2) Kutup ayıları bu soğuğa uyum sağlayabilen mükemmel canlılardır. (3) Onların kürkleri diğer hayvanlarınkinden kalındır ve derilerinin altında kalın bir yağ tabakası vardır. (4) Böylece vücut sıcaklıklarını  $37^{\circ}\text{C}$ 'de tutabilirler.

**Bu parçadaki numaralanmış cümlelerin hangisinde kişisel bir görüşe yer verilmiştir?**

- A) 1 B) 2 C) 3 D) 4

4. (1) Papatya ve ayçiçeği öyle güzel bir dostluğa sahipmiş ki güneş de onları gördükçe mutlu olumuş. (2) Biri tarlada, biri kırdan yaşadığı için minik bir serçe aracılığıyla haberleşirmiş. (3) Baharın gelmesiyle kırlar insanlarla dolup taşmaya başlamış. (4) Papatya, insanların gösterdiği ilgi yüzünden ayçiçeğiyle olan dostluğunu unutmuş.

**Bu parçadaki numaralanmış cümlelerin hangisinde hayal unsuru yoktur?**

- A) 1 B) 2 C) 3 D) 4

5. Aşağıdaki cümlelerin hangisinde geçiş ve bağlantı ifadesi kullanılmamıştır?

- A) Yunuslar, ses yeteneği en çok gelişmiş hayvanlardan biridir.  
B) Kıyafetlerimde ya pamuklu ya keten türü kumaş tercih ederim.  
C) Otobüse binerken aklım hem evde hem de okulda kaldı.  
D) Ev dıştan kötü görünüyordu ama içi çok güzel yapılmıştı.

6. 1. Sonra gösterdikleri bu mürekkep lekelerinin onlara neyi çağrıştırdığını sorar.  
2. Aldığı cevaplardan yola çıkarak insanların kişilik özellikleri ve duygu durumları hakkında bilgi edinir.  
3. Bu testte psikologlar, ilk olarak insanlara kâğıtların üzerindeki mürekkep lekelerini gösterir.  
4. Rorschach Testi, psikologların mürekkep lekelerini kullandığı özel bir testtir.

**Numaralanmış cümlelerle anlamlı bir paragraf oluşturulduğunda sıralama aşağıdakilerden hangisi olur?**

- A) 2-1-3-4 B) 2-3-4-1  
C) 4-2-1-3 D) 4-3-1-2

## 1. OTURUM

7. Dünyada kâğıt üreten ilk millet Çinliler olmuştur. 700'lü yıllara gelindiğinde Çin dışında ilk defa Abbasi Devleti tarafından Bağdat ve Semerkant kentlerinde kâğıt üretim merkezleri kurulmuş. Kâğıt daha sonra Müslümanlar aracılığıyla İspanya'ya taşınmış ve böylece Avrupa kâğıtla tanışmış. 1100 yılından itibaren İtalya, kâğıt üretiminde Avrupa'nın merkezi hâline gelmiş. 1843'te Alman bilim insanı Friedrich Keller odunları öğütterek kâğıt hamuruna dönüştüren bir makine geliştirdi. Bu makine sayesinde dünyanın her yerinde kâğıt üreilmeye başlandı.

**Bu parça için en uygun başlık aşağıdakilerden hangisidir?**

- A) Kâğıdın Tarihî Yolculuğu
- B) Kâğıdın Ham Maddesi
- C) Kâğıdın Kullanım Alanları
- D) Kâğıt Üretme Teknikleri

8. Ahmet, mahalledeki tek elektrikçiydi. Babası Hikmet Usta ise marangozdu. Ahmet ve babası büyük bir kentin küçük bir sokağında ahşap, eski bir evde otururlardı. Evlerinin önündeki bahçeye dükkân yapmaya karar verdiler.

**Bu parçada aşağıdaki hikâye unsurlarından hangisi yoktur?**

- A) Olay
- B) Kişi
- C) Yer
- D) Zaman

9. Aşağıdaki cümlelerin hangisinde yazım yanlış vardır?

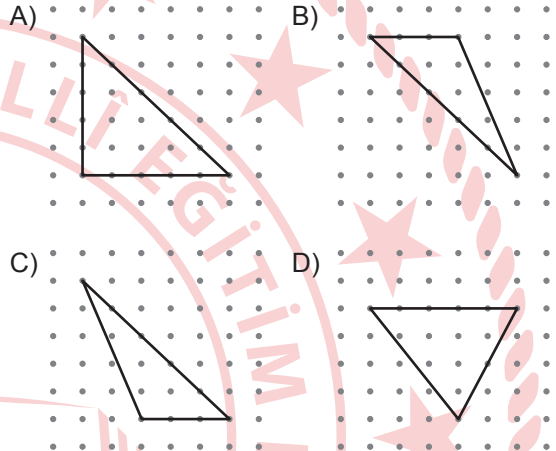
- A) Yeni aldığı kitabın yirmi beşinci sayfası yırtılmış.
- B) Gümüşyaka Köyü, ismini orada bulunan köprüden alır.
- C) Topkapı Sarayı turist çeken önemli bir tarihi mekândır.
- D) Kardeşim 1981 yılında Ankara'da dünyaya geldi.

10. Aşağıdaki cümlelerden hangisinin sonuna soru işareti getirilemez?

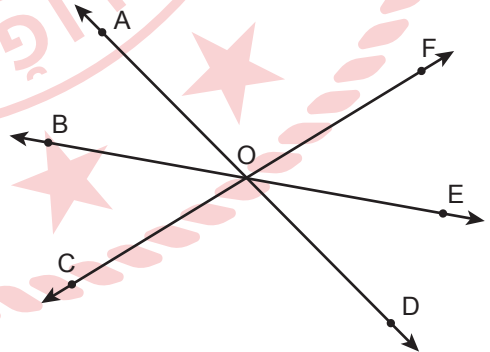
- A) Edirne şehir merkezinde mi oturuyorsunuz
- B) Kış uykusuna yatan balık mı varmış
- C) Elindeki işi bitirdi mi ondan mutlusu olmazdı
- D) Bu ürünler Türkiye'nin kuzeyinde mi yetişir

### (551) MATEMATİK – 5

1. Noktalı zemin üzerinde verilen üçgenlerden hangisi dar açılı üçgendir?



2. Şekildeki AD, BE ve CF doğruları O noktasında kesismektedir.



**Buna göre,  $\widehat{AOB}$  ile ters açı aşağıdakilerden hangisidir?**

- A)  $\widehat{FOE}$
- B)  $\widehat{FOD}$
- C)  $\widehat{EOD}$
- D)  $\widehat{BOC}$

# 1. OTURUM

3. 237 901 648 sayısının birler ve milyonlar bölüğünün yerleri değiştirildiğinde elde edilen sayı aşağıdakilerden hangisidir?

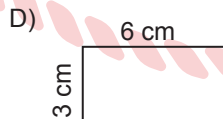
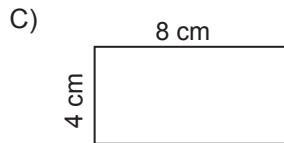
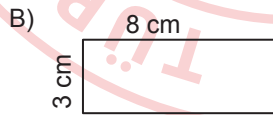
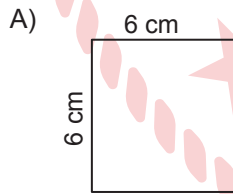
A) 648 901 237      B) 901 648 237  
C) 648 237 901      D) 901 237 648

4. Saat 7.28'de otobüse binen bir yolcu 47 dakika sonra otobüsten inmiştir.

**Buna göre, bu yolcu otobüsten indiğinde saat kaçtır?**

A) 8.05      B) 8.15      C) 8.25      D) 8.35

5. Aşağıda kenar uzunlukları verilen dikdörtgenlerden hangisinin alanı en büyüktür?



6.  $\frac{122}{4}$  kesrinin ondalık gösterimi aşağıdakilerden hangisidir?

A) 3,05      B) 3,5      C) 30,05      D) 30,5

7. Aşağıdaki kesirlerden hangisi  $\frac{1}{2}$  kesrinden büyüktür?

A)  $\frac{3}{8}$       B)  $\frac{2}{5}$       C)  $\frac{4}{9}$       D)  $\frac{5}{7}$

8.  $3^2 \times (15 - 7)$  işleminin sonucu kaçtır?

A) 81      B) 72      C) 54      D) 48

9. 8, 13, 18, 23, ... sayı örüntüsünün 10. adımındaki sayı kaçtır?

A) 43      B) 48      C) 53      D) 58

## 1. OTURUM

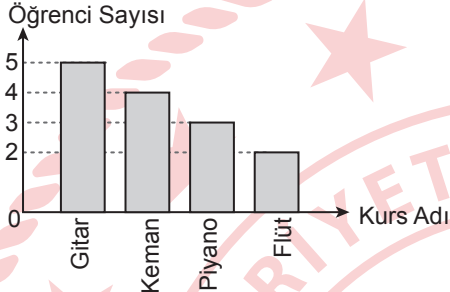
10. Bir sınıfta çeşitli müzik kurslarına katılan öğrenci sayılarını gösteren sıklık tablosu aşağıda verilmiştir.

**Tablo:** Kurslara Katılan Öğrenci Sayıları

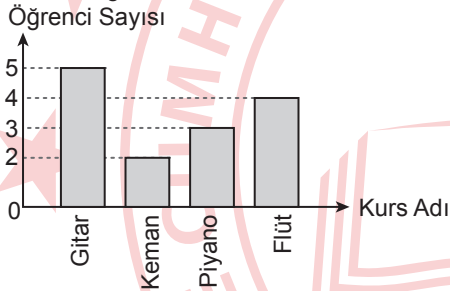
Kurs Adı	Öğrenci Sayısı
Gitar	5
Keman	2
Piyano	3
Flüt	4

**Buna göre, verilen sıklık tablosuna ait sütun grafiği aşağıdakilerden hangisidir?**

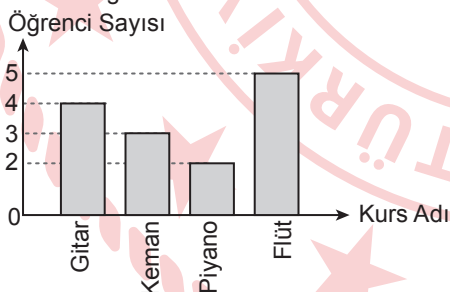
A) **Grafik:** Öğrencilerin Katıldıkları Kurslara Göre Dağılımı



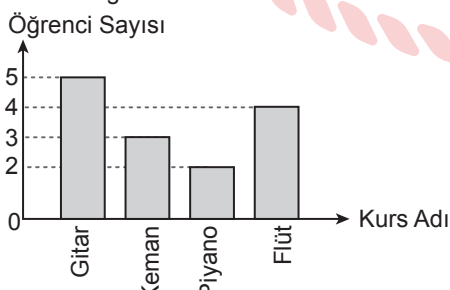
B) **Grafik:** Öğrencilerin Katıldıkları Kurslara Göre Dağılımı



C) **Grafik:** Öğrencilerin Katıldıkları Kurslara Göre Dağılımı



D) **Grafik:** Öğrencilerin Katıldıkları Kurslara Göre Dağılımı

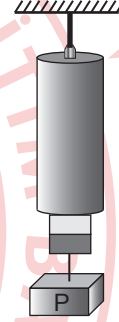


### (552) FEN BİLİMLERİ – 5

1. Ay'ın ilk dördün evresinden dolunay evresine geçerken görünen ara evresi aşağıdakilerden hangisidir?

A) Son dördün                      B) Şişkin ay  
C) Yeni ay                          D) Hilal

2. Özdeş 10 bölmeden oluşan bir dinamometre en fazla 200 N'lık kuvvet ölçebilmektedir. Bu dinamometreye P cismi asıldığında dinamometrenin bölmelerinin görünümü şekilde verilmiştir.



**Buna göre, P cisminin ağırlığı kaç N'dır?**

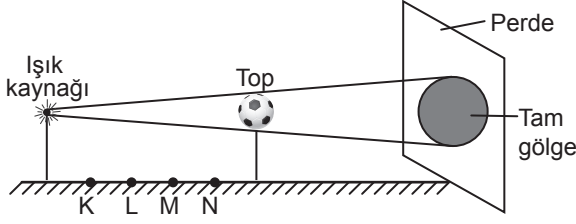
A) 10                      B) 20                      C) 30                      D) 40

3. Aşağıdakilerden hangisi yarı saydam maddeye örnek verilebilir?

A) Yağlı kâğıt                      B) Tahta  
C) Taş                                  D) Hava


## 1. OTURUM

4. Bir ışık kaynağının önüne yerleştirilen saydam olmayan bir futbol topunun gölgesi şekildeki gibi perde üzerinde oluşmuştur.



Buna göre, bu ışık kaynağı K, L, M ve N noktalarından hangisine yerleştirilirse topun perdede oluşan gölgesi en büyük olur?

- A) K B) L C) M D) N

5. Bir elektrik devresine ait devre şemasında “” sembolü ile gösterilen devre elemanı aşağıdakilerden hangisidir?

- A) Pil B) Ampul  
C) Kablo D) Açık anahtar

6. Oda sıcaklığında bulunan bir maddenin tanecikleri sadece titreşim hareketi yapmaktadır.

Buna göre, bu madde aşağıdakilerden hangisi olabilir?

- A) Su buharı B) Zeytinyağı  
C) Demir çubuk D) Süt

7. Gaz hâlde bulunan bir maddenin ısı vererek sıvı hâle geçmeden, doğrudan katı hâle geçtiği hâl değişim olayı aşağıdakilerden hangisidir?

- A) Donma B) Süblimleşme  
C) Kırışılma D) Kaynama

8. Aşağıdakilerden hangisi ısı yalıtkanı bir maddedir?

- A) Tahta B) Demir  
C) Bakır D) Alüminyum

9. Aşağıdakilerden hangisi ağız içi epitel hücrelerinde bulunan yapılardan biri değildir?

- A) Sentrozom B) Mitokondri  
C) Kloroplast D) Koful

10. Aşağıdakilerden hangisi yassı kemiğe örnektir?

- A) Uyluk kemiği B) Kafatası kemiği  
C) El bilek kemiği D) Pazu kemiği

# 1. OTURUM

## (633) SOSYAL BİLGİLER – 6

1. Aşağıdakilerden hangisi dinî bayramların özelliklerinden değildir?

- A) Dargın olanların barışması
- B) Akrabaların birbirini ziyaret etmesi
- C) Okullarda resmî tören düzenlenmesi
- D) Muhtaç insanlara yardım edilmesi

2. Aşağıdakilerden hangisi Yusuf Has Hacip'in eseridir?

- A) Siyasetname
- B) Kutadgu Bilig
- C) Divan-ı Lügati't Türk
- D) Orhun Kitabeleri

3. Aşağıdakilerden hangisi Türk-İslam devletlerinde ticareti geliştirmek amacıyla inşa edilen yapılardandır?

- A) Medrese
- B) Darüşşifa
- C) Kümbet
- D) Kervansaray

4. Yıllık ve günlük sıcaklık farkı en az olan iklim tipi aşağıdakilerden hangisidir?

- A) Ekvatorial
- B) Akdeniz
- C) Muson
- D) Kutup

5. Aşağıdakilerden hangisi Atatürk Dönemi'nde sosyal bilimler alanında eğitim vermesi amacıyla açılmıştır?

- A) Türk Dil Kurumu
- B) Dil ve Tarih-Coğrafya Fakültesi
- C) Türk Tarih Kurumu
- D) Güzel Sanatlar Akademisi

6. Hakan, "Türk kültürünü korumak ve geliştirmek için neler yapabiliriz?" konulu bilimsel araştırması için kütüphaneden ve genel ağdan yararlanarak çeşitli bilgilere ulaşmıştır.

**Buna göre, Hakan bilimsel araştırmasının hangi basamağındadır?**

- A) Metin düzenlemesi
- B) Verilerin değerlendirilmesi
- C) Verilerin toplanması
- D) Araştırma konusunun belirlenmesi

7. Aşağıdakilerden hangisi nitelikli insanın özelliklerinden değildir?

- A) Yeniliklere açık olmak
- B) İşlerini zamanında yapmak
- C) Öğrendikleriyle yetinmek
- D) Çevresine ve ülkesine katkıda bulunmak

8. Türkiye'de orman varlığının en fazla olduğu bölge aşağıdakilerden hangisidir?

- A) Karadeniz
- B) Akdeniz
- C) Ege
- D) Marmara

# 1. OTURUM

9. Türkiye’de kanun yapma yetkisi aşağıdakilerden hangisi tarafından kullanılır?

- A) Sivil toplum kuruluşları
- B) Bağımsız mahkemeler
- C) Bakanlar Kurulu
- D) Türkiye Büyük Millet Meclisi

10. Aşağıdakilerden hangisi Türkiye’nin ihraç ettiği ürünlerden değildir?

- A) Petrol
- B) Otomobil
- C) Fındık
- D) Tekstil

(634) İNGİLİZCE – 6

1 - 7. sorularda boş bırakılan yere/yerlere uygun gelen kelime ya da ifadeyi işaretleyiniz.

1. Wendy - - - - a bike after school.

- A) meets
- B) helps
- C) plays
- D) rides

2. I don’t have - - - - for breakfast because I like nutritious and healthy foods.

- A) milk
- B) olives
- C) chips
- D) honey

3. Thomas : - - - -?

Mr. King : It is twenty TL.

- A) What do you think about the carrousel
- B) When is the funfair open
- C) What is the price for the ride
- D) Who likes bumper cars

4. George and Dave - - - - Maths in the classroom at the moment.

- A) study
- B) are studying
- C) will study
- D) studied

5. Emily : What does your mother do?

Susan : She’s a - - - -. She can fly planes.

- A) nurse
- B) pilot
- C) cook
- D) tailor

6. Mary : How is the weather in Ankara?

Daisy : It is - - - -.

- A) rainy and windy
- B) quarter past nine
- C) the 7th of December
- D) near the city

7. Austin : What did you do last Friday?

Clara : I - - - - to the library.

- A) am going
- B) will go
- C) went
- D) go

8. Sandy and her parents were on holiday last week. They went to their village. Sandy visited her grandparents and walked in the forest on a sunny day.

**Bu metinde aşağıdaki sorulardan hangisinin cevabı yoktur?**

- A) How did Sandy feel?
- B) How was the weather?
- C) What did Sandy do there?
- D) Where did they go last week?

# 1. OTURUM

9 - 10. sorularda boş bırakılan yere/yerlere görsele göre uygun gelen kelime ya da ifadeyi işaretleyiniz.

9.



We should - - - - to protect the environment.

- A) use public transportation
- B) recycle the batteries
- C) save energy
- D) plant trees

10.



Tim is - - - - for the election.

- A) folding the paper
- B) making a speech
- C) counting the votes
- D) putting the envelope into the ballot box

(634) ALMANCA – 6

1 - 5. sorularda boş bırakılan yere/yerlere uygun gelen kelime ya da ifadeyi işaretleyiniz.

1. Wir wissen nicht.

Wo ist das Museum hier?

Wir wissen nicht, - - - -

- A) ist das Museum hier?
- B) das Museum hier ist.
- C) wo das Museum hier ist.
- D) wann das Museum hier ist.

2. A: Könntet ihr mir sagen, - - - -?

B: Ja, wir arbeiten als Ingenieur in einer Automobilfirma.

- A) was ihr von Beruf seid
- B) wann ihr zur Arbeit geht
- C) wo du arbeitest
- D) wann eure Arbeit endet

3. Mathe, Englisch und Musik sind - - - -.

- A) Unterrichtsfächer
- B) Schulsachen
- C) Stundenpläne
- D) Klassenzimmer

4. Der Arzt hat den Patienten im Krankenhaus

- - - -.

- A) ausruhen
- B) operiert
- C) behandeln
- D) liegt

# 1. OTURUM

5. Sonntags besuche ich immer ---- Großeltern.  
Sie freuen sich sehr auf ---- Besuch.

A) mein / meine      B) mir / mich  
C) meus / meiner    D) meine / meinen

6. Was verschmutzt die Umwelt?

A) die Sonnenenergie    B) die Elektroautos  
C) die Fabriken          D) die Pflanzen

7. Welches ist nicht umweltfreundlich?

A) Wälder                  B) Abgase  
C) Flüsse                  D) Windenergie

8. "dick" sıfatının zıt anlamlısı aşağıdakilerden hangisidir?

A) eng      B) jung      C) kurz      D) dünn

9. Was schadet der Gesundheit?

A) Gesund essen.  
B) Fahrrad fahren.  
C) Spazieren gehen.  
D) Schmutzige Umwelt.

10. Was führt nicht zu einem Konflikt?

A) Immer die Regeln beachten.  
B) Nicht rechtzeitig schlafen gehen.  
C) Immer schlechte Noten bekommen.  
D) Spät nach Hause kommen.

## (634) FRANSIZCA – 6

1 - 10. sorularda boş bırakılan yere/yerlere uygun gelen kelime ya da ifadeyi işaretleyiniz.

1. René : ----?

Veli : Eh bien, entre deux heures et quatre heures, j'ai le cours de français.

A) Qu'est-ce que tu fais après midi, aujourd'hui  
B) A cinq heures et demie du matin, tu peux venir chez nous  
C) Que fais-tu dimanche matin  
D) Tu vas à l'école tous les jours

2. Pauline : Lequel préfères-tu ? Le café ou le thé ?  
Fatima : ----

A) Oui oui, avec du sucre.  
B) Merci, je ne prends pas d'eau.  
C) Le café turc ? Non, je n'aime pas ça.  
D) Le thé à la limonade, s'il te plaît !

3. J'adore la vie à la campagne: ----.

A) elle n'est pas calme  
B) elle est moins polluée que la ville  
C) il y a trop de monde  
D) il y a plus de cinémas qu'en ville

# 1. OTURUM

4. ----, quand il neige, il fait froid. Nous allons faire du ski à Uludağ.

- A) En automne
- B) En été
- C) En hiver
- D) Au printemps

5. Pour voir les clowns et les acrobates, David va ---- avec ses amis.

- A) au cirque
- B) au théâtre
- C) à l'opéra
- D) à l'agence

6. Pendant les vacances, Patrick ne veut pas rester en ville. Il veut être dans la nature et faire des activités comme ----.

- A) faire ses devoirs ou aller à la bibliothèque
- B) sortir au cinéma ou au théâtre
- C) surfer sur Internet ou écrire des SMS
- D) aller à la pêche ou camper à la montagne

7. Le professeur ----.

- A) sauve des animaux
- B) donne des cours
- C) fait des gâteaux
- D) conduit les camions

8. Meltem et Mehmet ----.

- A) avons mangé du poisson
- B) êtes sorties de la classe
- C) ont téléphoné à leurs parents
- D) sommes allés chez notre oncle

9. En janvier 2024, un astronaute turc ---- dans l'espace ---- faire des recherches scientifiques.

- A) a travaillé / avec
- B) est allé / pour
- C) est venu / à
- D) a passé / par

10. Pour protéger la nature, ----.

- A) il ne faut pas gaspiller l'eau
- B) il ne faut pas recycler les emballages
- C) il faut jeter les déchets dans la mer
- D) il faut prendre un bain tous les jours

# 1. OTURUM

## (635) DİN KÜL. VE AHLAK BİLGİSİ – 6

### 1. “Uhud Savaşı” ile ilgili aşağıdaki bilgilerden hangisi yanlıştır?

- A) Müşrikler, Bedir Savaşı’nın intikamını almak istemişlerdir.
- B) Ashabıyla istişare eden Hz. Muhammed ordusuyla Uhud’a gelmiştir.
- C) Ayneyn’deki okçuların yerini terk etmesi savaşın seyrini değiştirmiştir.
- D) Savaş sonunda müşrikler Medine’ye hâkim olmuştur.

### 2. Üstün zekâ ve kavrayışa sahip olma anlamına gelen bir sıfattır. Peygamberler bu özellikleri sayesinde Allah’ın mesajlarını en iyi şekilde anlamış, insanlara önderlik yapmış ve içinde yaşadıkları toplumların sorunlarını çözmüşlerdir.

**Bu metinde peygamberlerin hangi özelliğinden bahsedilmektedir?**

- A) Emanet
- B) Fetanet
- C) Tebliğ
- D) Sıdk

### 3. Aşağıdakilerden hangisi “hükümlerine göre namaz çeşitleri” arasında yer almaz?

- A) Farz
- B) Vacip
- C) Mübah
- D) Nafile

### 4. Ezanın aşağıdaki ifadelerinden hangisinin anlamı doğrudur?

- A) Allahüekber: Allah en büyüktür.
- B) Hayye alessalah: Haydi kurtuluşa.
- C) Lâ ilâhe illallah: Allah’a şükürler olsun.
- D) Muhammeden Resulullah: Muhammed Allah’ın kuludur.

### 5. “Mescid-i Nebi’nin kimsesiz ve yoksul Müslümanların barınma ve eğitimi için kullanılan bölümü” aşağıdakilerden hangisidir?

- A) Hücreisaadet
- B) Darulerkam
- C) Ravza
- D) Suffe

### 6. Hz. Muhammed (sav) İslam’ı tebliğ etmek için Mekkelileri Safa Tepesi’ne çağırmıştı. Amcası Ebu Leheb, bu duruma kızarak tepki göstermişti.

**Bu olay üzerine nazil olan sure aşağıdakilerden hangisidir?**

- A) Tebbet
- B) Kâfirun
- C) Kureyş
- D) Kevser

### 7. Aşağıdaki olaylardan hangisi Mekke Dönemi’nde gerçekleşmiştir?

- A) Hudeybiye Antlaşması
- B) İkinci Akabe Biatı
- C) Veda Hutbesi
- D) Mekke’nin Fethi

### 8. Kur’an-ı Kerim’de ismi açıkça zikredilen - - - sayısı yirmi beştir.

**Bu cümlede boş bırakılan yere aşağıdakilerden hangisi getirilmelidir?**

- A) kitap
- B) melek
- C) peygamber
- D) kavim

### 9. Bu gecelerde kandil simitleri, helvalar ve lokma tatlıları dağıtılarak komşuluk ilişkileri geliştirilir. Camilerde bir araya gelen Müslümanlar dua ederek, namaz kılarak ve Kur’an okuyarak bu geceleri değerlendirmeye çalışırlar.

**Bu metinde “kandil geceleri”yle ilgili hangisine değinilmiştir?**

- A) Kutlanmasının ülkelere göre değişiklik gösterdiğine
- B) Çoğunluğunun üç aylar içinde yer aldığına
- C) Önemli olayları anmak için kutlandığına
- D) Birlik ve beraberliğe katkı sağladığına

## 1. OTURUM

10. Arkadaş, yurduma alçakları uğratma sakın;  
Siper et gövdeni, dursun bu hayâsızca akın.  
Doğacaktır sana vadettiği günler Hakk'ın;  
Kim bilir, belki yarın, belki yarından da yakın.

**Bu dizelerde aşağıdakilerden hangisini korumanın önemi vurgulanmaktadır?**

- A) Dini B) Vatani  
C) Kültürü D) Ahlakı

### (730) TÜRKÇE – 7

1. • Kolyemi çekmecenin altında buldum.  
• Bu alanda herkesin işini kolaylaştıracak bir cihaz buldu.  
• Kristof Colomb Amerika Kıtası'nı buldu.

**Aşağıdakilerin hangisi "bulmak" sözcüğünün bu cümlelerde kazandığı anlamlardan değildir?**

- A) Keşfetmek  
B) Kaybedilen bir şeyi yeniden ele geçirmek  
C) İcat etmek  
D) Bir yere, bir noktaya erişmek

2. (1) Maden ocağında çalışırken yanımda bulunan iki işçinin konuşmasına kulak misafiri olmuştum. (2) Söylediklerine göre Virginia'da (Virjinya) yeni bir okul açılacaktı ve bu okulda okumak isteyen yoksul fakat kabiliyetli gençlere birçok kolaylık gösterilecekti. (3) O günden sonra her gün Hampton (Hampton) Öğretmen ve Tarım Okulunu düşündüm. (4) Uzaklığını ve yolda karşılaşılabileceğim güçlükleri düşünmeden oraya gitmeyi aklıma koymuştum.

**Bu parçadaki numaralanmış cümlelerin hangisinde deyim kullanılmamıştır?**

- A) 1 B) 2 C) 3 D) 4

3. Aşağıdaki cümlelerin hangisinde koşul-sonuç ilişkisi vardır?

- A) Yağmur yağarsa ekinler suya doyar.  
B) Akşam güzel bir film izlese, diyorum.  
C) Çok özlediği arkadaşı iki gün sonra gelecekti.  
D) Yeğeni için yeni bir kitap listesi hazırladı.

4. Solunum; vücudumuza oksijen alınması, alınan oksijenin hücrelere kadar iletilmesi ve hücrelerde enerji üretimi için kullanılması, bunun sonucunda karbondioksitin açığa çıkması, üretilen karbondioksitin akciğerlere taşınarak atılmasıdır. Solunumda akciğerlerimiz ve diyaframımız rol oynar. Sakin bir solunum neredeyse tamamen diyaframın hareketiyle gerçekleşir.

**Bu parçada aşağıdaki düşünceyi geliştirme yollarından hangisi kullanılmıştır?**

- A) Örneklemeye  
B) Karşılaştırma  
C) Sayısal verilerden yararlanma  
D) Tanımlama

5. Çatkuyu, 31 Ağustos 1922

Bugün Akşehir'de, Birinci Ordu Birinci Şube Müdürü sayesinde süvari kolordusunun izini buldum. Düşmanla karşılaşmadan gidebilmem için hangi yollardan geçileceğini öğrendim. Ayvalı'ya geldim. Hayvanlar da bizim gibi son derece açtı. Birkaç saat mola vererek onları doyurdum. Çizmemi tamir ettirdim. Sıcak bir çaya çok ihtiyacım vardı. Bir kılavuz olarak Reşadiye'ye, oradan da Çatkuyu'ya geldim.

**Bu parça aşağıdaki metin türlerinden hangisine örnektir?**

- A) Söyleşi B) Günlük  
C) Biyografi D) Otobiyografi

## 1. OTURUM

6. (1) Her insan öyle ya da böyle bir meslek sahibi olmalıdır. (2) Örneğin bir ayakkabı tamircisi, ayakkabı tamir etmekle sadece kendi ekmeğini kazanmaz. (3) Çünkü edinilen her meslek hem kişinin kendisine hem de çevresine fayda sağlar. (4) Müşterisi de ücret karşılığında ayakkabısını tamir ettirmiş olur.

**Bu parçadaki düşünce akışını sağlamak için numaralanmış cümlelerden hangileri birbirleriyle yer değiştirmelidir?**

- A) 1 ve 2  
B) 1 ve 4  
C) 2 ve 3  
D) 3 ve 4

7. Aşağıdakilerin hangisinde yazım yanlışı yoktur?

- A) Dere kenarında gezerken yüzüğüm kayıp oldu.  
B) Odadaki değişikliği ilk fark eden yeğenimdi.  
C) Sonunda bu kitabı ala bilmene çok sevindim.  
D) Gelen siparişleri defterine yazı verdi.

8. Nine, çantasından çıkardığı kâğıtları göstererek "Bir kitap yazdım oğlum. Bastırarak birini bulabilir misin?" dedi (1) Öğretmen, kâğıtları eline aldı ve nineyi sandalyeye oturttu (2) Ninenin hatıralarla dolu canlı bir tarih olduğunu biliyordu (3) Henüz gençken gazetelere fıkra ve hikâyeler yazdığını da (4)

**Bu parçadaki numaralanmış yerlerden hangisine farklı bir noktalama işareti getirilmelidir?**

- A) 1  
B) 2  
C) 3  
D) 4

9. Aşağıdaki cümlelerin hangisinde altı çizili sözcük durum fiilidir?

- A) Yorgun olduğunda erkenden uyuyordu.  
B) Domates fideleri günden güne uzuyordu.  
C) Her ay kitapçıdan beş tane kitap alıyordu.  
D) Vitrinde gördüğü her elbiseyi beğeniyordu.

10. Aşağıdaki cümlelerin hangisinde haber kipiyle çekimlenmiş bir fiil kullanılmıştır?

- A) Köşedeki durakta bizi bekleyin.  
B) Müjdeyi ailene sen vermelisin.  
C) Her gün bu pastaneye uğrarım.  
D) Diğer mağazalara da bir bakalım.

### (731) MATEMATİK – 7

1. 40 soruluk bir sınavda her bir doğru cevap için +4 puan ve her bir yanlış cevap için –1 puan verilmektedir.

**Bu sınavdaki tüm soruları cevaplayan Esra'nın 7 tane yanlış cevabı olduğuna göre, Esra bu sınavdan toplam kaç puan almıştır?**

- A) 153  
B) 132  
C) 125  
D) 85

2. Aslı ile Eren, 63 adet cevizi sırasıyla 3 ve 4 ile doğru orantılı olarak paylaşıyorlar.

**Buna göre, Aslı'nın payına düşen ceviz sayısı kaçtır?**

- A) 24  
B) 27  
C) 32  
D) 36

3. 125 sayısının %12'si kaçtır?

- A) 15  
B) 14  
C) 13  
D) 12

4. 1, 5, 9, 13, ... sayı örüntüsünün genel terimi aşağıdakilerden hangisidir?

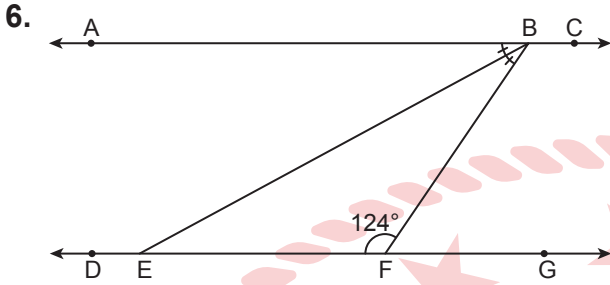
- A)  $5n - 4$   
B)  $3n - 2$   
C)  $n + 4$   
D)  $4n - 3$

# 1. OTURUM

5. Ali doğduğunda Ayşe 5 yaşındadır.

Ali ile Ayşe'nin bugünkü yaşlarının toplamı 37 olduğuna göre, Ayşe'nin bugünkü yaşı kaçtır?

- A) 21 B) 20 C) 19 D) 18



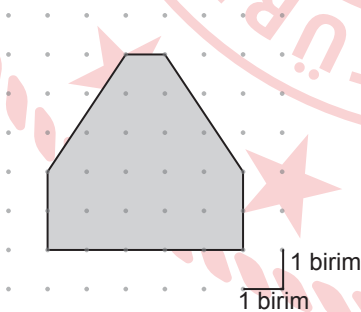
Şekilde  $AC \parallel DG$  ve  $[BE]$ ,  $\widehat{ABF}$ 'nin açıortayıdır.  $m(\widehat{BFE}) = 124^\circ$  olduğuna göre,  $m(\widehat{BED})$  kaç derecedir?

- A) 157 B) 152 C) 146 D) 118

7. Bir dış açısının ölçüsü  $72^\circ$  olan düzgün çokgenin iç açılarının ölçüleri toplamı kaç derecedir?

- A) 1080 B) 900 C) 720 D) 540

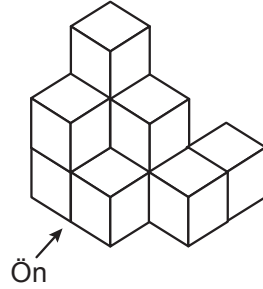
8. Noktalı zemin üzerinde bir şekil verilmiştir.



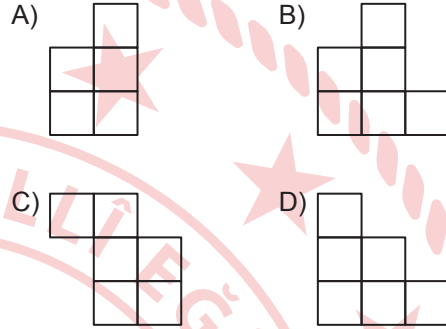
Buna göre, verilen şeklin alanı kaç birimkaredir?

- A) 19 B) 18 C) 17 D) 16

9. Şekildeki yapı 10 adet eş birimküpten oluşmuştur.



Buna göre, aşağıdakilerden hangisi bu yapının önden görünümüdür?



10. Bir fırında satılan ekmeklerin çeşitlerine göre bir günlük satış adedini gösteren tablo aşağıda verilmiştir.

**Tablo:** Çeşitlerine Göre Bir Günde Satılan Ekmek Adedi

Ekmek Çeşidi	Satış Adedi
Tam buğday	62
Yulaf	24
Siyez	74
Çavdar	20

Bu tablodaki verilerin tamamı kullanılarak oluşturulan daire grafiğinde siyez ve çavdar ekmeklerinin toplam satış adedini gösteren daire diliminin merkez açısının ölçüsü kaç derece olur?

- A) 164 B) 172 C) 188 D) 196

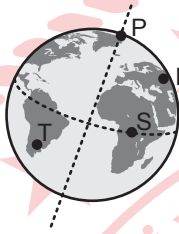
# 1. OTURUM

## (732) FEN BİLİMLERİ – 7

### 1. Aşağıdakilerden hangisi bir takımyıldız değildir?

- A) Büyükayı B) Avcı (Orion)  
C) Kuzey Tacı D) Andromeda

2. Bir cismin ağırlığı, Dünya üzerinde eş yükseltide bulunan P, R, S ve T noktalarında özdeş dinamometreler kullanılarak ayrı ayrı ölçülüyor.



Buna göre, bu noktaların hangisinde dinamometre en küçük değeri gösterir?

- A) P B) R C) S D) T

3. Bir cismin numaralanmış aynalarda oluşan görüntüsünün özellikleri verilmiştir.

I. Ayna : Görüntünün boyu cismin boyuna eşit ve düzdür.

II. Ayna : Görüntünün boyu cismin boyundan küçük ve düzdür.

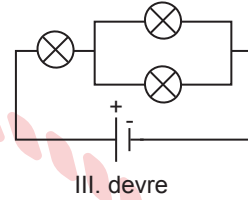
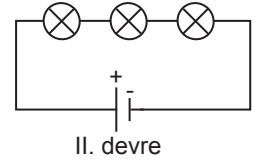
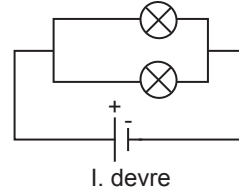
Buna göre, bu aynalar aşağıdakilerin hangisinde doğru verilmiştir?

I. Ayna	II. Ayna
A) Düz	Çukur
B) Çukur	Tümsek
C) Düz	Tümsek
D) Tümsek	Çukur

4. Bir elektrik devresinde akım şiddetini ölçen devre elemanı aşağıdakilerden hangisidir?

- A) Pil B) Ampermetre  
C) Voltmetre D) Akü

5. Özdeş pil, ampul ve kablolar kullanılarak oluşturulan basit elektrik devreleri numaralanarak verilmiştir.



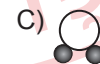
Buna göre, bu devrelerin hangilerinde ampullerin tamamı birbirine seri bağlanmıştır?

- A) Yalnız I B) Yalnız II  
C) I ve III D) II ve III

6. Su bileşiğinin formülü aşağıdakilerin hangisinde doğru verilmiştir?

- A) H<sub>2</sub>O B) CO<sub>2</sub> C) HCl D) NH<sub>3</sub>

7. Aşağıdaki molekül modellerinden hangisi aynı cins atomlardan oluşmuştur?



8. Aşağıdaki yapılardan hangisi soğan zarı hücresinde bulunmaz?

- A) Kloroplast B) Koful  
C) Sentriyol D) Ribozom

## 1. OTURUM

9. 2n kromozumlu bir hücre bir kez mitoz geçirdiğinde oluşan hücrelerle ilgili aşağıdakilerden hangisi doğrudur?

- A) Oluşan hücreler n kromozomludur.
- B) Oluşan hücrelerin genetik yapıları birbiriyle aynıdır.
- C) Oluşan hücrelerin genetik yapısı ana hücreden farklıdır.
- D) Bölünme sonucunda dört hücre oluşur.

10. Aşağıdakilerden hangisi tomurcuklanarak üreyen bir canlıdır?

- A) Hidra
- B) Öglena
- C) Paremesyum
- D) Amip

### (834) T.C. İNKILAP TARİHİ VE ATATÜRKÇÜLÜK – 8

1. Atatürk'ün doğduğu şehir aşağıdakilerden hangisidir?

- A) Sofya
- B) Selanik
- C) İstanbul
- D) Ankara

2. TBMM'nin kendisine karşı çıkan isyanları bastırmak amacıyla aldığı aşağıdaki önlemlerden hangisi yasama yetkisini kullandığının göstergesidir?

- A) İstiklal Mahkemelerini kurması
- B) İstanbul Hükûmeti ile haberleşmeyi kesmesi
- C) Hıyanet-i Vataniye Kanunu'nu çıkarması
- D) Düzenli ordu birliklerini kurması

3. Sosyal bilgiler dersinde, "İtilaf Devletleri deniz çıkarmalarında nasıl ki Seyit Onbaşı gibi kahramanları geçemedilerse kara savaşlarında da Yarbay Mustafa Kemal ve Mehmetçik gibi vatan sevdalılarını geçemediler." diyen bir öğretmenin anlattığı savaş aşağıdakilerden hangisidir?

- A) Trablusgarp
- B) Çanakkale
- C) I. Balkan
- D) II. Dünya

4. Millî Mücadele Dönemi'nde Doğu Cephesi komutanı aşağıdakilerden hangisidir?

- A) İsmet İnönü
- B) Kazım Karabekir
- C) Fevzi Çakmak
- D) Ali Fuat Cebesoy

5. Birinci Dünya Savaşı sonrası Sovyet Rusya ile İtilaf Devletleri'nin arası açılmıştı. Türk milleti de İtilaf Devletleri'ne karşı bağımsızlık mücadelesi veriyordu. Durum böyle olunca iki devlet ortak düşman karşısında iş birliği yapma kararı aldı.

**Bu gelişmeler sonucunda imzalanan antlaşma aşağıdakilerden hangisidir?**

- A) Moskova
- B) Gümrü
- C) Londra
- D) Ankara

6. Özel sektörün yetersiz kaldığı durumlarda, yatırımların devlet tarafından yapılması aşağıdaki Atatürk ilkelerinden hangisinin uygulanmasına yöneliktir?

- A) Laiklik
- B) Halkçılık
- C) İnkılapçılık
- D) Devletçilik

7. Aşağıdakilerden hangisi Atatürk Dönemi'ndeki "siyasi" gelişmelerden değildir?

- A) Saltanatın kaldırılması
- B) Ankara'nın başkent olması
- C) Harf inkılabının yapılması
- D) Cumhuriyetin ilan edilmesi

# 1. OTURUM

8. • Özel teşebbüse kredi sağlayacak bir devlet bankası kurmak  
• Demir yolu inşaatını bir programa bağlamak  
• Yabancıların kurduğu tekellerden kaçınmak

**Bu kararlar aşağıdakilerin hangisinde yer almaktadır?**

- A) Misak-ı İktisadî  
B) Misakımillî  
C) Tekalif-i Millîye Emirleri  
D) Amasya Genelgesi

9. Aşağıdakilerden hangisi Terakkiperver Cumhuriyet Fırkası'nın kurucuları arasında yer alır?

- A) Fethi Okyar B) Rauf Orbay  
C) Nuri Killigil D) Fuat Köprülü

10. "Atatürk'ün devlet yönetimi ve yaptığı inkılaplar; yalnız Türkiye'yi değil, bütün dünyayı etkilemiştir."

**Yunan başbakanı Metaksas bu sözlerle Atatürk'ün gerçekleştirdiği inkılapların özellikle hangi yönünü vurgulamıştır?**

- A) Tarafsızlığını B) Gerçekçiliğini  
C) Akılcılığını D) Evrenselliğini

(835) İNGİLİZCE – 8

1 - 9. sorularda boş bırakılan yere/yerlere uygun gelen kelime ya da ifadeyi işaretleyiniz.

1. **Daisy** : Would you like to go to the cinema at the weekend?  
**Jenny** : I'd love to, but - - - -.

- A) it would be great  
B) I like watching a movie  
C) I have a plan with my mom  
D) it sounds awesome

2. **George** : How often do you visit your family?  
**Kevin** : - - - -.

- A) Once a week  
B) In the city  
C) At 9 a.m.  
D) By car

3. **Andy** : Hello! This is Andy calling.  
I'd like to order dinner.

**Take-out Clerk** : Sorry, I can't hear you well.  
- - - -

**Andy** : I'd like to order dinner.

- A) I'll get back to you in an hour.  
B) Can you hold on a moment?  
C) Thanks for calling.  
D) Could you repeat that?

4. **Mother** : - - - -?  
**Brenda** : It is very delicious.

- A) Where do you have lunch  
B) How is your pancake  
C) How often do you cook  
D) What are the ingredients

5. - - - - is an indoor sport.

- A) Bungee-jumping B) Scuba-diving  
C) Bowling D) Rafting

6. **Teacher** : - - - -?  
**Mehmet** : In 2015.

- A) Where was Aziz Sancar born  
B) Who was Aziz Sancar's teacher  
C) What did Aziz Sancar do as a scientist  
D) When did Aziz Sancar get the Nobel Prize

# 1. OTURUM

7. **Mark** : What does your father do as a chore at home?

**Jack** : He generally - - - -.

- A) goes to work
- B) does the ironing
- C) meets his friends
- D) gets up early

8. **Tim** : How long did you stay at the hotel?

**Meg** : - - - -.

- A) In March
- B) To London
- C) For two weeks
- D) With my sister

9. I chat on the Internet - - - - I like making new foreign friends online.

- A) but
- B) because
- C) although
- D) however

10.



It is a/an - - - -.

**Görsele göre, bu cümlede boş bırakılan yere aşağıdakilerden hangisi getirilmelidir?**

- A) volcano
- B) flood
- C) drought
- D) avalanche

(835) ALMANCA – 8

1 - 4. sorularda boş bırakılan yere/yerlere uygun gelen kelime ya da ifadeyi işaretleyiniz.

1. Ich wünschte, ihr - - - - euch das Basketballspiel - - - -! (anschauen-Konjunktiv II)

- A) würde / anschauen
- B) hätte / angeschaut
- C) würdest / schauen
- D) hätten / geschaut

2. A: - - - - und - - - - ist deine Schwester geboren?  
B: Sie ist am 09.12.2010 in Artvin geboren.

- A) Wer / wie
- B) Was / wann
- C) Wann / wo
- D) Wer / was

3. Ihr - - - - über die Straße gehen.  
Achtung, ihr - - - - jetzt nicht, die Ampel ist rot. (wollen, dürfen)

- A) will / darf
- B) wollt / dürft
- C) willst / darfst
- D) wollen / dürfen

4. Im Sommer - - - - die Temperaturen in Antalya meistens 35 Grad warm.

- A) hat
- B) legen
- C) gibt
- D) sind

5. **Arda** : Sıla, hast du deine Hausaufgaben gemacht?

**Sıla** : Nein, noch nicht. Warum hast du gefragt?

**Arda** : Ich wollte dich fragen, ob du Lust hast mit mir zum Sportzentrum zu kommen. Wir könnten zusammen Sport treiben.

**Sıla** : Ok. Die Hausaufgaben mache ich dann später.

**Welche Information ist falsch?**

- A) Sıla hat ihre Hausaufgaben nicht gemacht.
- B) Sıla will ihre Hausaufgaben nach dem Sport machen.
- C) Sıla hat keine Lust auf Sport.
- D) Arda will mit Sıla Sport machen.

# 1. OTURUM

6. "wenig" sıfatının zıt anlamlısı aşağıdakilerden hangisidir?

- A) viel B) vieles  
C) am meisten D) mehreres

7. Aşağıdaki sözcüklerden hangisi sıfattır?

- A) haben B) sollen  
C) Konflikt D) falsch

8. Mehmet ist ein Sportler. Er muss auf sein Essen aufpassen. Deswegen muss er sich proteinreich ernähren. Morgens isst er Käse, Ei, Tomaten und trinkt Milch. Zum Mittag isst er meistens Fleisch mit Reis und Gemüse und abends isst er Fisch oder Hähnchen mit Salat.

Welcher Satz ist falsch?

- A) Er muss sich proteinreich ernähren.  
B) Zum Mittag isst er Fisch mit Salat.  
C) Er ernährt sich gesund.  
D) Abends isst er Fisch oder Hähnchen.

9. Aşağıdaki "Verb - Präteritum" eşleştirmelerinden hangisi doğrudur?

- A) laufen - läuft  
B) kaufen - kauft  
C) gehen - gegangen  
D) schreiben - schrieb

10. Aşağıdakilerden hangisi sıfat değildir?

- A) regnen B) windig  
C) bewölkt D) sonnig

(835) FRANSIZCA – 8

1 - 7. sorularda boş bırakılan yere/yerlere uygun gelen kelime ya da ifadeyi işaretleyiniz.

1. Merci pour ton invitation. Je viendrai - - - - à ton anniversaire.

- A) malheureusement  
B) avec plaisir  
C) désolé  
D) s'il te plaît

2. Tu es en retard et c'est - - - - la même chose, la même excuse !

- A) toujours B) parfois  
C) jamais D) quelques fois

3. Il ne faut pas parler à haute voix dans - - - - .

- A) la rue B) la bibliothèque  
C) le stade de foot D) la marché

4. On donne - - - - à un ami quand on veut le retrouver à une heure précise dans un lieu connu pour faire quelque chose.

- A) un courrier électronique  
B) une connexion  
C) un réseau  
D) un rendez-vous

5. Pour faire ses devoirs, Ahmet fait un petit tour sur - - - - .

- A) la recherche B) la connection  
C) l'écran D) le Web

6. Quand tu - - - - petite, tu - - - - une belle poupée.

- A) était / avais B) étais / avait  
C) étais / avais D) était / avait

# 1. OTURUM

7. Pour le cours de - - - -, les lycéens vont au laboratoire de l'école.

- A) gymnastique B) mathématiques  
C) danse D) chimie

8.



C'est - - - -.

**Görsele göre, bu cümlede boş bırakılan yere aşağıdakilerden hangisi getirilmelidir?**

- A) une éruption volcanique  
B) une inondation  
C) un tremblement de terre  
D) un tsunami

9. Ulaşım araçları ile ilgili aşağıdaki bilgilerden hangisi doğrudur?

- A) L'avion est moins rapide que la voiture.  
B) Le train est plus rapide que le vélo.  
C) Le bus est moins confortable que la moto.  
D) Le cheval va plus vite que l'avion.

10.



**Bu görseli ifade eden cümle aşağıdakilerden hangisidir?**

- A) Passez l'aspirateur.  
B) Allez tout droit.  
C) Tournez à droite.  
D) Mettez la table.

## (836) DİN KÜL. VE AHLAK BİLGİSİ – 8

1. Aşağıdakilerden hangisi "fiziksel yasalar" kapsamında değerlendirilemez?

- A) Mevsimlerin art arda gelmesi  
B) Sanayi şehirlerinin göç alması  
C) Gemilerin denizde yol alması  
D) Isınan suyun buharlaşması

2. "İkiniz beraber Firavun'a gidin. Çünkü o, sınırı çok aştı. Yine de ona söyleyeceklerinizi tatlı bir dille söyleyin. Belki aklını başına toplar veya içine bir korku düşer."  
(Taha suresi, 43 ve 44. ayetler)

**Bu ayette bahsedilen peygamberler aşağıdakilerden hangisidir?**

- A) Hz. Yakub - Hz. Yusuf  
B) Hz. Musa - Hz. Harun  
C) Hz. İbrahim - Hz. İsmail  
D) Hz. Zekeriyya - Hz. Yahya

3. Aşağıdakilerden hangisi "ibadet" ile ilgili doğru bir bilgi değildir?

- A) Allah'ın rızasını kazanmak için yapılır.  
B) İnsanların sorumlu tutulduğu bir görevdir.  
C) Tercih etme ve isteme anlamlarına gelir.  
D) Topluma faydalı işler bu kapsamda değerlendirilir.

4. Aşağıdaki ibadetlerin hangisinde "yardımlaşma ve paylaşma" ön plandadır?

- A) Hac B) Oruç  
C) Namaz D) Sadaka

# 1. OTURUM

5. İslam dininin yasakladığı aşağıdaki davranışlardan hangisi **öncelikle** “canın korunmasına” yöneliktir?

- A) Sağlıksız gıdaları tüketmek
- B) Rüşvet alıp vermek
- C) Kumar oynamak
- D) Fal baktırmak

6. Hz. Muhammed (sav), arkadaşlarının ve komşularının sık sık hâlini hatırlar, insanların yüzüne bakarak konuşurdu.

**Bu cümlede Hz. Muhammed’in (sav) aşağıdaki özelliklerinden hangisi vurgulanmaktadır?**

- A) Merhametli olması
- B) Hoşgörülü olması
- C) Davasındaki kararlılığı
- D) İnsana değer vermesi

7. “Kureyş suresi”nde aşağıdakilerden hangisi emredilmiştir?

- A) Gösterişten uzak durulması
- B) Muhtaçlara yardım edilmesi
- C) Kâbe’nin Rabbine kulluk edilmesi
- D) Ölçü ve tartıda adil davranılması

8. “Ramazan, insanlara yol gösterici, doğrunun ve doğruyu eğriden ayırmanın açık delilleri olarak Kur’an’ın indirildiği aydır...”  
(Bakara suresi, 185. ayet)

**Bu ayette “Kur’an-ı Kerim” ile ilgili aşağıdakilerden hangisine değinilmiştir?**

- A) Benzerini getirmede insanları aciz bıraktığına
- B) Hz. Muhammed’e gönderildiğine
- C) İnsanlar için rehber olduğuna
- D) Parça parça indirildiğine

9. Aşağıdakilerden hangisi Kur’an-ı Kerim’de **açıkça belirtilen konulardan** biridir?

- A) Namazın nasıl kılınacağı
- B) Oruç ibadetinin farz olduğu
- C) Hangi mallardan zekât verileceği
- D) Hangi hayvanların kurban edilebileceği

10. “Allah, şirkten sakınan bilinçli kullarını, zafere ulaştıracak amelleri sebebiyle kurtaracaktır...”  
(Zümer suresi, 61. ayet)

**Bu ayetteki altı çizili ifade aşağıdakilerden hangisiyle ilişkilendirilebilir?**

- A) Başarı
- B) Ömür
- C) Rızık
- D) Sağlık

TEST BİTTİ.  
CEVAPLARINIZI KONTROL EDİNİZ.



### CEVAP KÂĞIDI VE SORU KİTAPÇIĞI İLE İLGİLİ AÇIKLAMALAR

1. Cevap kâğıdınızdaki bilgilerin doğruluğunu kontrol ediniz ve cevap kâğıdınızı imzalayınız.
2. Cevap kâğıdı üzerinde kodlamalarınızı siyah kurşun kalemle yapınız.
3. Değiştirmek istediğiniz bir cevabı, yumuşak silgiyle cevap kâğıdını yıpratmadan temizce siliniz ve yeni cevabınızı kodlayınız.
4. Soru kitapçığının sayfalarını görevlilerin uyarıları doğrultusunda kontrol ediniz, baskı hatası var ise değiştirilmesini sağlayınız.
5. Soruların çözümü için size ayrıca boş kâğıt verilmeyecektir. Soru kitapçığınızın içindeki boş alanları soru çözümleri için kullanabilirsiniz.
6. Her sorunun dört seçeneğinden sadece biri doğrudur. Doğru seçeneği, cevap kâğıdınızın ilgili sütununa soru numarasını dikkate alarak yuvarlağın dışına taşırmadan kodlayınız. Soru kitapçığı üzerinde yapılan cevaplandırmalar dikkate alınmayacaktır.
7. Cevaplamaya istediğiniz dersin sorusundan başlayabilirsiniz. Cevabını bilmediğiniz sorular üzerinde fazla zaman kaybetmeden diğer sorulara geçiniz. Zamanınız kalırsa bu sorulara daha sonra dönebilirsiniz.
8. Yanlış cevaplarınız dikkate alınmadan sadece doğru cevaplarınız üzerinden puanlama yapılacaktır.
9. Soruları ve sorulara verdiğiniz cevapları, yanınızda götürmek amacıyla kaydetmeyiniz; hiçbir şekilde dışarı çıkarmayınız.
10. Sınav bitiminde soru kitapçığı ve cevap kâğıdını salon görevlilerine teslim ediniz.
11. Aday tarafından cevap kâğıdına yazılması veya işaretlenmesi gereken bilgilerde eksiklik ya da yanlışlık olması durumunda sorumluluk adaya ait olacaktır.

### SALON GÖREVLİLERİNCE SINAV BAŞLAMADAN ÖNCE ADAYLARA YAPILACAK SON UYARILAR

- Soracağınız bir şey varsa şimdi sorunuz, sınav başladıktan sonra sorularınıza cevap verilmeyecektir.
- Başlama zilini bekleyiniz.

*Hepinize başarılar dileriz.*

(Salon başkanı başlama ve bitiş saatini tahtaya yazacaktır.)

Bu kitapçığın her hakkı saklıdır. Hangi amaçla olursa olsun, kitapçığın tamamının veya bir kısmının Millî Eğitim Bakanlığı Ölçme, Değerlendirme ve Sınav Hizmetleri Genel Müdürlüğünün yazılı izni olmadan kopya edilmesi, fotoğraflarının çekilmesi, bilgisayar ortamına alınması, herhangi bir yolla çoğaltılması, yayımlanması veya başka bir amaçla kullanılması yasaktır. Bu yasağa uymayanlar, doğabilecek cezai sorumluluğu ve kitapçığın hazırlanmasındaki mali külfeti peşinen kabullenmiş sayılır.

**21 ARALIK 2024 TARİHİNDE YAPILAN**  
**AÇIK ÖĞRETİM ORTAOKULU 2024-2025 ÖĞRETİM YILI 1. DÖNEM SINAVI**  
**1. OTURUM CEVAP ANAHTARI**

**(550) TÜRKÇE – 5**

1. D
2. A
3. B
4. C
5. A
6. D
7. A
8. D
9. B
10. C

**(552) FEN BİLİMLERİ – 5**

1. B
2. D
3. A
4. D
5. D
6. C
7. C
8. A
9. C
10. B

**(634) İNGİLİZCE – 6**

1. D
2. C
3. C
4. B
5. B
6. A
7. C
8. A
9. D
10. B

**(634) FRANSIZCA – 6**

1. A
2. D
3. B
4. C
5. A
6. D
7. B
8. C
9. B
10. A

**(551) MATEMATİK – 5**

1. D
2. C
3. A
4. B
5. A
6. D
7. D
8. B
9. C
10. B

**(633) SOSYAL BİLGİLER – 6**

1. C
2. B
3. D
4. A
5. B
6. C
7. C
8. A
9. D
10. A

**(634) ALMANCA – 6**

1. C
2. A
3. A
4. B
5. D
6. C
7. B
8. D
9. D
10. A

**(635) DİN KÜLTÜRÜ VE  
AHLAK BİLGİSİ – 6**

1. D
2. B
3. C
4. A
5. D
6. A
7. B
8. C
9. D
10. B

**21 ARALIK 2024 TARİHİNDE YAPILAN**  
**AÇIK ÖĞRETİM ORTAOKULU 2024-2025 ÖĞRETİM YILI 1. DÖNEM SINAVI**  
**1. OTURUM CEVAP ANAHTARI**

**(730) TÜRKÇE – 7**

1. D
2. C
3. A
4. D
5. B
6. C
7. B
8. D
9. A
10. C

**(732) FEN BİLİMLERİ – 7**

1. D
2. C
3. C
4. B
5. B
6. A
7. D
8. C
9. B
10. A

**(835) İNGİLİZCE – 8**

1. C
2. A
3. D
4. B
5. C
6. D
7. B
8. C
9. B
10. A

**(835) FRANSIZCA – 8**

1. B
2. A
3. B
4. D
5. D
6. C
7. D
8. A
9. B
10. C

**(731) MATEMATİK – 7**

1. C
2. B
3. A
4. D
5. A
6. B
7. D
8. A
9. D
10. C

**(834) T.C. İNKILAP TARİHİ  
VE ATATÜRKÇÜLÜK – 8**

1. B
2. C
3. B
4. B
5. A
6. D
7. C
8. A
9. B
10. D

**(835) ALMANCA – 8**

1. B
2. C
3. B
4. D
5. C
6. A
7. D
8. B
9. D
10. A

**(836) DİN KÜLTÜRÜ VE  
AHLAK BİLGİSİ – 8**

1. B
2. B
3. C
4. D
5. A
6. D
7. C
8. C
9. B
10. A