

Adı:

Soyadı:

Sınıfı:

1. Soru  
(.... puan)2. Soru  
(.... puan)3. Soru  
(.... puan)4. Soru  
(.... puan)5. Soru  
(.... puan)6. Soru  
(.... puan)7. Soru  
(.... puan)8. Soru  
(.... puan)9. Soru  
(.... puan)

**Kazanım:** SB. 6. 2. 1. Orta Asya'da kurulan ilk Türk devletlerinin coğrafi siyasal, ekonomik ve kültürel özelliklerine ilişkin çıkarımlarda bulunur.

1. Aşağıdaki soruları cevaplayınız.

a. Bilinen ilk teşkilatlı Türk devletinin adını yazınız.

b. Türk adı ile kurulan ilk Türk devletinin adını yazınız.

c. Mani dinini benimseyen Türk devletinin adını yazınız.

**Kazanım:** SB. 6. 2. 2. İslamiyet'in ortaya çıkışını ve beraberinde getirdiği değişimleri yorumlar.

2. • Arap Yarımadası dışında fetihler yaptı, İslamiyet'i yaydı.  
• Kur'an ayetlerini toplayarak kitap hâline getirdi.  
• Peygamberlik iddiasında bulunan yalancılarla mücadele etti.

**Bu gelişmelerin;**

a. Hangi halife döneminde yaşandığını,

b. İslam dünyasında hangi sonuçları doğurduğunu yazınız.

**Kazanım:** SB. 6. 2. 3. Türklerin İslamiyet'i kabullenmeleri ile birlikte siyasi, sosyal ve kültürel alanlarda meydana gelen değişimleri fark eder.

3. Aşağıdaki soruları cevaplayınız.

a) İlk Türk-İslam eserleri hangi devlet zamanında kaleme alınmıştır?

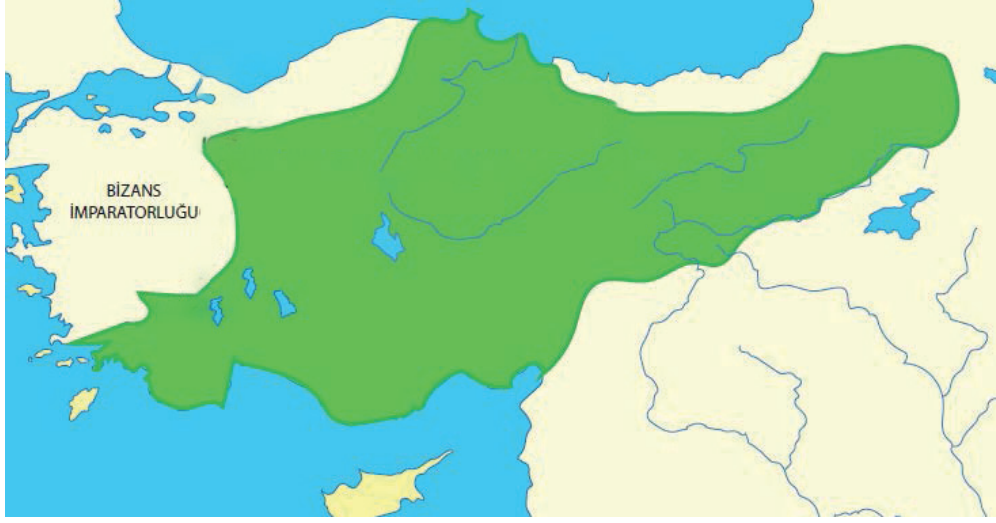
b) İlk Türk-İslam eserleri ve yazarlarını yazınız.





**Kazanım:** SB. 6. 2. 4. Türklerin Anadolu'yu yurt edinme sürecini XI ve XIII. yüzyıllar kapsamında analiz eder.

4.



Bu haritada yeşil renk ile gösterilen devletin,

a. Adını,

b. Anadolu'ya sağladığı katkıları yazınız.

**Kazanım:** SB. 6. 2. 4. Türklerin Anadolu'yu yurt edinme sürecini XI ve XIII. yüzyıllar kapsamında analiz eder.

5. Aşağıdaki soruları cevaplayınız.

a. Hangi savaş sonrasında Anadolu'nun kapıları Türklere açılmıştır?

b. Hangi savaş sonrasında Avrupalılar Anadolu'ya Türkiye demeye başlamıştır?

c. Aşağıdaki mimari eserlerin hangi beylikler döneminde inşa edildiğini yazınız.

Divriği Ulu Cami -

Malabadi Köprüsü -

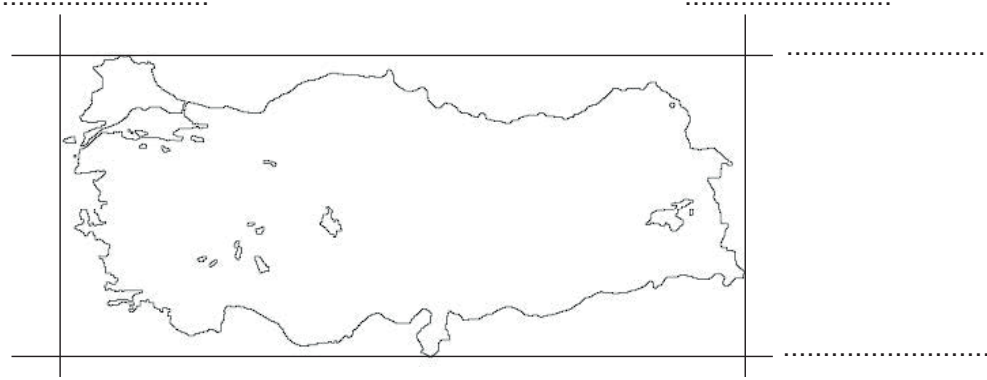
Yağıbasan Medresesi -





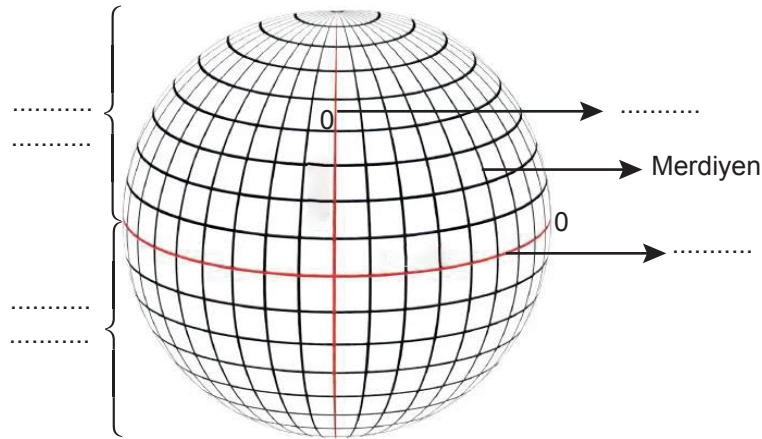
**Kazanım:** SB. 6. 3. 1. Konum ile ilgili kavramları kullanarak kıtaların, okyanusların ve ülkemizin coğrafi konumunu tanımlar

**6. Aşağıda verilen haritada, belirtilen yerlere Türkiye'nin mutlak konumuyla ilgili koordinatları yazınız.**



**Kazanım:** SB. 6. 3. 1. Konum ile ilgili kavramları kullanarak kıtaların, okyanusların ve ülkemizin coğrafi konumunu tanımlar.

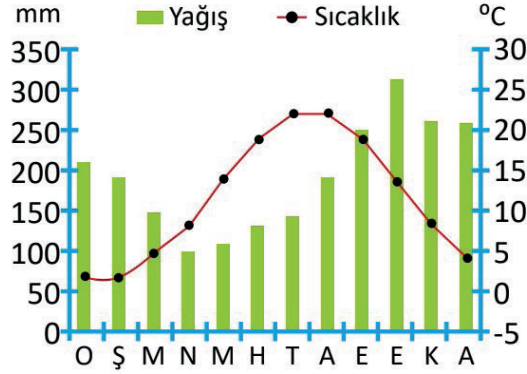
**7. Aşağıda boş bırakılan yerleri örnekteki gibi doldurunuz.**





**Kazanım:** SB. 6. 3. 2. Türkiye'nin temel fiziki coğrafya özelliklerinden yer şekillerini, iklim özelliklerini ve bitki örtüsünü ilgili haritalar üzerinde inceler.

8.



Aşağıdaki soruları bu grafikteki verilere göre cevaplayınız.

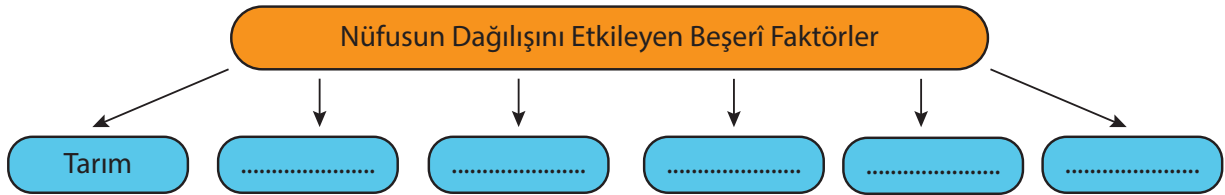
a) Bu iklimin yaşandığı yerde görülen bitki örtüsünün adını yazınız.

b) Ülkemizde bu iklimin görüldüğü bir şehir adını yazınız.

c) Ülkemizde bu iklimin görüldüğü yerlerde yetiştirilen bir tarım ürünü örneği veriniz.

**Kazanım:** SB. 6. 3. 3. Türkiye'nin temel beşerî coğrafya özelliklerini ilgili haritalar üzerinde gösterir.

9. Nüfusun dağılışını etkileyen beşerî faktörlerin verildiği aşağıdaki diyagramda boş bırakılan yerleri örnekteki gibi doldurunuz.



Adı:

Soyadı:

Sınıfı:

1. Soru  
(.... puan)2. Soru  
(.... puan)3. Soru  
(.... puan)4. Soru  
(.... puan)5. Soru  
(.... puan)6. Soru  
(.... puan)7. Soru  
(.... puan)8. Soru  
(.... puan)9. Soru  
(.... puan)

**Kazanım:** SB. 6. 2. 1. Orta Asya'da kurulan ilk Türk devletlerinin coğrafi siyasal, ekonomik ve kültürel özelliklerine ilişkin çıkarımlarda bulunur.

1. Aşağıdaki soruları cevaplayınız.

a. Bilinen ilk teşkilatlı Türk devletinin adını yazınız.

Asya Hun

b. Türk adı ile kurulan ilk Türk devletinin adını yazınız.

Kök Türkler

c. Mani dinini benimseyen Türk devletinin adını yazınız.

Uygurlar

**Kazanım:** SB. 6. 2. 2. İslamiyet'in ortaya çıkışını ve beraberinde getirdiği değişimleri yorumlar.

2. • Arap Yarımadası dışında fetihler yaptı, İslamiyet'i yaydı.  
• Kur'an ayetlerini toplayarak kitap hâline getirdi.  
• Peygamberlik iddiasında bulunan yalancılarla mücadele etti.

Bu gelişmelerin;

a. Hangi halife döneminde yaşandığını,

Hiz. Ebu Bekir

b. İslam dünyasında hangi sonuçları doğurduğunu yazınız.

İslamiyet Arap Yarımadası dışına yayıldı. Kur'an-ı Kerim'in korunması ve sonraki nesillere aktarılması sağlandı. İslam toplumu içindeki birlik ve otorite korundu.

**Kazanım:** SB. 6. 2. 3. Türklerin İslamiyet'i kabullenmeleri ile birlikte siyasi, sosyal ve kültürel alanlarda meydana gelen değişimleri fark eder.

3. Aşağıdaki soruları cevaplayınız.

a) İlk Türk-İslam eserleri hangi devlet zamanında kaleme alınmıştır?

Karahanlı Devleti

b) İlk Türk-İslam eserleri ve yazarlarını yazınız.

Yusuf Has Hacib - Kutadgu Bilig

Kaşgarlı Mahmut - Divan ü Lügatü't Türk

Edip Ahmet Yükneki - Atabetü l Hakayık

Hoca Ahmet Yesevi - Divanı Hikmet





**Kazanım:** SB. 6. 2. 4. Türklerin Anadolu'yu yurt edinme sürecini XI ve XIII. yüzyıllar kapsamında analiz eder.

4.



Bu haritada yeşil renk ile gösterilen devletin,

**a. Adını,**

Türkiye Selçuklu Devleti

**b. Anadolu'ya sağladığı katkıları yazınız.**

Türk-İslam kültürüne ait öğelerle ülke bayındır hâle getirildi, Haçlı Seferlerine karşı korundu.

**Kazanım:** SB. 6. 2. 4. Türklerin Anadolu'yu yurt edinme sürecini XI ve XIII. yüzyıllar kapsamında analiz eder.

5. Aşağıdaki soruları cevaplayınız.

**a. Hangi savaş sonrasında Anadolu'nun kapıları Türklere açılmıştır?**

Malazgirt Savaşı

**b. Hangi savaş sonrasında Avrupalılar Anadolu'ya Türkiye demeye başlamıştır?**

Miryokefalon Savaşı

**c. Aşağıdaki mimari eserlerin hangi beylikler döneminde inşa edildiğini yazınız.**

Divriği Ulu Cami - Mengücekler

Malabadi Köprüsü - Artuklular

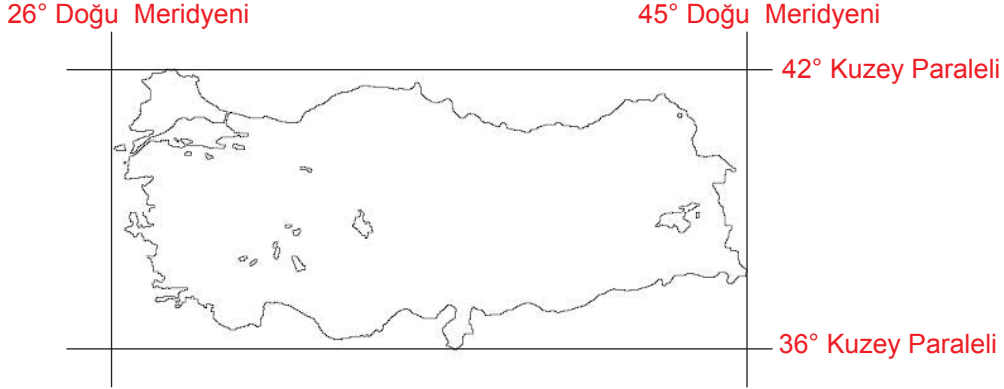
Yağıbasan Medresesi - Danişmentliler





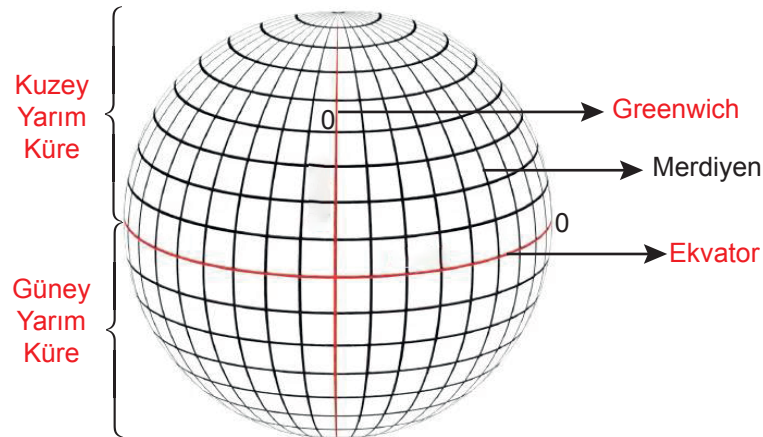
**Kazanım:** SB. 6. 3. 1. Konum ile ilgili kavramları kullanarak kıtaların, okyanusların ve ülkemizin coğrafi konumunu tanımlar

6. Aşağıda verilen haritada, belirtilen yerlere Türkiye'nin mutlak konumuyla ilgili koordinatları yazınız.



**Kazanım:** SB. 6. 3. 1. Konum ile ilgili kavramları kullanarak kıtaların, okyanusların ve ülkemizin coğrafi konumunu tanımlar.

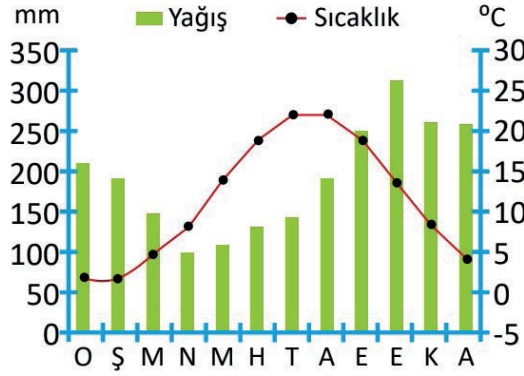
7. Aşağıda boş bırakılan yerleri örnekteki gibi doldurunuz.





**Kazanım:** SB. 6. 3. 2. Türkiye'nin temel fiziki coğrafya özelliklerinden yer şekillerini, iklim özelliklerini ve bitki örtüsünü ilgili haritalar üzerinde inceler.

8.



Aşağıdaki soruları bu grafikteki verilere göre cevaplayınız.

a) Bu iklimin yaşandığı yerde görülen bitki örtüsünün adını yazınız.

Orman

b) Ülkemizde bu iklimin görüldüğü bir şehrin adını yazınız.

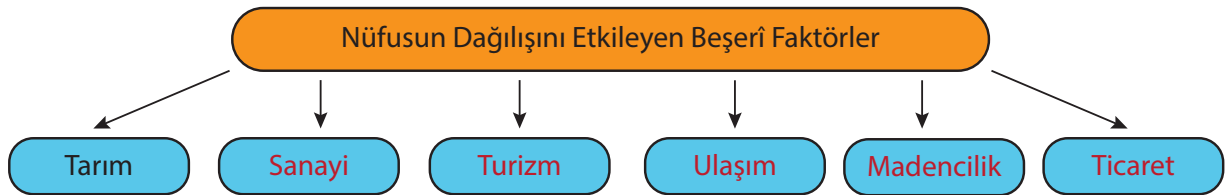
Trabzon

c) Ülkemizde bu iklimin görüldüğü yerlerde yetiştirilen bir tarım ürünü örneği veriniz.

Çay

**Kazanım:** SB. 6. 3. 3. Türkiye'nin temel beşerî coğrafya özelliklerini ilgili haritalar üzerinde gösterir.

9. Nüfusun dağılışını etkileyen beşerî faktörlerin verildiği aşağıdaki diyagramda boş bırakılan yerleri örnekteki gibi doldurunuz.





# Yazılılar Gözünü Korkutmasın

## SÜPER 2'Lİ YANINDA



tonguç

YENİ MÜFREDATA  
TAM UYGUN

YouTube  
YAZILI KAMPİ

1. DÖNEM  
1. ve 2. YAZILI

100

**YAZILI  
DENEMELERİ**

ACIK  
UÇLU

KISA  
CEVAPLI

TAMAMI  
ÇÖZÜMLÜ

5, 6, 7, 8, 9 VE 10. SINIFLAR

+

tonguç

YENİ MÜFREDATA  
TAM UYGUN

1. Dönem

**YAZILI**

100

**NOTLARI**

1. Yazılı + 2. Yazılı

5, 6, 7, 8, 9 VE 10. SINIFLAR

tonguç yazılı kitaplarına ulaşmak için QR kodu okut!

