

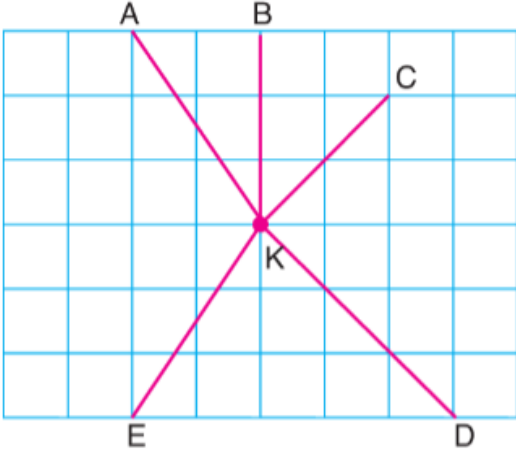
5. Sınıf Matematik Dersi 2. Dönem 2. Yazılı Sınav Soruları

Adı Soyadı:.....

 ibrahimhoca.33

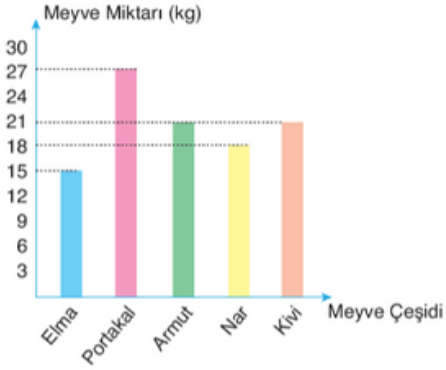
1. 500 lirası olan Aynur, parasının % 35'ini harcıyor. Aynur'un geriye kaç lirası kalır?

2. Aşağıda 5 ayrı doğru parçaları verilmiştir. Bu doğru parçalarından hangisi eşit? Yazınız.



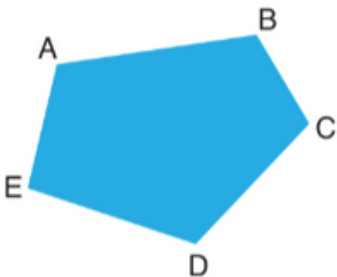
3.

Grafik: Bir Haftada Satılan Meyve Miktarları



Yukarıdaki grafikte bir manavda bir haftada satılan meyve miktarının çeşitlerine göre kg cinsinden değerleri gösterilmiştir.

Bu grafiğe göre satılan elma ve portakal toplam kütlesi, satılan armut ve nardan kaç kg fazladır?



4. Yandaki geometrik şekil üzerinden bir tane açı, bir tane köşegen ve bir tane kenarı sembolleriyle belirtiniz.

Köşegen:

Açı:

Kenar:



5. Yandaki dikdörtgen şeklindeki bahçenin çevresi kaç metredir?

Üçgenler


Açılarına Göre

- Dar açılı
- I
- Geniş açılı

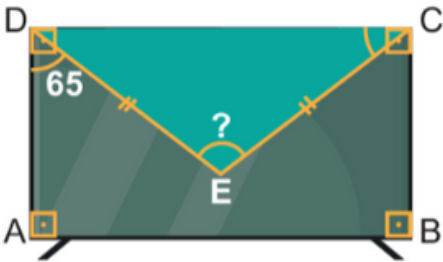
Kenar Uzunluklarına Göre

- II
- Eşkenar üçgen
- Çeşitkenar üçgen

6. Yandaki diyagramda boş bırakılan yerlere gelmesi gereken üçgenleri noktalı kağıda çiziniz.



7. Bir otobüs 75 dakikada bir aynı duraktan geçmektedir. Bu duraktan ilk kez 06.50'de geçen otobüs 5. kez bu duraktan geçtiğinde saat kaç gösterir?



8. Yandaki dikdörtgen şeklindeki televizyon üstüne DEC üçgeni oluşturacak şekilde örtü konulmuştur. ADE açısı 65 derece olduğuna göre DEC açısı kaç derecedir?