

BAŞARILAR ve KOLAYLIKLAR  
DİLERİM....

**BERKAY  
ŞENER**  
MATEMATİK ÖĞRETMENİ



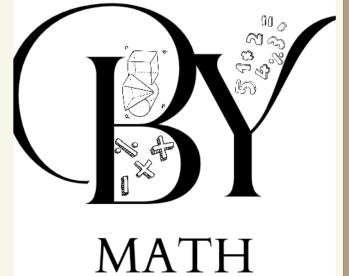
@BERKAYSENER.MATH



BY MATH



berkaysener.edu@gmail.com



İNSTAGRAM VE YOUTUBE  
KANALINA ABONE OLABİLİR  
ONLINE DERS İÇİN DM  
ATABİLİRSİNİZ

# 2024-2025 Eğitim Öğretim Yılı 5. sınıf Matematik Dersi II. Dönem II. Yazılı Sınavı

- 1) Ceren'in test kitabında, her biri  $2^3$  mantık sorularından oluşan  $8^2$  tane test vardır. Ceren her gün çalışma planı doğrultusunda 16 soru çözecektir.  
**Buna göre Ceren bu test kitabındaki soruları kaç günde bitirebilir?**

- 2) Aşağıda dengede duran bir eşit kollu terazi ve beş adet kütle verilmiştir.

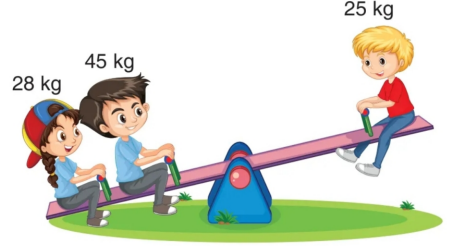


**Bütün kütleleri terazinin dengesini koruyarak nasıl yerleştirebiliriz?**

4)



@berkaysener.math



**Yukarıdaki tahterevallinin dengeye gelebilmesi için hangi tarafa, kaç kilogram kütleli bir çocuğun daha oturması gerekir?**

5)

I.  $0,4 > 0,39$

II.  $12,55 < 12,5$

III.  $0,5 > 0,58$

IV.  $7,68 > 7,6$

**Yukarıda verilen ifadelerden hangileri doğrudur?**

3)

Aşağıda verilen işlemlerin sonuçlarını işlem önceliğine dikkat ederek bulunuz.

? a)  $17 - 2 \times 3 =$

? b)  $3^3 - 4 \times 2 + 9 =$

? c)  $2^1 + (3 - 2) + 5 =$

? ç)  $55 : (2^2 + 1) =$

? d)  $5^2 - 7 =$

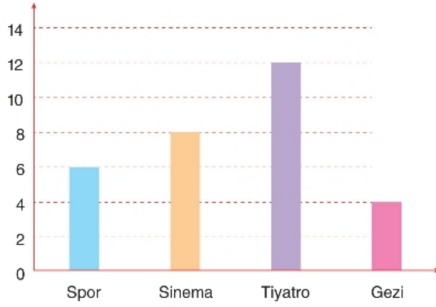
? e)  $10^2 + 3^3 - 7 \times 2 =$

6) Aşağıdaki soruların araştırma sorusu olup olmama durumuna göre kutucukları işaretleyiniz.

Sorular	Araştırma Sorusu Olur	Araştırma Sorusu Olmaz
Kanguruların ana vatanı hangi ülkedir?		
En sevdiğiniz spor hangisidir?		
Uygar'ın en sevdiği film hangisidir?		
İtalya hangi kıtadadır?		
Aylık geliriniz ne kadar?		
Matematik dersini seviyor musunuz?		
Hangi yemekleri seversiniz?		

#### Sütun Grafiği

Bir okuldaki öğretmenler üzerinde yapılan araştırmada aşağıdaki sütun grafiğindeki verilere ulaşılmıştır.



Bu grafiğe göre aşağıdaki soruları cevaplayınız.

a) Araştırma sorusu ne olabilir?

?

b) Bu okulda spor yapmayı seven kaç öğretmen vardır?

?

c) Tiyatroya gitmeyi seven kaç öğretmen vardır?

?

ç) Sinemaya gitmeyi seven kaç öğretmen vardır?

?

d) Sizce bu araştırmayı yapan kişinin amacı ne olabilir?

?