


Adı :	<b>Yazılı Havuzu</b>  5. Sınıf Fen Bilimleri Dersi I. Dönem I. Yazılı Soruları	TARİH:
Soyadı :		PUAN:
Sınıf :		
No :		

**SORU 1: Ay'ın hareketlerini yazınız.**

SORU 2: *Astronomi bilimine en büyük katkıları verenlerden biri Galileo'dur. 1700'lü yıllarda kendi geliştirdiği teleskop ile gökyüzündeki Güneş ve gezegenleri gözlemledi. Galileo Güneş'in yüzeyindeki soğuk bölge adı verilen lekelerin varlığını yaptığı çalışmalar ile kanıtladı. Galileo, gün içerisinde teleskobu ile yaptığı gözlemlerde Güneş'teki lekelerin batıdan doğuya doğru yer değiştirdiğini fark eder.*

**Yukarıdaki metinden hangi bilgiye ulaşılabilir?**



**SORU 3: Ay'ın Genel Özelliklerinden 4 tanesini yazınız.**

**SORU 4: Ay ve güneş hakkındaki soruları cevaplayınız.**

Güneş'in geometrik şekli neye benzer.

Ay yüzeyine çarpan gök taşlarının oluşturduğu çukurların adı nedir?

Güneş'in katmanları nelerdir?

Ay'ın yüzeyinin Dünya'da "D" harfi şeklinde görüldüğü evre ne olarak adlandırılır.

Güneş'in kendi etrafında dönüş yönünü yazınız.

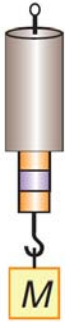
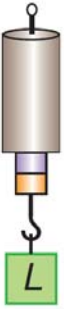
**SORU 5: Ay'ın, dört ana evresi vardır. Bu evreleri yazınız.**

SORU 6:



Yukarıda Ay'ın evrelerine ait görseller sembollerle verilmiştir. Bu sembollerin dolunay evresinden başlayarak sıralanışını altlarındaki sembollerle gösteriniz.

SORU 7:



K, L, M ve N cisimleri özdeş dinamometrelere asıldığında şekildeki değerler gözlemlenmektedir. Buna göre K, L, M ve N cisimlerinin dinamometrelere uyguladığı kuvvetler arasındaki büyüklük ilişkisini yazınız.

BAŞARILAR...



Çözüm için okut

Çözümler için Tıkla;  
Yazılı Havuzu