



T.C.
MILLÎ EĞİTİM BAKANLIĞI
ÖLÇME, DEĞERLENDİRME VE
SINAV HİZMETLERİ GENEL MÜDÜRLÜĞÜ

AÇIK ÖĞRETİM ORTAOKULU
2023 - 2024 ÖĞRETİM YILI
2. DÖNEM SINAVI

0

16 MART 2024 Saat: 14.00

2.
OTURUM

DERSLER	SAYFA	DERSLER	SAYFA
(553) SOSYAL BİLGİLER – 5	2	(733) SOSYAL BİLGİLER – 7	12
(554) İNGİLİZCE – 5	3	(735) İNGİLİZCE – 7	13
(554) ALMANCA – 5	4	(735) ALMANCA – 7	14
(554) FRANSIZCA – 5	5	(735) FRANSIZCA – 7	15
(555) DİN KÜL. VE AHLAK BİLGİSİ – 5	7	(736) DİN KÜL. VE AHLAK BİLGİSİ – 7	17
(630) TÜRKÇE – 6	8	(830) TÜRKÇE – 8	18
(631) MATEMATİK – 6	9	(831) MATEMATİK – 8	20
(632) FEN BİLİMLERİ – 6	11	(832) FEN BİLİMLERİ – 8	22

ADAYLARIN DİKKATİNE!

- Her ders için 11 soru bulunmaktadır. Bu oturumda **100** dakikalık cevaplama süreniz vardır. Sınavın ilk **30** dakikası tamamlanmadan ve sınav bitimine **15** dakika kala salon dışına çıkmayınız.
- Kullanımı doktor raporu ile belirlenen hasta veya engellilere ait cihazlar ve ilaçlar, anahtarlıksız basit anahtar, ulaşım kartları, para, alyans, şeffaf pet şişe içerisinde bandajı çıkarılmış su ve şeffaf numaralı gözlük hariç; her türlü kesici ve delici alet, ateşli silah, çanta, cüzdan, cep telefonu, her türlü saat, anahtarlık, elektronik anahtar, kablosuz iletişim sağlayan cihaz, kulaklık, kolye, küpe, bilezik, yüzük, broş ve diğer takılar, her türlü plastik, metal ve cam eşya, banka kredi kartları, her türlü elektronik ve mekanik cihaz, her türlü müsvedde kâğıt, defter, ders notu, kitap, sözlük, dergi, gazete ve benzeri yayınlar, cetvel, pergel, açıölçer ve benzeri araçlar, yiyecek, içecek ve diğer tüketim maddeleri yanınızda bulundurmuyunuz. Bu araçları/maddeleri yanınızda bulundurmanız ve kopya çekmeye teşebbüs etmeniz hâlinde sınavınız geçersiz sayılacaktır.
- Başvuru şartlarını taşımadığınız hâlde sınava girmeniz, kopya çekmeniz, başka adayın sınav evrakını kullanmanız ve geçerli kimlik belgenizi ibraz edemediğiniz durumlarda sınavınız geçersiz sayılacaktır.
- Sınavın değerlendirilmesi aşamasında, bilgisayar ortamında yapılan kopya analizinde sistemin ikili ve/veya toplu kopya tespiti hâlinde sınavınız geçersiz sayılacaktır.
- Adaylar, sınav kurallarına ve salon görevlilerinin tüm uyarılarına uymak zorundadır. Kurallara ve uyarılara uymayan adayların sınavları geçersiz sayılacaktır.**
- Sınav başladıktan sonra adayların salon görevlileri ve birbirleri ile konuşmaları; kalem, silgi vb. şeyleri istemeleri yasaktır.
- Adaylar sınav süresince, sınav giriş belgesi ile geçerli kimlik belgelerinden birini masalarının üzerinde bulundurmamak zorundadır.
- Sınav evraklarını teslim etmeyen, soru kitapçıklarının sayfalarından bir kısmını eksik teslim edenlerin sınavları geçersiz sayılacaktır.**
- Sınav başlamadan önce kitapçığın arkasındaki açıklamaları okuyunuz.

BAŞLAYINIZ DENMEDEN SORU KİTAPÇIKLARINI AÇMAYINIZ.



2. OTURUM

(553) SOSYAL BİLGİLER – 5

1. Suzan Hanım, mağazadan yeni bir televizyon almıştır. Eve geldiğinde televizyonun ekranının kırık olduğunu fark etmiştir.

Bu durumda, Suzan Hanım'ın etkin bir vatandaş olarak aşağıdaki davranışlardan hangisini göstermesi beklenmez?

- A) Mağazanın müşteri hizmetlerinden yardım alması
- B) Ürünü geri dönüşüme göndererek ekonomiye kazandırması
- C) Ürün değişimi için mağazadan talepte bulunması
- D) Ürünün iadesi için Tüketici Hakem Heyetine başvurması

2. Ahmet, her sabah uyandığında yatağını ve odasını toplar. Elini yüzünü yıkar ve kahvaltı hazırlanırken ailesine yardım eder. Kahvaltıdan sonra dışlerini fırçalar, okul kıyafetlerini giyer. Günlük ders programına göre akşamdan hazırladığı çantasını alarak okula gider. Okulda derslerine zamanında girer ve ödevlerini zamanında yapar.

Buna göre, Ahmet'in hangi kişisel özelliğinin gelişmiş olduğu söylenebilir?

- A) Düşüncelerini rahatlıkla ifade edebilme
- B) Gerekli durumlarda haklarını savunabilme
- C) Farklılıklara karşı hoşgörü gösterme
- D) Sorumluluk bilincine sahip olma

3. Tarih devirlerinin aşağıdakilerden hangisi ile başladığı kabul edilmektedir?

- A) Pusulanın icadı
- B) Yazının bulunması
- C) Madenlerin işlenmesi
- D) Krallıkların kurulması

4. Gaziantep, Kahramanmaraş gibi illerde meslek olarak hâlen devam etmektedir. Ürünler üzerine motifler, çekiç darbeleriyle resim çizer gibi işlenir.

Bu bilgiler, aşağıdaki mesleklerden hangisine aittir?

- A) Bakırcılık
- B) Hattatlık
- C) Saraçlık
- D) Çinicilik

5. Bir yerde uzun yıllar boyunca gözlemlenen hava olaylarına "iklim" denir.

Buna göre, aşağıdaki ifadelerden hangisi iklime örnektir?

- A) Antalya'da rüzgârlı bir hafta sonu yaşandı.
- B) Edirne'de iki gündür sağanak yağmur yağıyor.
- C) Erzurum'da kışlar soğuk ve kar yağışlı geçer.
- D) Samsun'da bugün hava sıcaklığı çok yüksekti.

6. Türkiye'de yalnızca Karadeniz Bölgesi'nde yetiştirilen tarım ürünü aşağıdakilerden hangisidir?

- A) Mısır
- B) Üzüm
- C) Buğday
- D) Çay

7. Aşağıdakilerden hangisi sanal ortamda doğru ve güvenilir bilgiye ulaşmak için yapılması gerekenlerdendir?

- A) Sosyal medyada çok beğeni alan hesaplardan yararlanılması
- B) Genel ağdaki bilgilerin güncelliğinin göz ardı edilmesi
- C) Resmî sitelerin dışındaki içeriklerin dikkate alınması
- D) Birden fazla siteden elde edilen bilgilerin karşılaştırılması

2. OTURUM

8. “Evlerde önceden aile bireyleri arasında hoş sohbetler yapılırdı. Günümüzde ise tablet, akıllı telefon ve televizyona çok fazla odaklanmamız, aile içi iletişimi olumsuz yönde etkiledi.” **diyen bir kişi, teknolojinin aşağıdakilerden hangisi üzerindeki olumsuz etkisinden söz etmiştir?**

A) Meslek seçimi
B) İnsan ilişkileri
C) Okul başarısı
D) Bilimsel gelişmeler

9. “Hasan Bey’in emekli olduktan sonra köyüne dönerek ceviz bahçesi kurması ve ürün elde etmesi” **aşağıdaki ekonomik faaliyetlerden hangisine örnektir?**

A) Tarım
B) Sanayi
C) Ormancılık
D) Hayvancılık

10. **Aşağıdakilerden hangisi “Çevre, Şehircilik ve İklim Değişikliği Bakanlığı”nın görevlerinden değildir?**

A) Çevre kirliliğinin önlenmesine yönelik politikalar belirlemek
B) Yenilenebilir enerji kaynaklarının kullanımını teşvik etmek
C) Sınırların, kıyıların ve kara sularının emniyetini sağlamak
D) Hava kalitesinin korunması için çalışmalar yapmak

11. **Ürünlerin ülkeler arasında kısa sürede ve güvenli bir şekilde taşınmasında aşağıdakilerden hangisi etkilidir?**

A) Ülkeler arası göçlerin yaşanması
B) Turizm faaliyetlerinin çeşitlenmesi
C) Ulaşım araçlarının gelişmesi
D) Kültürler arasındaki farklılıkların azalması

(554) İNGİLİZCE – 5

1-6. sorularda boş bırakılan yere/yerlere uygun gelen kelime ya da ifadeyi işaretleyiniz.

1. **My favourite class is Science because I like**
----.

A) playing soccer
B) speaking English
C) doing experiments
D) jumping high

2. **Carlos** : When do you celebrate the Youth's Day?

Kağan : It is ----.

A) very exciting
B) on May 19
C) at the school garden
D) a national festival

3. **Simon** : Can you play chess?

Mark : Yes and I ----.

A) am good at it
B) don't enjoy it
C) think it is boring
D) don't play it

4. **Amy** : I have a headache. I need some pills.
Dorris : First, you should see the doctor. Then, you can ----.

A) wash your hands
B) use dental floss
C) buy some tissue
D) take medicine

2. OTURUM

5. **Ashley** : I must go shopping for my birthday party. Can you help me?
Kevin : - - - -. I can meet you in front of the market. See you there.

- A) I am sorry
 B) Sure
 C) That sounds bad
 D) You're welcome

6. **Ben** : Mum, can we - - - -?
Mum : That is a good idea. Let's buy some food for them.
- A) milk the cow
 B) collect the eggs
 C) water the garden
 D) feed the street animals

7-8. sorularda boş bırakılan yere/yerlere görsele göre uygun gelen kelime ya da ifadeyi işaretleyiniz.

7.



He does his homework at - - - -.

- A) quarter past seven
 B) seven o'clock
 C) half past seven
 D) quarter to seven

8.



The students are - - - - the board.

- A) in front of
 B) between
 C) under
 D) above

9. "Dolmabahçe Palace is one hundred and sixty seven years old." cümlesinde altı çizili sayının rakamla yazılışı aşağıdakilerden hangisidir?

- A) 177
 B) 176
 C) 167
 D) 166

10. Jack likes watching movies. Animations are his favourite. He is also interested in science-fictions. He thinks that documentaries are boring.

Bu parçaya göre aşağıdakilerden hangisi söylenemez?

- A) Jack enjoys documentaries.
 B) Jack likes watching science-fictions.
 C) Jack loves animations.
 D) Jack thinks watching movies is enjoyable.

11.

Let's have fun at my party. It's on 15th December at 12 o'clock at Sports Club.
 Alice

Bu davetiyede partiyle ilgili aşağıdaki sorulardan hangisinin cevabı yoktur?

- A) When is the party?
 B) Where is the party?
 C) What time is the party?
 D) What kind of a party is it?

(554) ALMANCA – 5

1-10. sorularda boş bırakılan yere/yerlere uygun gelen kelime ya da ifadeyi işaretleyiniz.

1. **A:** - - - - ist sie?

B: Sie ist Cansu.

- A) Wo
 B) Wer
 C) Woher
 D) Wie

2. **Meine Mutter will Deutsch lernen, - - - - sie hat viele deutsche Freunde.**

- A) denn
 B) weil
 C) dann
 D) ob

2. OTURUM

3. A: - - - - ihr Fanzösisch?

B: Ja, wir sprechen Fransözsisch.

- A) Sprichst B) Sprechen
C) Sprecht D) Spreche

4. A: Wohin will Zeynep fahren?

B: Sie will - - - - Trabzon fahren.

- A) in B) aus
C) nach D) zum

5. Wie sieht deine Stadt aus, kannst du sie mir
- - - -?

- A) gesehen B) besichtigt
C) bedeutet D) beschreiben

6. Ankara hat fast sechs Millionen - - - -.
(Nüfus)

- A) Einwohner
B) Stadt
C) Metropole
D) Sehenswürdigkeit

7. Klaus ist traurig. Er hat die Klassenarbeit - - - -
bestanden.

- A) sein B) nicht
C) ist D) nichts

8. Yusuf will uns viel über seine Stadt - - - -.

- A) beschreibt B) sagst
C) erzählen D) einkaufen

9. Karin : Wie hat dir der Film - - - -?

Hatice : Sehr gut! Und - - - -?

Karin : Mir auch.

- A) gefällt / mir B) gefalle / ihr
C) gefälltst / sie D) gefallen / dir

10. Die Schüler, - - - - Ferien haben, - - - - in den
Urlaub fahren.

- A) der / will B) das / wollt
C) den / haben D) die / wollen

11. Welches ist kein Adjektiv?

- A) anstrengend B) fernsehen
C) lustig D) kurz

(554) FRANSIZCA – 5

1 - 7. sorularda boş bırakılan yere/yerlere uygun
gelen kelime ya da ifadeyi işaretleyiniz.

1. Jean : Qui 'est-ce ?

Léa : C'est Marie, elle - - - - étudiante.

- A) est B) es
C) as D) ai

2.



Les enfants jouent - - - -.

- A) aux échecs
B) au cache-cache
C) au colin-maillard
D) au ballon prisonnier

3. Mon frère est - - - -, ma sœur est - - - -.

- A) beau / courageuse
B) courageux / beau
C) beaux / belle
D) belles / courageux

2. OTURUM

4. Aujourd'hui, c'est Mardi 15 Novembre. C'est l'anniversaire de Claire. Mon anniversaire est dans cinq jours, - - - -.

- A) Vendredi, neuf Novembre
- B) Lundi, dix Décembre
- C) Mardi, trente Août
- D) Dimanche, vingt Novembre

5.



Je veux faire - - - -.

- A) de la natation
- B) du vélo
- C) de l'escalade
- D) de l'équitation

6. 23 Avril, c'est la fête - - - -.

- A) des enfants
- B) de la République turque
- C) de la victoire
- D) de la jeunesse et de sports

7. Can : Vous dînez à quelle heure en famille ?

Jean : Eh bien, on dîne vers - - - -.

- A) minuit
- B) 8 heures du matin
- C) midi
- D) 7 heures du soir

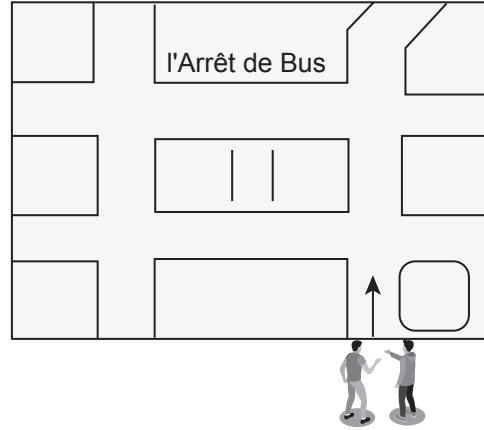
8.



Bu görsele göre, aşağıdakilerden hangisi doğrudur?

- A) Elle a froid.
- B) Elle a chaud.
- C) Elle a mal aux dents.
- D) Elle a mal au ventre.

9.



Bu krokiye göre, karşılıklı konuşmada istenilen yere ulaştıracak yol tarifi aşağıdakilerden hangisidir?

Olivier : Pardon monsieur, c'est où l'arrêt de bus ?

Paul : Allez tout droit, prenez - - - -.

- A) la première rue à droite, c'est à droite
- B) la deuxième rue à gauche, c'est à droite
- C) la deuxième rue à droite, c'est à droite
- D) la première rue à gauche, c'est à gauche

10.

Lundi	Ela	Serra	Rana
8h 30	Turc	Science	Maths.
9h 20	Turc	Science	Maths.
10h 10	Science	Turc	Art
11h 00	Science	Turc	Musique
11h 40 - 12h 40 La Pause de Midi			
12h 40	Art	Musique	Français
13h 30	Musique	Art	Français

Bu tabloya göre, aşağıdakilerden hangisi doğrudur?

- A) Dans l'après-midi, Ela n'a pas de cours.
- B) Le matin Serra a deux heures d'Art.
- C) La pause de midi commence à onze heures.
- D) Rana a deux heures de Maths.

2. OTURUM

11.



Bu görsele göre, aşağıdakilerden hangisi doğrudur?

- A) J'ai un chat et je n'ai pas un chien.
- B) J'ai deux poissons et deux chat.
- C) J'ai deux chats mais je n'ai pas de poisson.
- D) J'ai deux poissons mais je n'ai pas de chat.

(555) DİN KÜL. VE AHLAK BİLGİSİ – 5

1. Aşağıdaki ayetlerin hangisi “dua” ile ilgilidir?

- A) “Eğer yerde ve gökte Allah’tan başka ilahlar olsaydı kesinlikle yerin ve göğün düzeni bozulurdu...”
(Enbiya suresi, 22. ayet)
- B) “... Allah karada ve denizde ne varsa bilir; O’nun bilgisi dışında bir yaprak bile düşmez ...”
(Enam suresi, 59. ayet)
- C) “... Heva ve hevese uyma, yoksa bu, seni Allah yolundan saptırır...”
(Sad suresi, 26. ayet)
- D) “El açıp yalvarmaya layık olan ancak Allah’tır...”
(Rad suresi, 14. ayet)

2. • Oruç tutmak için gece yenilen yemektir.
• Özellikle ramazan ayında minareler arasına asılan ışıklı yazılardır.
• Kur’an-ı Kerim okuyan birisini Mushaf’tan takip etmektir.

Bu tanımlarda aşağıdaki kavramlardan hangisine yer verilmemiştir?

- A) Mahya
- B) Mukabele
- C) Teravîh
- D) Sahur

3. • ---- çöpü çöp kutusuna atmak
• ---- hamile kadınlara yer vermek
• ---- helal ve temiz yiyecek yemek

Bu ifadelerde boş bırakılan yerlerden herhangi birine aşağıdakilerden hangisi getirilemez?

- A) Sokakta
- B) Sosyal medyada
- C) Toplu taşımada
- D) Sofrada

4. Aşağıdaki atasözlerinden hangisi “konuşma adabı” ile ilgilidir?

- A) İşleyen demir pas tutmaz.
- B) Sakla samanı, gelir zamanı.
- C) Taşıma su ile değirmen dönmez.
- D) Sözünü bil, pişir; ağzını der, devşir.

5. Hz. Ali, Hz. Muhammed’e (sav) kızı Hz. Fatıma ile evlenmek istediğini söylemişti. O da önce kızının fikrini almış ve razı olduğunu anlayınca bu evliliğe onay vermişti.

Buna göre, Hz. Muhammed (sav) ile ilgili aşağıdakilerden hangisine ulaşamaz?

- A) Çocuklarına eşit davrandığına
- B) Aile bireyleriyle ilgilendiğine
- C) İnsanların haklarını gözettiğine
- D) İstişareye önem verdiğine

6. “Allah’ım, bu ikisine merhamet et! Ben de onlara merhamet ediyorum.”

Bu hadiste Hz. Muhammed’in (sav) bahsettiği yakınları aşağıdakilerden hangisidir?

- A) Hz. Hatice - Hz. Aişe
- B) Hz. Hasan - Hz. Hüseyin
- C) Hz. Fatma - Hz. Ali
- D) Hz. Zeynep - Hz. Rukiye

7. “Tekbir” kavramı aşağıdakilerden hangisi ile ifade edilir?

- A) Allahüekber
- B) Hayye alessalah
- C) Hayye alelfelah
- D) Lâ ilâhe illallah

2. OTURUM

8. Aşağıdakilerden hangisi caminin dış kısmında yer almaktadır?

- A) Kürsü B) Minber
C) Minare D) Mihrap

9. "Allah yeryüzündeki her şeyi sizin için yaratmıştır. Sonra göğe yönelmiş ve onu yedi kat olarak düzenlemiştir. O, her şeyi hakkıyla bilmektedir."
(Bakara suresi, 29. ayet)

Bu ayette Allah ile ilgili aşağıdakilerden hangisine değinilmemiştir?

- A) Evrende olup bitenden haberdar olduğuna
B) Yaratmasında bir ahenk bulunduğuna
C) İnsana birçok nimet sunduğuna
D) İnsana özgür irade verdiğine

10. "Bir kimse oruçlu olduğunu unutarak yer veya içerse orucunu devam ettirsin, sakın bozmasın. Çünkü onu, Allah yedirip içirmiştir."

Bu hadisten aşağıdakilerden hangisine ulaşılabilir?

- A) Orucun insanı kötülüklerden koruduğuna
B) Oruç tutan insanların cömert olduğuna
C) Orucunu unutanlara kolaylık sağlandığına
D) Tutulamayan oruçların kazasının gerektiğine

11. I. İsrailoğullarına peygamber olarak gönderilmiştir.
II. Kardeşleri tarafından kuyuya atılmıştır.
III. Calut'un ordusuna karşı zafer kazanmıştır.
IV. Kendisine Tevrat vahyolunmuştur.

Numaralanmış bilgilerden hangileri Hz. Davud ile ilgilidir?

- A) I ve II B) I ve III
C) II ve IV D) III ve IV

(630) TÜRKÇE – 6

1. "Açmak" sözcüğü aşağıdaki cümlelerin hangisinde "yakışmak, güzel göstermek" anlamında kullanılmıştır?

- A) Film, konusu ilgimi çekmediği için beni açmadı.
B) Çocukları açmak için türlü espriler yapıyordu.
C) Bu perdeler oturma odasını hayli açtı.
D) Taşlarla kapanmış sulama kanalını açmaya çalıştık.

2. Aşağıdaki cümlelerin hangisinde öznel bir anlatım vardır?

- A) 12 Ekim saat 10.30'da İzmir yolculuğu başladı.
B) Sisli havadan dolayı görüş mesafesi kısalmıştı.
C) Bayburt'tan akrabalarımın bir kısmı gelmiş.
D) Duyduğum güzel sözler bir anda içimi ısıttı.

3. Düşüğü açmazdan nasıl çıkacağına kafa yormak, onu oldukça bunaltmış.

Bu cümledeki altı çizili deyimın anlamı aşağıdakilerden hangisidir?

- A) Bir şey üzerinde çok düşünmek
B) Yapmaya karar verip zamanını beklemek
C) Aşırı özveride bulunmak
D) Boyun eğmeyip karşı gelmek

4. 1. Sonra Montaigne ile konuşmaya başladım.
2. Özellikle geceleri sohbet edecek birini aradığımda "Denemeler"i açarım.
3. Montaigne'in "Denemeler"i sık sık okuduğum kitaplardandır.
4. Çünkü onda, kendinden söz ederken bizden söz eden, bizi dinlemeye hazırlanan bir hâl vardır.

Numaralanmış cümlelerle anlamlı bir paragraf oluşturulmak istenirse sıralama aşağıdakilerden hangisi olur?

- A) 2-4-3-1 B) 2-4-1-3
C) 3-2-1-4 D) 3-1-2-4

2. OTURUM

5. Hayran oluyordu koca gökyüzü,
Göğüslerimizde büyüyen bahta,
28 Mart günü bir adsız tepede,
Çeliğe karşı tahta.
Altı çizili dizedeki söz sanatı aşağıdakilerden hangisidir?
- A) Benzetme
B) Kişileştirme
C) Karşıtlık
D) Konuşturma
6. Girit, Afrika'nın kapısı ama İda Dağı güneyle
kuzeyi ayırıyor. Afrika'yı seyreden güneydeki dar
kıyı, sıcak ve verimsiz. Kuzeydeki kıyı ise dağlara
kadar binbir çeşit bitki, meyve ve otları kaplı; zey-
tinliklerden geçip çam ağaçlarına ulaşıyorsunuz.
Ada güzel, iklimi hoş ama Giritliler sert insanlar.
**Bu parça aşağıdaki metin türlerinden hangisi-
ne örnektir?**
- A) Tiyatro
B) Masal
C) Mektup
D) Gezi yazısı
7. Aşağıdaki cümlelerin hangisinde yazım yanlışı
vardır?
- A) İnsanlar bağzen Yahya Kemal'in yanına gelir,
ona akıl danışır.
B) Müsabakadan sonra sporcularla röportaj yap-
tım.
C) Babam yeni bir tıraş makinesi almaya karar
vermiş.
D) Masanın üstündeki kavanozu sıkıca kapatma-
lısın.
8. Oturduğu yerden ayağa kalktı () Öğrencilerine ()
() Okumak, karanlığa tutulmuş bir fenerdir ()
dedi.
**Bu parçada yay ayrıla gösterilen yerlere sıra-
sıyla aşağıdaki noktalama işaretlerinden han-
gisi getirilmelidir?**
- A) (,) (,) (–) (;)
B) (.) (:) (") (")
C) (:) (:) (–) (.)
D) (.) (,) (–) (.)

9. Aşağıdakilerin hangisinde cümleye "eşitlik" an-
lamı katan bir edat kullanılmıştır?

- A) Bu araçta da diğerindeki kadar hasar var.
B) Yalnız senin gezdiğin bahçede açmaz çiçek.
C) Toplantıya katılmak için mi erken gelmiş?
D) Güneşe karşı oturmuş, konuşuyorduk.

10. • Çalışkan insanları herkes sever ve takdir eder.

1

- Bütün öğrenciler konferans salonuna geçmeye

2

başladı.

- Sabahın altısında inşaattan gelen makine

3

sesleri hepimizi rahatsız etti.

- Ulu Önder 16 Mayıs'ta Samsun'a doğru yola

4

çıktı.

**Bu cümlelerdeki altı çizili sözlerden hangisi sı-
fat tamlaması değildir?**

- A) 1 B) 2 C) 3 D) 4

11. "O" sözcüğü aşağıdaki cümlelerin hangisinde
kişi zamiri görevinde kullanılmıştır?

- A) O, mutlu olduğu için kuyruğunu sallayarak sa-
hibine koştu.
B) Yaşadığı ilginç olayları vakit kaybetmeden ona
anlatırdı.
C) O insanlardan uzak durman gerektiğini öğren-
melisin.
D) Onların hepsini bulaşık makinesine dizmeye
başladı.

(631) MATEMATİK – 6

1. Bir otobüste 38 yolcu vardır. Bu otobüsten 4 erkek
yolcu indiğinde erkek ve kadın yolcu sayıları eşit
oluyor.

**Buna göre, bu otobüsteki kadın yolcu sayısı
kaçtır?**

- A) 17 B) 18 C) 20 D) 21

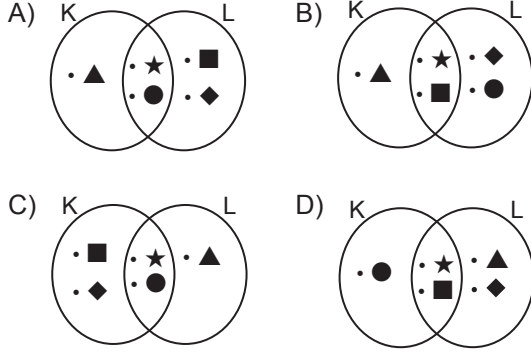
2. OTURUM

2. Aşağıdakilerden hangisi 6 ile tam bölünür?

- A) 1028 B) 1292
C) 2586 D) 3574

3. $K = \{\star, \blacktriangle, \bullet\}$ ve $L = \{\blacksquare, \star, \blacklozenge, \bullet\}$ kümeleri veriliyor.

Buna göre, K ve L kümelerinin Venn şeması ile gösterimi aşağıdakilerden hangisidir?



4. Aşağıdakilerden hangisi $\frac{15}{7}$ kesrinden büyük, $\frac{27}{7}$ kesrinden küçüktür?

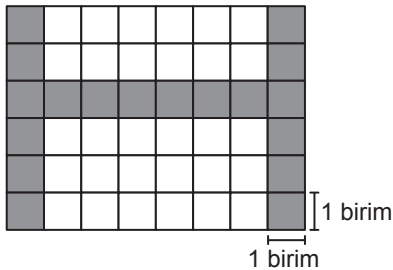
- A) 1 B) 2 C) 3 D) 4

5. Çevre uzunluğu 207,5 metre olan bir bahçenin etrafına 3 sıra tel örgü çekilecektir.

Buna göre, bu iş için en az kaç metre tel örgü kullanılmalıdır?

- A) 601,5 B) 610,5
C) 621,5 D) 622,5

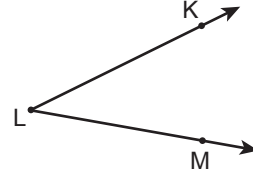
6. Aşağıdaki şekil 48 birimkareden oluşmuştur.



Buna göre, boyalı birimkarelerin sayısının, tüm birimkarelerin sayısına oranı aşağıdakilerden hangisidir?

- A) $\frac{3}{8}$ B) $\frac{2}{5}$ C) $\frac{3}{5}$ D) $\frac{5}{8}$

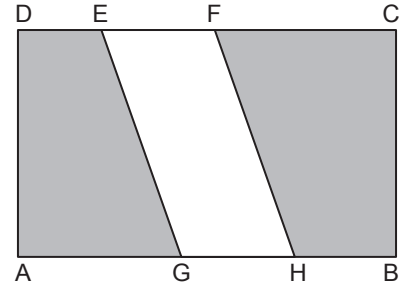
7.



Aşağıdakilerden hangisi şekildeki açının sembolle gösterimlerinden biri değildir?

- A) \widehat{MLK} B) \widehat{MKL} C) \widehat{L} D) \widehat{KLM}

8.



Şekilde ABCD dikdörtgen ve EFHG paralelkenar, $|GH| = 3$ cm, $|BC| = 6$ cm, $|DC| = 10$ cm'dir.

Buna göre, şekildeki boyalı bölgelerin alanları toplamı kaç santimetrekaredir?

- A) 24 B) 30 C) 36 D) 42

9. Aşağıdaki sıvı miktarlarından hangisi diğerlerinden daha fazladır?

- A) 200 cL B) 600 dL
C) 30 L D) 4000 mL

10. Taban ayrıtı 6 cm ve yüksekliği 12 cm olan kare prizma biçimindeki kutunun içine bir ayrıtı 3 cm olan küplerden en fazla kaç tane yerleştirilir?

- A) 8 B) 16 C) 24 D) 48

11. Aşağıdakilerden hangisi iki veri grubunu karşılaştırmaya yönelik bir sorudur?

- A) Sevgi'nin en sevdiği ders hangisidir?
B) Okulumuzdaki öğrencilerin en sevdiği etkinlik hangisidir?
C) 6-A sınıfındaki öğrencilerin en sevdiği ders hangisidir?
D) Okulumuzdaki kız ve erkek öğrencilerin en sevdiği müzik türü hangisidir?

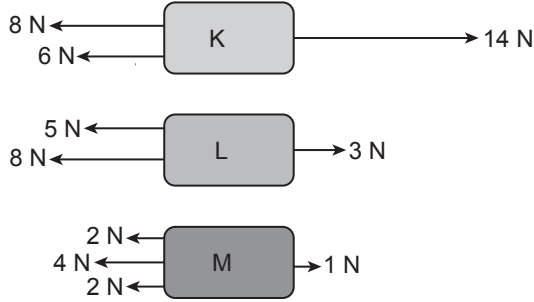
2. OTURUM

(632) FEN BİLİMLERİ – 6

1. Güneş sisteminde bulunan Uranüs gezegeni ile ilgili aşağıdakilerden hangisi yanlıştır?

- A) Güneş sistemindeki en büyük 3. gezegendir.
- B) Güneş'e uzaklığına göre 4. gezegendir.
- C) Uydusu ve halkası vardır.
- D) Zehirli gazlardan oluşan bir atmosferi vardır.

2. K, L ve M cisimlerine yatay doğrultuda etki eden kuvvetler şekilde verilmiştir.



Buna göre, bu cisimlerden hangileri dengelenmemiş kuvvet etkisindedir?

- A) Yalnız K
- B) Yalnız L
- C) K ve M
- D) L ve M

3. Güneş'te çok şiddetli patlamalar meydana gelmesine rağmen bu sesler Dünya'dan duyulmaz.

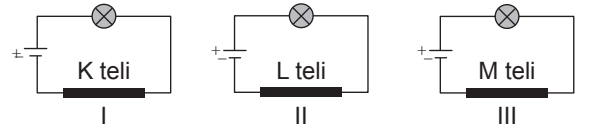
Bu durumun nedeni sesin aşağıdaki özelliklerinden hangisiyle açıklanabilir?

- A) Maddesel ortamda yayılabilmesi
- B) Titreşimler sonucu oluşması
- C) Işıktan yavaş olması
- D) Enerji olması

4. Ay tutulması ile ilgili aşağıdakilerden hangisi doğrudur?

- A) Her ay gerçekleşir.
- B) Ay, ilk dördün evresindedir.
- C) Dünya'nın gölgesi Ay'ın üzerine düşer.
- D) Ay, Güneş ile Dünya arasındadır.

5. Dirençleri birbirinden farklı K, L ve M telleriyle, özdeş pil ve ampuller kullanılarak hazırlanan devreler şekilde numaralanarak verilmiştir.



1. devredeki ampulün parlaklığı en az, 2. devredeki ampulün parlaklığı en fazladır.

Buna göre, bu devrelerdeki K, L ve M tellerinin dirençleri arasındaki büyüklük ilişkisi aşağıdakilerden hangisinde doğru verilmiştir?

- A) $L > K > M$
- B) $L > M > K$
- C) $K > L > M$
- D) $K > M > L$

6. Bir taş parçasının kütlesi 50 gram, hacmi 25 cm^3 olarak ölçülmüştür.

Buna göre, bu taş parçasının yoğunluğu kaç g/cm^3 tür?

- A) 5
- B) 4
- C) 3
- D) 2

7. Gaz hâlden sıvı hâle geçen bir madde ile ilgili aşağıdakilerden hangisi doğrudur?

- A) Madde tanecikleri arasındaki boşluk azalır.
- B) Madde taneciklerinin hareket enerjisi artar.
- C) Madde taneciklerinin hızı artar.
- D) Madde tanecikleri sadece titreşim hareketi yapar.

2. OTURUM

8. Aşağıdakilerden hangisi oda sıcaklığında katı yakıtlara örnektir?

- A) Benzin B) Linyit
C) Mazot D) Gaz yağı

9. Kas çeşitleri ile ilgili aşağıdakilerden hangisi yanlıştır?

- A) Çizgili kaslar isteğimizle çalışır.
B) Düz kaslar; mide, bağırsak ve kan damarlarında bulunur.
C) Kalp kası isteğimizle çalışır.
D) Çizgili kaslar kol ve bacaklarda bulunur.

10. Yakının iyi görülüp uzağın iyi görülemediği göz kusuru aşağıdakilerden hangisidir?

- A) Şaşılık B) Miyop
C) Hipermetrop D) Astigmat

11. Pankreas tarafından salgılanan ve kan şekerini düzenleyen hormonlar, aşağıdakilerin hangisinde birlikte doğru verilmiştir?

- A) İnsülin - glukagon
B) Tiroksin - glukagon
C) İnsülin - adrenalin
D) Adrenalin - glukagon

3. Osmanlı Devleti'nde, konargöçer yaşayan halk hayvancılıkla, köylüler ise daha çok tarımla uğraşırdı. Nüfusun az bir kısmı şehirlerde yaşar; zanaatkârlık, esnaflık ve tüccarlık yapardı.

Bu bilgide, Osmanlı toplumunun hangi alandaki özelliklerinden söz edilmiştir?

- A) Siyasi B) Dinî
C) Ekonomik D) Askerî

4. Aşağıdakilerden hangisi Orta Çağ'ı bitiren, Yeni Çağ'ı başlatan olay olarak kabul edilmektedir?

- A) İstanbul'un Fethi
B) Malazgirt Savaşı
C) Fransız İhtilali
D) Coğrafi Keşifler

5. Aşağıdakilerden hangisi Türkiye'de nüfusun seyrek olduğu yerlerdendir?

- A) Ekonomik faaliyetlerin geliştiği şehirler
B) Karasal iklimin görüldüğü dağlık alanlar
C) Ulaşımı kolay olan bölgeler
D) Ilıman iklimin görüldüğü ovalar

6. Antalya; denizi, sahilleri ve tarihî varlıkları ile ön plana çıkan bir şehirdir.

Bu durum, Antalya'da aşağıdaki ekonomik faaliyetlerden hangisinin gelişmesinde etkili olmuştur?

- A) Tarım B) Turizm
C) Sanayi D) Madencilik

7. "Papirüs" adı verilen yazı malzemesini icat eden medeniyet aşağıdakilerden hangisidir?

- A) Mısır B) Sümer
C) Yunan D) Fenike

(733) SOSYAL BİLGİLER – 7

1. "Kişinin kendini başkasının yerine koyup onun duygu ve düşüncelerini anlamaya çalışması" olarak tanımlanan kavram aşağıdakilerden hangisidir?

- A) Mimik B) Uzlaşma
C) Jest D) Empati

2. Aşağıdakilerden hangisi kitle iletişim araçlarından değildir?

- A) Faks B) Radyo
C) Gazete D) Televizyon

2. OTURUM

8. “Kitâb-ı Bahriyye” adlı eserin yazarı aşağıdakilerden hangisidir?

- A) Ali Kuşçu B) Kâtip Çelebi
C) İbn-i Hâldûn D) Piri Reis

9. “Yeşilay”ın kuruluş amacı aşağıdakilerden hangisidir?

- A) İnsan hakları konusunda kişileri bilinçlendirmek
B) Doğal afetlerde arama kurtarma ekipleri kurmak
C) Zararlı alışkanlıklarla mücadele etmek
D) Çevre kirliliğine karşı tedbirler almak

10. • 23 Nisan 1920’de Büyük Millet Meclisinin açılması
• 1 Kasım 1922’de Saltanatın Kaldırılması
• 29 Ekim 1923’te Cumhuriyetin ilan edilmesi

Bu inkıpların amacı aşağıdakilerden hangisidir?

- A) Millî eğitimi çağdaşlaştırmak
B) Millî egemenliği sağlamak
C) Millî sınırları korumak
D) Millî sanayiye kurmak

11. Dünya barışına yönelik tehditleri önlemek, ülkeler arasında dostane ilişkiler kurmak, ulusların ekonomik ve sosyal alanlarda iş birliğini sağlamak için 1945 yılında kurulan uluslararası kuruluş aşağıdakilerden hangisidir?

- A) Kuzey Atlantik Antlaşması Örgütü
B) Dünya Sağlık Örgütü
C) Avrupa Güvenlik ve İş Birliği Teşkilatı
D) Birleşmiş Milletler Teşkilatı

(735) İNGİLİZCE – 7

1-8. sorularda boş bırakılan yere/yerlere uygun gelen kelime ya da ifadeyi işaretleyiniz.

1. Ashley has a lot of friends. She is very - - - -.

- A) selfish B) shy
C) outgoing D) punctual

2. Two days ago, I - - - - a documentary about the history of science. It was very informative, I recommend it.

- A) watch B) watched
C) will watch D) am watching

3. Nikola Tesla - - - - to the USA in 1884.

- A) moves B) is moving
C) will move D) moved

4. Human activities like massive use of fossil fuels and fertilizers destruct animals’ habitats so some animal species - - - -.

- A) are in danger of extinction
B) cause global warming
C) live in tropical forests
D) are herbivores and eat grass

5. I like most of the programs on TV, but I - - - - watching soap operas because they are boring.

- A) can’t wait for B) love
C) prefer D) can’t stand

6. Clara : I’ll get a sandwich. Would you like one?
Sonia : No, thanks. - - - -.

- A) I am full
B) Just a little
C) I’d like to eat it
D) That would be great

2. OTURUM

7. I hope I - - - in a small and peaceful city when I get older.

- A) live B) lived
C) am living D) will live

8. Tony was at the toy shop to - - - for his baby sister.


- A) pay his taxes
B) withdraw some money
C) buy a doll
D) report a crime

9. Aşağıdakilerden hangisi çevre için zararlı bir eylemdir?

- A) Polluting the lakes
B) Planting trees
C) Using eco-friendly products
D) Recycling paper and plastics

10-11. sorularda boş bırakılan yere/yerlere görsele göre uygun gelen kelime ya da ifadeyi işaretleyiniz.

10.



The Earth is - - - than Neptune in the picture.

- A) taller B) smaller
C) larger D) longer

11.



Harris goes - - - in his free time.

- A) caving B) cycling
C) diving D) sailing

(735) ALMANCA – 7

1-7. sorularda boş bırakılan yere/yerlere uygun gelen kelime ya da ifadeyi işaretleyiniz.

1. Davut hat - - - seinen Fuß verletzt.

- A) mir B) du
C) sich D) ich

2. A: Was spielst du - - -, Golf oder Tischtennis?
B: Tischtennis.

- A) lieber B) vieles
C) liebsten D) meiste

3. Cemile darf Auto fahren, - - - sie ist schon 18 Jahre alt und hat einen Führerschein.

- A) weil B) denn
C) damit D) dann

4. Unsere Lehrerin - - - uns Glück für die Prüfung.

- A) sprechen B) wählen
C) schreibt D) wünscht

2. OTURUM

5. A: Wie gefällt - - - (du) das Kleid?

B: Gut, aber leider passt es - - - (ich) nicht.

- A) du / ich B) dich / mich
C) dein / mein D) dir / mir

6. Wir können den Menschen vertrauen, - - - uns nicht anlügen.

- A) der B) die
C) den D) das

7. Aylin möchte nach Deutschland fliegen. Sie will dort einen Sprachkurs - - - .

- A) gehen B) teilnehmen
C) besuchen D) lernen

8. "Sehbehinderung" sözcüğünün Türkçe karşılığı aşağıdakilerden hangisidir?

- A) Görme engeli
B) Konuşma engeli
C) Duyma engeli
D) Yürüme engeli

9. Ich gebe ihm Geld. Er kauft sich ein Buch von Kafka.

Bu cümleler, aşağıdakilerin hangisinde "damit" bağlacı ile doğru birleştirilmiştir?

- A) Wenn ich ihm Geld gebe, damit kauft er sich ein Buch von Kafka.
B) Ich gebe ihm Geld, damit er sich ein Buch von Kafka kauft.
C) Damit ich ihm Geld gebe, kauft er sich ein Buch von Kafka.
D) Er kauft sich ein Buch von Kafka, damit ich ihm Geld gebe.

10. Wem gehören die Bücher? (die Schüler)

- A) Sie gehören den Schülern.
B) Sie gehört dem Schüler.
C) Sie gehört ihm.
D) Sie gehört ihr.

11. Aşağıdakilerden hangisi "doğum günü" kutlama ifadesidir?

- A) Ich wünsche dir schöne Ferien!
B) Herzlichen Glückwunsch zum Geburtstag!
C) Viel Spaß beim Spielen!
D) Ein gesundes neues Jahr!

(735) FRANSIZCA – 7

1 - 9. sorularda boş bırakılan yere/yerlere uygun gelen kelime ya da ifadeyi işaretleyiniz.

1. François : Ton amie Rana, comment est-elle ?

Serra : Elle est - - - et - - - .

- A) pensive / attentif
B) attentive / travailleuse
C) travailleur / gentille
D) pensif / belle

2. Un village est - - - petit qu'une ville.

- A) aussi
B) plus
C) moins
D) entre

3. Hier je - - - au cinéma, demain je - - - la télé.

- A) es allé / vas regarder
B) est allée / va regarder
C) suis allé / vais regarder
D) ont allés / vont regarder

2. OTURUM

4. **Alice** : Aujourd'hui c'est l'anniversaire de Sarah.

Mila : Qu'est-ce qu'on achète pour elle ?

Alice : On achète un grand - - - - et - - - - bougies

Mila : Parfait !

- A) cadeau / du
- B) gâteau / des
- C) cadeaux / des
- D) gateaux / du

5. **Quand elle - - - - professeur et elle - - - - des bons étudiants.**

- A) seras / auras
- B) auras / sera
- C) sera / aura
- D) sera / seras

6. **Un touriste** : Pardon monsieur, où est la gare ?

Un homme : Ah ! Allez tout droit. Prenez la deuxième rue gauche. Vous allez la voir. Ce n'est pas loin, 200 mètres environ. C'est à 10 minutes - - - -.

Un touriste : Merci monsieur.

Un homme : De rien.

- A) en avion
- B) en bus
- C) en train
- D) à pied

7.



- - - - est un problème - - - -.

- A) La déforestation / environnemental
- B) La nature / nucléaire
- C) L'effet de serre / climatique
- D) L'érosion / international

8. **Dans le système - - - -, il existe beaucoup - - - - planètes.**

- A) nucléaire / des
- B) solaire / de
- C) originaire / de
- D) itinéraire / de

9. **Pour les grandes vacances, nous préférons voyager en avion parce que - - - -.**

- A) c'est pratique et la gare est à 10 minutes de chez nous
- B) l'aéroport est tout près de chez nous et pas loin de notre hôtel
- C) les hôtes et hôtesses servent dans l'avion
- D) nous découvrons de beaux villages et monuments historiques

10. **Dans la nature, il y a des animaux menacés et en voie de disparition. Nous devons protéger ces animaux. Ils ont besoin de nous. Parce qu'ils sont en danger. Les baleines, les éléphants sont menacés par les chasseurs et par les catastrophes.**

Bu metne göre, aşağıdakilerden hangisi doğrudur?

- A) Les animaux menacé ont besoin de nous.
- B) Les chasseurs protègent la nature.
- C) Il n'y a pas d'animaux menacés dans la nature.
- D) La nature a besoin de nous et de chasseurs.

2. OTURUM

11. Paris est la capitale de France. Ses habitants s'appellent les Parisiens. J'ai visité ses monuments célèbres. Ces monuments se trouvent souvent dans le centre et près de la Seine. Dans ce fleuve il y a plusieurs bateaux.

Bu metne göre, aşağıdakilerden hangisi doğrudur?

- A) Les bateaux de Seine s'appellent Parisiens.
- B) Dans la Seine il y a des gâteaux.
- C) La Seine est un fleuve.
- D) Les Parisiens sont célèbres.

(736) DİN KÜL. VE AHLAK BİLGİSİ – 7

1. Aşağıdakilerden hangisi “melek, cin ve şeytanın” ortak özelliklerindendir?

- A) Cinsiyetleri vardır.
- B) Allah'a itaat ederler.
- C) Ruhani varlıklardır.
- D) Beslenmeye ihtiyaç duyarlar.

2. • Yeterli maddi güce sahip olmak
• Seyahat özgürlüğü bulunmak
• Sağlığı yerinde olmak

Bu özellikler “hac ibadeti” konusunda aşağıdakilerden hangisiyle ilgilidir?

- A) Nasıl yapıldığı
- B) Kimlere farz olduğu
- C) Niçin yapılması gerektiği
- D) İnsana ne kazandırdığı

3. I. Hac ve umre sünnet ibadetlerdendir.
II. Hac ve umre yılda sadece bir kez yapılır.
III. Hacda şeytan taşlama yapılırken umrede yapılmaz.
IV. Hac belirli bir zamanda, umre ise hac zamanı dışında yapılır.

“Hac ve umre” ibadetleriyle ilgili numaralanmış ifadelerden hangileri doğrudur?

- A) I ve II
- B) I ve III
- C) II ve IV
- D) III ve IV

4. “Takva sahipleri, bollukta ve darlıkta Allah için harcarlar; öfkelerini yutarlar ve insanları affederler. Allah da güzel davranışta bulunanları sever.”
(Al-i İmran suresi, 134. ayet)

Bu ayetten aşağıdakilerin hangisine ulaşamaz?

- A) Allah'ın, ahlakça üstün kullarından hoşnut olduğuna
- B) İyi bir müminin sinirlerine hâkim olması gerektiğine
- C) Allah'a saygı duyanların her durumda infak ettiklerine
- D) Günahları bağışlamanın Allah'a mahsus olduğuna

5. “Dinî yorumlar” ile ilgili aşağıdakilerden hangisi yanlıştır?

- A) İnsan ürünüdür.
- B) Kültürel zenginliktir.
- C) Değişmez doğrulardır.
- D) İhtiyaçlardan kaynaklanır.

6. “Düşünceleri, oğlu Sultan Veled tarafından sistematize edilen mutasavvıf” aşağıdakilerden hangisidir?

- A) Mevlana Celaleddin Rumi
- B) Muhammed Bahaeddin
- C) Hoca Ahmet Yesevi
- D) Abdülkadir Geylani

7. İslam düşüncesindeki yorum biçimleri ve bunların örnekleri aşağıdakilerden hangisinde doğru eşleştirilmiştir?

- A) Fıkhi - Matüridilik
- B) Tasavvufi - Hanefilik
- C) Fıkhi - Mevlevilik
- D) İtikadi - Eşarilik

2. OTURUM

8. Bir Müslüman tutum ve davranışlarında dengeyi elden bırakmamalı, aşırılıktan ve abartı içeren durumlardan kaçınmalıdır.

Bu açıklama aşağıdaki hadislerden hangisiyle aynı doğrultudadır?

- A) "Küçüklerine merhamet etmeyen, büyüklerine saygı göstermeyen olgun bir mümin değildir."
B) "Sevdiğini ölçülü sev, belki bir gün düşmanın olur. Sevmediğin kişiye karşı da ölçülü ol, belki bir gün dostun olur."
C) "Allah'ım kötü ahlakı benden uzaklaştır. Senden başka kötü ahlakı benden uzaklaştıracak yoktur!"
D) "Kişi dostunun etkisi altındadır. Bu yüzden her biriniz, kiminle dostluk ettiğine dikkat etsin."

9. "Ben insanları helak etmek için değil, helakten kurtarmak için geldim. Olur ki bunların neslinden zamanla bir tek de olsa Müslüman çıkar."

Bu hadisten Hz. Muhammed'in (sav) aşağıdaki özelliklerinden hangisine ulaşılabilir?

- A) Son peygamber oluşuna
B) Kur'an'ı açıkladığına
C) Merhametli yaklaşımına
D) İşlerini danışarak yaptığına

10. Mekkeliler kendileri gibi insani özelliklere sahip olan Hz. Muhammed'in (sav) peygamber seçilmesine şaşırılmışlardı. Çünkü onlar peygamberlerin olağanüstü güçlere sahip bir varlık olması gerektiğine inanıyorlardı.

Bu duruma aşağıdaki ayetlerden hangisinde değinilmektedir?

- A) "Biz, 'Allah'a kulluk edin ve Allah yolundan alı-koyan her şeyden sakının.' diye emretmeleri için her ümmete bir peygamber gönderdik..."
(Nahl suresi, 36. ayet)
B) "Onlar şöyle dediler: 'Bu ne biçim peygamber; bizler gibi yemek yiyor, çarşılarda dolaşıyor! Ona kendisiyle beraber uyarıcı olarak bir melek indirilmeli değil miydi?'"
(Furkan suresi, 7. ayet)
C) "Size içinizden öyle bir peygamber gelmiştir ki sizin sıkıntıya uğramanız ona çok ağır gelir. O, size çok düşkün, müminlere karşı çok şefkatli ve merhametlidir."
(Tevbe suresi, 128. ayet)
D) "De ki: Eğer Allah'ı seviyorsanız bana uyunuz ki Allah da sizi sevsin ve günahlarınızı bağışla-sın..."
(Al-i İmran suresi, 31. ayet)

11. "Her insan, yaşadığı hâl üzere ölür ve her kul, öldüğü hâl üzere diriltir."

Bu hadisi anlamca destekleyen atasözü aşağıdakilerden hangisidir?

- A) Ne ekersen onu biçersin.
B) Bugünün işini yarına bırakma.
C) Bir elin nesi var iki elin sesi var.
D) Taşıma su ile değirmen dönmez.

(830) TÜRKÇE – 8

1. "Çalışmak" sözcüğü, aşağıdaki cümlelerin hangisinde "bir şeyi öğrenmek veya yapmak için emek vermek" anlamında kullanılmıştır?

- A) Jeneratör sabaha kadar durmadan çalıştı.
B) Olduğundan daha genç görünmeye çalışıyor.
C) Bağlama ustası olmak için gece gündüz çalışı-yordu.
D) On yıl İstanbul'da özel bir şirkette çalıştı.

2. OTURUM

2. “Olgunluk düzeyine ulaşmış, bilge ve erdemli kişi alçak gönüllü olur, insanlara tepeden bakmaz.” **anlamında kullanılan atasözü aşağıdakilerden hangisidir?**

A) Ağaç düşse de yakınına yaslanır.
B) Ağaç, meyvesi olunca başını aşağı salar.
C) Adama dayanma ölür, ağaca dayanma kurur.
D) Adamın iyisi alışverişte belli olur.

3. “Almanya, siyasi birliğini geç tamamladığı için sömürgecilik yarışına sonradan katılır.” **cümlesinde aşağıdaki anlam ilişkilerinden hangisi vardır?**

A) Karşılaştırma
B) Amaç-sonuç
C) Koşul-sonuç
D) Neden-sonuç

4. (1) Gök cisimlerinden biri de gezegenlerdir. (2) Gezegenler yıldızlardan farklıdır çünkü yıldızlar kendileri birer ısı ve ışık kaynağıyken gezegenler yıldızlardan aldıkları ışığı yansıtır. (3) Bu ışığın açısı, gezegenlerin Güneş çevresindeki hareketlerinden dolayı yıl boyunca değişir. (4) Güneş bir yıldızdır. (5) Güneş haricindeki yıldızlar çok uzak oldukları için geceleyin gökyüzünde yanıp sönen, saçılmış yapıdaki ışıklarıyla bize küçük nokta kaynaklar hâlinde görünür.

Bu parça iki paragrafa bölünmek istenirse ikinci paragraf numaralanmış cümlelerden hangisiyle başlar?

A) 2 B) 3 C) 4 D) 5

5. Odacıklı notilus, Büyük Okyanus ve Hint Okyanusu’nun yaklaşık 550 metre derinliklerinde yaşar. Bu canlı, vücudunda bulunan tüp şeklindeki yapıyla basınçlı suyu püskürterek çok hızlı hareket edebilen bir yumuşakçadır. Türlerine göre değişmekle birlikte 90’a yakın dokunacı vardır. Avını bu dokunaçlarla yakalayıp ağzına doğru çeker. Karides, balık ve küçük kabuklularla beslenir. Çok az enerji harcadığı için ayda bir kere beslenmesi yeterli olur.

Bu parça aşağıdaki metin türlerinden hangisine örnektir?

A) Makale B) Deneme
C) Fıkra D) Eleştiri

6. Akıyordu su
gösterip söğüt ağaçlarını.
Salkım söğütler yıkıyordu suda saçlarını!
Yanan yalın kılıçları çarparak söğütlere
koşuyordu kızıl atlılar güneşin battığı yere!

Bu dizelerde aşağıdaki söz sanatlarından hangisi kullanılmıştır?

A) Benzetme
B) Karşıtlık
C) Konuşturma
D) Kişileştirme

7. **Aşağıdaki cümlelerin hangisinde yazım yanlışı vardır?**

A) Yeni proje için işbölümü yapmamız gerekiyor.
B) Gördüğü problemleri yalnız bana anlatırdı.
C) Beklediği film, geçen hafta vizyona girmiş.
D) Yeni aldığım eşyalar mayıs ayında gelecek.

8. https () () () tdk () gov.tr

Bu genel ağ adresinde yay ayraçla gösterilen yerlere sırasıyla aşağıdaki noktalama işaretlerinden hangisi getirilmelidir?

A) (:) (:) (/) (.)
B) (:) (/) (/) (.)
C) (/) (/) (.) (.)
D) (/) (-) (/) (.)

9. (1) Sabaha kadar gene gözlerimi kırpmadım. (2) Hava henüz ağarırken Pınar’ı uyandırdım. (3) Ben içimdeki zehirden azabı boşaltmak için acele ediyordum. (4) Fakat ne yazık ki zavallı suçsuz kardeşim o gece gitmişti.

Bu parçadaki numaralanmış cümlelerin hangisinde isim-fiil kullanılmıştır?

A) 1 B) 2 C) 3 D) 4

2. OTURUM

10. Muhtaç olduğun kudret, damarlarındaki asil kanda mevcuttur.

Bu cümlelerin öge dizilişi aşağıdakilerden hangisidir?

- A) Özne / Yer tamlayıcısı / Yüklem
B) Nesne / Zarf tamlayıcısı / Yer tamlayıcısı / Yüklem
C) Özne / Zarf tamlayıcısı / Nesne / Yüklem
D) Nesne / Özne / Yer tamlayıcısı / Yüklem

11. Aşağıdaki cümlelerin hangisinde çatı aranmaz?

- A) Düşün altındaki binlerce kefansız yatani.
B) Hakkıdır hür yaşamış bayrağımın hürriyet.
C) Dalgalan sen de şafaklar gibi ey şanlı hilâl!
D) Verme, dünyaları alsan da bu cennet vatani.

(831) MATEMATİK – 8

1. Aşağıdakilerden hangisi 120 sayısının asal çarpanlarının çarpımı şeklindeki yazılışdır?

- A) $2^4 \cdot 3 \cdot 5$ B) $2^3 \cdot 3 \cdot 5$
C) $2^2 \cdot 3 \cdot 5^2$ D) $2 \cdot 3^2 \cdot 5^2$

2. 402,076 ondalık gösteriminin çözümlenmiş hâli

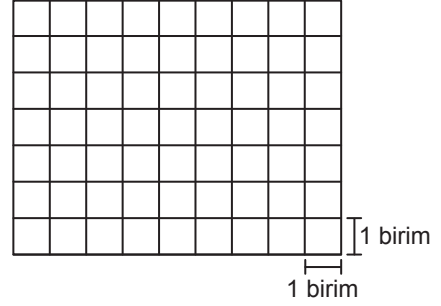
$$4 \cdot 10^2 + 2 \cdot 10^a + 7 \cdot 10^b + 6 \cdot 10^{-3}$$

olarak verilmiştir.

Buna göre, a + b kaçtır?

- A) -2 B) -1 C) 0 D) 1

3. Şekildeki dikdörtgensel bölge birimkarelerle oluşturulmuştur.



Bu dikdörtgensel bölgeden en az kaç birimkare çıkarılırsa oluşan şekil karesel bölge olur?

- A) 9 B) 14 C) 21 D) 27

4. $\sqrt{28 - \sqrt{4 + \sqrt{25}}}$ ifadesinin eşiti kaçtır?

- A) 1 B) 3 C) 5 D) 7

5. $2x - 5x + 7x - 3y + 6y$ cebirsel ifadesinin en sade biçimi aşağıdakilerden hangisidir?

- A) $14x + 3y$ B) $14x - 9y$
C) $4x - 9y$ D) $4x + 3y$

6. Aşağıda denklemleri verilen doğrulardan hangisinin grafiği orijinden geçmez?

- A) $x + 2y = 0$ B) $-x - \frac{y}{3} = 0$
C) $\frac{x}{2} + y = 0$ D) $x - y + 5 = 0$

7. A(1, -2) noktası $3x - ay + 5 = 0$ doğrusu üzerinde olduğuna göre, a kaçtır?

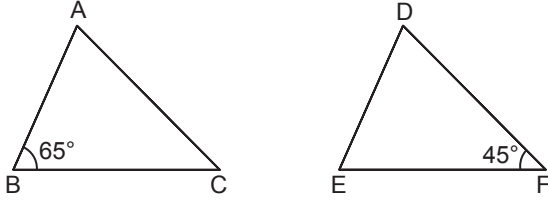
- A) -4 B) -1 C) 1 D) 4

8. Aşağıdakilerden hangisinde verilen kenar uzunlukları ile bir üçgen oluşturulamaz?

- A) 3 cm, 4 cm, 5 cm
B) 4 cm, 6 cm, 8 cm
C) 5 cm, 10 cm, 15 cm
D) 6 cm, 9 cm, 12 cm

2. OTURUM

9.

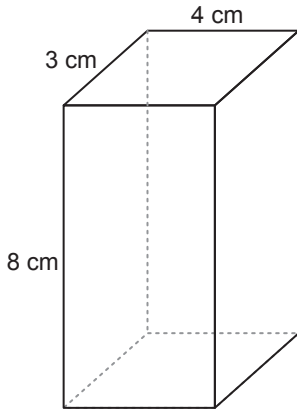


Şekilde $\widehat{ABC} \cong \widehat{EDF}$ ve $m(\widehat{ABC}) = 65^\circ$,
 $m(\widehat{DFE}) = 45^\circ$ dir.

Buna göre, aşağıdakilerden hangisi yanlıştır?

- A) $|BC| = |DF|$ B) $m(\widehat{E}) = 70^\circ$
 C) $\frac{|AB|}{|ED|} = 1$ D) $m(\widehat{A}) = m(\widehat{D})$

10. Şekildeki dikdörtgen dik prizmanın ayrıt uzunlukları 3 cm, 4 cm ve 8 cm'dir.

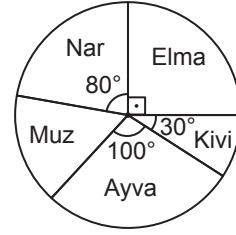


Buna göre, bu dikdörtgen dik prizmanın tüm ayrıtlarının uzunlukları toplamı kaç santimetredir?

- A) 30 B) 45 C) 60 D) 90

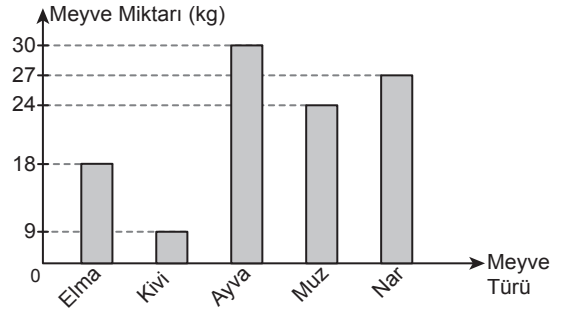
11. Bir manavda toplam 108 kg meyve vardır. Bu manavdaki meyve türlerinin miktarına göre dağılımına ait daire grafiği aşağıda verilmiştir.

Grafik: Meyve Türlerinin Miktarına Göre Dağılımı

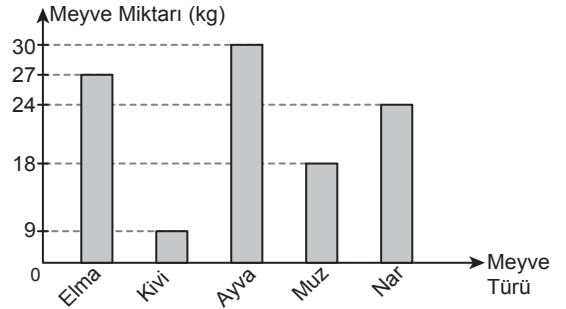


Buna göre, bu daire grafiğindeki dağılıma uygun sütun grafiği aşağıdakilerden hangisidir?

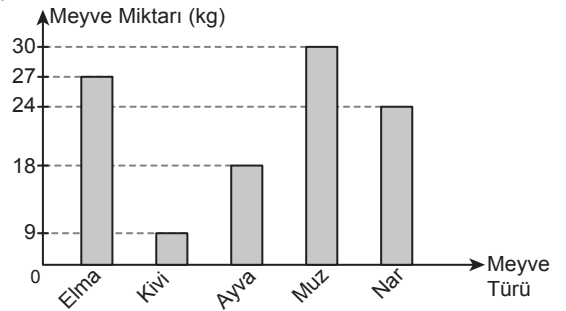
A) **Grafik :** Meyve Türlerinin Miktarına Göre Dağılımı



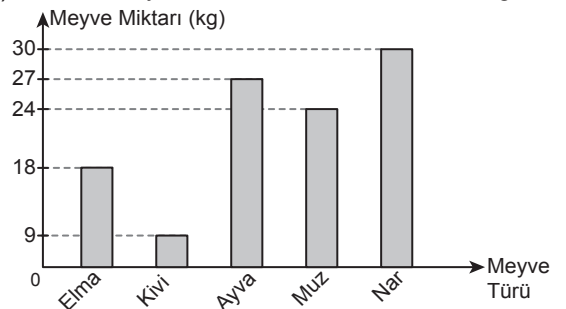
B) **Grafik :** Meyve Türlerinin Miktarına Göre Dağılımı



C) **Grafik :** Meyve Türlerinin Miktarına Göre Dağılımı



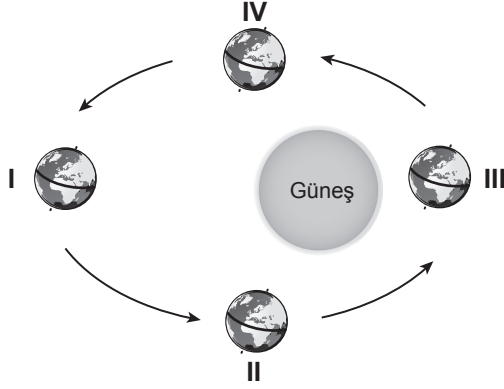
D) **Grafik :** Meyve Türlerinin Miktarına Göre Dağılımı



2. OTURUM

(832) FEN BİLİMLERİ – 8

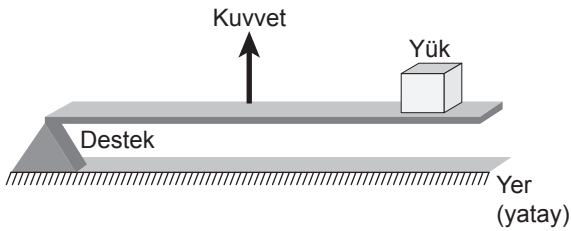
1. Dünya'nın Güneş etrafında dolanması sırasındaki konumları şekilde numaralanarak verilmiştir.



Buna göre, bu konumların hangisinde Güney Yarım Kürede yaz mevsimi yaşanır?

- A) I B) II C) III D) IV

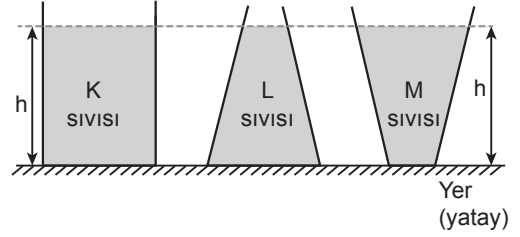
2. Kuvvetin destek ile yük arasında olduğu bir kaldırma tipi şekilde gösterilmiştir.



Buna göre, aşağıdakilerden hangisi bu kaldıracı örnek değildir?

- A) Makas B) Cımbız
C) Maşa D) Olta

3. Eşit yükseklikte K, L ve M sıvısı bulunan kaplar şekilde verilmiştir. K, L ve M sıvılarının bulundukları kapların tabanında oluşturdukları basınçlar arasındaki ilişki $L > M > K$ dir.



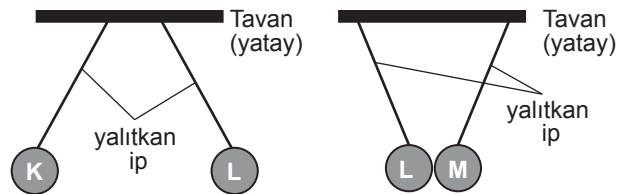
Buna göre; K, L ve M sıvılarının yoğunlukları arasındaki büyüklük ilişkisi aşağıdakilerin hangisinde doğru verilmiştir?

- A) $L > M > K$ B) $L > K > M$
C) $K > L > M$ D) $K = L = M$

4. Kömür, petrol, doğal gaz gibi fosil yakıtların yakılması sonucu oluşan ısıdan elektrik enerjisi üreten güç santrali aşağıdakilerden hangisidir?

- A) Nükleer santraller
B) Rüzgâr santralleri
C) Termik santraller
D) Hidroelektrik santraller

5. Elektrik yükü ile yüklü iletken K, L ve M cisimleri birbirine etki edecek şekilde yalıtıcı iplerle tavana sabitlendiğinde bu cisimlerin birbirine olan etkisi şekilde gösterilmiştir.

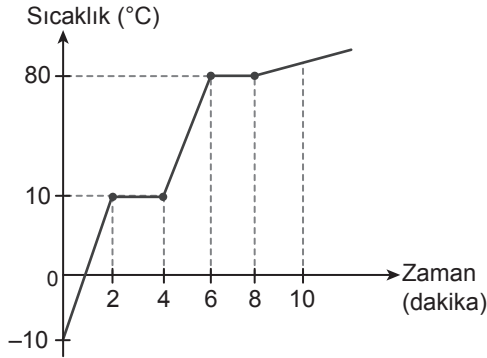


Buna göre, bu cisimler ile ilgili aşağıdakilerden hangisi yanlıştır?

- A) K ile L'nin elektriksel yükleri aynıdır.
B) K pozitif (+) yüklü ise M negatif (-) yüklüdür.
C) L negatif (-) yüklü ise M pozitif (+) yüklüdür.
D) L ile M aynı cins yükle yüklüdür.

2. OTURUM

6. Saf katı bir maddenin sıcaklık-zaman grafiği şekildedir.



Buna göre, bu madde ile ilgili aşağıdakilerden hangisi yanlıştır?

- A) İki kez hâl değiştirmiştir.
B) Kaynama noktası 80°C 'tur.
C) 5. dakikada tamamen gaz hâldedir.
D) Erime noktası 10°C 'tur.

7. Fiziksel ve kimyasal değişim ile ilgili örnekler numaralanarak verilmiştir.

- I. Etten kıyma yapılması
- II. Gümüşün kararması
- III. Buğdayın un hâline gelmesi
- IV. Yaprığın sararması

Bu örneklerden hangileri fiziksel değişimdir?

- A) I ve II
B) I ve III
C) II ve IV
D) III ve IV

8. Periyodik sistemin bir kısmı ve bu kısımda yer alan bazı elementler şekilde gösterilmiştir.

H	
Li	
Na	Mg

		N			
				Cl	

Buna göre, bu elementlerden hangileri ametal-ler grubunda yer alır?

- A) H, Li, Na B) Na, Mg, Cl
C) Li, Na, Mg D) H, N, Cl

9. Aşağıdakilerden hangisi DNA'nın özelliklerinden biri değildir?

- A) Çift sarmal yapıdadır.
B) Eşlenmesi sonucu birbirinden farklı iki yeni DNA oluşur.
C) En küçük yapı birimi nükleotidlerdir.
D) Eşlenmesi sırasında tek zincirinde oluşan hasarlar onarılabilir.

10. Bezelyelerde sarı tohum olma aleli (S), yeşil tohum olma aleline (s) baskındır.

Buna göre, aşağıdaki çaprazlamalardan hangisi yapıldığında %50 sarı tohumlu, %50 yeşil tohumlu bezelye bitkisi elde edilebilir?

- A) Ss x ss B) SS x SS
C) Ss x SS D) Ss x Ss

11. Bir kara ekosistemine ait besin zinciri şekilde verilmiştir.

Çayır otu → Tırtıl → Kurbağa → Baykuş

Buna göre, bu besin zincirindeki canlılardan hangisi tüketici canlı grubunda yer almaz?

- A) Tırtıl
B) Kurbağa
C) Baykuş
D) Çayır otu

TEST BITTI.

CEVAPLARINIZI KONTROL EDİNİZ.

CEVAP KÂĞIDI VE SORU KİTAPÇIĞI İLE İLGİLİ AÇIKLAMALAR

1. Cevap kâğıdınızdaki bilgilerin doğruluğunu kontrol ediniz ve cevap kâğıdınızı imzalayınız.
2. Cevap kâğıdı üzerinde kodlamalarınızı siyah kurşun kalemle yapınız.
3. Değiştirmek istediğiniz bir cevabı, yumuşak silgiyle cevap kâğıdını yıpratmadan temizce siliniz ve yeni cevabınızı kodlayınız.
4. Soru kitapçığının sayfalarını görevlilerin uyarıları doğrultusunda kontrol ediniz, baskı hatası var ise değiştirilmesini sağlayınız.
5. Soruların çözümü için size ayrıca boş kâğıt verilmeyecektir. Soru kitapçığının içindeki boş alanları soru çözümleri için kullanabilirsiniz.
6. Her sorunun dört seçeneğinden sadece biri doğrudur. Doğru seçeneği, cevap kâğıdınızın ilgili sütununa soru numarasını dikkate alarak yuvarlağın dışına taşırmadan kodlayınız. Soru kitapçığı üzerinde yapılan cevaplandırmalar dikkate alınmayacaktır.
7. Cevaplamaya istediğiniz dersin sorusundan başlayabilirsiniz. Cevabını bilmediğiniz sorular üzerinde fazla zaman kaybetmeden diğer sorulara geçiniz. Zamanınız kalırsa bu sorulara daha sonra dönebilirsiniz.
8. Yanlış cevaplarınız dikkate alınmadan sadece doğru cevaplarınız üzerinden puanlama yapılacaktır.
9. Soruları ve sorulara verdiğiniz cevapları, yanınızda götürmek amacıyla kaydetmeyiniz; hiçbir şekilde dışarı çıkarmayınız.
10. Sınav bitiminde soru kitapçığı ve cevap kâğıdını salon görevlilerine teslim ediniz.
11. Aday tarafından cevap kâğıdına yazılması veya işaretlenmesi gereken bilgilerde eksiklik ya da yanlışlık olması durumunda sorumluluk adaya ait olacaktır.

SALON GÖREVLİLERİNCE SINAV BAŞLAMADAN ÖNCE ADAYLARA YAPILACAK SON UYARILAR

- Soracağınız bir şey varsa şimdi sorunuz, sınav başladıktan sonra sorularınıza cevap verilmeyecektir.
- Başlama zilini bekleyiniz.

Hepinize başarılar dileriz.

(Salon başkanı başlama ve bitiş saatini tahtaya yazacaktır.)

Bu kitapçığın her hakkı saklıdır. Hangi amaçla olursa olsun, kitapçığın tamamının veya bir kısmının Millî Eğitim Bakanlığı Ölçme, Değerlendirme ve Sınav Hizmetleri Genel Müdürlüğünün yazılı izni olmadan kopya edilmesi, fotoğraflarının çekilmesi, bilgisayar ortamına alınması, herhangi bir yolla çoğaltılması, yayımlanması veya başka bir amaçla kullanılması yasaktır. Bu yasağa uymayanlar, doğabilecek cezai sorumluluğu ve kitapçığın hazırlanmasındaki mali külfeti peşinen kabullenmiş sayılır.

23 ARALIK 2023 TARİHİNDE YAPILAN
AÇIK ÖĞRETİM ORTAOKULU 2023-2024 ÖĞRETİM YILI 2. DÖNEM SINAVI
2. OTURUM CEVAP ANAHTARI

(553) SOSYAL BİLGİLER – 5

1. B
2. D
3. B
4. A
5. C
6. D
7. D
8. B
9. A
10. C
11. C

(554) ALMANCA – 5

1. B
2. A
3. C
4. C
5. D
6. A
7. B
8. C
9. D
10. D
11. B

**(555) DİN KÜLTÜRÜ VE
AHLAK BİLGİSİ – 5**

1. D
2. C
3. B
4. D
5. A
6. B
7. A
8. C
9. D
10. C
11. B

(631) MATEMATİK – 6

1. A
2. C
3. A
4. C
5. D
6. A
7. B
8. D
9. B
10. B
11. D

(554) İNGİLİZCE – 5

1. C
2. B
3. A
4. D
5. B
6. D
7. C
8. A
9. C
10. A
11. D

(554) FRANSIZCA – 5

1. A
2. B
3. A
4. D
5. B
6. D
7. D
8. C
9. B
10. D
11. C

(630) TÜRKÇE – 6

1. C
2. D
3. A
4. C
5. B
6. D
7. A
8. D
9. A
10. C
11. B

(632) FEN BİLİMLERİ – 6

1. B
2. D
3. A
4. C
5. D
6. D
7. A
8. B
9. C
10. B
11. A

16 MART 2024 TARİHİNDE YAPILAN
AÇIK ÖĞRETİM ORTAOKULU 2023-2024 ÖĞRETİM YILI 2. DÖNEM SINAVI
2. OTURUM CEVAP ANAHTARI

(733) SOSYAL BİLGİLER – 7

1. D
2. A
3. C
4. A
5. B
6. B
7. A
8. D
9. C
10. B
11. D

(735) ALMANCA – 7

1. C
2. A
3. B
4. D
5. D
6. B
7. C
8. A
9. B
10. A
11. B

**(736) DİN KÜLTÜRÜ VE
AHLAK BİLGİSİ – 7**

1. C
2. B
3. D
4. D
5. C
6. A
7. D
8. B
9. C
10. B
11. A

(831) MATEMATİK – 8

1. B
2. A
3. B
4. C
5. D
6. D
7. A
8. C
9. D
10. C
11. B

(735) İNGİLİZCE – 7

1. C
2. B
3. D
4. A
5. D
6. A
7. D
8. C
9. A
10. B
11. B

(735) FRANSIZCA – 7

1. B
2. B
3. C
4. B
5. C
6. D
7. A
8. B
9. B
10. A
11. C

(830) TÜRKÇE – 8

1. C
2. B
3. D
4. C
5. A
6. D
7. A
8. B
9. C
10. A
11. B

(832) FEN BİLİMLERİ – 8

1. C
2. A
3. A
4. C
5. D
6. C
7. B
8. D
9. B
10. A
11. D