



T.C.
MİLLÎ EĞİTİM BAKANLIĞI
ÖLÇME, DEĞERLENDİRME VE
SINAV HİZMETLERİ GENEL MÜDÜRLÜĞÜ

AÇIK ÖĞRETİM ORTAOKULU
2023 - 2024 ÖĞRETİM YILI
2. DÖNEM SINAVI

1.
OTURUM

16 MART 2024


Saat: 10.00

DERSLER	SAYFA	DERSLER	SAYFA
(550) TÜRKÇE – 5	2	(730) TÜRKÇE – 7	13
(551) MATEMATİK – 5	3	(731) MATEMATİK – 7	14
(552) FEN BİLİMLERİ – 5	5	(732) FEN BİLİMLERİ – 7	16
(633) SOSYAL BİLGİLER – 6	6	(834) T.C. İNKILAP TARİHİ VE ATATÜRKÇÜLÜK – 8	17
(634) İNGİLİZCE – 6	8	(835) İNGİLİZCE – 8	18
(634) ALMANCA – 6	9	(835) ALMANCA – 8	19
(634) FRANSIZCA – 6	10	(835) FRANSIZCA – 8	20
(635) DİN KÜL. VE AHLAK BİLGİSİ – 6	11	(836) DİN KÜL. VE AHLAK BİLGİSİ – 8	22

ADAYLARIN DİKKATİNE!

- Her ders için 11 soru bulunmaktadır. Bu oturumda 100 dakikalık cevaplama süreniz vardır. Sınavın ilk 30 dakikası tamamlanmadan ve sınav bitimine 15 dakika kala salon dışına çıkmayınız.
- Kullanımı doktor raporu ile belirlenen hasta veya engellilere ait cihazlar ve ilaçlar, anahtarlıksız basit anahtar, ulaşım kartları, para, alyans, şeffaf pet şişe içerisinde bandajı çıkarılmış su ve şeffaf numaralı gözlük hariç; her türlü kesici ve delici alet, ateşli silah, çanta, cüzdan, cep telefonu, her türlü saat, anahtarlık, elektronik anahtar, kablosuz iletişim sağlayan cihaz, kulaklık, kolye, küpe, bilezik, yüzük, broş ve diğer takılar, her türlü plastik, metal ve cam eşya, banka kredi kartları, her türlü elektronik ve mekanik cihaz, her türlü müsvedde kâğıt, defter, ders notu, kitap, sözlük, dergi, gazete ve benzeri yayınlar, cetvel, pergel, açıölçer ve benzeri araçlar, yiyecek, içecek ve diğer tüketim maddeleri yanınızda bulundurmayınız. Bu araçları/maddeleri yanınızda bulundurmanız ve kopya çekmeye teşebbüs etmeniz hâlinde sınavınız geçersiz sayılacaktır.
- Başvuru şartlarını taşımadığınız hâlde sınava girmeniz, kopya çekmeniz, başka adayın sınav evrakını kullanmanız ve geçerli kimlik belgenizi ibraz edemediğiniz durumlarda sınavınız geçersiz sayılacaktır.
- Sınavın değerlendirilmesi aşamasında, bilgisayar ortamında yapılan kopya analizinde sistemin ikili ve/veya toplu kopya tespiti hâlinde sınavınız geçersiz sayılacaktır.
- Adaylar, sınav kurallarına ve salon görevlilerinin tüm uyarılarına uymak zorundadır. Kurallara ve uyarılara uymayan adayların sınavları geçersiz sayılacaktır.
- Sınav başladıktan sonra adayların salon görevlileri ve birbirleri ile konuşmaları; kalem, silgi vb. şeyleri istemeleri yasaktır.
- Adaylar sınav süresince, sınav giriş belgesi ile geçerli kimlik belgelerinden birini masalarının üzerinde bulundurmak zorundadır.
- Sınav evraklarını teslim etmeyen, soru kitapçıklarının sayfalarından bir kısmını eksik teslim edenlerin sınavları geçersiz sayılacaktır.
- Sınav başlamadan önce kitapçığın arkasındaki açıklamaları okuyunuz.

BAŞLAYINIZ DENMEDEN SORU KİTAPÇIKLARINI AÇMAYINIZ.



1. OTURUM

(550) TÜRKÇE – 5

1. • Dertli bülbül Yemen ellerinde biçare beklermiş.
• Elleriindeki titreme bir türlü geçmek bilmiyordu.

Bu cümlelerde altı çizili sözcükler arasındaki anlam ilişkisi aşağıdakilerden hangisidir?

- A) Yakın anlamlılık
B) Eş anlamlılık
C) Zıt anlamlılık
D) Eş seslilik

2. Sizinle bu konuyu konuşmayı düşündüm - - - - beni anlayamayacağınızı fark edince bundan vazgeçtim.

Bu cümlede boş bırakılan yere düşüncenin akışına göre aşağıdaki geçiş ve bağlantı ifadelerinden hangisi getirilemez?

- A) çünkü
B) ama
C) fakat
D) lakin

3. (1) Değerli bir mücevher olarak kullanılan doğal incilerden çoğunun kaynağı, istiridyelerdir.
(2) İncinin istiridye içinde oluşmasının nedeni istiridyenin bir çeşit kendini koruma içgüdüdür.
(3) İstiridye, kabuklarının arasından giren bir kum tanesini veya herhangi bir parçacığı yabancı madde olarak algılar. (4) Kendini korumak için bu yabancı maddeyi sert, katı, güçlü ve parlak yapıdaki sedef mineraliyle sarar.

Bu parçadaki numaralanmış cümlelerin hangisinde amaç-sonuç ilişkisi vardır?

- A) 1
B) 2
C) 3
D) 4

4. “Kişi, verim beklediği işten istediğini alabilmek için gereken harcamalardan ve emeklerden kaçınmalıdır.” anlamında kullanılan atasözü aşağıdakilerden hangisidir?

- A) Sakınılan göze çöp batar.
B) Keseye danış, pazarlığa sonra giriş.
C) Bağa bak, üzüm olsun; yemeye yüzün olsun.
D) Akılları pazara çıkarmışlar, herkes yine kendi aklını almış.

5. Grip olduğumuzda burnumuz tıkanır, koku alamayız ve bütün yiyeceklerin lezzeti bize aynı gelmeye başlar. Lezzeti tam anlamıyla algılayabilmemiz için yiyeceklerin çiğneme esnasında ortaya çıkan kokusunu da alabilmemiz gerekir. Çünkü lezzet algısının oluşmasına koku duyumuz da yardımcı olur. Burnumuz tıkalı olduğunda ise bu mümkün olmaz. Örneğin burnumuz tıkalıyken birbirinden farklı iki acı yiyeceğin tadına baktığımızda ikisinin de acı olduğunu anlayabiliriz ancak onların hangi yiyecekler olduğunu ayırt edemeyiz.

Bu parçada anlatılmak istenen aşağıdakilerden hangisidir?

- A) Koku duyumuz, tatları algılamada önemli bir işleve sahiptir.
B) Yiyecekler ancak iyi çiğnenirse tatları ayırt edilir.
C) Acı tatlar burnumuz tıkalıyken daha yoğun algılanır.
D) Lezzet algısı, grip olmayan kişilerde daha düşüktür.

6. Başka sanat bilmeyiz, karşımızda dururken Söylenmemiş bir masal gibi Anadolu'muz. Arkadaş, biz bu yolda türküler tuttururken Sana uğurlar olsun... Ayrılıyor yolumuz.

Altı çizili dizede görülen söz sanatı aşağıdakilerden hangisidir?

- A) Abartma
B) Benzetme
C) Kişileştirme
D) Konuşturma

1. OTURUM

7. Var varanın, sür sürenin, destursuz bağa girenin hâli budur padişahım. Yollar saçak pürçek, kimi yalan, kimi gerçek; hikâyedir bunun adı, söyle-meyle çıkar tadı. Eski zamanenin devrinde idare-den aciz bir adam varmış. Bu adam bir gün “Ben ne yapayım, ne yapmayayım?” deyip İstanbul’a gitmiş.

Bu parça aşağıdaki metin türlerinden hangisi-ne örnektir?

- A) Fabl
B) Masal
C) Gezi yazısı
D) Haber metni

8. Aşağıdaki cümlelerin hangisinde yazım yanlış vardır?

- A) Toplum sevgiyle kaynaşır, sorumlulukla yaşar.
B) Hiçbir zafer, sahibine altın tepside sunulmaz.
C) Bir çocuğa verilebilecek en güzel hediye zamandır.
D) Türkiye büyük millet meclisi, halkı temsil eder.

9. Aşağıdaki cümlelerden hangisinin sonuna üç nokta getirilemez?

- A) Bu çalışmanın araştırmacılara yararlı olması dileğiyle
B) Öğrenmeyi bırakan kişi yirmisinde de olsa sek-seninde de olsa
C) Nerede olursak olalım; ilim, ana yurdumuzdur
D) Üzüm üzüme baka baka

10. Aşağıdaki sözcüklerden hangisi anlam değış-tiren bir ek almıştır?

- A) İnsanlar
B) Bilgi
C) Adadan
D) Sınıfım

11. Aşağıdaki cümlelerin hangisinde ünsüz yumu-şaması yoktur?

- A) Bilimlerin en zoru, kendini bilmektir.
B) Kitapsız büyüyen çocuk, susuz büyüyen ağaca benzer.
C) Faydalı ile faydasız ayırt edebilenler bilgi sahi-bi olanlardır.
D) Kalbinizle yaptığınız her şey size geri dönecektir.

(551) MATEMATİK – 5

1. 10 000 – 1011 işleminin sonucu kaçtır?


- A) 8099
B) 8989
C) 9089
D) 9899

2. Bir kasada 6 kg elma vardır.

Her gün 3 kasa elma satan bir manav, 270 kg elmayı kaç günde satar?

- A) 9
B) 12
C) 15
D) 18

3. Şekildeki sayı doğrusu eşit aralıklara bölünmüştür.



Bu sayı doğrusu üzerindeki A noktasına karşı-lık gelen birim kesir aşağıdakilerden hangisi-dir?

- A) $\frac{1}{6}$
B) $\frac{1}{5}$
C) $\frac{1}{4}$
D) $\frac{1}{3}$

4. $\frac{7}{3} - \frac{5}{6}$ işleminin sonucu kaçtır?

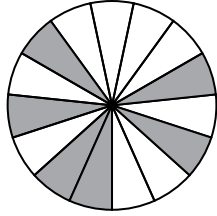
- A) $\frac{3}{2}$
B) $\frac{2}{3}$
C) $\frac{1}{2}$
D) $\frac{1}{3}$

1. OTURUM

5. Kilogram fiyatı 21,49 lira olan portakaldan ve kilogram fiyatı 17,99 lira olan elmadan birer kilogram alan bir kişi toplam kaç lira öder?

A) 38,38 B) 38,48
C) 39,38 D) 39,48

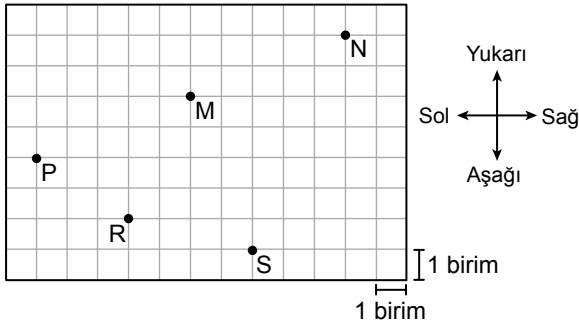
6. Aşağıdaki şekil, 15 eş parçaya bölünmüştür.



Buna göre, şeklin yüzde kaç boyalıdır?

A) 30 B) 35 C) 40 D) 45

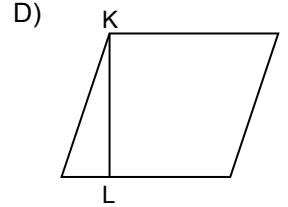
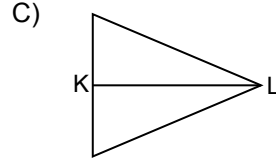
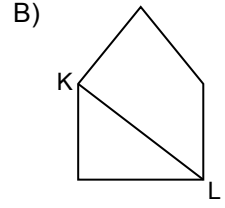
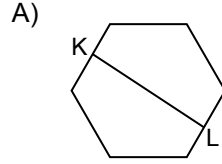
7. Kareli zemin üzerinde M, N, P, R ve S noktaları verilmiştir.



Buna göre, M noktasının 5 birim aşağısında ve 2 birim sağında bulunan nokta aşağıdakilerden hangisidir?

A) S B) R C) P D) N

8. Aşağıdaki çokgenlerin hangisinde [KL] bir köşegendir?



9. Bir spor etkinliğinin başlama saati 12.30, bitiş saati 14.45'tir.

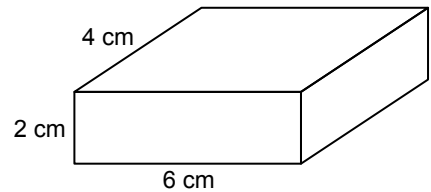
Buna göre, bu spor etkinliği kaç saat kaç dakika sürmüştür?

A) 1 saat 15 dakika
B) 1 saat 45 dakika
C) 2 saat 5 dakika
D) 2 saat 15 dakika

10. Alanı 54 cm^2 ve kenar uzunlukları santimetre cinsinden birer doğal sayı olan bir dikdörtgenin çevre uzunluğu santimetre cinsinden aşağıdakilerden hangisi olamaz?

A) 30 B) 42 C) 56 D) 110

11. Şekildeki dikdörtgenler prizmasının ayrıt uzunlukları 2 cm, 4 cm ve 6 cm'dir.




Buna göre, bu dikdörtgenler prizmasının yüzey alanı kaç santimetrekaredir?

A) 45 B) 60 C) 72 D) 88

1. OTURUM

(552) FEN BİLİMLERİ – 5

1. Siyah kısmın karanlığı, beyaz kısmın aydınlığı temsil ettiği Ay'ın bir evresi görselde verilmiştir.



Ay'ın bu evresi aşağıdakilerden hangisidir?

- A) İlk dördün B) Dolunay
C) Hilâl D) Yeni ay

2. Işığın özellikleriyle ilgili,

- I. Doğrusal yolla yayılır.
II. Düzgün veya dağınık yansıyabilir.
III. Her ortamdan geçebilir.

yargılarından hangileri doğrudur?

- A) Yalnız I B) Yalnız III
C) I ve II D) II ve III

3. Yansıtıcı bir yüzeye gönderilen bir ışık ışını, yüzeyin normali ile 50° açı yaparak yansımaktadır.

Buna göre, bu ışının gelme açısı kaç derecedir?

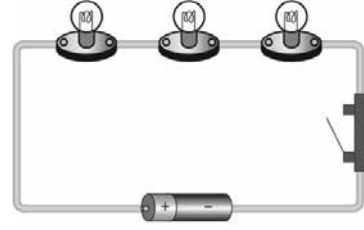
- A) 30 B) 40 C) 50 D) 60

4. Özdeş 10 bölmeden oluşan bir dinamometre en fazla 100 N'lık kuvvet ölçebilmektedir. Bu dinamometreye bir K cismi asıldığında dinamometrenin yayı iki bölme uzamaktadır.

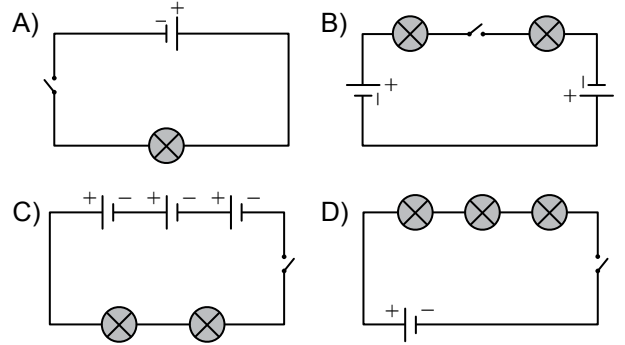
Buna göre, bu K cisminin ağırlığı kaç N'dır?

- A) 20 B) 30 C) 40 D) 50

5. Bir öğrencinin ampul, pil ve anahtar kullanarak kurduğu elektrik devresi şekilde verilmiştir.



Buna göre, öğrencinin kurduğu elektrik devresinin devre şeması aşağıdakilerden hangisidir?



6. Isı ve sıcaklık kavramları ile ilgili bazı bilgiler tablolarda numaralanarak verilmiştir.

ISI	SICAKLIK
1. Kalorimetre kabıyla hesaplanır.	4. Termometre ile ölçülür.
2. Birimi $^\circ\text{C}$ 'tur.	5. Birimi joule veya kalordir.
3. Enerji türüdür.	6. Enerji türü değildir.

Buna göre, tablolardaki bilgilerin yerlerinin doğru olması için numaralanmış bilgilerden hangilerinin yeri birbiriyle değiştirilmelidir?

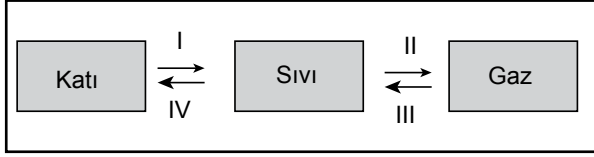
- A) 1-4 B) 2-5 C) 3-6 D) 2-6

7. Aşağıdakilerden hangisi saf maddeler için ayırt edici bir özellik değildir?

- A) Buharlaşma sıcaklığı
B) Erime sıcaklığı
C) Donma sıcaklığı
D) Kaynama sıcaklığı

1. OTURUM

8. Bir maddenin hâl değişimleri şemada numaralanarak gösterilmiştir.



Buna göre, bu hâl değişimleriyle ilgili aşağıdakilerden hangisi doğrudur?

- A) I kırılgılaşmadır.
B) II erimedir.
C) III buharlaşmadır.
D) IV donmadır.

9. Aşağıdakilerden hangisi mikroskopik canlılara örnek değildir?

- A) Bakteri
B) Öglene
C) Örümcek
D) Paramesyum

10. Aşağıdakilerden hangisi çiçekli bir bitkidir?

- A) Eğrelti otu
B) Lale
C) Kibrit otu
D) Kara yosunu

11. Bazı canlılar numaralanarak verilmiştir.

1. Moa	2. Deve	3. Mamut
4. Koyun	5. Dinozor	6. Kutup ayısı

Bu canlılardan hangilerinin nesli tükenmiştir?

- A) 1, 2 ve 5
B) 1, 3 ve 5
C) 2, 4 ve 6
D) 3, 5 ve 6

(633) SOSYAL BİLGİLER – 6

1. Aşağıdakilerden hangisi imece usulüne örnektir?

- A) Bayramlarda küslerin barıştırılması
B) Komşuları rahatsız etmemek için apartman kurallarına uyulması
C) Köylülerin birlikte su kanallarını temizlemesi
D) Öğrencilerin okulda düzenlenen resmî törenlerde görev alması

2. Aşağıdakilerden hangisi okullarda "tarih bilincinin" güçlendirilmesine yönelik faaliyetlerdendir?

- A) Öğrencileri Kurtuluş Savaşı Müzesine götürmek
B) Türkçenin doğru kullanılması için eğitim vermek
C) Türkiye'nin doğal güzelliklerini tanıtan pano hazırlamak
D) Yöresel halk oyunları şenliği düzenlemek

3. Orta Asya'da Türkler, yazın suyun bol olduğu yaylalarda, kışın ise hayvanları için daha elverişli olan kışlaklarda yaşarlardı.

Bu bilgide, Türklerin aşağıdaki özelliklerinden hangisi vurgulanmıştır?

- A) Konargöçer yaşayış biçimini benimsedikleri
B) Ordularında onlu sistemi kullandıkları
C) Kut anlayışına göre yönetildikleri
D) Boylar hâlinde teşkilatlandıkları

4. Tarihte bilinen ilk Türk devleti aşağıdakilerden hangisidir?

- A) Kök Türk
B) Asya Hun
C) Uygur
D) Kutluk

1. OTURUM

5. Türkiye'nin yüksek ve engebeli yerlerinde nüfus azdır.

Aşağıdaki şehirlerden hangisi bu duruma uygun bir örnektir?

- A) Samsun B) Gaziantep
C) Eskişehir D) Ardahan

6. Bilge: "Yaşadığım bölgede kışlar soğuk ve kar yağışlı, yazlar sıcak ve kurak geçer. Bitki örtüsü genel olarak bozkırdır. İklim şartlarına uygun olduğu için arpa üretimi oldukça yaygındır."

Buna göre, Bilge'nin yaşadığı bölgede hâkim olan iklim türü aşağıdakilerden hangisidir?

- A) Kutup B) Karasal
C) Akdeniz D) Çöl

7. Yeni bir buluşun izinsiz kullanılmasını engellemek için ilk olarak yapılması gereken aşağıdakilerden hangisidir?

- A) Telif hakkı ile koruma altına almak
B) Buluşun, kopyalarının üretimine başlamak
C) Resmî kurumlardan patent hakkını almak
D) Üretim ve geliştirme sürecini sonlandırmak

8. "Akkuyu Nükleer Enerji Santrali" aşağıdaki illerden hangisinin sınırları içerisinde?

- A) Mersin B) Giresun
C) Çanakkale D) Sinop

9. Ben bir arkeoloğum. Eski kültür ve uygarlıkların yaşayış biçimlerine ve maddi öğelerine duyduğum merak, beni bu mesleğe yöneltti.

Bu sözleri söyleyen bir kişinin meslek seçiminde etkili olan faktör aşağıdakilerden hangisidir?

- A) Yetenek B) Fiziksel özellik
C) İlgi alanı D) Eğitim

10. "Seçme ve seçilme hakkı"nın yasalarla korunduğu yönetim biçimi aşağıdakilerden hangisidir?

- A) Monarşi B) Teokrasi
C) Oligarşi D) Cumhuriyet

11. Azerbaycan'ın bağımsızlığını tanıyan ilk devlet aşağıdakilerden hangisidir?

- A) Rusya B) Türkiye
C) Gürcistan D) Türkmenistan

1. OTURUM

(634) İNGİLİZCE – 6

1-8. sorularda boş bırakılan yere/yerlere uygun gelen kelime ya da ifadeyi işaretleyiniz.

1. **Ahmet** : What is the - - - -?
Carl : It is 10th April.

- A) time now
- B) date today
- C) weather like in Ankara
- D) temperature this morning

2. **Matt** : Do you want some eggs for breakfast?
Pete : Yummy! I love eggs very much.
Matt : - - - -. I have an egg every morning.

- A) It's all gone
- B) I don't eat it
- C) It's also my favorite
- D) I don't prefer healthy food

3. **After voting was over, the class and the teacher opened the box and - - - -. Alex became the class president.**

- A) counted the votes
- B) explained how to vote
- C) put their votes into the ballot box
- D) prepared an election campaign poster

4. **Today is snowy and very - - - -. The temperature is -20 degrees Celsius.**

- A) sunny
- B) cold
- C) warm
- D) hot

5. **Kevin likes riding a bumper car at the funfair. He thinks they are - - - -.**

- A) boring
- B) dull
- C) horrible
- D) amazing

6. **I am a - - - -. I give advice to people about law and speak for them in court.**

- A) lawyer
- B) manager
- C) salesman
- D) mechanic

7. **Father** : Jerry, turn the tap off! - - - -!
Jerry : OK, dad.

- A) Don't cut down trees
- B) Recycle the batteries
- C) Don't waste water
- D) Use public transportation

8. **Thomas** : Mum, I can't find my magazines. Where are they?
Mum : They are - - - -.

- A) about animals
- B) very interesting
- C) my favourite
- D) on the bookshelf

9-10. sorularda boş bırakılan yere/yerlere görsele göre uygun gelen kelime ya da ifadeyi işaretleyiniz.

9.



They - - - - last weekend.

- A) climbed a tree
- B) played with toys
- C) walked in the forest
- D) watched a film

1. OTURUM

10.



Brad is - - - - at the moment.

- A) walking his dog
- B) painting a picture
- C) cooking a meal
- D) driving the car

11. "21.08.1981" tarihinin gün, ay, yıl olarak yazılışı aşağıdakilerden hangisidir?

- A) Twenty-first September, eighteen ninety-one
- B) Twenty-second August, nineteen eighty-one
- C) Twenty-second September, eighteen ninety-one
- D) Twenty-first August, nineteen eighty-one

(634) ALMANCA – 6

1-4. sorularda boş bırakılan yere/yerlere uygun gelen kelime ya da ifadeyi işaretleyiniz.

1. A: Kannst du mir sagen, - - - - deine Arbeit endet?

B: Ja, um 18 Uhr.

- A) wann
- B) wie
- C) wer
- D) was

2. Unsere Mittagspause - - - - immer um 12:00 Uhr.

- A) müssen
- B) anfangen
- C) können
- D) beginnt

3. In Deutschland können die Schüler nach der Grundschule entweder auf die Hauptschule, auf das Gymnasium - - - - auf die Realschule gehen.

- A) zwar
- B) wird
- C) sondern
- D) oder

4. Ich heiße Timo. Ich komme aus Deutschland. Ich gehe auf ein Gymnasium. Ich bin in der 6. Klasse. Wir haben heute unsere - - - - bekommen. (Karne)

- A) Prüfung
- B) Zeugnisse
- C) Noten
- D) Unterricht

5. Was gehört nicht zum Naturschutz?

- A) Bäume pflanzen
- B) Wasserschutz
- C) giftige Abgase
- D) Mülltrennung

6. "Konflikt" sözcüğünün Türkçe karşılığı aşağıdakilerden hangisidir?

- A) Anlaşma
- B) Çatışma
- C) Konuşma
- D) İletişim

7. Welches Adjektiv beschreibt das Haar?

- A) groß
- B) sportlich
- C) lockig
- D) breit

1. OTURUM

8. Aşağıdakilerden hangisinde birleşik isim doğru oluşturulmuştur?

- A) die Woche + das Ende = das Wochenende
- B) die Farbe + das Bild = das Bildfarbe
- C) die Öffnung + die Zeit = die Zeitöffnung
- D) der Film + das Plakat = der Plakatfilm

9. Was gehört zu unserer natürlichen Umwelt?

- A) Die Straßen
- B) Die Brücken
- C) Die Luft
- D) Die Einkaufszentren

10. Welches ist kein Beruf?

- A) die Apotheke
- B) der Gärtner
- C) die Richter
- D) der Busfahrer


11. Aşağıdaki sözcüklerden hangisi çoğuldur? (Plural)

- A) die Schule
- B) die Lineale
- C) die Mappe
- D) die Klasse

(634) FRANSIZCA – 6

1 - 9. sorularda boş bırakılan yere/yerlere uygun gelen kelime ya da ifadeyi işaretleyiniz.

1.



Après l'école, - - - -.

- A) je joue au foot et je regarde la télé
- B) je fais une sieste et je fais des courses
- C) je regarde la télé et je joue aux échecs
- D) je me repose et je fais mes devoirs

2.



Est-ce que tu veux - - - - ?

- A) manger du fromage
- B) boire du thé
- C) boire du lait
- D) manger des crêpes

3.



Paris



Lille



Bordeaux



Nice

Paul : Est-ce qu'il fait froid à Bordeaux ?

Henri : Non, - - - -.

- A) il fait nuageux
- B) il neige
- C) il fait pluvieux
- D) il fait chaud

4. Pierre : Je vais à Istanbul.

Marc : - - - - ?

Pierre : Parce que je vais visiter ma grand-mère.

- A) Pourquoi
- B) Quelle
- C) Qui
- D) Que

5. Est-ce qu'elle - - - - au cinéma hier soir ?

- A) est allée
- B) es allé
- C) es allée
- D) est allé

1. OTURUM

6. Pour protéger notre planète, il faut - - - - les déchets et économiser l'énergie.

- A) trier B) polluer
C) jeter D) gaspiller

7. Ayşe : Ta fille, que fait-elle après l'école ?

Céline : Ma fille ? Eh bien, - - - -.

Ayşe : Bravo ! Elle est travailleuse, hein.

- A) elle part en vacances avec ses amis
B) elle va toujours à l'école, mais à pied
C) elle va à la bibliothèque bien sûr
D) elle ne fait rien à la maison

8. - - - - donne des devoirs à ses élèves.

- A) Le fonctionnaire
B) Le directeur
C) L'ingénieur
D) Le professeur

9. Hier, il - - - - la télé.

- A) a rencontré
B) allez
C) as dansé
D) a regardé

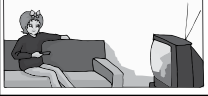








10.

I	II	III	IV	V
allons	fleurs	des	Nous	ramasser

Numaralanmış kelimelerden anlamlı bir cümle oluşturulduğunda aşağıdaki sıralamalardan hangisi doğrudur?

- A) IV-V-II-I-III B) IV-I-V-III-II
C) IV-I-II-III-V D) I-II-III-V-IV

11.

			
Léa			
Timéo			

Bu tabloya göre, aşağıdakilerden hangisi doğrudur?

- A) Léa n'aime pas dessiner.
B) Timéo aime regarder la télé.
C) Léa et Timéo aiment dessiner.
D) Timéo n'aime pas faire du vélo.

(635) DİN KÜL. VE AHLAK BİLGİSİ – 6

1. I. Hidayet
II. Risalet
III. Namaz
IV. Salat
V. Nübüvvet

Numaralanmış kavramlardan eş anlamlılar bir-biriyle eşleştirildiğinde hangisi dışta kalır?

- A) I B) II C) III D) IV

2. Allah, ayetlerini insanlara bildirip açıklayan ve yaşayışıyla örnek olan insanlar görevlendirmiştir.

Bu cümlede bahsedilenler aşağıdakilerden hangisidir?

- A) Âlimler B) Sahabeler
C) Salihler D) Peygamberler

3. Arap toplumunun İslam öncesi yaşadığı dönemde "cahiliye" denilmesinin sebepleri arasında aşağıdakilerden hangisi yer almaz?

- A) Kabile asabiyeti gütmeleri
B) Kız çocuklarını değersiz görmeleri
C) Şiir ve edebiyata önem vermeleri
D) Temel insan haklarından uzak olmaları

1. OTURUM

4. • Bir işi yerli yerinde yapma ve dinî hükümleri anlama yeteneğidir.
• Saflık, temizlik, masumluk demektir.
• Allah'ın kesin olarak yasakladığı eylemlerdir.

Bu tanımlarda aşağıdaki kavramların hangisine yer verilmemiştir?

- A) Haram
B) Helal
C) Hikmet
D) Safiyet

5. "Nasr suresi" ile ilgili aşağıdakilerden hangisi yanlıştır?

- A) Müslümanlar hamd ve istiğfara davet edilmektedir.
B) Allah'ın inananlara olan yardımından bahsedilmektedir.
C) Bedir Savaşı'nın kazanılması üzerine nazil olmuştur.
D) Üç ayetten oluşmaktadır.

6. "Din, vatan, bayrak gibi kutsal değerler uğrunda canını feda eden kişiye" verilen ad aşağıdakilerden hangisidir?

- A) Veli
B) Sıddık
C) Gazi
D) Şehit

7. Bastığın yerleri toprak diyerek geçme, tanı:
Düşün altındaki binlerce kefensiz yatanı.
Sen şehit oğlusun, incitme, yazıktır, atanı:
Verme, dünyaları alsan da bu cennet vatanı.

Bu dördlükte asıl anlatılmak istenen aşağıdakilerden hangisidir?

- A) Yurdun kutsallığı
B) Şehitliğin önemi
C) Atalara saygı
D) Millî irade

8. • Allah'ın izniyle gerçekleşir.
• İnsanların benzerini yapamadığı olağanüstü olaylardır.
• Peygamberliğin Allah tarafından desteklenmesi amacını taşır.

Bu bilgilerin tamamı aşağıdaki kavramlardan hangisine aittir?

- A) İffet
B) Mucize
C) Hidayet
D) İsmet

9. Cemaatle kılınan namaz, insanlar arasındaki birlik ve beraberliği güçlendirir. Birlikte eda edilen namaz sayesinde insanlar, sıkıntılarını ve sevinçlerini paylaşma imkânı bulur. Böylece dostluk ve kardeşlik bağları kuvvetlenir.

Bu metinde "namaz" ile ilgili aşağıdakilerden hangisi vurgulanmaktadır?

- A) Her Müslüman'ın yerine getirmesi gerektiği
B) Toplumsal dayanışmayı artırdığı
C) Allah ile olan bağı güçlendirdiği
D) Vakitli bir ibadet olduğu

10. "Zararlı alışkanlıklara başlamada çevrenin etkisi" aşağıdaki atasözlerinden hangisiyle ilişkilendirilebilir?

- A) İşleyen demir ısıldar.
B) Huylu huyundan vazgeçmez.
C) Üzüm üzüme baka baka kararır.
D) Taşıma su ile değirmen dönmez.

11. Ne dersiniz gençler buna
Yol giderim kona kona
Sanki esir olduk ona
Harap etti tütün beni

Ben bunu böyle sanmazdım
Bileydim ele kanmazdım
Babam derdi inanmazdım
Harap etti tütün beni

Bu şiirde sigara ile ilgili aşağıdakilerden hangisine değinilmemiştir?

- A) Bağımlılığa yol açtığına
B) İnsana zarar verdiğine
C) Tedavisinin pahalı olduğuna
D) Başlamada çevrenin etkisine

1. OTURUM

(730) TÜRKÇE – 7

1. Aşağıdaki cümlelerin hangisinde terim anlamlı bir sözcük kullanılmıştır?

- A) Oyunun ikinci sahnesi biraz sıkıcıydı.
- B) Arkadaş çevresi erdemli kişilerden oluşuyor.
- C) Okula düzenli olarak yardımda bulunuyordu.
- D) Bilginin önemini şimdi daha iyi anlıyorum.

2. Aşağıdaki cümlelerin hangisinde “birisinin kendisine yardımcı olacağına inanmak, güvenmek” anlamına gelen bir deyim kullanılmıştır?

- A) Duvara dayanan yaşlı adama tabureye oturması için el verdim.
- B) Hasat için her yıl kardeşlerine bel bağlıyordu.
- C) Ben yediğim lokmada kimsenin gözü kalsın istemem.
- D) Katıldığı tüm müsabakaları bileğinin hakkıyla kazandı.

3. (1) Doğa fotoğrafçısı arkadaşım ile ormana yürüyüşe gittik. (2) Yürürken karşımıza üç tane kedi yavrusu çıktı. (3) Sevimli kediler bizi görünce hemen miyavlamaya başladı. (4) Yavaşça yanlarına yaklaşıp fotoğraflarını çekmeye başladık.

Bu parçadaki numaralanmış cümlelerin hangisinde duygu içeren bir ifade vardır?

- A) 1 B) 2 C) 3 D) 4

4. (1) Serbest dalışta sıkça karşılaşılan tehlikelerden biri sığ su bayılmalarıdır. (2) Bu durumdan kaçınmak bazı basit tedbirlerle mümkündür. (3) Bu tedbirlerden biri dalış yapan sporcunun yanında mutlaka deneyimli birinin bulunmasıdır. (4) Türkiye Sualtı Sporları Federasyonu su altı spor kültürünü yaymayı ve benimsetmeyi amaçlamaktadır. (5) Diğeriyse sporcunun dalış öncesinde hızlı nefes alıp vermekten kaçınmasıdır.

Bu parçadaki numaralanmış cümlelerden hangisi düşüncenin akışını bozmaktadır?

- A) 2 B) 3 C) 4 D) 5

5. Dünyaca tanınan ve hakkındaki bilgilerin çoğunu ünlü eseri Seyahatname’sinden edinebildiğimiz seyyah Evliya Çelebi, 25 Mart 1611’de İstanbul’un Unkapanı semtinde doğmuştur. Gezdiği yerlerde gördüklerini “Seyahatname” adlı 10 ciltlik eserinde toplamıştır. Bu eser, tarihî ve coğrafi bilgiler vermesi, özellikle dönemin toplumsal yapısını yansıtmaması bakımından son derece önemlidir. Hayatının son yıllarında hacca giden Evliya Çelebi’nin nerede öldüğü kesin olarak bilinmemektedir.

Bu parça aşağıdaki metin türlerinden hangisine örnektir?

- A) Söyleşi B) Günlük
- C) Otobiyografi D) Biyografi

**6. Masamda düşünen eski lambayı
Yakmayın, odamız karanlık dursun.
Gecenin ufkundan yükselen ayı
Görelim, perdemiz üstüne vursun.**

Bu dördlükte kişileştirilen varlık aşağıdakilerden hangisidir?

- A) Masa B) Lamba
- C) Gece D) Perde

7. Aşağıdaki cümlelerin hangisinde yazım yanlışı yoktur?

- A) Maraş dondurması ihracatı son on yılın en yüksek seviyesindedir.
- B) 29 ekim tarihi ulusumuz için büyük öneme sahiptir.
- C) Ulusal Egemenlik ve Çocuk bayramı tüm yurttta coşkuyla kutlandı.
- D) Sekili Köyü bu yıl da göç verdi.

1. OTURUM

8. Peygamber çiçekleri mavimsi, mor, sarı veya pembe çiçekli bitkilerdir.
Bu cümledeki virgülün görevi aşağıdakilerden hangisidir?

- A) Anlama güç kazandırmak için tekrarlanan sözcüklerin arasında kullanılır.
B) Hitap için kullanılan sözcüklerden sonra konur.
C) Konuşma çizgisinden önce konur.
D) Birbiri ardınca sıralanan eş görevli sözcük ve sözcük gruplarının arasında kullanılır.

9. Aşağıdaki cümlelerin hangisinde durum zarfı kullanılmıştır?

- A) Akşam yemeğini sahil kenarındaki bir restoranda yiyeceğiz.
B) Yeni komşular alt kata iki gün önce taşındı.
C) Süre dolmadan soruları hızlı hızlı çözdü.
D) En güzel proje ödevleri cuma günü ödüllendirildi.

10. Mayıs güneşinde hasta vücudu bir türlü ısınmıyordu.

Bu cümledeki altı çizili sözcükte aşağıdakilerden hangisi yoktur?

- A) Olumsuzluk eki
B) Şimdiki zaman eki
C) Ek fiil
D) 3. çoğul şahıs eki

11. Aşağıdaki cümlelerin hangisinde birleşik zamanlı fiil kullanılmıştır?

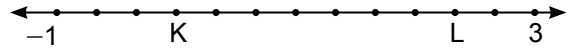
- A) Gözlerinin derinlikleri sonsuz, nemli bir ateşle parlarmış.
B) Değirmenin bahçesine girmeye cesaret edemedi.
C) Diş ağrısı sabaha karşı diner gibi olmuş.
D) Omzunda atkısı ile kırık bir sandalyede sessizce bekliyor.

(731) MATEMATİK – 7

1. Toplama işlemine göre tersi +7 olan sayı, hangi sayı ile toplandığında sonuç en büyük negatif tam sayı olur?

- A) -8 B) -6 C) 6 D) 8

2. Şekildeki sayı doğrusu eşit aralıklara bölünmüştür.



Buna göre, bu sayı doğrusu üzerindeki K ve L noktalarına karşılık gelen sayılar aşağıdakilerden hangisidir?

	K	L
A)	$-\frac{1}{3}$	$2\frac{1}{4}$
B)	0	$2\frac{1}{4}$
C)	$-\frac{1}{3}$	$2\frac{1}{3}$
D)	0	$2\frac{1}{3}$

3. Bir kutudaki 60 tane kalemin $\frac{3}{4}$ 'ünü Efe, geri kalanını ise Aslı almıştır.

Buna göre, Aslı kaç tane kalem almıştır?

- A) 45 B) 20 C) 15 D) 5

4. $\frac{x}{y} = \frac{3}{7}$ orantısında $y = 28$ iken x kaçtır?

- A) 9 B) 12 C) 21 D) 24

5. 8 sayısı 20'nin yüzde kaçıdır?

- A) 5 B) 10 C) 20 D) 40

1. OTURUM

6. $(5x + 4) - (2x - 8)$ işleminin sonucu aşağıdakilerden hangisine eşittir?

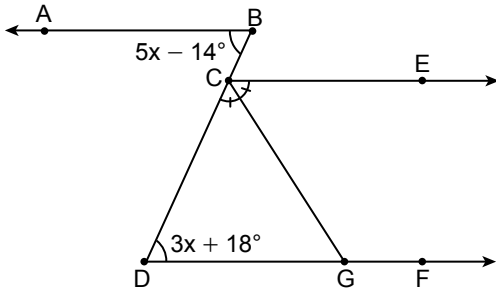
A) $3x + 12$ B) $3x + 4$
C) $3x - 4$ D) $3x - 12$

7. Bir bahçedeki erik ağaçlarının sayısı, kayısı ağaçlarının sayısının 2 katından 35 fazladır.

Bu bahçede 125 tane erik ağacı olduğuna göre, kaç tane kayısı ağacı vardır?

A) 40 B) 45 C) 50 D) 55

8.

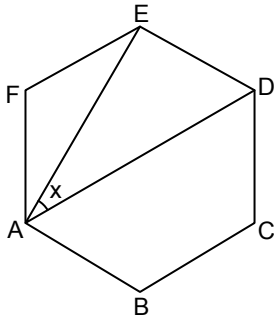


Şekilde $[BA \parallel [CE \parallel [DF; [CG]$, \widehat{ECD} 'nin açıortayı ve $m(\widehat{BDF}) = 3x + 18^\circ$, $m(\widehat{ABD}) = 5x - 14^\circ$ dir.

Buna göre, $m(\widehat{CGD})$ kaç derecedir?

A) 78 B) 66 C) 62 D) 57

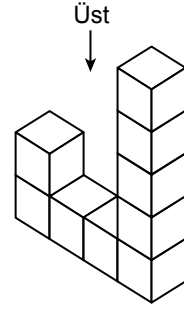
9.




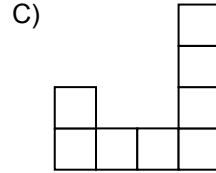
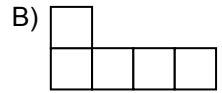
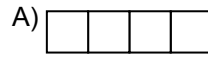
Şekildeki ABCDEF düzgün altıgeninde x kaç derecedir?

A) 15 B) 30 C) 45 D) 60

10. Şekildeki yapı 9 eş küpten oluşturulmuştur.

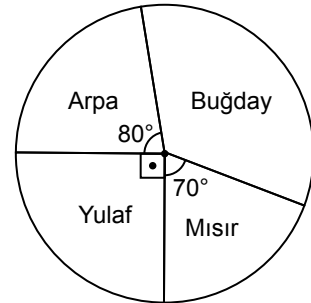


Buna göre, aşağıdakilerden hangisi bu yapının üstten görünümüdür?



11. Bir çiftçinin bir yılda yetiştirdiği ürünlerin miktarına göre dağılımına ait daire grafiği aşağıda verilmiştir.

Grafik: Ürünlerin Miktarına Göre Dağılımı



Bu çiftçinin bir yılda yetiştirdiği buğday miktarı 150 kg olduğuna göre, bir yılda yetiştirdiği arpa miktarı kaç kilogramdır?

A) 100 B) 110 C) 120 D) 130

1. OTURUM

(732) FEN BİLİMLERİ – 7

1. Aşağıdakilerden hangisi bir galaksi çeşidi değildir?

- A) Eliptik B) Kara delik
C) Çubuklu sarmal D) Düzensiz

2. Ampermetre ile ilgili,

- I. Devreye seri bağlanır.
II. Devre sembolü "V" dir.
III. Akım şiddetini ölçer.

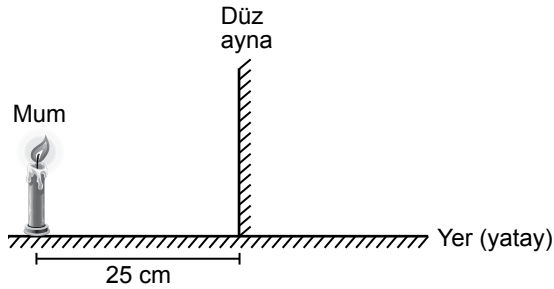
yargılarından hangileri doğrudur?

- A) Yalnız I B) Yalnız II
C) I ve III D) II ve III

3. Bir cismin çukur aynada oluşabilecek görüntüsüyle ilgili aşağıdakilerden hangisi yanlıştır?

- A) Ters ve cisimden daha küçük olabilir.
B) Ters ve cismin boyu ile aynı olabilir.
C) Düz ve cisimden daha büyük olabilir.
D) Düz ve cisimden daha küçük olabilir.

4. Bir mum düz aynadan 25 cm uzaklığa şekildeki gibi yerleştirilmiştir.



Buna göre, bu mumun düz aynadaki görüntüsü ile ayna arasındaki uzaklık kaç cm'dir?

- A) 25 B) 50 C) 75 D) 100

5. Aşağıdaki maddelerden hangisi geri dönüştürülemez?

- A) Cam şişeler B) Metal kutular
C) Yakacak atıkları D) Kâğıt kutular

6. Gübre endüstrisinde kullanılan ve halk arasında kezzap olarak bilinen bileşiğin formülü aşağıdakilerden hangisidir?

- A) HNO_3 B) NH_3
C) NaCl D) HCl

7. Aşağıdaki karışımlardan hangisi damıtma yöntemiyle birbirinden ayrılır?

- A) Zeytinyağı - su
B) Alkol - su
C) Demir tozu - tebeşir tozu
D) Kum - talaş

8. Bir maddeye ait özellikler şu şekildedir:

- Saf maddedir.
- İki farklı element atomu içerir.
- Formülle gösterilir.

Buna göre, bu madde aşağıdakilerden hangisi olabilir?

- A) Cıva B) Alüminyum
C) Su D) Toprak

9. Hücrede bulunan bir yapıya ait özellikler şu şekildedir:

- Hücredeki atık maddeleri depolar.
- Bitki hücrelerinde büyük ve az sayıda, hayvan hücrelerinde ise küçük ve çok sayıdadır.

Buna göre, bu yapı aşağıdakilerden hangisidir?

- A) Lizozom B) Ribozom
C) Mitokondri D) Koful

10. Aşağıdaki canlılardan hangisi başkalaşım geçirmez?

- A) Kurbağa B) İpek böceği
C) Kelebek D) Hamsi

11. İnsanda bebeğin oluşumu sırasında aşağıdaki evrelerden hangisi en son oluşur?

- A) Fetüs B) Zigot
C) Döllenme D) Embriyo

1. OTURUM

(834) T.C. İNKILAP TARİHİ VE ATATÜRKÇÜLÜK – 8

1. Mustafa Kemal'in doğduğu dönemde, Selanik şehrinde yaşayan halkın Türkçe, İbranice ve Bulgarca yayımlanan resmî gazete dışında Avrupa'da çeşitli dillerde yayımlanan gazete ve dergileri de bulma imkânı vardı.

Bu bilgede, Selanik ile ilgili aşağıdakilerin hangisinden söz edilmiştir?

- A) Sanatsal faaliyetlerinden
B) Ekonomik zenginliğinden
C) Basın-yayın hayatından
D) Ulaşım ağının gelişmişliğinden

2. Avrupa devletleri Sanayi İnkılabı sonucunda artan ham madde ihtiyacını ucuz yollardan karşılayabilmek için sanayisi gelişmemiş ülkelerin kaynaklarını ele geçirmeye yönelik faaliyetler yürüttüler. Avrupalılar buralardan ucuza elde ettikleri ham maddeleri fabrikalarında işledikten sonra yine aynı ülkelere yüksek fiyatlarla sattılar.

Avrupa devletlerinin bu faaliyetleri, aşağıdaki kavramlardan hangisine örnektir?

- A) Sömürgecilik
B) Ulusçuluk
C) Hümanizm
D) Demokrasi

3. "Manda ve himaye kabul edilemez." kararının ilk kez alındığı kongre aşağıdakilerden hangisidir?

- A) Alaşehir
B) Balıkesir
C) Erzurum
D) Sivas

4. Türkiye Büyük Millet Meclisi, millet egemenliği ilkesini esas alan ve millet iradesine dayanan yönetim anlayışını benimsemiştir.

Bu bilgede, Türkiye Büyük Millet Meclisinin aşağıdaki özelliklerinden hangisi vurgulanmıştır?

- A) Kurucu meclis
B) Olağanüstü meclis
C) Savaş meclisi
D) Demokratik meclis

5. 1921 yılında toplanan Londra Konferansı'nda Büyük Millet Meclisini temsil eden devlet adamı aşağıdakilerden hangisidir?

- A) Tevfik Paşa
B) Bekir Sami Bey
C) Hamdullah Suphi Bey
D) İsmet Paşa

6. Millî Mücadele'nin devam ettiği sırada, Ankara'da toplanan Maarif Kongresi'nde aşağıdaki alanlardan hangisi ile ilgili kararlar alınmıştır?

- A) Eğitim
B) İktisat
C) Sağlık
D) Ulaşım

7. Gelir düzeyi ne olursa olsun eğitim imkânlarından herkesin eşit şekilde yararlanması, aşağıdaki Atatürk ilkelerinden hangisinin uygulanmasına yöneliktir?

- A) Cumhuriyetçilik
B) Laiklik
C) Devletçilik
D) Halkçılık

8. Cumhuriyet döneminde, Batılı devletlerle ticari ilişkileri kolaylaştırmak amacıyla yapılan inkılap aşağıdakilerden hangisidir?

- A) Aşar vergisinin kaldırılması
B) Millet mekteplerinin açılması
C) Kılık ve kıyafette düzenleme yapılması
D) Takvim, saat ve ölçülerin değiştirilmesi

9. Atatürk'ün ölümünden sonra Türkiye'de kurulan ilk siyasi oluşum aşağıdakilerden hangisidir?

- A) Demokrat Parti
B) Millî Kalkınma Partisi
C) Serbest Cumhuriyet Fırkası
D) Terakkiperver Cumhuriyet Fırkası

1. OTURUM

10. Atatürk'ün "Ben harpçi olamam. Çünkü harbin acıklı hâllerini en iyi ben bilirim." sözü Türk dış politikasının temel ilke ve amaçlarından hangisi ile doğrudan ilişkilendirilebilir?

- A) Akılcılık
- B) Mütekabiliyet
- C) Barışçılık
- D) Tam bağımsızlık

11. İkinci Dünya Savaşı'nda Japonya'ya atom bombası atan ülke aşağıdakilerden hangisidir?

- A) ABD
- B) Fransa
- C) İngiltere
- D) SSCB

(835) İNGİLİZCE – 8

1-8. sorularda boş bırakılan yere/yerlere uygun gelen kelime ya da ifadeyi işaretleyiniz.

1. Julia : Would you like to come over for dinner tomorrow evening?

Nancy : - - - -.

Julia : Great! See you at 7 p.m.

- A) I'd love to but I have an appointment
- B) I'm busy, I have an English course
- C) Sorry, my uncle is coming tomorrow
- D) Why not? I like your meals

2. Daisy : What are your predictions for the future of the world?

Carol : I think soil contamination - - - - a great problem in the future.

- A) is
- B) was
- C) will be
- D) has been

3. Jenny : - - - -?

Carol : 5 lemons, 2 glasses of water and 2 glasses of sugar or honey.

Jenny : OK. Thank you.

- A) What are the ingredients of lemonade
- B) How does the lemonade taste
- C) What is your favorite drink
- D) How often do you make lemonade

4. I must - - - - the floors twice a week because it's my responsibility at home.

- A) cook
- B) vacuum
- C) throw
- D) iron

5. Kevin : For what purposes do you use the Internet?

Jeremy : I - - - -.

- A) go online 3-4 hours a day
- B) should spend less time on the computer
- C) do my homework and learn English
- D) respect netiquette rules

6. Aziz Sancar is a Turkish academician, biochemist, molecular biologist and scientist. He did researches on cancer and - - - - the Nobel Prize in 2015.

- A) invented
- B) won
- C) found
- D) noticed

7. Simon : - - - -?

Peter : In my opinion, India is a charming country with lots of tourist attractions and historical places.

- A) Who did you go to India with
- B) When did you go to India
- C) Where did you stay in India
- D) What do you think about India

1. OTURUM

8. Sarah never listens to jazz music because she thinks it is - - - -.

A) unbearable
B) impressive
C) relaxing
D) exciting

9. Clerk : Hello. I am Jack from Pizza Cube.

Emma : Hello. I am calling to book a table for tonight.

Clerk : Sorry, there isn't any available table for tonight.

Emma : Thank you. Have a great day. Bye.

Bu telefon görüşmesinde aşağıdakilerden hangisi ile ilgili bir ifade yoktur?

A) Answering the phone
B) Finishing a call
C) Asking to talk to someone else
D) Giving information

10. iFly is just like a real skydive but it is done without the plane. It's done indoors. There's no parachute, no jumping. It is safer than skydiving. It's challenging for adults and exciting for teens.

Buna göre, aşağıdakilerden hangisi söylenemez?

A) Skydiving is less dangerous than iFly.
B) You don't use a parachute.
C) Teenagers enjoy iFly.
D) iFly is similar to a real skydive.

11.

To-do List	
Tom	Doing the laundry, going to the supermarket
Jack	Cooking, loading the dishwasher

Buna göre, aşağıdaki cümlelerden hangisi yanlıştır?

A) Jack is in charge of preparing the food.
B) Tom is responsible for washing the clothes.
C) Tom is in charge of doing shopping.
D) Jack is responsible for setting the table.

(835) ALMANCA – 8

1-5. sorularda boş bırakılan yere/yerlere uygun gelen kelime ya da ifadeyi işaretleyiniz.

1. Es gibt verschiedene - - - - in Deutschland. Zum Beispiel Hauptschulen, Realschulen, Berufsschulen und Gymnasien.

A) Schule
B) Schultypen
C) Schulbus
D) Schulweg

2. A: Findest du, dass Noten in der Schule wichtig sind?

B: Nein, ich - - - -, dass Noten - - - - wichtig sind.

A) findest / ist
B) finden / sein
C) finde / nicht
D) findet / hat

3. Der Märtyrerturm - - - - ein Symbol in Çanakkale.

A) sein
B) hat
C) sieht
D) ist

4. Der Galataturm ist eine - - - - in Istanbul.

A) Yachthafen
B) Sehenswürdigkeit
C) Uhrturm
D) Wasserfall

5. Wenn ich Probleme mit meiner Mutter - - - -, würde ich mit meinem Vater darüber sprechen. Denn er gibt mir immer Ratschläge.

A) hätte
B) hast
C) haben
D) habt

6. Welches ist ein besonderer Tag?

A) Sommerferien
B) Wochenende
C) Mittag
D) Hochzeit

1. OTURUM

7. Welches ist am kleinsten?

- A) Die Kleinstadt B) Das Dorf
C) Die Großstadt D) Das Land

8. Welches ist kein Getränk?

- A) Milch B) Wasser
C) Kichererbsen D) heiße Schokolade

9. In welcher Jahreszeit ist der Monat Oktober?

- A) Sommer B) Frühling
C) Winter D) Herbst

10. Ohne mein Handy kann ich nicht mehr leben. Ich will immer erreichbar sein.

Bu cümleler, aşağıdakilerin hangisinde "weil" bağlacı ile doğru birleştirilmiştir?

- A) Ich will immer erreichbar sein, weil ohne mein Handy kann ich nicht mehr leben.
B) Ohne mein Handy kann ich nicht mehr leben, weil ich will immer erreichbar sein.
C) Ohne mein Handy kann ich nicht mehr leben, weil ich immer erreichbar sein will.
D) Weil ich immer erreichbar sein will, ohne mein Handy kann ich nicht mehr leben.

11. Ich bin Thomas, bin 30 Jahre alt und arbeite in einer Klinik als Krankenpfleger. Ich fange um 09:00 Uhr mit der Arbeit an und arbeite bis 18:00 Uhr abends. Alle drei Stunden müssen wir die Patienten kontrollieren. Während der Arbeit haben wir eine Stunde Pause. Nach der Arbeit bin ich immer sehr müde. Trotzdem liebe ich meinen Beruf sehr.

Was ist richtig?

- A) Er arbeitet von morgens bis abends.
B) Er studiert Medizin.
C) Er arbeitet nur nachts.
D) Er liebt seinen Beruf nicht.

(835) FRANSIZCA – 8

1 - 8. sorularda boş bırakılan yere/yerlere uygun gelen kelime ya da ifadeyi işaretleyiniz.

1. Céline : Qu'est-ce qu'on fait mardi ?

Antonie : Ça te dit d'aller au théâtre ?

Céline : Oui, - - - -.

- A) ça me va
B) ça ne vas pas
C) je ne peux pas
D) malheusement

2. Mon frère n'avait - - - - mangé de salade quand il était petit.

- A) souvent
B) jamais
C) toujours
D) de temps en temps

3. Elles - - - - un nouveau dossier, et elles les - - - -.

- A) ferment / écrit
B) regarde / cherchent
C) passent / pousse
D) créent / cachent

4. Quand ma sœur était petite, elle - - - - à la corde.

- A) allais B) marchais
C) sautait D) visitait

5. Pour ne pas être en retard, - - - -.

- A) il faut rouler lentement
B) nous devons se coucher tard
C) il faut aller plus vite
D) il faut manger beaucoup

1. OTURUM

6. En 1879, Louis Pasteur - - - le principe du vaccin.

- A) découvre B) gagne
C) cherchent D) trouves

7. En cas d'un incendie, Vous devez rester calme, quitter la salle - - - .


- A) tremblement
B) rapidement
C) glissement
D) établissement

8. **Alain** : Au fait, il y a des petits travaux chez moi. - - - Est-ce que je peux venir rester chez toi aujourd'hui,

Bruno : Bien sûr que oui. Ça ne me dérange pas.

- A) Il n'y a pas d'eau dans la salle de bain.
B) On peut travailler sur le projet ?
C) J'ai très faim et je suis très fatigué.
D) On se retrouve à la maison.

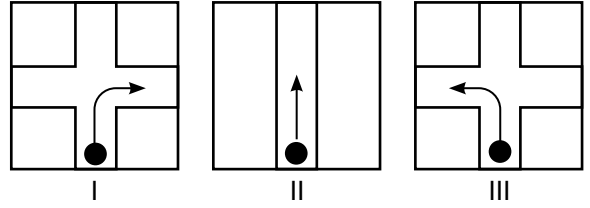
9.



Bu görsele göre, aşağıdakilerden hangisi doğrudur?

- A) J'adore aller au cinéma le weekend.
B) J'aime faire de l'équitation.
C) J'aime jouer au tennis.
D) Je préfère jouer à l'ordinateur.

10. Bir yol tarifine ait görseller sırasıyla verilmiştir.



Buna göre, aşağıdakilerden hangisi doğrudur?

- A) Allez tout droit, prenez la deuxième rue à droite, traversez la rue.
B) Tournez à droite, prenez la rue à gauche, traversez la rue.
C) Prenez la deuxième rue à gauche, allez tout droit, traversez la rue.
D) Tournez à droite, allez tout droit et prenez la première rue a gauche.

11.

L'ordinateur	Le clavier
	L'imprimante
	I
	II

Numaralanmış yerlere sırasıyla gelmesi gereken ifadeler aşağıdakilerden hangisidir?

- | | I | II |
|----|--------------|-----------------|
| A) | Le réseau | La souris |
| B) | La souris | L'écran |
| C) | L'écran | Le cyber copain |
| D) | La connexion | La souris |

1. OTURUM

(836) DİN KÜL. VE AHLAK BİLGİSİ – 8

1. Şartlar oluştuğunda Allah'ın takdirinin gerçekleşmesidir.

Bu tanım aşağıdakilerden hangisine aittir?

- A) Kader
B) Kaza
C) Emek
D) Tevekkül

2. "... Yiyin, için fakat israf etmeyin. Çünkü Allah israf edenleri sevmez."

(Araf suresi, 31. ayet)

Bu ayet aşağıdakilerden hangisiyle doğrudan ilgilidir?

- A) Aklın korunması
B) Neslin korunması
C) Canın korunması
D) Malın korunması

3. "Ağılda oğlak doğsa ovada otu biter." atasözüyle vurgulanmak istenen kavram aşağıdakilerden hangisidir?

- A) Rızık
B) Emek
C) Başarı
D) Ömür

4. I. Arapça indirilmiştir.

II. Fatiha suresi ile başlar, Nâs suresi ile sona erer.

III. Hz. Muhammed'e (sav) bir kerede vahyedilmiştir.

Kur'an-ı Kerim ile ilgili bu bilgiler doğru (D) veya yanlış (Y) olarak değerlendirildiğinde sıralama aşağıdakilerden hangisidir?

	I	II	III
A)	D	Y	Y
B)	D	D	Y
C)	Y	D	Y
D)	Y	D	D

5. "Allah'a ibadet edin ve ona hiçbir şeyi ortak koşmayın. Ana babaya, akrabaya, yetimlere, yoksullara, yakın komşuya, uzak komşuya, yanınızdaki arkadaşına, yolcuya, elinizin altındakilere iyilik edin. Şüphesiz, Allah kibirlenen ve övünen kimseleri sevmez."

(Nisa suresi, 36. ayet)

Bu ayet, Kur'an'ın aşağıdaki konularından hangisi ile ilişkilendirilemez?

- A) İnanç
B) Ahlak
C) Kıssalar
D) Sosyal hayat

6. • Kapsamlı bir yardım şeklidir.
• Miktar ve zaman sınırlaması yoktur.
• Bazı güzel davranışlar da bu ibadetin içinde değerlendirilir.

Bu açıklamaların tamamı aşağıdaki ibadetlerden hangisiyle ilgilidir?

- A) Zekât
B) Fitre
C) Fidyeye
D) Sadaka

1. OTURUM

7. “Onlar, müminlere ‘İnsanlar size karşı ordu toplamışlar, onlardan korkun!’ dediklerinde, bu söz onların imanını artırdı ve ‘Allah bize yeter. O, ne güzel vekildir!’ dediler.”

(Al-i İmran suresi, 173. ayet)

Bu ayette aşağıdakilerden hangisi vurgulanmaktadır?

- A) Rızık
B) Külli İrade
C) Cüzi İrade
D) Tevekkül

8. Ebu Talha, Hz. Muhammed’e (sav): “Benim en sevdiğim malım bu bahçedir. Burasını Allah rızası için bağışlamak istiyorum.” dedi. Bunun üzerine Hz. Muhammed (sav): “Bu çok kıymetli ve kâr getirici bir maldır. Onu yakınlarına sadaka olarak vermeni uygun buluyorum.” dedi. Ebu Talha da hurmalığını yoksul akrabaları arasında paylaştırdı.

Bu hadisten “sadaka ibadeti” ile ilgili aşağıdaki ilkelerden hangisine ulaşamaz?

- A) Gizliliğe dikkat etmek
B) Kaliteli ürünlerden vermek
C) Yakınları gözetmek
D) İhlaslı olmak

9. I. Allah ona rüya yorumlamayı öğretmiştir.
II. Mescid-i Aksa’yı inşa etmiştir.
III. Ailesinden uzun yıllar ayrı kalmıştır.
IV. Allah onu ve inananları gemi ile kurtarmıştır.
Numaralanmış bilgilerden hangileri Hz. Yusuf ile ilgilidir?

- A) I ve II
B) I ve III
C) II ve IV
D) III ve IV

10. - - - - suresinde Allah’ın Mekkelilere lütfettiği imkânlar hatırlatılmakta ve bunun karşılığında onlardan Allah’a kulluk etmeleri istenmektedir.

Bu metinde boş bırakılan yere aşağıdakilerden hangisi getirilmelidir?

- A) Asr
B) Kevser
C) Maun
D) Kureyş

11. “Sadakayıcıriye” ile ilgili aşağıdakilerden hangisi doğrudur?

- A) Nisabı aşan miktardan ödenir.
B) Oruç tutamayanlar tarafından verilir.
C) Vefatından sonra da kişiye sevap kazandırır.
D) Ramazan Bayramı’ndan önce yerine getirilmelidir.

ÖLÇME, DEĞERLENDİRME VE SINAV HİZMETLERİ GENEL MÜDÜRLÜĞÜ

TEST BİTTİ.

CEVAPLARINIZI KONTROL EDİNİZ.

CEVAP KÂĞIDI VE SORU KİTAPÇIĞI İLE İLGİLİ AÇIKLAMALAR

1. Cevap kâğıdınızdaki bilgilerin doğruluğunu kontrol ediniz ve cevap kâğıdınızı imzalayınız.
2. Cevap kâğıdı üzerinde kodlamalarınızı siyah kurşun kalemle yapınız.
3. Değiştirmek istediğiniz bir cevabı, yumuşak silgiyle cevap kâğıdını yıpratmadan temizce siliniz ve yeni cevabınızı kodlayınız.
4. Soru kitapçığının sayfalarını görevlilerin uyarıları doğrultusunda kontrol ediniz, baskı hatası var ise değiştirilmesini sağlayınız.
5. Soruların çözümü için size ayrıca boş kâğıt verilmeyecektir. Soru kitapçığının içindeki boş alanları soru çözümleri için kullanabilirsiniz.
6. Her sorunun dört seçeneğinden sadece biri doğrudur. Doğru seçeneği, cevap kâğıdınızın ilgili sütununa soru numarasını dikkate alarak yuvarlağın dışına taşırmadan kodlayınız. Soru kitapçığı üzerinde yapılan cevaplandırmalar dikkate alınmayacaktır.
7. Cevaplamaya istediğiniz dersin sorusundan başlayabilirsiniz. Cevabını bilmediğiniz sorular üzerinde fazla zaman kaybetmeden diğer sorulara geçiniz. Zamanınız kalırsa bu sorulara daha sonra dönebilirsiniz.
8. Yanlış cevaplarınız dikkate alınmadan sadece doğru cevaplarınız üzerinden puanlama yapılacaktır.
9. Soruları ve sorulara verdiğiniz cevapları, yanınızda götürmek amacıyla kaydetmeyiniz; hiçbir şekilde dışarı çıkarmayınız.
10. Sınav bitiminde soru kitapçığı ve cevap kâğıdını salon görevlilerine teslim ediniz.
11. Aday tarafından cevap kâğıdına yazılması veya işaretlenmesi gereken bilgilerde eksiklik ya da yanlışlık olması durumunda sorumluluk adaya ait olacaktır.

SALON GÖREVLİLERİNCE SINAV BAŞLAMADAN ÖNCE ADAYLARA YAPILACAK SON UYARILAR

- Soracağınız bir şey varsa şimdi sorunuz, sınav başladıktan sonra sorularınıza cevap verilmeyecektir.
- Başlama zilini bekleyiniz.

Hepinize başarılar dileriz.

(Salon başkanı başlama ve bitiş saatini tahtaya yazacaktır.)

Bu kitapçığın her hakkı saklıdır. Hangi amaçla olursa olsun, kitapçığın tamamının veya bir kısmının Millî Eğitim Bakanlığı Ölçme, Değerlendirme ve Sınav Hizmetleri Genel Müdürlüğünün yazılı izni olmadan kopya edilmesi, fotoğraflarının çekilmesi, bilgisayar ortamına alınması, herhangi bir yolla çoğaltılması, yayımlanması veya başka bir amaçla kullanılması yasaktır. Bu yasağa uymayanlar, doğabilecek cezai sorumluluğu ve kitapçığın hazırlanmasındaki mali külfeti peşinen kabullenmiş sayılır.

16 MART 2024 TARİHİNDE YAPILAN
AÇIK ÖĞRETİM ORTAOKULU 2023-2024 ÖĞRETİM YILI 2. DÖNEM SINAVI
1. OTURUM CEVAP ANAHTARI

(550) TÜRKÇE – 5

1. D
2. A
3. D
4. C
5. A
6. B
7. B
8. D
9. C
10. B
11. A

(552) FEN BİLİMLERİ – 5

1. A
2. C
3. C
4. A
5. D
6. B
7. A
8. D
9. C
10. B
11. B

(634) İNGİLİZCE – 6

1. B
2. C
3. A
4. B
5. D
6. A
7. C
8. D
9. B
10. C
11. D

(634) FRANSIZCA – 6

1. C
2. B
3. D
4. A
5. A
6. A
7. C
8. D
9. D
10. B
11. C

(551) MATEMATİK – 5

1. B
2. C
3. B
4. A
5. D
6. C
7. A
8. B
9. D
10. C
11. D

(633) SOSYAL BİLGİLER – 6

1. C
2. A
3. A
4. B
5. D
6. B
7. C
8. A
9. C
10. D
11. B

(634) ALMANCA – 6

1. A
2. D
3. D
4. B
5. C
6. B
7. C
8. A
9. C
10. A
11. B

**(635) DİN KÜLTÜRÜ VE
AHLAK BİLGİSİ – 6**

1. A
2. D
3. C
4. B
5. C
6. D
7. A
8. B
9. B
10. C
11. C

16 MART 2024 TARİHİNDE YAPILAN
AÇIK ÖĞRETİM ORTAOKULU 2023-2024 ÖĞRETİM YILI 2. DÖNEM SINAVI
1. OTURUM CEVAP ANAHTARI

(730) TÜRKÇE – 7

1. A
2. B
3. C
4. C
5. D
6. B
7. A
8. D
9. C
10. D
11. A

(732) FEN BİLİMLERİ – 7

1. B
2. C
3. D
4. A
5. C
6. A
7. B
8. C
9. D
10. D
11. A

(835) İNGİLİZCE – 8

1. D
2. C
3. A
4. B
5. C
6. B
7. D
8. A
9. C
10. A
11. D

(835) FRANSIZCA – 8

1. A
2. B
3. D
4. C
5. C
6. A
7. B
8. A
9. C
10. D
11. B

(731) MATEMATİK – 7

1. C
2. D
3. C
4. B
5. D
6. A
7. B
8. D
9. B
10. A
11. A

**(834) T.C. İNKILAP TARİHİ
VE ATATÜRKÇÜLÜK – 8**

1. C
2. A
3. C
4. D
5. B
6. A
7. D
8. D
9. B
10. C
11. A

(835) ALMANCA – 8

1. B
2. C
3. D
4. B
5. A
6. D
7. B
8. C
9. D
10. C
11. A

**(836) DİN KÜLTÜRÜ VE
AHLAK BİLGİSİ – 8**

1. B
2. D
3. A
4. B
5. C
6. D
7. D
8. A
9. B
10. D
11. C