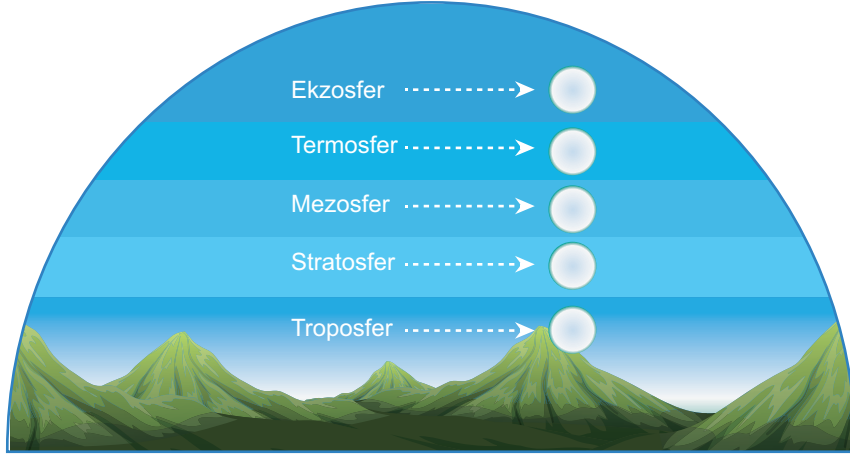


1. Aşağıda verilen özellikler ile atmosferin katmanlarını şekil üzerinde eşleştiriniz.



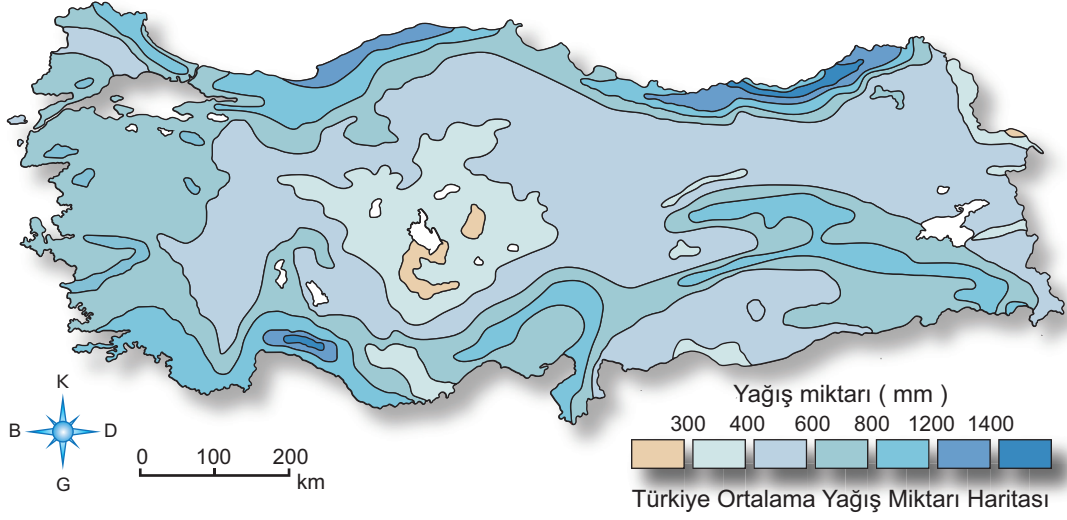
- A** Atmosfere giren gök taşları yanarak burada parçalanır. Bu katmanın üst kesimlerinde sıcaklık -90°C civarına düşer.
- B** Gazların seyrek hâlde bulunduğu bu katmanda gazlar çok hızlı hareket ettiği için sıcaklık çok yüksektir. Bu katmanda yükseldikçe sıcaklık 1.000°C üzerine çıkar.
- C** Atmosferi oluşturan gazların %75'i, su buharının tamamına yakını burada bulunduğu için iklim olayları bu katmanda yaşanır.
- D** Dış sınırı kesin olmamakla beraber 10.000 km yükseltiye kadar ulaştığı varsayılır. Yer çekiminin çok az olduğu bu katmanda gazlar çok seyrek.
- E** Bu katmanda yatay hava hareketleri görülür. Güneş'ten gelen zararlı ışınları süzen ozon gazı da bu katmanda yoğun olarak bulunur.

2. Aşağıda verilen boşlukları, iklim grafiğini inceleyerek doldurunuz.



- Grafiğin ait olduğu iklim tipi
- İklim tipine ait doğal bitki örtüsü
- Yıllık sıcaklık farkı
- Yıllık yağış miktarı
- En yağışlı mevsim

3. Aşağıdaki soruyu verilen haritayı inceleyerek cevaplayınız.



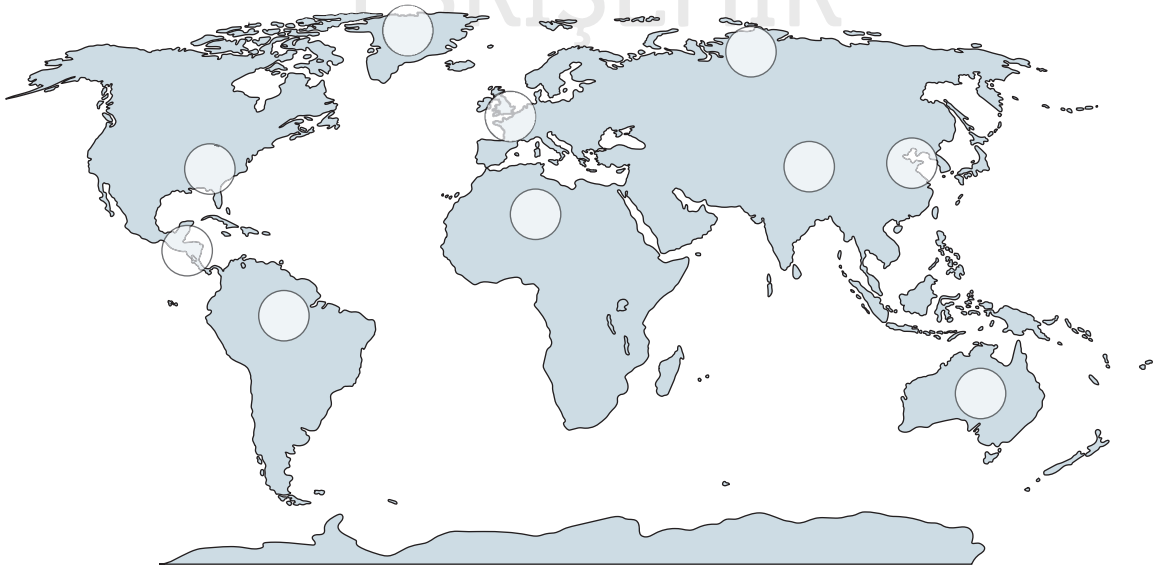
Türkiye’de yağışın fazla olduğu alanların özellikleri nelerdir?

.....

.....

.....

4. Aşağıdaki harita üzerinde bazı alanlar işaretlenmiştir.



Bu alanlardan yerleşmeye uygun olan yerler için dairenin içersini ✓ ile, yerleşmeye uygun olmayan yerler için dairenin içersini ✗ ile işaretleyiniz.

5. Türkiye’de dağınık yerleşmelerin daha çok Karadeniz’in doğu kesimlerinde görülmesi, buraların hangi özelliğinden kaynaklanmaktadır?

.....

.....

.....

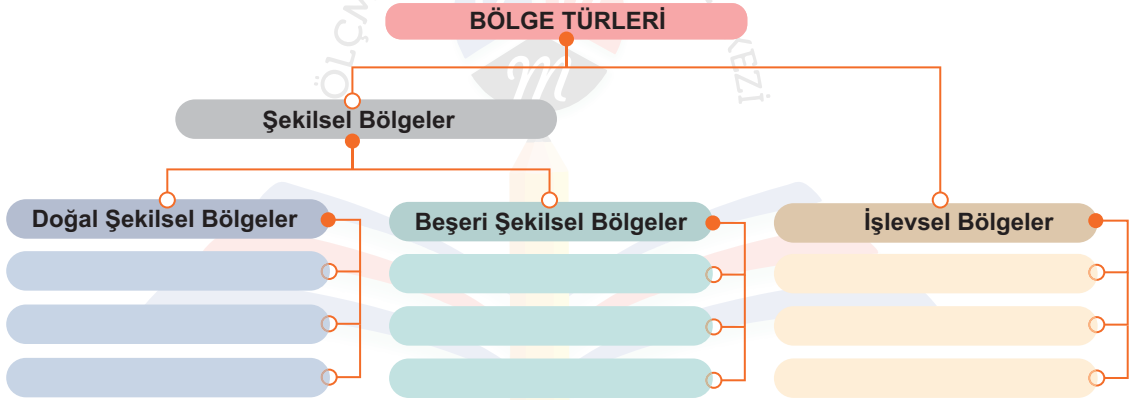
6. İnsanlar hangi amaçlarla deniz kıyılarını doldurarak yerleşim alanı haline getirmişlerdir?

.....

.....

.....

7. Aşağıdaki şemada boş bırakılan yerleri üçer örnek ile tamamlayınız.



8. İnsanın doğaya olan etkileri ile ilgili verilen örnekleri, etkili olduğu doğal ortam ile A,B,C,D biçiminde eşleştiriniz.

İNSANIN;

Atmosfere olan etkileri A	Hidrosfere olan etkileri B	Litosfere olan etkileri C	Biyosfere olan etkileri D
-------------------------------------	--------------------------------------	-------------------------------------	-------------------------------------

I. Petrol tankerlerinin yaptığı kazalar sonucu petrol sızıntılarının meydana gelmesi. ☐

II. Aşırı ve bilinçsiz avlanma sonucu birçok canlı türünün neslinin tükenmesi. ☐

III. Sanayi faaliyetlerinde, ulaşımda ve meskenlerin ısıtılmasında fosil yakıtların kullanılması. ☐

IV. Bitki örtüsünün tahrip edilmesi nedeniyle eğimli arazilerin erozyona uğraması ☐

Aşağıdaki çoktan seçmeli soruları cevaplayınız.

9. Aşağıdaki haritada ilk medeniyetlerin kurulduğu yerler koyu renkli noktalarla gösterilmiştir.



İlk medeniyetlerin bu yerlerde kurulmasında ve gelişmesinde etkili olan öncelikli faktör aşağıdakilerden hangisidir?

- A) Hidrografik yapı B) Yükselti C) Bitki örtüsü
D) Bakı E) İklim

2016-YGS

10. Geçmişten günümüze insanoğlunun yaşadığı mekânı algılaması ve onun özelliklerini keşfetmesiyle doğal kaynakların kullanımının hızla arttığı bilinmektedir.

Bu süreçle ilgili olarak beşerî ve ekonomik faaliyetler sonucu ortaya çıkan bölgelere aşağıdakilerden hangisi örnek gösterilemez?

- A) Sanayi bölgeleri
B) Tarım bölgeleri
C) Göç alan bölgeler
D) Turizm bölgeleri
E) Ovalık bölgeler

2017-TYT

11. Aşağıdaki haritada bazı alanlar numaralandırılarak gösterilmiştir.



Bu alanların hangilerinde iklime bağlı olarak benzer bitki topluluklarına rastlanır?

- A) I ve II B) I ve IV C) II ve III
D) II ve IV E) III ve IV

2019-TYT

12. Aşağıdaki haritada Akdeniz iklimi'nin yeryüzündeki dağılışı kırmızı renkle gösterilmiştir.



Bu iklimin görüldüğü alanların aşağıdaki bölgelerden hangisi ile benzer dağılışa sahip olması beklenir?

- A) Yoğun nüfus bölgeleriyle
B) Turunçgil üretim bölgeleriyle
C) Sel ve taşkın bölgeleriyle
D) Yüksek gelire sahip bölgelerle
E) Yoğun sanayi bölgeleriyle

2021-TYT