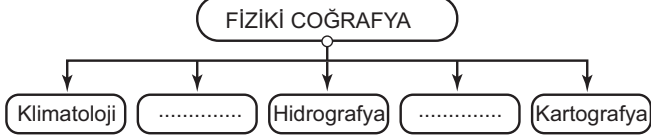


Sınav süresi 40 dakikadır. Her soru 5 puandır. Yanlış cevaplar doğru cevapları etkilemeyecektir. Cevaplarınızı optik forma işaretleyiniz.

1. Aşağıdakilerden hangisi dört temel ortamın herhangi birinde meydana gelmez?

- A) Güneş ve Ay tutulmalarının gerçekleşmesi  
B) Kutuplardaki buzulların erimeye başlaması  
C) Göçmen kuşların mevsimlere göre göç etmesi  
D) Depremlerin can ve mal kayıplarına yol açması  
E) Yağmurlardan sonra gökkuşağının ortaya çıkması

2. Aşağıda coğrafyanın bölümlerini gösteren şema verilmiştir.



Şemanın doğru olabilmesi için boş bırakılan kısımlara aşağıdakilerden hangileri yazılmalıdır?

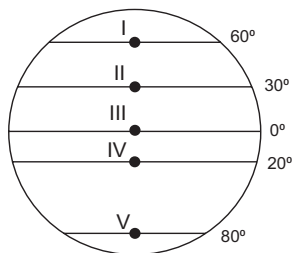
- A) Siyasi Coğrafya - Nüfus Coğrafyası  
B) Jeomorfoloji - Biyocoğrafya  
C) Jeomorfoloji - Ekonomik Coğrafya  
D) Tarihî Coğrafya - Nüfus Coğrafyası  
E) Biyocoğrafya - Yerleşme Coğrafyası
3. Aşağıdakilerden hangisi coğrafya biliminin gelişmesine katkı sağlayan kişilerden biri değildir?
- A) Aristoteles      B) Strabon      C) Thomas Edison  
D) El-Harezmi      E) Magellan

4. Silindirik projeksiyon yöntemi kullanılarak çizilen bir dünya haritasında, hata oranının en az olacağı yer neresidir?

- A) 40° paraleli çevresi      B) Ekvator üzeri  
C) Yengeç dönencesi      D) Kutup çevreleri  
E) Karaların iç kesimleri

5. Genel görüntüsü küreyi andırırsa da Dünya'nın şekli tam bir küre değil; Kutuplardan basık, Ekvator kısmından şişkindir.

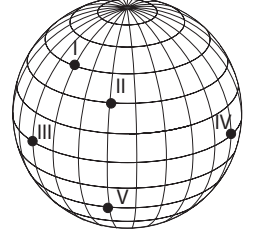
Buna göre şekil üzerindeki hangi noktanın, yerin merkezine olan uzaklığı en azdır?



- A) I      B) II      C) III      D) IV      E) V

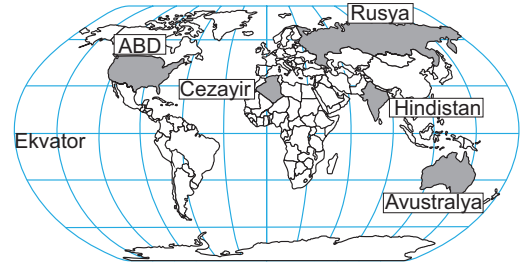
6. Dünya kendi eksenini etrafında batıdan doğuya doğru dönmektedir.

Buna göre şekil üzerindeki noktalardan hangisinde Güneş en önce doğar?



- A) I      B) II      C) III      D) IV      E) V

7.



Türkiye'de yaz mevsimi yaşanırken haritadaki ülkelerin hangisinde kış mevsimi yaşanmaktadır?

- A) Avustralya      B) ABD      C) Cezayir  
D) Hindistan      E) Rusya

8. Haritalardan gerektiği gibi faydalanabilmek için harita üzerinde bazı unsurların bulunması gerekir.



Harita üzerinde bu unsurlardan hangisi eksik verilmiştir?

- A) Lejant      B) Yön İşareti  
C) Ölçek      D) Koordinat Çizgileri  
E) Başlık

9. Aşağıdakilerden hangisi Dünya'nın şekli küresel olduğu için ortaya çıkar?

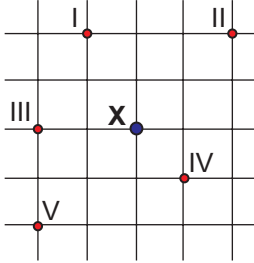
- A) Dağ yamacından tırmandıkça sıcaklığın azalması  
B) Dünya üzerinde sık sık depremlerin yaşanması  
C) Güneş ışınlarının kutuplara eğik açıyla gelmesi  
D) Yarımkürelerde farklı mevsimlerin yaşanması  
E) 21 Mart'ta gece ve gündüz sürelerinin eşitlenmesi

10. Aşağıdakilerden hangisi, Kuzey Yarımküre'de Tropikal Kuşak ile Orta Kuşakı ayıran sınırı oluşturmaktadır?
- A) Yengeç Dönencesi B) Oğlak Dönencesi  
C) Kuzey Kutup Dairesi D) Güney Kutup Dairesi  
E) Tarih Değişirme Çizgisi

11. Aşağıdakilerden hangisi Dünya'nın hareketlerini sınıflandırırken kullandığımız ifadelerden biri değildir?
- A) Günlük hareket B) Yıllık hareket  
C) Eksen hareketi D) Dairesel hareket  
E) Yörünge hareketi

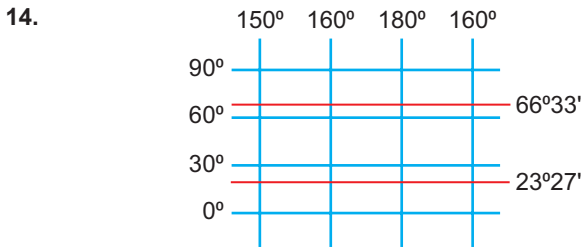
12. Eskişehir'de kış mevsimi hangi tarihte başlamaktadır?
- A) 15 Kasım B) 21 Mart C) 14 Şubat  
D) 3 Ocak E) 21 Aralık

13. Aşağıda koordinat sistemi üzerinde bulunan X merkezinin konumu gösterilmiştir.



Şekildeki X noktasından güneybatı yönünde ilerlenirse hangi noktaya ulaşılır?

- A) I B) II C) III D) IV E) V



Şekildeki koordinat sisteminde aşağıdakilerden hangisi gösterilmemiştir?

- A) Ekvator B) Başlangıç meridyeni  
C) Dönence D) Tarih değişirme çizgisi  
E) Kutup dairesi

15. Dünya'yı kuzey ve güney yarımküre olmak üzere iki eşit kısma ayıran en büyük paralel dairesine ..... denir.

Cümledeki boşluğa aşağıdakilerden hangisi yazılırsa tanım doğru olur?

- A) Kutup noktası B) Dönence  
C) Ekvator D) Kutup dairesi  
E) Başlangıç meridyeni

16. 1:200.000 ölçekli bir haritada, A - B şehirleri arası 5 cm olarak ölçülmüştür.

Bu iki kent arası gerçek uzaklık kaç km'dir?

- A) 10 B) 15 C) 20 D) 25 E) 30

17. Aşağıda Ali'nin yaşadığı yerin kroki verilmiştir.



Ali, kroki üzerindeki bulunduğu noktadan önce batıya sonra ise kuzeye doğru yürüyerek gitmek istediği yere ulaşmıştır.

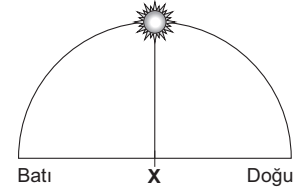
Ali'nin ulaştığı yer aşağıdakilerden hangisidir?

- A) Ev B) Sağlık ocağı C) Okul  
D) Halı saha E) Yüzme havuzu

18. Aşağıdaki ölçeklerden hangisine sahip olan haritanın ayrıntıları gösterme gücü daha fazladır?

- A) 1:100.000 B) 50.000 C) 1:700.000  
D) 1:800.000 E) 1:1.250.000

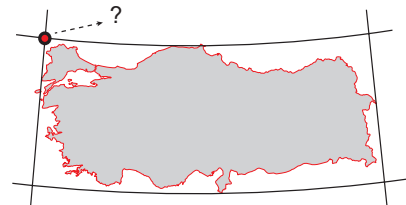
- 19.



Güneş gökyüzünde şekildeki konumda iken yerel saat kaçtır?

- A) 06.00 B) 09.00 C) 12.00 D) 15.00 E) 18.00

- 20.



Türkiye'nin kuzeybatı köşesinin coğrafi koordinatı aşağıdakilerden hangisidir?

- A) 26° batı meridyeni - 36° güney paraleli  
B) 50° doğu meridyeni - 42° kuzey paraleli  
C) 70° batı meridyeni - 45° güney paraleli  
D) 26° doğu meridyeni - 42° kuzey paraleli  
E) 90° doğu meridyeni - 90° kuzey paraleli