


9. Aşağıdakilerden hangisi iki basamaklı en küçük negatif tamsayıdır?

- A) -20  
B) -99  
C) -10  
D) -12

10. Bir dalgıç 300 metre derine dalmıştır.




Bu dalgıç 50 metre yukarıya doğru hareket ederse deniz seviyesine göre derinliği kaç metre olur?

- A) -250  
B) -350  
C) -300  
D) -200

11. Sarı renkli top 3 , kırmızı renkli top 3 ve mavi renkli top 3 ise torbadaki top 3'ün toplam sayısal değeri kaçtır?

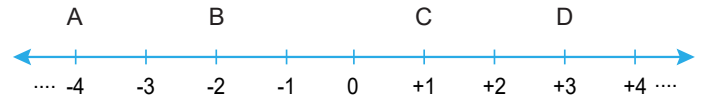
- A) -4  
B) 0  
C) -1  
D) -3



12. Mert'in cebinde 3TL'si vardır. Babası Mert'e 8TL harçlık veriyor. Mert kırtasiyeden 4 TL'lik kalem aldıktan sonra cebinde kaç TL'si kalır?

- A) 4  
B) 7  
C) 11  
D) 15

13.



Yukarıdaki sayı doğrusunda A ile D arasındaki tam sayıların toplamı kaçtır?

- A) -3  
B) -1  
C) 0  
D) 1

14. Yandaki buzdolabına koyulan bir bardak suyun her 4 dakikada sıcaklığı 6 °C azalıyor.

Bu buzdolabına sıcaklığı 15 °C olan bir bardak su koyuluyor. 12 dakika sonra suyun sıcaklığı kaç °C olur?

- A) -4  
B) 0  
C) -1  
D) -3

