

Adı: İLKOKULU 4-.... SINIFI01.2023
Soyadı:	1.DÖNEM 2. SOSYAL BİLGİLER YAZILISI	Puanı:.....
Sınıfı: 4-C No:		

Aşağıda verilen ifadelerden doğru olanların başına "D", yanlış olanların başına "Y" yazınız.10p

- ☐ T.C. kimlik numarası, kimlik kartının arka yüzeyinde bulunur.
- ☐ Kronoloji hazırlarken dikkat etmemiz gereken bir kural yoktur.
- ☐ Engelli olmak bir eksiklik değil farklılıktır.
- ☐ Aile tarihimizi araştırırken mektup, diploma gibi kaynaklardan yararlanamayız.
- ☐ Mustafa Kemal, Millî Mücadele yolunda halkın desteğini almamıştır.
- ☐ Bir yerin bazı özelliklerinin gösterildiği kabataslak ve kuşbakışı çizime harita denir.
- ☐ Kroki çiziminde, genel olarak bilinen belli başlı noktalar gösterilir.
- ☐ Evler, fabrikalar, oyun parkları, yollar doğal unsurlardır.
- ☐ Hava tahminleri, Devlet Meteoroloji İşleri Genel Müdürlüğü tarafından yapılır.
- ☐ Bir toprak parçasının kayarak yer değiştirmesine çığ denir.

Aşağıda kutucuklarda verilen kelimeleri cümlelerdeki boşluklara uygun şekilde yerleştiriniz.10p

Doğu Cephesi'nde	empati	Mondros Ateşkes Antlaşması	birdirbir	siyasi	fiziki
baraj	deprem	Kuva-yı Milliye	Batı Cephesi'nde	Doğal Unsurlar	parmak izi

..... ve gözdeki iris tabakası ve kişiye özeldir.

Kendimizi karşımızdakinin yerine koyarak hareket etmeye denir.

..... oyunu oyuncuların birbirinin sırtından atlaması ile oynanır.

İşgal güçlerine karşı direnmek için halkın kurduğu silahlı güçlere denir.

İsmet Paşa, Yunan Ordusu'na ağır bir yenilgi yaşatmıştır.

1.Dünya Savaşı'ndan sonra imzalanan ile Anadolu işgal edilmiştir.

İnsan etkisi olmadan doğal olarak yaratılan varlıklara denir.

Köprü, park, gibi unsurlar beşeri unsurlara örnektir.

Yer kabuğunun derin katmanlarının kırılıp yer değiştirmesi sonucu oluşur.

Yerçekillerini gösteren haritaya harita denir.

1. Tayyar Rahmiye Hanım

2. Sütçü İmam

3. Hasan Tahsin

4. Şehit Şerife Bacı

5. Ali Saip Bey

6. Şahin Bey

7. Fevzi Çakmak

8. Kazım Karabekir

Yukarıdaki isimleri aşağıda uygun olan ifadelerle numaralandırarak eşleştiriniz.5p

- ☐ Fransızların Maraş'ı işgal etmesiyle bölgede büyük kahramanlıklar göstermiştir.
- ☐ Fransızların Antep'ten kovulması sırasında Kuva-yı Milliye'de komutanlık yapmıştır.
- ☐ Milli Mücadele'de Doğu Cephesi komutanı olarak kahramanlıklar göstermiştir.
- ☐ İzmir'i işgal eden Yunan askerlerine ilk kurşunu sıkan kahramandır.
- ☐ Adana'yı işgal eden Fransızlar'a karşı mücadele eden kahraman hanımefendidir.

Aşağıdaki olayları tarihleri ve yerleri ile numaralandırarak eşleştiriniz.3p

1	Mondros Ateşkes Anlaşması	<input type="checkbox"/> 23 Ağustos 1921	<input type="checkbox"/> Samsun
2	Mustafa Kemal'in Samsun'a çıkışı	<input type="checkbox"/> 30 Ekim 1918	<input type="checkbox"/> Yunanistan
3	Büyük Millet Meclisinin açılışı	<input type="checkbox"/> 19 Mayıs 1919	<input type="checkbox"/> Ankara
4	Sakarya Meydan Muharebesi	<input type="checkbox"/> 30 Ağustos 1922	<input type="checkbox"/> Bursa
5	Başkomutanlık Meydan Muharebesi	<input type="checkbox"/> 23 Nisan 1920	<input type="checkbox"/> Sakarya
6	Mudanya Ateşkes Antlaşması	<input type="checkbox"/> 11 Ekim 1922	<input type="checkbox"/> Kütahya

Aşağıdaki doğal afetleri, bu doğal afetlere karşı alınması gereken önlemler ile eşleştiriniz.5p

Heyelan

- Dere yataklarına ev yapılmamalı.

Çığ

- Yoğun kar yağışı olduğu zamanlarda yamaçlara yakın durulmamalı.

Sel

- Evler sağlam zemin üzerine yapılmalı.

Deprem

- Ormanlık alanlara cam, şişe kırıkları atılmamalı.

Yangın

- Yamaçlar ve eğimli yerler ağaçlandırılmalı.


Çorum'un komşu illerini yazınız.7p

1. 2. 3. 4.

5. 6. 7.

Aşağıdaki resimde Ali, sol kolunu Güneş'in doğduğu yöne uzatıyor.

Noktalı yerlere uygun yön ifadelerini yazınız.10p



Ali'nin sağ kolu gösterir.

Ali'nin sol kolu gösterir.

Ali'nin arka tarafı gösterir.

Ali'nin ön tarafı gösterir.

1. Aynı sınıfta bulunan iki yakın arkadaşta biri resim yapmayı çok severken, diğeri fotoğraf çekmeyi daha çok seviyor.

Yukarıdaki açıklamada iki arkadaşın bireysel farklılıklarından hangisi vurgulanmıştır?

- A) İlgiler ve beceriler B) Fiziki özellikler
C) Kimlik özellikleri D) Soy ağacı bilgileri

2. 1- Selim, ilkokula başladı.
2- Selim, ilk karnesini aldı.
3- Selim, ilk dişini çıkardı.
4- Selim, ikinci sınıfa geçti.

Selim'in yaşamına ait verilen gelişmelerin kronolojik olarak doğru sıralanışı, aşağıdakilerden hangisidir?

- A) 3, 2, 1, 4 B) 1, 2, 4, 3
C) 1, 3, 4, 2 D) 3, 1, 2, 4

3. Ailesiyle birlikte akşam yemeğini yerken haberleri izleyen Ayşe, Afrika lı çocukların bir parça ekmek alabilmek için uzun kuyruklar oluşturduğunu görür.

Böyle bir durumda Ayşe, aşağıdaki duygulardan hangisini hissetmiş olabilir?

- A) Mutluluk B) Umursamazlık
C) Üzüntü D) Korku

4. I. Çok telaşlı bir insanım.
II. Uzun boylu zayıf bir kişiyim.
III. İnsanlara güvenirim.
IV. Düz siyah saçlıyım.

Yukarıda verilenlerin hangileri fiziksel özelliklerimizdendir?

- A) I. ve II. B) II. ve III.
C) II. ve IV. D) I. ve III.

5. Nüfus cüzdanını inceleyen Sinem, aşağıdakilerden hangisi hakkında bilgi sahibi olamaz?

- A) İkametgâh adresi B) Doğum yeri
C) T.C. kimlik numarası D) Kan grubu

6. Kurtuluş Savaşı sırasında Doğu Cephesi'nde aşağıdakilerden hangisi ile savaşılmıştır?

- A) Yunanlılar B) Fransızlar
C) İngilizler D) Ermeniler

7. 23 Nisan Ulusal Egemenlik ve Çocuk Bayramı'nın kutlanmasına neden olan gelişme, aşağıdakilerden hangisidir?

- A) Ankara'da Büyük Millet Meclisinin açılması
B) Cumhuriyet'in ilân edilmesi
C) Mustafa Kemal'in Samsun'a çıkması
D) I. İnönü Savaşı'nın kazanılması

8. Atatürk, olayları iyi değerlendirerek, sonuçları önceden tahmin ederdi.

Bu durum Atatürk'ün kişilik özelliklerinden en çok hangisiyle ilgilidir?

- A) İleri görüşlülüğü B) Vatanseverliği
C) Kararlılığı D) Çalışkanlığı

- I- Cirit
II- Masa tenisi
III- Satranç
IV- Güreş

9. Yukarıdakilerden hangileri Türk Kültürü'ne ait örnekler arasında gösterilebilir?

- A) Yalnız I B) Yalnız IV
C) I - IV D) II - III

10. Çok heyecanlıyım. Bir hafta sonra anneannem gelecek. Anneannem bizde olacağı için önce bütün akrabalarımız bizi ziyaret edecekler. Büyüklerin ellerini öpüp onlardan bayram harçlığı alacağım.

Yukarıda sözü edilen bayram aşağıdakilerden hangisi olabilir?

- A) Ramazan Bayramı
B) Zafer Bayramı
C) Cumhuriyet Bayramı
D) Bahar Bayramı

11. Millî Mücadele için hazırlık yaparken Mustafa Kemal Paşa, aşağıdaki şehirlerden hangisinde toplantı yapmamıştır?

- A) Amasya B) Konya
C) Erzurum D) Sivas


12. Aşağıdakilerden hangisi millî kültürümüzü yansıtan eşyalardan biri değildir?



Çeyiz Sandığı



Türk motifleriyle süslü el dokuması halı



Kahve Cezvesi



Kimono

13. Berk, ailesinin tarihini öğrenmek için geçmişte kullanılan yazılı kaynaklardan yararlanacaktır.

Buna göre aşağıdakilerin hangisinden yararlanabilir?

- A) Kıyafet B) Fotoğraf albümü
C) Radyo D) Diploma

14. Camiler, kervansaraylar, köprüler ve medreseler millî kültürümüzü yansıtan öğelerdendir.

Yukarıda verilen örnekler hangi kültürel unsurumuza aittir?

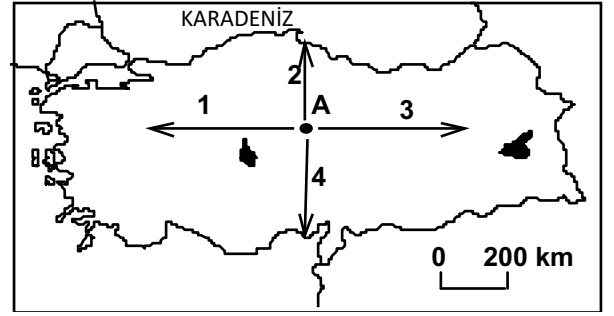
- A) El sanatları
B) Halk oyunları
C) Gelenek ve görenekler
D) Mimari yapılar

15. Yeryüzünde sürekli inşi bulunan, genellikle içinde akarsuların aktığı uzun çukurluklara ne denir?

- A) Vadi B) Ova
C) Ada D) Göl

16. Aşağıdaki cümlelerden hangisinde o yerin hava durumundan söz edilmemiştir?

- A) Rüzgar şarkı söyler gibi esiyordu.
B) Yemyeşil bir ormanla karşılaştık.
C) Sisten göz gözü görmüyordu.
D) Ani bastıran yağmurdan sıırıslıkla olduk.



17. Türkiye haritasındaki A noktasından doğuya doğru gitmek için kaç numaralı ok yönünde hareket edilmelidir?

- A) 1 B) 2 C) 3 D) 4

18. Ulaşım araçlarından biri olan gemilerin yapıldığı yere tersane denir.

Buna göre aşağıdaki illerin hangisinde tersanelerin bulunması belenemez?

- A) İzmir B) Çorum
C) İstanbul D) Samsun

19. Aşağıdakilerin hangisinden yararlanarak yönümüzü bulamayız?

- A) Ay ve bulutun konumundan
B) Güneş'in hareketlerinden
C) Geceleyin Kutup Yıldızından
D) Ağaç ve taşların üzerindeki yosunlardan

20. Aşağıdaki doğal afetlerden hangisi ülkemizde daha fazla can ve mal kaybına neden olur?

- A) Sel B) Heyelan
C) Çığ D) Deprem