

2. Sınıflar Haftalık Değerlendirme Sınavı-1

Adım ve Soyadım :D:.....Y:.....Puan:.....

1. Sonra yemek için içeri girdiler.
2. Önce bahçede oyun oynadılar.
3. Daha sonra yine bahçeye çıkıp oyunlarına devam ettiler.

1) Bu olayları oluş sırasına göre nasıl sıralarsak doğru olur?

- A) 1-2-3 B) 2-3-1 C) 2-1-3

2) Aşağıdaki cümlelerin hangisinde yazım yanlışı vardır?

- A) Ramazan bayramında köye gideceğiz.
B) Bahçemizde meyve ağaçları var.
C) Hürriyet Caddesi'nde oturuyoruz.

3) Aşağıdaki cümlelerden hangisinin sonuna **soru işareti** konulmalıdır?

- A) Minik mi minik bir köpek yavrusu bulduk
B) Şu ağacı da boyadım mı resmim bitecek
C) Baban da mı o fabrikada çalışıyor

Eda 3() sınıfa gidiyor()

4) Yukarıdaki cümlede () içlerine sırasıyla hangi noktalama işaretleri yazılmalıdır?

- A) nokta, soru işareti
B) virgül, nokta
C) nokta, nokta

5) "Bu problemi çözmek zor mu?" sorusuna "hayır" diyen biri için bu problem nasıl bir problemdir?

- A) kolay B) güç C) sıkıcı

6) "Ucuz ama kaliteli bir gömlek aldık." cümlesinde altı çizili sözcüğün zıt anlamı aşağıdaki-lerin hangisinde vardır?

- A) Sade ama güzel bir elbise giydim.
B) Bu kadar pahalı giyinmek zorunda değilsin.
C) Yatmadan önce giysilerini çıkarmalısın.

7) "Zeynep ile arkadaşı ceren ders çalışıyor-lar." cümlesinde hangi kelime büyük harfle baş-lamalıdır?

- A) arkadaşı B) ceren C) ders

8) 53 doğal sayısının abaküsle gösterimi hangi seçenekte verilmiştir?



10) Birler basamağında 4 olan en büyük iki ba-samaklı doğal sayı kaçtır?

- A) 99 B) 94 C) 84



9) Yukarıda kaç tane top vardır?

- A) 22 B) 23 C) 24



Elma Ağacı



Armut Ağacı




Portakal Ağacı

11) Verilen meyve ağaçlarındaki meyvelerin sa-yıları ile ilgili olarak hangi seçenekte verilen ifade yanlıştır?

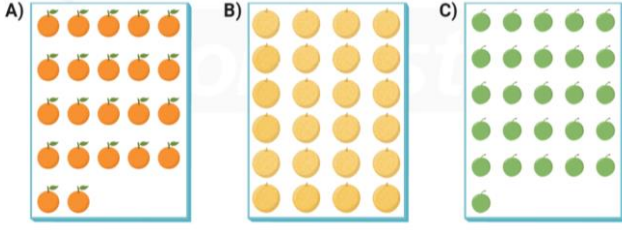
- A) Elma ağacında 11 tane elma vardır.
B) Portakal ağacında 14 tane portakal vardır.
C) Armut ağacında 13 tane armut vardır.

12) 48 sayısının onluk ve birliklerine ayrılışı hangi seçenekte doğru verilmiştir?

- A) 4 onluk + 8 birlik
B) 8 onluk + 4 birlik
C) 8 onluk + 8 birlik

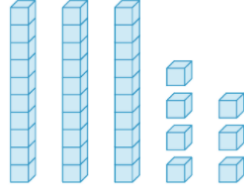


13) Aşağıdaki meyvelerden hangisinin sayısı, yukarıdaki mandalina sayısı kadardır?



14) Yanda onluk taban bloklarıyla oluşturulan doğal sayı kaçtır?

- A) 27 B) 35
C) 37



15) Aşağıdaki seçeneklerde yazan ifadelerden hangisinde kisisel farklılıklara örnek verilmiştir?

- A) Ayça ve Nihal, basketbol karşılaşması izlemekten hoşlanır.
B) Sinan satranç oynamayı, Yusuf futbol oynamayı sever.
C) Levent ve Eray, masal dinlemeyi çok seviyor.



16) Meltem'in, yukarıdaki resimlerde görülen arkadaşlarına bakarak çıkaracağı en doğru sonuç hangi seçenekte verilmiştir?

- A) Tüm arkadaşlarım satranç oyununu sever.
B) Basketbol sporunu herkes yapabilir.
C) Arkadaşlarım farklı farklı etkinliklerden hoşlanabilir.

1. Arkadaşlarımızın fiziksel özelliklerinin farklı olması doğaldır.
2. Farklı özelliklere sahip olan arkadaşlarımıza saygı duymalıyız.
3. Arkadaşlarımızın duygu, düşünce ve yetenekleri farklı olabilir.

17) Yukarıdaki ifadelerden hangileri doğrudur?

- A) 1 ve 2 B) 2 ve 3 C) 1, 2 ve 3

	Yüzmek	Şarkı Söylemek	Resim Yapmak
Yapabiliyorum	✓		✓
Yapamıyorum		✓	
Yapmaktan hoşlanıyorum	✓		
Yapmaktan hoşlanmıyorum		✓	✓

18) Sema, kendi özelliklerini düşünerek yukarıdaki tabloyu yapmıştır. Sema hangi etkinliği hem yapamamakta hem de yapmaktan hoşlanmamaktadır?

- A) Şarkı söylemek B) Yüzmek
C) Resim yapmak

19) Kendimizi tanıtırken aşağıdakilerin hangisinden söz etmemize gerek yoktur?

- A) İlgi alanlarımız
B) Yapmaktan hoşlandıklarımız
C) Arkadaşlarımızla ilişkilerimiz

- Seda sarışın, mavi gözlü ve 29 kilogramdır.
- Gözde kumral, ela gözlü ve 30 kilogramdır.
- Betül esmer, mavi gözlü ve 33 kilogramdır.
- 20) Yukarıda bazı öğrencilerin fiziksel özellikleri verilmiştir. Buna göre hangi öğrencilerin en az bir fiziksel özelliği aynıdır?

- A) Seda ve Betül
B) Gözde ve Betül
C) Seda ve Gözde