
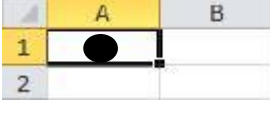




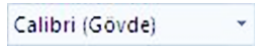
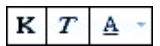



TİRE FATİH ORTAOKULU
BİLİŞİM TEKNOLOJİLERİ VE YAZILIM DERSİ
6.SINIFLAR 2. DÖNEM 1. YAZILI SINAVI ÇALIŞMA SORULARI

1. İki ya da daha fazla bilgisayarın birbirine bağlanması ile oluşan sisteme ne ad verilir?
a) Donanım-yazılım b) Bilgisayar ağı c) İşletim sistemi d) İnternet
2. İnternet sinyalinin kablolu ve kablosuz olarak kullanılmaması sağlayan donanım aşağıdakilerden hangisidir?
a) İşlemci b) Ram c) Klavye d) Modem
3. Telefon sinyali ve internet sinyalinin ayırmaya yarayan ağı donanımı aşağıdakilerden hangisidir?
a) Splitter b) Cat5 kablo c) Modem d) Bilgisayar
4. İnternet üzerinde arama yapmamızı sağlayan web sitelerine adı verilir. Cümlede boş bırakılan yere hangisi gelmelidir?
a) Tarayıcı b) Yazıcı c) Arama motoru d) İşletim sistemi
5. Aşağıdakilerden hangisi bir arama motorudur?
a) Google b) Opera c) Firefox d) Edge
6. Aşağıdakilerden hangisi bir arama motoru değildir?
a) Google b) Bing c) Safari d) Yandex
7. Aşağıdakilerden hangisi dosya türüne göre arama yaparken kullanılır?
a) Site b) Filetype c) “ ” d) –
8. Aşağıdakilerden hangisi hem görüntülü hem sesli iletişim aracıdır?
a) Whatsapp b) E-posta c) Mektup d) Dergi
9. Aşağıdakilerden hangisi Eş Zamanlı (Senkron) iletişime örnek olabilir?
a) E-posta b) Mektup c) Televizyon d) Görüntülü konuşma
10. Aşağıda verilen uygulamalardan hangisi bir sohbet aracı örneği olabilir?
a) Facebook b) Instagram c) Whatsapp d) Google
11. Aşağıdakilerden hangisi “Bir konu hakkında birçok kişinin fikirlerini yazılı olarak belirtebildiği paylaşım ortamı”nın adıdır?
a) Yazılım b) Forum c) Arama motoru d) Tarayıcı
12. Aşağıdakilerden hangisi Excel programında hazırlanan dosyaya ait uzantıdır?
a) Jpg b) pptx c) xlsx d) docx
13.  Yandaki düğmelerin görevi sırası ile nedir?
a) Sola hizalı – Sağa hizalı – Yasla b) Sola Hizalı – Ortala – Sağa Hizalı
c) Sağa Hizalı – Ortala – Sola Hizalı d) Sağa hizalı – Ortala – Yasla
14. Aşağıdaki seçeneklerden hangisinde hücre adresi doğru olarak yazılmıştır?
a) A1 b) AB c) 1A d) BA
15. Bir Excel çalışma sayfasında A5 neyi temsil eder?
a) A sütunu b) 5. Satırı c) A sütunu – 5. Satır d) A satırı – 5. Sütunu
16. Excel çalışma kitabında formüller hangi işaretlerle başlar?
a) ? b) > c) = d) /
17. Excel programında bulunan yukarıdaki düğmenin görevi nedir?
a) Satır ve sütunları otomatik olarak toplar b) Hücrelerdeki bilgiyi altı çizgili yapar
c) Yeni bir Excel satırı ekler d) Sayfa adı sekmeleridir, yeni sayfa eklemeye yarar
18. Aşağıdaki formüllerden hangisi E1, E2, E3, E4 ve E5 hücrelerindeki sayıların ortalamasını verir?
a) Ortalama(E1;E5) b) =(E1:E5)/4 c) =Ortalama(E1:E5) d) (E1;E2;E3;E4;E5)/4
19. Excel çalışma sayfasında Çarpma işlemi için kullanılan işaret aşağıdakilerden hangisidir?
a) / b) : c) + d) *
20. =B4+B5+B6+B7 işleminin eşdeğeri aşağıdakilerden hangisidir?
a) =Topla(B4;B7) b) =Topla(B4,B7) c) =Topla(B4:B7) d) =Topla(B4+B7)
21.

	A	B	C
1			
2			
3			

 Yandaki Excel sayfasından görünen kesit doğrultusunda aşağıdaki seçeneklerin hangisi doğrudur?
a) 1. sayfada çalışılmaktadır b) 3. sayfada çalışılmaktadır
c) İmleç B3 hücresindedir d) İmleç 3B hücresindedir
22. Microsoft Excel programında açılan bir dosyadaki varsayılan sayfa sayısı nedir?
a) 3 b) 5 c) 7 d) 10

23. **Kitap1 - Microsoft Excel** Yanda verilen başlık çubuğu yazısındaki “Kitap1” olarak gösterilen bölümün anlamı nedir?
a) Program adı b) Dosya adı c) Satır adı d) Hücre adı
24.  Yandaki resimde **harflerle** gösterilen Excel Çalışma sayfası bölümüne ne ad verilir?
a) Hücre b) Kitap c) Sütun d) Satır
25.  Yandaki şekilde  şekli ile gösterilen bölüme ne ad verilir?
a) Hücre b) Ad kutusu c) Sütun d) Satır
26.  Yandaki şekilde A1 ile gösterilen bölüme ne ad verilir?
a) Hücre b) Satır c) Formül çubuğu d) Ad kutusu
27.  Yandaki resimde **sayılarla** gösterilen Excel Çalışma sayfası bölümüne ne ad verilir?
a) Hücre b) Kitap c) Sütun d) Satır
28.  Yandaki şekilde (fx) ile gösterilen düğmeye ne ad verilir?
a) Hücre b) Fonksiyon düğmesi c) Formül çubuğu d) Ad kutusu
29. Aşağıdakilerden hangisi bir hücreye veri girme yollarından değildir?
a) Hücreye tıklı yaz b) Hücreye çift tıklı yaz c) F5 tuşuna bas ve yaz d) Formül çubuğu ile yaz
30.  Yandaki Excel programı düğmesinin görevi aşağıdakilerden hangisidir?
a) Yazı tipi stilini değiştirir b) Yazıyı kalın yapar c) Yazıyı italik yapar d) Yazıyı sayfanın ortasına hizalar
31.  Yanda verilen üç düğmenin sırasıyla görevleri hangisinde doğru verilmiştir?
a) Kalın – Altı Çizili – İtalik b) Kalın – İtalik – Altı Çizili c) Boyut – Altı Çizili – Kalın d) Altı Çizili – Kalın – İtalik
32.  Yandaki Excel düğmesinin görevi aşağıdakilerden hangisidir?
a) Yazı rengi b) Hücreye Ortalac) Dolgu rengi d) Alt çizgi
33. Aşağıdakilerden hangisi Audacity programıyla yapılamaz?
a) Ses dosyasının sesini değiştirme b) Ses dosyasını kırpma ve bölme
c) Video dosyalarını birleştirme d) Ses dosyasına efekt verme
34. Audacity programına ses dosyası eklemek için hangi komut kullanılır?
a) Çıkış b) İçer aktar c) Dışa aktar d) Kaydet
35. Bir mp3 dosyasını 2 ayrı parçaya ayırma için hangi işlem uygulanır?
a) Bölme b) Kırpma c) Kaydetme d) İçer aktar
36. Bir mp3 dosyasının istenilen bölümünü almak için hangi işlem uygulanır?
a) Bölme b) Kırpma c) Kaydetme d) İçer aktar
37. Audacity programında bir çalışmayı mp3 olarak kaydetmek için hangi komut kullanılır?
a) Bölme b) Kırpma c) Kaydetme d) Dışa aktar
38. Aşağıdakilerden verilen dosya uzantılarından hangisi bir ses dosyasına ait değildir?
a) .mp3 b) .aac c) .avi d) .wav