



2.
SINIF



A
KİTAPÇIK TÜRÜ

T.C.
MİLLÎ EĞİTİM BAKANLIĞI
ÖLÇME, DEĞERLENDİRME VE SINAV HİZMETLERİ
GENEL MÜDÜRLÜĞÜ

TED ANKARA KOLEJİ VAKFI ÖZEL İLKOKULU VE ORTAOKULU SEÇME SINAVI
(1. Sınıftan 2. Sınıfa Geçenler)
12 MART 2023 Saat: 14.00

Adayın Adı ve Soyadı :
Aday Numarası (T.C. No) :
İmza :

DERS ADI	SORU SAYISI	TOPLAM SORU SAYISI	SINAV SÜRESİ (DAKİKA)
TÜRKÇE	20	60	60
MATEMATİK	20		
HAYAT BİLGİSİ	20		

ÖĞRENCİLERİN DİKKATİNE!

1. Sınıf öğrenci yoklama listesinde belirtilen sınıfta ve sıra numarasında oturunuz.
2. Soru kitapçıkları üzerinde doğru olan seçeneği daire içine alınız.

SALON BAŞKANI

Adı :
Soyadı :
T.C. Kimlik No:
İmza :

--	--	--	--	--	--	--	--	--	--

GÖZETMEN

Adı :
Soyadı :
T.C. Kimlik No:
İmza :

--	--	--	--	--	--	--	--	--	--

2. SINIF 2023



SINAV BAŞLAMADAN ÖNCE KİTAPÇIĞIN ARKA KAPAĞINDAKİ UYARILARI MUTLAKA OKUYUNUZ.

1. ça ko la ak mak par

Karışık hâlde verilmiş bu hecelerden aşağıdaki kelimelerin hangisi oluşturulabilir?

- A) parçalamak B) çapalamak C) konaklamak

2. “a, ş, r, m, a, s, k, ı” harflerinin tümünü bir defa kullanmak şartıyla aşağıdakilerden hangisi yazılabilir?

- A) şaşırmaq B) sarmaşık C) karmaşık


3. 1. tatilinde
2. yaz
3. çok
4. bu

----- eğlendik.

Anamlı bir cümle oluşturmak için, numaralanmış kelimeler boş bırakılan yerlere hangi sırayla yerleştirilmelidir?

- A) 2 - 1 - 4 - 3 B) 3 - 4 - 2 - 1 C) 4 - 2 - 1 - 3

4.



Aşağıdakilerden hangisi bu görsellerle ilgili değildir?

A) Tarım

B) Haberleşme

C) Turizm

5. Aşağıdaki altı çizili kelimelerden hangisinin yazımı yanlıştır?

A) Kardeşim lunaparkı görünce çok heycanlandı.B) Aradığımız çiçekler bunlar değildi.C) Onunla dün akşam uzun uzun konuştum.

6. Her hafta bir kitap bitiririm. Kitap okurken noktalama işaretlerine dikkat ederim ve okuma kurallarına uyarım.

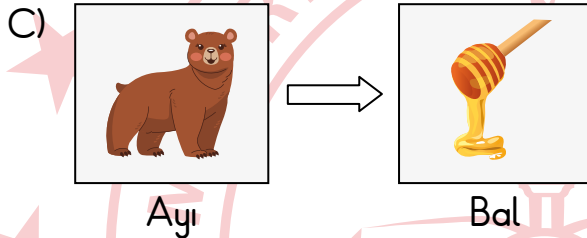
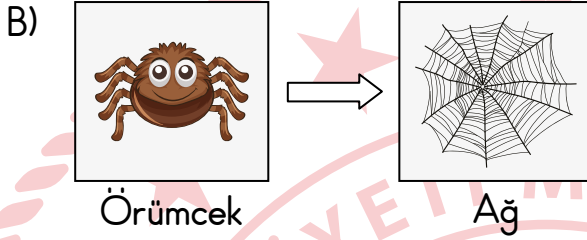
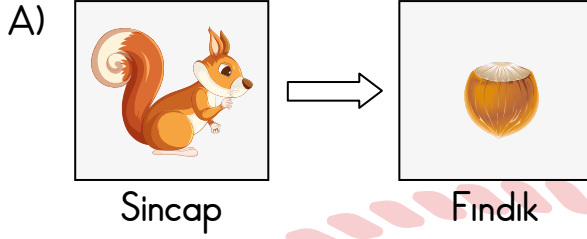
Bu sözleri söyleyen biriyle ilgili aşağıdakilerden hangisi söylenemez?

A) Okuma kurallarına dikkat eder.

B) Haftada bir kitap okur.

C) Kitap okurken bazı notlar alır.

7. Aşağıdakilerin hangisinde görselleri verilen varlıklar arasında farklı bir ilişki vardır?



8. Kek yaparken istediğin malzemeleri - - - - .

Anlamalı bir cümle oluşturmak için, boş bırakılan yere aşağıdakilerden hangisi getirilemez?

A) faydalanabilirsin

B) kullanabilirsin

C) seçebilirsin

9. Zebralar, sürüler hâlinde otlar ve su içer. Sürü otlarken veya su içerken mutlaka bir grup zebra çevreyi gözler. Bunu, avcı hayvanların sürüye yaklaşma ihtimaline karşı yaparlar. Çevreyi gözleyen zebralar, bir tehlike sezdiklerinde ses ve işaretlerle sürüyü uyarır.

Bu metne göre, “zebralar” ile ilgili aşağıdakilerden hangisine ulaşamaz?


- A) Sürü hâlinde beslenirler.
B) Ormanlık alanda yaşarlar.
C) Tehlikelere karşı önlem alırlar.

10. 1. Kahvaltıdan sonra final maçına gitmek için evden çıktım.
2. Uyanır uyanmaz elimi yüzümü yıkadım.
3. Formamı giyip kahvaltı sofrasına oturdum.


Numaralanmış cümleler oluş sırasına göre nasıl sıralanmalıdır?

- A) 1 - 3 - 2 B) 2 - 3 - 1 C) 3 - 1 - 2

11.



kar - - - -



ko - - - -

Numaralanmış görsellerdeki varlıkların adlarını tamamlamak için aşağıdaki hecelerden hangileri boş bırakılan yerlere sırasıyla getirilmelidir?

- | | | |
|----|-----|-----|
| | 1 | 2 |
| A) | ga | puz |
| B) | puz | yun |
| C) | ga | yun |

12. Akdeniz fokları, barınmak için deniz kıyılarındaki sessiz mağaraları seçer. Bazen yiyecek bulmak amacıyla mağaralarından çıkarlar. Yiyeceklerini nehirlerin denize ulaştığı alanlarda ararlar.

Bu metinde “Akdeniz fokları” ile ilgili aşağıdakilerden hangisine yer verilmiştir?

- A) Zor koşullarda yaşadıklarına
B) Nehirlerde barındıklarına
C) Beslenmek için gittikleri yerlere

13. Akşam saatlerinde bisikletli bir çocuk piknik alanına geldi.

Bu cümledeki altı çizili söz aşağıdaki sorulardan hangisinin cevabıdır?

- A) Kim? B) Nereye? C) Ne zaman?

14. Göklerde gezersin
Bulutlardan geçersin
Uzakları yakın edersin
Kanatların kuşa benzer
Yavaşça yere inersin

Bu şiirde şairin seslendiği varlık aşağıdakilerden hangisidir?

- A) Güneş B) Uçak C) Yaprak

15. Selim Amca'nın kızı, akşam pişirmek için iri ve lezzetli kestaneler istemişti. Selim Amca, bu yüzden köyün yakınlarındaki ormanın iç kısımlarına doğru yürüdü. Çünkü kestane ağaçları, sadece ormanın iç kısımlarında yetişirdi. Oraya vardığında kestane ağaçlarının çok büyüdüğünü ve yaşlandığını görünce şaşırdı.

Bu metne göre, Selim Amca'nın ormanın iç kısımlarına yürümesinin sebebi nedir?

- A) Büyük kestane ağaçlarını görmek
B) Kızının istediği kestaneleri toplamak
C) Kestane pişirmek için odun toplamak

16. Yarın yağış mı bekleniyor () O zaman evden çıkarken şemsiyemi almalıyım ()

Bu metinde yay ayrıçla () gösterilen yerlere sırasıyla gelmesi gereken noktalama işaretleri aşağıdakilerin hangisinde verilmiştir?

- A) (?) (.) B) (.) (!) C) (-) (?)

17. **Aşağıdaki cümlelerin hangisinde büyük harflerin yazımıyla ilgili bir yanlışlık vardır?**

- A) Arkadaşım Selin, papağanına geveze adını koydu.
B) Bu akşam Mert ve ailesi bizi ziyarete gelecek.
C) Esin, kardeşiyle her yaz Avrupa ülkelerini gezer.

18. Aşağıdaki kelimelerden hangisi hecelerine doğru ayrılmıştır?

A) Oy-un-cak

B) Kit-ap-lık

C) Çek-me-ce

19. Bakteriler gözle görülemeyecek kadar küçük canlılardır. Bu küçük canlılar; hava, su ve toprak gibi birçok yerde yaşar. Bakterilerin bazıları yararlıyken bazıları da zararlıdır.

Bu metne göre, aşağıdakilerden hangisi söylenebilir?

A) Zararlı bakterilerin kolayca görüldüğü

B) Bakterilerin çeşitli yerlerde bulunduğu

C) Suda daha fazla bakteri yaşadığı

20. Arkası siyah
Önü beyaz
Kocaman bir kuş bu
Ama uçamaz

Kıvrıktır gagası
Kısaktır kanatları
Kaymaz buzda ayakları

Bu şiir aşağıda görseli verilen canlılardan hangisini anlatmak için yazılmıştır?

A)



B)



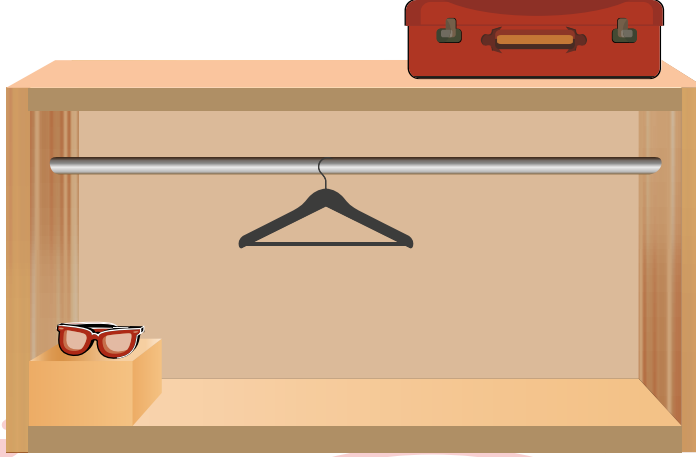
C)



TÜRKÇE TESTİ BİTTİ.
MATEMATİK TESTİNE GEÇİNİZ.






1.



Görsele göre, aşağıdakilerden hangisi doğrudur?

- A) Gözlük, askıya göre valize daha yakındır.
- B) Askı, valizden daha alçaktadır.
- C) Gözlük, valizden daha yüksektedir.

2. Aşağıdakilerin hangisinde tabaktaki toplam çilek sayısını belirten rakam doğru yazılmıştır?


<u>Tabaktaki Çilekler</u>	<u>Toplam Çilek Sayısı</u>
A) 	7
B) 	6
C) 	4

3. Görselde birer tane kupa, tencere ve kaşık verilmiştir.




Bu nesnelerin kütlelerine göre, büyükten küçüğe doğru sıralanışı aşağıdakilerden hangisidir?


A)



B)



C)



4. 6'dan başlayarak ileriye doğru birer ritmik sayarken söylenen sayıların her biri aşağıdaki kâğıtların üzerine sırasıyla yazılacaktır. Bu kâğıtların birincisine 6 sayısı yazılmıştır.

6								
---	--	--	--	--	--	--	--	--

Her boş kâğıda bir sayı yazılacağına göre, yazma işlemi tamamlandığında aşağıdakilerden hangisi doğru olur?

- A) Kâğıtlarda yazan sayılardan 5 tanesi rakamdır.
 B) 12 sayısının yazıldığı kâğıttan önce 6 tane kâğıt vardır.
 C) Son kâğıda yazılan sayı 15'tir.

5. 35'ten başlayarak ileriye doğru beşer ritmik sayılmıştır.

Buna göre, altıncı sırada söylenen sayı kaçtır?




- A) 60 B) 65 C) 70

6. Ayşe, 11'den başlayarak ileriye doğru ikişer ritmik sayıyor. Burak ise 17'den başlayarak geriye doğru birer ritmik sayıyor.

Buna göre, aşağıdakilerden hangisi bu saymada Ayşe ve Burak'ın her ikisinin de söylediği sayılardan biri değildir?

- A) 13 B) 14 C) 15


7. Farklı nesnelerin olduğu görseller verilmiştir.



Buna göre, bu nesneler ile ilgili aşağıdakilerden hangisi yanlıştır?

- A) Kalemelerin sayısı, kalemıraşların sayısına eşittir.
B) Kalemıraşların sayısı, silgilerin sayısından fazladır.
C) Kalemelerin her biri, birer silgi ile eşleştirildiğinde 1 tane silgi açıkta kalır.

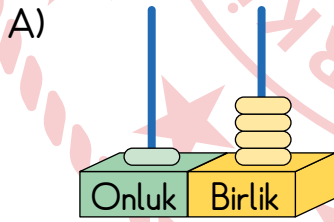
8. Aşağıdakilerin hangisinde verilen meyvelerin sayısı 10'a eşittir?



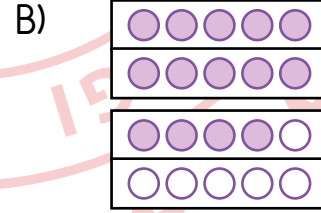
9. Bir doğal sayının onluk ve birliklerine ayrılmış gösterimi aşağıda verilmiştir.

Onluk	Birlik
1	4

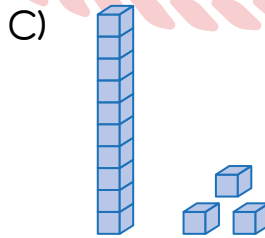
Buna göre, aşağıdakilerin hangisinde bu sayının farklı gösterimlerinin birinde hata yapılmıştır?



Abaküs ile gösterim



Onluk kart ile gösterim



Sayı blokları ile gösterim

10. Cenk, Derya ve Elif'in de bulunduğu 10 kişiden oluşan görseldeki sırada, Cenk baştan birinci sıradadır.



Cenk

Bu sırada, Elif baştan yedinci sıradadır. Derya ile Elif'in arasında ise 1 kişi vardır.

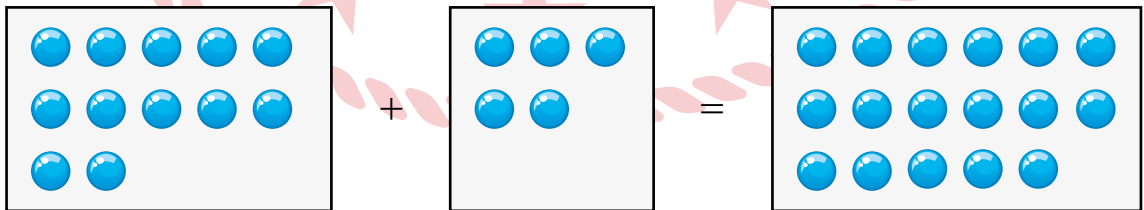
Derya, Cenk'e Elif'ten daha yakın olduğuna göre Derya kaçinci sıradadır?

A) 5

B) 6

C) 9

11. Aşağıda bir işlemin modellenmesi verilmiştir.



Buna göre, bu işlem aşağıdakilerden hangisidir?

A) $11 + 6 = 17$ B) $12 + 5 = 17$ C) $10 + 7 = 17$

12. Üzerinde, toplama işlemlerinin yazılı olduğu kırmızı kartlar ve doğal sayıların yazılı olduğu mavi kartlar aşağıda verilmiştir.

5 + 4	12
3 + 9	9
6 + 2	10
8 + 3	11
	8

Kırmızı kartın üzerindeki işlemin sonucu ile aynı olan doğal sayının yazılı olduğu mavi kart birbiri ile eşleşecektir.

Buna göre, bu eşleştirme işlemi tamamlandıktan sonra açıkta kalan mavi kart aşağıdakilerden hangisidir?

A) 10

B) 11

C) 12

13. $11 + 6 = \blacksquare + 11$

Verilen toplama işleminde \blacksquare bir doğal sayıdır.

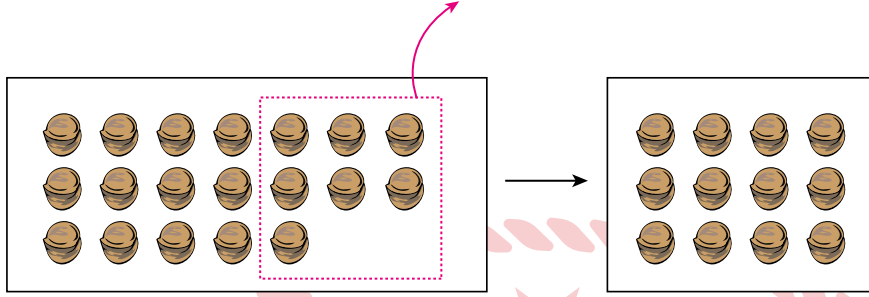
Buna göre, \blacksquare kaçtır?

A) 6

B) 5

C) 4

14. Aşağıda bir işlemin modellemesi verilmiştir.



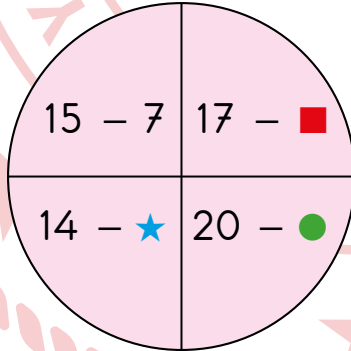
Buna göre, bu işlem aşağıdakilerden hangisidir?

A) $19 - 6 = 13$

B) $18 - 6 = 12$

C) $19 - 7 = 12$

15. Görseldeki dört bölmeye ayrılmış şeklin her bir bölmesinde yazan çıkarma işleminin sonucu 8'e eşittir.



Örneğin : $15 - 7 = 8$

Bu şekilde ★, ■ ve ● birer doğal sayıdır.

Buna göre, aşağıdakilerden hangisi ★, ■ ve ●'in yerine yazılması gereken doğal sayılardan biri değildir?

A) 7

B) 9

C) 12

16. Aşağıdakilerin hangisinde bir çıkarma işleminin sözel ifadesi verilmiştir?

- A) Dokuz artı üç eşittir on iki.
- B) Sekiz eksi üç eşittir beş.
- C) Yedi artı iki eşittir dokuz.

17. Aşağıdakilerin hangisinde verilen paraların toplam değeri daha fazladır?



18. Bir sepette 7 tane elma vardır. Bu sepete bir miktar daha elma eklendiğinde sepetteki toplam elma sayısı 18 tane olmuştur.

Buna göre, bu sepete eklenen elma sayısı kaçtır?

- A) 10
- B) 11
- C) 12

19. Aşağıda verilen zihinden toplama işlemlerinin hangisinde hata yapılmıştır?

A) $9 + 7$
 $1 + 6$
 $10 + 6 = 16$

B) $8 + 6$
 $2 + 4$
 $10 + 4 = 14$

C) $6 + 5$
 $3 + 2$
 $10 + 2 = 12$

20. Ecem'in 9 tane siyah, 6 tane de kırmızı kalemi vardır.

Buna göre, Ecem'in siyah ve kırmızı kalemlerinin sayılarının toplamı kaçtır?

A) 15

B) 16

C) 17

MATEMATİK TESTİ BİTTİ.
HAYAT BİLGİSİ TESTİNE GEÇİNİZ.




1. Ebru : Benim adım Ebru Fırat.
Mert : Ben de Mert Öztürk.
Ebru : - - - -

Konuşmanın devamında Ebru'nun aşağıdakilerden hangisini söylemesi daha uygun olur?

- A) Silgim nerede?
B) Tanıştığımıza sevindim.
C) Rica ederim.


2. Aşağıdakilerden hangisi sınıfta bulunan ders araç ve gereçlerinden biridir?

A)




Çöp kovası

B)



Perde

C)



Pano

3. Aras, sınıfta meyve suyunu yanlışlıkla sırasına dökmüştür.

Buna göre Aras, aşağıdakilerden hangisine giderek yardım istemelidir?

- A) Müdüre
- B) Temizlik görevlisine
- C) Rehber öğretmene

4. Aşağıdaki öğrencilerden hangisi sınıf içinde uyulması gereken kuralardan birini söylemiştir?

A)



Berk

Derste söz hakkı alarak konuşmalıyız.

B)



Ceylin

Tuvaletleri temiz kullanmalıyız.

C)



Umut

Kantinde sıraya girmeliyiz.

5. Arkadaşından kalem isteyen Canan'ın aşağıdakilerden hangisini söylemesi doğru olur?


- A) Fazla kalemin var mı?
- B) Kalemimi bana ver!
- C) Bu kalem benim olsun.

6. Aşağıdakilerden hangisi Erdem'in okul içi etkinliklerde aldığı görevlerden biri olabilir?

- A) Ailesi ile sinemaya gitmesi
- B) Cumhuriyet Bayramı'nda şiir okuması
- C) Akrabalarını ziyaret etmesi

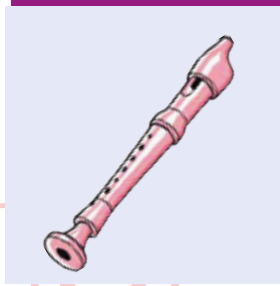
7. Beden eğitimi dersi olan bir öğrenci, çantasına aşağıdaki araç-gereçlerden hangisini koymalıdır?

A)



Abaküs

B)



Flüt

C)



Spor ayakkabı

8. Gün içindeki işlerini planlayarak yapan bir öğrenciyle ilgili aşağıdakilerden hangisine ulaşılır?

- A) Oyun oynamayı sever.
- B) Zamanını verimli kullanır.
- C) Arkadaşlarına saygılıdır.

9. Aşağıdakilerin hangisinde sağlıklı besinler birlikte verilmiştir?

- A) Çikolata - Kola
- B) Cips - Elma şekeri
- C) Balık - Yumurta


10.




Anne



Öğretmen



Babaanne



Dede



Arkadaş

Selen, aile albümü hazırlamak için yukarıdaki fotoğraflardan kaç tanesini kullanabilir?

A) Üç

B) Dört

C) Beş

11. Çetin'in oturduğu sokağın görseli aşağıda verilmiştir.



Bu görsele göre, Sevgi Apartmanı'nda oturan Çetin'in evinin karşısında aşağıdakilerden hangisi bulunmaktadır?

A) Market

B) Güneş Apartmanı

C) Bayrak İlkokulu

12.



Bu görseldeki çocuk için aşağıdakilerden hangisi söylenebilir?

- A) Kişisel bakımını önemsiz görüyor.
- B) Kaynağı israf ederek kullanıyor.
- C) Evdeki eşyalara zarar veriyor.

13. Öğretmenin "Kişisel bakımınız için neler yaparsınız?" sorusuna aşağıdaki öğrencilerden hangisi doğru cevap vermiştir?

A)



Samet

Sağlıklı beslenirim.

B)



Melisa

Sık sık banyo yaparım.

C)



Ceren

Erken yatıp erken kalkarım.

14.



Bu görseller aşağıdakilerden hangisi ile ilgilidir?


- A) Sağlıklı hayat
- B) Okul kuralları
- C) Ailedeki değerler

15. Aşağıdaki görsellerden hangisi görgü kurallarına uygun bir davranışı göstermektedir?

A)



B)



C)



16. Aşağıdakilerden hangisi trafikte uyulması gereken kurallara örnektir?

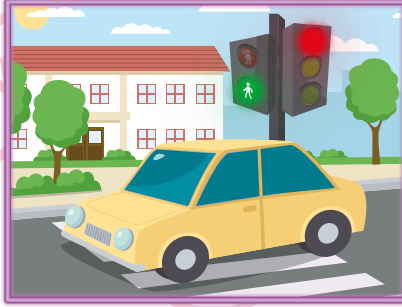
A)



B)



C)



17. Aşağıdakilerden hangisi oyun oynamak için güvenli bir alandır?

A)



B)



C)



18.



İlknur
Öğretmen

Bu trafik işaret levhasını gören sürücüler, yayaların güvenli geçebilmeleri için hızlarını azaltır ve dururlar.

İlknur Öğretmen'in anlattığı trafik işaret levhası aşağıdakilerden hangisidir?

A)



B)



C)



19. Genel ağda güvenli iletişim için aşağıdakilerden hangisini paylaşmak yanlıştır?

- A) Okuduğumuz kitapları
- B) Sevdığımız yiyecekleri
- C) Kimlik bilgilerimizi

20. Aşağıdakilerden hangisi teknolojik araç ve gereçlerin doğru kullanımına örnektir?

A)



B)



C)



TEST BİTTİ.
CEVAPLARINIZI KONTROL EDİNİZ.



SINAV BAŞLAMADAN AŞAĞIDAKİ UYARILARI MUTLAKA OKUYUNUZ!

1. Öğrenciler, sınav kurallarına ve salon görevlilerinin tüm uyarılarına uymak zorundadırlar.
2. Sınav başladıktan sonra öğrencilerin salon görevlileri ve birbirleri ile konuşmaları, kalem, silgi vb. şeyleri istemeleri yasaktır.
3. **Soru kitapçıları üzerinde doğru olan seçeneği daire içine alınız.**
4. Değiştirmek istediğiniz bir cevabı, yumuşak silgiyle soru kitapçığını yıpratmadan temizce siliniz ve yeni cevabınızı işaretleyiniz.
5. Soru kitapçığının sayfalarını kontrol ediniz, baskı hatası var ise değiştirilmesini sağlayınız.
6. Soru kitapçığının içindeki boş alanları çözümlerinizi için kullanabilirsiniz.
7. Cevaplamaya istediğiniz sorudan başlayabilirsiniz.
8. Cevabını bilmediğiniz sorular üzerinde fazla zaman kaybetmeden diğer sorulara geçiniz. Zamanınız kalırsa bu sorulara daha sonra dönebilirsiniz.
9. Sınav puanınızın hesaplanmasında 2 yanlış 1 doğru cevabınızı götürecektir. Alt testler bu şekilde hesaplanarak net puanlarının toplamı toplam net puanınızı verecektir.
10. Sınav bitiminde, soru kitapçığını salon görevlilerine teslim ediniz.
11. Sınav sırasında çanta, cep telefonu, saat, kablosuz iletişim sağlayan cihazlar ve kulaklık, kolye, küpe, bilezik, yüzük, broş ve benzeri eşyalar ile her türlü elektronik ve/veya mekanik cihazları yanınızda bulundurmamıştır. Bu araçları yanınızda bulundurmanız ve kopya çekmeye teşebbüs etmeniz hâlinde sınavınız geçersiz sayılacaktır.
12. Soru kitapçığınızı sınav süresince hiçbir öğrencinin göremeyeceği şekilde önünüzde bulundurunuz.
13. Sınavınızın değerlendirilmesi aşamasında, toplu kopya tespiti veya başka adayın sınav evrakını kullanmanız durumunda sınavınız geçersiz sayılacaktır.
14. Soruları ve sorulara verdiğiniz cevapları kaydetmeyiniz, hiçbir şekilde dışarı çıkarmayınız.
15. İlk 15 dakika dışarı çıkılmayacaktır.
16. Sınav evraklarını teslim etmeyenlerin sınavı geçersiz sayılacaktır.

SINAV GÖREVLİLERİNCE SINAV BAŞLAMADAN ÖNCE ÖĞRENCİLERE YAPILACAK SON UYARI!

- Soracağınız bir şey var mı? Varsa, şimdi sorunuz.
- Sınav başladıktan sonra sorularınıza cevap verilmeyecektir.
- Başlama zilini bekleyiniz.

Hepinize başarılar dileriz.

(Sınav görevlisi başlama ve bitiş saatini tahtaya yazacaktır.)

Bu kitapçığın her hakkı saklıdır. Hangi amaçla olursa olsun, kitapçığın tamamının veya bir kısmının Millî Eğitim Bakanlığı Ölçme, Değerlendirme ve Sınav Hizmetleri Genel Müdürlüğünün yazılı izni olmadan kopya edilmesi, fotoğraflarının çekilmesi, bilgisayar ortamına alınması, herhangi bir yolla çoğaltılması, yayımlanması veya başka bir amaçla kullanılması yasaktır. Bu yasağa uymayanlar, doğabilecek cezai sorumluluğu ve kitapçığın hazırlanmasındaki mali külfeti peşinen kabullenmiş sayılır.

**12 MART 2023 TARİHİNDE YAPILAN TED ANKARA KOLEJİ VAKFI
ÖZEL İLKOKULU VE ORTAOKULU SEÇME SINAVI
2. SINIF “A” KİTAPÇIĞI CEVAP ANAHTARI**

TÜRKÇE

1. A
2. B
3. C
4. C
5. A
6. C
7. B
8. A
9. B
10. B
11. B
12. C
13. A
14. B
15. B
16. A
17. A
18. C
19. B
20. C

MATEMATİK

1. B
2. C
3. C
4. B
5. A
6. B
7. B
8. C
9. C
10. A
11. B
12. A
13. A
14. C
15. A
16. B
17. C
18. B
19. C
20. A

HAYAT BİLGİSİ

1. B
2. C
3. B
4. A
5. A
6. B
7. C
8. B
9. C
10. A
11. C
12. B
13. B
14. A
15. C
16. B
17. C
18. A
19. C
20. A

