

5.
SINIF



A
KİTAPÇIK TÜRÜ

T.C.
MİLLÎ EĞİTİM BAKANLIĞI
ÖLÇME, DEĞERLENDİRME VE SINAV HİZMETLERİ
GENEL MÜDÜRLÜĞÜ

VEHBİ KOÇ VAKFI KOÇ ÖZEL İLKOKULU VE ORTAOKULU SEVİYE TESPİT SINAVI
(4. Sınıftan 5. Sınıfa Geçenler)
11 HAZİRAN 2023 Saat: 10.00

Adayın Adı ve Soyadı :
Aday Numarası (T.C. No) :

DERS ADI	SORU SAYISI	TOPLAM SORU SAYISI	SINAV SÜRESİ (DAKİKA)
TÜRKÇE	20	100	120
MATEMATİK	20		
FEN BİLİMLERİ	20		
SOSYAL BİLGİLER	20		
İNGİLİZCE	20		

ÖĞRENCİLERİN DİKKATİNE!

1. Sınıf öğrenci yoklama listesinde belirtilen sınıfta ve sıra numarasında oturunuz.
2. Cevap kâğıdındaki kimlik bilgilerinin doğruluğunu kontrol ediniz.
3. Kitapçık türünü cevap kâğıdındaki ilgili alana kodlayınız.
4. Cevap kâğıdı üzerindeki kodlamaları kurşun kalemle yapınız.



SINAV BAŞLAMADAN ÖNCE KİTAPÇIĞIN ARKA KAPAĞINDAKİ UYARILARI MUTLAKA OKUYUNUZ.

1. Uyanıp perdeyi araladığında yağmur
1

bulutları gökyüzünü çoktan kaplamıştı.
2

Zaten böyle soğuk ve yağmurlu havalar
onu hep daraltırdı. Bu yüzden gün boyu
3

sıcak yatağında kalmak istedi.
4

**Bu metindeki numaralanmış kelimelerin
hangisi mecaz anlamda kullanılmıştır?**

- A) 1 B) 2 C) 3 D) 4

2. Aşağıdaki cümlelerin hangisinde
“dolaşmak” kelimesi diğerlerinden farklı
bir anlamda kullanılmıştır?

- A) Dev balıkları görmek istediğinden tüm
gün akvaryumu dolaştı.
B) Parkın içindeki yoldan gitmezseniz çok
dolaşırsınız.
C) İsteddiği elbiseyi alabilmek için caddedeki
mağazaları dolaştı.
D) Yazarın ilk kitabını bulmak için kitabev-
lerinin çoğunu dolaşmış.

3. Aşağıdaki altı çizili kelimelerden hangisi
terim anlamlıdır?

- A) Ağaçlar topraktan aldıkları besinleri
köklerinde depolar.
B) Nehir kenarındaki ağaçlar köydekilerden
daha büyüktü.
C) Bu duvar, elimizdeki fırçalarla ancak bir
haftada boyanır.
D) Mutlu olmak, verdiğimiz doğru kararlara
bağlıdır.

4. Hayranım tozlu yollarına bile
Taşıyla, toprağıyla birlikte
Vatan, türküler söyler
Aşkıyla tutuşan bu gönüllere

**Bu şiirin konusu aşağıdakilerden han-
gisidir?**

- A) Kavuşma ümidi
B) Memleket sevgisi
C) Yaşama sevinci
D) Doğa hayranlığı

5. 1. Birkaç hafta güneşin altında bekleyen
sarı renkteki pamuklar, dalında olgunla-
şıp beyaz renk alır.
2. Toplanan pamuklar ip yapılmak üzere
traktörlerle çırçır fabrikasına götürülür.
3. Çukurova tarlalarındaki kozalar ilk açtı-
ğında ortaya çıkan pamuk, sarı renktedir.
4. Olgunlaşan bembeyaz pamuklar, çiftçi-
ler tarafından toplanır.

**Numaralanmış cümlelerle anlamlı bir
metin oluşturulduğunda hangisi
baştan üçüncü olur?**

- A) 1 B) 2 C) 3 D) 4

6. Aşağıdaki altı çizili deyimlerden hangisi
“telaşlanmak” anlamında kullanılmıştır?

- A) Filmin son sahnesine gelince kendini
tutamadı ve ağlamaya başladı.
B) Annem, odamın dağınık hâlini görünce
donup kaldı.
C) Taşınacakları ofisi bir an önce temizle-
mek için kolları sıvadılar.
D) İşleri vaktinde yetiştiremeyeceğini anla-
yınca paçaları tutuştu.

7. Uzun Mehmet, köyün dışındaki kayalıkta bulduğu beş on parça siyah taşla eve geldi. Yanan ocağa elindeki taşların hepsini attı. Merakla bekledi fakat hiçbir yanmadı. Ne yazık ki bu taşlar maden kömürü değildi.

Bu metinde aşağıdaki hikâye unsurlarından hangisi yoktur?

- A) Mekân B) Zaman
C) Olay D) Kişi

8. TÜBİTAK tarafından düzenlenen Uluslararası İnsansız Hava Araçları Yarışması'nın üçüncüsü yapıldı. Yarışma İstanbul Havalimanı'nda, 20-23 Eylül 2018 tarihinde gerçekleştirildi. Farklı ülkelerden birçok takımın katıldığı yarışmalarda Türk takımları çok sayıda ödül aldı.

Bu metinden, yarışmayla ilgili aşağıdakilerden hangisine kesinlikle ulaşılır?

- A) Türk takımlarının kazandığı derecelere
B) Her sene aynı yerde düzenlendiğine
C) Daha önce de yapıldığına
D) Katılan ülke sayısına

9. (1) Koca bir öğleden sonrayı bahçede çalışarak geçiren Kerem iyice acıkmıştı. (2) Eve girdiğinde içeriye saran iştah açıcı kokunun masadaki tepside geldiğini fark etti. (3) Kaplumbağayı andıran kahverengi tümseklerin Cemile Teyze'nin meşhur yemeği olduğunu anladı. (4) Öylesine acıkmıştı ki o nefis lokmaları midesine indirmek için masaya yöneldi.

Bu metindeki numaralanmış cümlelerin hangisinde benzetme vardır?

- A) 1 B) 2 C) 3 D) 4

10. (1) Akdeniz'de yaşayan üç metre uzunluğundaki ay balığı diğer balıklardan oldukça farklı görünür. (2) Bu balığın ağzı bir gagaya benzer ve ön dişleri de birbirine bitişiktir. (3) Ay balığı, ağzını tamamen kapatamadığından besinleri ön dişleriyle çiğneyemez. (4) Ağzının içine aldığı besinleri yutak bölümündeki dişleriyle parçalar.

Bu metindeki numaralanmış cümlelerin hangisinde neden-sonuç ilişkisi vardır?

- A) 1 B) 2 C) 3 D) 4

11. Minyatür, Osmanlı Devleti'nde sıklıkla kullanılan bir resim sanatıydı. Sanatçılar, bilim ve tarih kitaplarını süslemek amacıyla minyatür yapmaktaydılar. Minyatürler, saray yaşamını ve günlük hayatı anlattığı için günümüzde tarihî belge olarak kabul edilmektedir. Hem ülkemizde hem de diğer ülkelerde bugün hâlâ birçok sanatçı bu sanatla uğraşmaktadır.

Bu metinde “minyatür” ile ilgili aşağıdakilerden hangisine değinilmemiştir?

- A) Sarayları süslemek için kullanıldığına
B) Günümüzde yapılmaya devam edildiğine
C) Farklı türdeki kitaplarda yer aldığına
D) Tarihî belge özelliği taşıdığına

12. Araç lastiğinin mevsim şartlarına uygun olmasına dikkat edilmelidir. Çünkü araç lastiklerinin yol tutuşu hava koşullarına göre farklılık gösterir. Bu yüzden kışın aracın kaymasını engelleyen kış lastikleri, yazın ısıya dayanıklı yaz lastikleri kullanımalıdır.

Bu metinde aşağıdaki soruların hangisinin cevabı yoktur?

- A) Araç lastikleri kaç yılda bir yenilenmelidir?
B) Hava koşulları araç lastiklerini etkiler mi?
C) Yaz lastiğinin özelliği nedir?
D) Kış lastikleri ne işe yarar?

13. Aşağıdaki cümlelerin hangisinde altı çizili kelime, karşısında verilen anlama uygun kullanılmamıştır?

Cümle	Anlam
A) Bu <u>tatlı</u> elmaları dedemin bahçesinden topladım.	Şeker tadında olan
B) Hasan, eskiden beri futbol <u>hastası</u> bir adamdı.	Aşırı düşkün, tutkun
C) Bahar gelince kuş sesleri adanın her bir <u>köşesini</u> sardı.	Bölüm, yer veya yan
D) Kapıyı açamayınca ablasını apartmanın <u>önünde</u> bekledi.	Önce olan, ilk


14. (1) Toros sediri, adını aldığı dağların bulunduğu Akdeniz Bölgesi'nde yetişir. (2) Oldukça görkemli olan bu sedir ağaçlarının boyu 40 metreyi bulur. (3) İğne yapraklı türlerden olan bu ağaçların kozalakları fıçı şeklindedir. (4) Genç Toros sedirlerinin tepeleri daha sivriyken yaşlı olanların tepeleri geniş ve yassıdır.

Bu metindeki numaralanmış cümlelerin hangisinde karşılaştırmaya yer verilmiştir?

- A) 1 B) 2 C) 3 D) 4

15. Arda, Buket, Can, Damla ve Emre adlı çocukların yaşlarıyla ilgili bazı bilgiler aşağıda verilmiştir.

- Yaşları 5, 7, 8, 10 ve 12'dir.
- Emre, 7 yaşındadır.
- Damla, Emre'den küçüktür.
- Buket, Emre'den bir yaş büyüktür.
- Can, 12 yaşında değildir.



Buna göre, çocuklardan hangisi 10 yaşındadır?

- A) Buket
C) Damla
B) Can
D) Arda

16. Aşağıdaki cümlelerin hangisinde yazım yanlışı yoktur?

- A) Ezgi, beğendiği fıkrayı arkadaşarında anlattı.
B) Amcam, antik kentteki kazı çalışmalarına katılmıştı.
C) Öyle güzel konuşuyorduki dinleyenler hayran kaldı.
D) Arabası arızalandığı için bu sabahda işe geç kaldı.

17. Senfoni orkestraları, senfonileri ve klasik müzik eserlerini seslendiren en büyük orkestralardır. Üflemeli, vurmali, yayli ve telli çalgılardan oluşan bu orkestraların müzisyen sayısı çalınacak esere göre değişir. Müzisyenlerin sahnedeki yerleri çaldıkları müzik aletine göre belirlenir. Bu orkestralarda müzisyenleri yöneten bir orkestra şefi bulunur. Orkestra şefi, çalınacak müziğin hızını ve canlılığını el kol hareketleriyle veya baton adı verilen bir çubukla belirler.

Bu metinde, "senfoni orkestraları" ile ilgili aşağıdakilerden hangisine yer verilmemiştir?

- A) Çaldıkları eserlerin türüne
B) Müzisyen sayısının farklılık gösterdiğine
C) Şefin orkestradaki görevine
D) Üflemeli çalgıların sahnedeki yerine

18. Pelin () Yaşasın () yarın bayram () Acaba törende kimler şiir okuyacak () () diye arkadaşına sordu.

Bu metinde yay ayraçla () gösterilen yerlere sırasıyla gelmesi gereken noktalama işaretleri aşağıdakilerin hangisinde verilmiştir?

- A) (") (.) (!) (?) (")
B) (:) (!) (.) (?) (-)
C) (:) (.) (!) (.) (-)
D) (") (.) (?) (.) (")

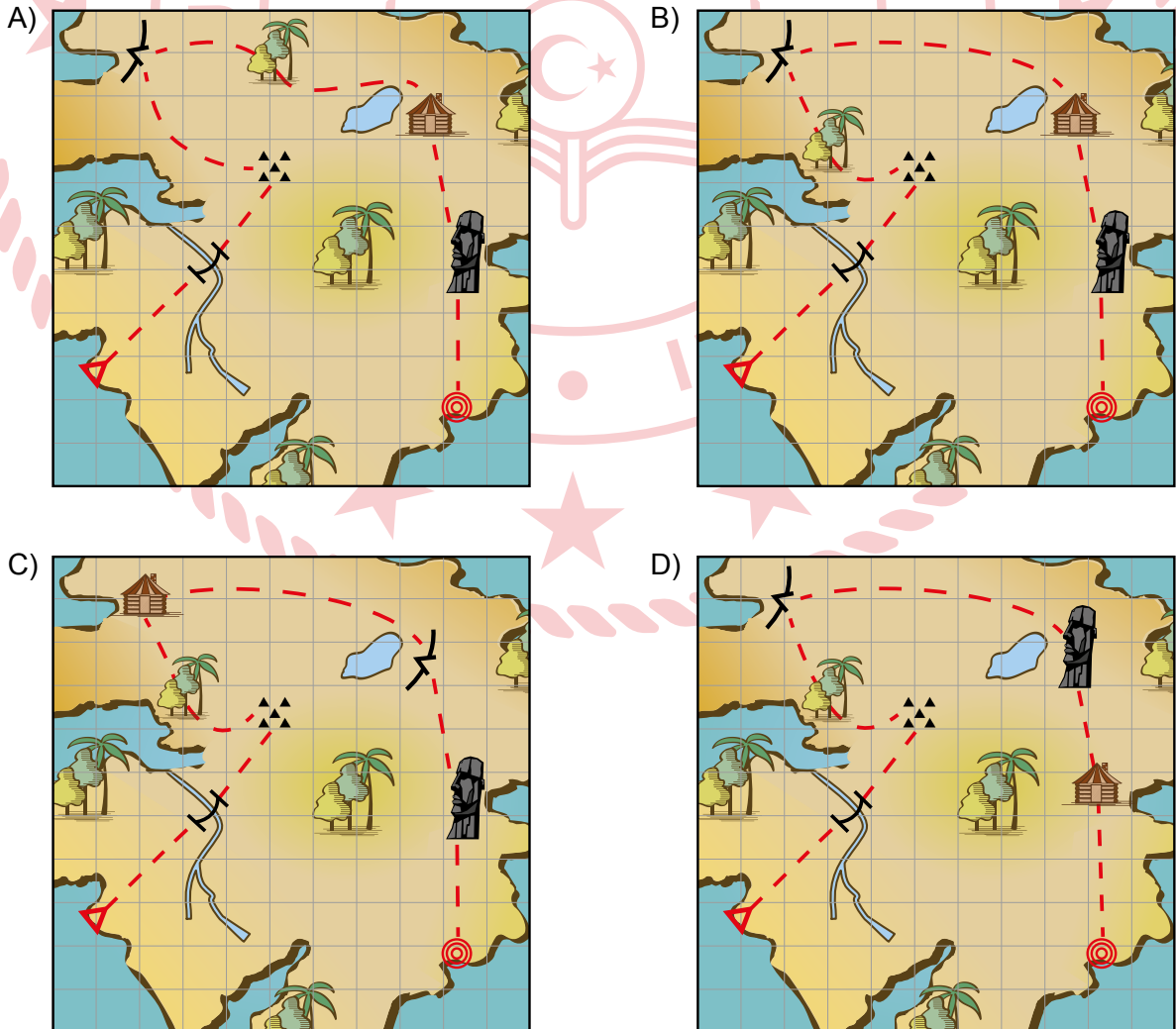
19. Bir adaya yapılan geziyle ilgili notlar aşağıda verilmiştir.

GEZİ NOTLARI	
Gezi teknesi bizi adadaki başlangıç noktasına bıraktı. Kamp yapacağımız yere giderken nehrin üzerindeki asma köprüden geçtik. Uzun bir yürüyüşün ardından vardığımız kayalık alanda kamp yaptık. Sabahın ilk ışıklarıyla ormandan geçerek mağaraya vardık. Mağarayı gezdikten sonra dağ evine gitmek için oradan ayrıldık. Göl kenarındaki dağ evinde geceyi geçirip sabah erkenden yola çıktık. Son durağımız olan harabeleri gezdik ve teknenin bizi alacağı bitiş noktasına yürüdük.	

Bu gezide uğranılan yerleri haritada göstermek için bazı semboller kullanılmıştır.

Harita Sembolleri ve Anlamları							
	Başlangıç Noktası		Yol		Asma Köprü		Mağara
	Bitiş Noktası		Göl		Orman		Dağ Evi
					Kayalık Alan		Harabe
					Nehir		

Buna göre, gezide uğradıkları yerlerin tümünü sırasıyla gösteren harita aşağıdakilerden hangisidir?



20. Aşağıda limonata tarifine ait aşamaların anlatımı doğru sırayla verilmiştir. Ancak anlatıma karşılık gelen görsellerin sırasında yanlışlık yapılmıştır.

BUZ GİBİ LİMONATA TARİFİ

1 Limon, kabuğunun içindeki beyaz kısım ortaya çıkana kadar rendelenir.

2 Rendelenmiş limon kabukları, bir çırpıcı yardımıyla şekerle karıştırılır.

3 Kabuğu rendelenen limonlar bir sıkacak yardımıyla sıkılarak suyu çıkarılır.

4 Limon kabuğu ve şeker karışımının içine limon suyu eklenir ve karıştırılır.

5 Limon kabuğu, şeker ve limon suyunun bulunduğu kaba su eklenir ve karıştırılır.

6 Hazırlanan karışıma nane eklenir ve karıştırılır.

7 Hazır hâle gelen limonata sürahiye konur ve buzdolabında soğumaya bırakılır.

Afiyet Olsun.

Buna göre, numaralanmış görsellerden hangileri yer değiştirirse anlatım ve görseller doğru eşleşmiş olur?

A) 1 - 3

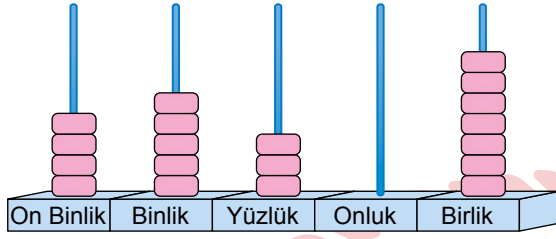
B) 2 - 4

C) 4 - 6

D) 5 - 7



1. Görseldeki abaküste beş basamaklı bir doğal sayı modellenmiştir.



Buna göre, bu sayının okunuşu aşağıdakilerden hangisidir?

- A) Kırk beş bin otuz yedi
B) Kırk beş bin yetmiş üç
C) Kırk beş bin üç yüz yedi
D) Kırk beş bin üç yüz yetmiş

2. Altı basamaklı bir doğal sayının basamak değerlerinin toplamı aşağıda verilmiştir.

$$300\,000 + 8\,000 + 70 + 4$$

Buna göre, bu sayı aşağıdakilerden hangisidir?

- A) 380 740
B) 380 074
C) 308 740
D) 308 074

3. Altı basamaklı, rakamları farklı; $57\blacktriangle 213$, $576\bullet 10$ ve $57612\star$ doğal sayılarının sıralaması aşağıda verilmiştir.

$$57\blacktriangle 213 > 576\bullet 10 > 57612\star$$

Buna göre, $\star + \bullet + \blacktriangle$ işleminin sonucunun alabileceği en küçük değer kaçtır?

- A) 7 B) 8 C) 9 D) 10

4. Dört basamaklı, $5\blacktriangle 48$ ve $37\blacksquare 2$ doğal sayıları ile yapılan toplama işlemi aşağıda verilmiştir.

$$\begin{array}{r} 5\blacktriangle 48 \\ + 37\blacksquare 2 \\ \hline \bullet 530 \end{array}$$

Buna göre, $\blacktriangle + \blacksquare + \bullet$ işleminin sonucu kaçtır?

- A) 24 B) 23 C) 22 D) 21

5. Bir çıkarma işleminde fark 2527, çıkan ise farktan büyük bir doğal sayıdır.

Buna göre, eksilen sayının alabileceği en küçük değer kaçtır?

- A) 5053 B) 5054
C) 5055 D) 5056

- 6.

$$\begin{array}{r} 1318 \\ + 2574 \\ \hline \end{array}$$

Verilen toplama işleminde Ayberk toplananları en yakın onluğa, Beyza ise toplananları en yakın yüzlüğe yuvarlayıp toplayarak iki farklı tahminî sonuç bulmuşlardır.

Buna göre, Beyza'nın bulduğu sonuç ile Ayberk'in bulduğu sonuç arasındaki fark kaçtır?

- A) 10 B) 20 C) 80 D) 90

7. Bir fabrikada birinci gün 1475 tane, ikinci gün 2549 tane pantolon üretilmiştir. Bu fabrikada, üçüncü gün üretilen pantolonların sayısı ise ikinci gün üretilen pantolonların sayısından 375 fazladır.

Buna göre, bu üç günde üretilen pantolonların sayılarının toplamı kaçtır?

- A) 6828 B) 6838
C) 6938 D) 6948

8. Aşağıdaki yedi kartın her birinin üzerinde bir rakam yazılıdır.

8 0 1 4 3 5 7

Önce, bu kartlarla oluşturulabilecek üç basamaklı en küçük çift doğal sayı kartların üç tanesi yan yana dizilerek oluşturulmuştur. Daha sonra ise geriye kalan dört tane kart yan yana dizilerek dört basamaklı bir doğal sayı oluşturulmuştur.

Buna göre, oluşturulan bu iki sayının farkı en fazla kaçtır?

- A) 8615 B) 8624
C) 8649 D) 8651

9. Bir kırtasiyedeki silgilerin sayısı 1238'dir. Bu kırtasiyede kalemelerin sayısı silgilerin sayısından 129 eksik, defterlerin sayısı ise kalemelerin sayısından 225 fazladır.

Buna göre, kırtasiyedeki silgi, kalem ve defterlerin sayılarının toplamı kaçtır?

- A) 3231 B) 3681
C) 3747 D) 4197

10. Üç basamaklı $2 \star 2$ ve iki basamaklı $\triangle 8$ doğal sayıları ile yapılan çarpma işlemi aşağıda verilmiştir.

$$\begin{array}{r} 2 \star 2 \\ \times \triangle 8 \\ \hline 1936 \\ + 7 \blacksquare 6 \\ \hline 9196 \end{array}$$

Buna göre, $\star + \triangle + \blacksquare$ işleminin sonucu kaçtır?

- A) 9 B) 10 C) 11 D) 12

11. $24 \times (3 \times 152) = (24 \times 3) \times \bullet$

$$\blacksquare \times 2 \times 105 = 105 \times 2 \times 34$$

Verilen eşitliklerde \bullet ve \blacksquare birer doğal sayıdır.

Buna göre, $\bullet \times \blacksquare$ işleminin sonucu kaçtır?

- A) 3168 B) 3968
C) 4168 D) 5168

12. Bir markette, her birinin içinde 12 tane yumurta bulunan kutulardan 328 tane vardır. Bu kutuların, 24 tanesinin her birinin içinden 4 tane yumurta kırık çıkmıştır.

Bu kutularda geriye kalan yumurtaların tamamı sağlam olduğuna göre, sağlam yumurtaların sayısı kaçtır?

- A) 3830 B) 3840
C) 3850 D) 3860

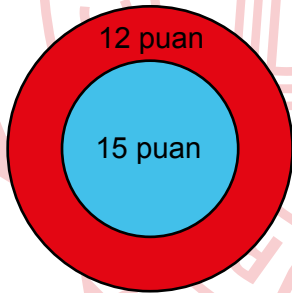
13. $576 \div 24 = \star$

Verilen bölme işleminde, bölüm \star 'dır. Bu bölme işlemi, bölünen ve bölen sayılar en yakın onluğa yuvarlanarak yapıldığında ise bölüm \blacksquare 'dir.

Buna göre, $\blacksquare - \star$ işleminin sonucu kaçtır?

- A) 4 B) 5 C) 6 D) 7

14. Kırmızı ve mavi bölgeye ayrılmış bir hedef tahtası aşağıda verilmiştir. Bu hedef tahtasının kırmızı bölgesine isabet eden her ok atışı için 12 puan, mavi bölgesine isabet eden her ok atışı için ise 15 puan kazanılmaktadır.



Buse, bu hedef tahtasına attığı okların; kırmızı bölgeye isabet edenlerinden toplam 240 puan, mavi bölgeye isabet edenlerinden ise toplam 120 puan kazanmıştır.

Buna göre, Buse'nin mavi ve kırmızı bölgeye isabet eden oklarının sayılarının toplamı kaçtır?

- A) 26 B) 27 C) 28 D) 29

15. Bir mağazada satılan ürünlerin çeşitlerine göre sayıları şekil grafiğinde verilmiştir.

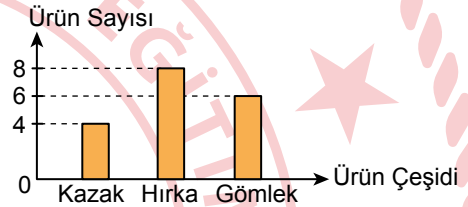
Grafik: Çeşitlerine Göre Ürün Sayıları

Ürün Çeşidi	Ürün Sayısı
Kazak	● ● ● ●
Hırka	● ● ● ● ● ● ● ●
Gömlek	● ● ● ● ● ● ● ●

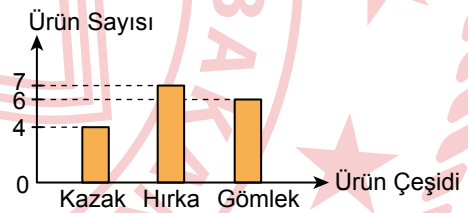
Not: Her ● şekli 2 tane ürünü göstermektedir.

Buna göre, bu şekil grafiğine ait sütun grafiği aşağıdakilerden hangisidir?

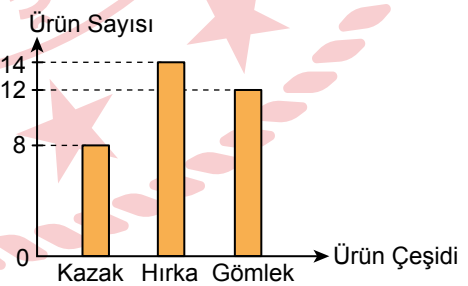
A) Grafik: Çeşitlerine Göre Ürün Sayıları



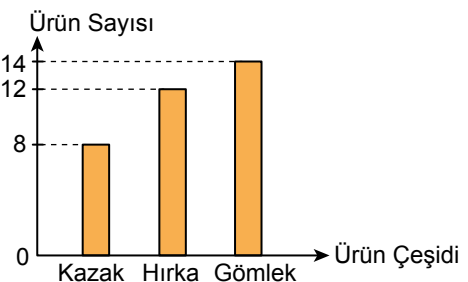
B) Grafik: Çeşitlerine Göre Ürün Sayıları



C) Grafik: Çeşitlerine Göre Ürün Sayıları



D) Grafik: Çeşitlerine Göre Ürün Sayıları



16. $336 \div 12 = 19 + \star$

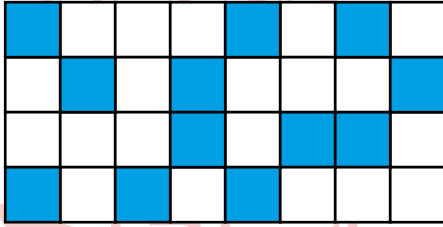
$24 \times \blacktriangle = 446 - 398$

Verilen eşitliklerde \star ve \blacktriangle birer doğal sayıdır.

Buna göre, $\star + \blacktriangle$ işleminin sonucu kaçtır?

- A) 11 B) 10 C) 9 D) 8

17. Şekilde eş parçalara ayrılmış bir dikdörtgenin bazı parçaları maviye boyanmıştır.



Daha sonra, maviye boyalı olmayan parçaların sayısının $\frac{3}{4}$ 'ü sayıda beyaz parça ise kırmızıya boyanacaktır.

Buna göre, boyama işlemi tamamlandığında mavi ve kırmızıya boyalı parçaların sayılarının toplamı kaçtır?

- A) 21 B) 24 C) 27 D) 30

18. $\frac{3}{19} < \frac{\blacktriangle}{19} < \frac{22}{19}$

Verilen sıralamada $\frac{\blacktriangle}{19}$ kesri basit kesirdir.

Buna göre, \blacktriangle 'in alabileceği kaç farklı doğal sayı değeri vardır?

- A) 14 B) 15 C) 16 D) 17

19. Bir kutudaki boncukların sayısının $\frac{1}{9}$ 'i pembe, $\frac{4}{9}$ 'ü ise mavidir.

Buna göre, pembe ve mavi boncukların sayılarının toplamı kutudaki boncukların tamamının kaçta kaçıdır?

- A) $\frac{6}{9}$ B) $\frac{5}{9}$ C) $\frac{4}{9}$ D) $\frac{3}{9}$

20. Zehra'nın 13.30'da başlayan piyano dersi 55 dakika sürmüştür. Piyano dersi bittikten 25 dakika sonra ise 75 dakika süren dans dersi başlamıştır.

Buna göre, Zehra'nın dans dersinin bittiği anda saat kaçtır?

- A) 15.00 B) 15.05
C) 16.00 D) 16.05

MATEMATİK TESTİ BİTTİ.
FEN BİLİMLERİ TESTİNE GEÇİNİZ.



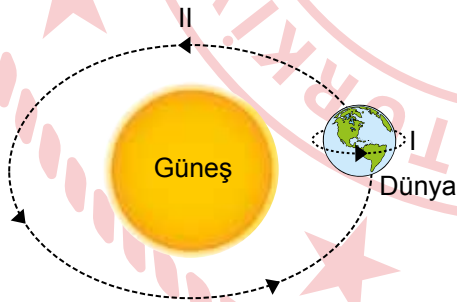
1. K ve L kayaçlarının kullanım alanları tabloda verilmiştir.

Kayaçlar	Kullanım Alanları
K	Hayvancılıkta, cam sanayisinde, ilaç ve gübre üretiminde kullanılır.
L	Mutfak tezgâhı ve süs eşyası yapımında kullanılır.

Buna göre, bu kayaçlar aşağıdakilerden hangisidir?

- | | | |
|----|--------|--------|
| | K | L |
| A) | Bor | Kömür |
| B) | Mermer | Altın |
| C) | Altın | Mermer |
| D) | Bor | Mermer |

2. Dünya'nın kendi eksenini ve Güneş etrafındaki hareketi şekilde numaralanarak verilmiştir.



Buna göre, Dünya'nın I ve II numaralı hareketleri ile ilgili aşağıdakilerden hangisi doğrudur?

- A) I → Dolanma hareketidir ve bir haftada tamamlanır.
- B) II → Dönme hareketidir ve sonucunda gece ile gündüz oluşur.
- C) I → Dolanma hareketidir ve sonucunda mevsimler oluşur.
- D) II → Dolanma hareketidir ve bir yılda tamamlanır.

3. Kayaçlarla ilgili aşağıdakilerden hangisi yanlıştır?

- A) Yer kabuğunun kara tabakasını oluşturur.
- B) Tüm kayaçlar yapısındaki minerallerden dolayı aynı sertliktedir.
- C) Altın, bakır ve linyit ekonomik değeri olan kayaçlara örnektir.
- D) Gece ve gündüz arasındaki sıcaklık farkı kayaçların aşınarak ufalanmasına neden olur.

4. Fosilleşmeyle ilgili numaralanmış bilgiler doğru ya da yanlış olma durumlarına göre tabloda "✓" ile işaretlenmiştir.

Bilgiler	Doğru	Yanlış
I. Ölen tüm canlıların fosili oluşur.	✓	
II. Ölen canlıların yumuşak kısımları çürüyerek toprağa karışır.	✓	
III. Fosilleşme sadece bitki reçinesinde olur.		✓
IV. Fosillerin oluşumu için uzun yılların geçmesi gerekir.		✓

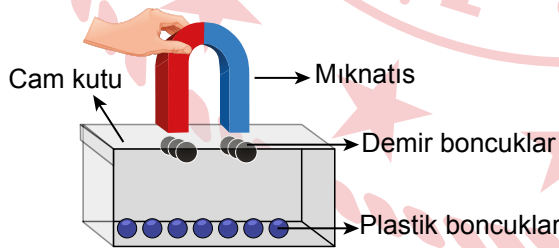
Buna göre, tablodaki numaralanmış bilgilerden hangileri hatalı işaretlenmiştir?

- A) I ve II
- B) II ve III
- C) I ve IV
- D) III ve IV

5. Aşağıdakilerin hangisinde kuvvetin cisimler üzerindeki etkisine verilen örnek yanlıştır?

Kuvvetin Etkisi	Örnek
A) Yön değiştirici	Bir yayın iki ucundan bir miktar sıkıştırılarak tutulması
B) Yavaşlatıcı	Hareket eden oyuncak arabanın hareketine ters yönde kuvvet uygulanması
C) Hızlandırıcı	Duran topa ayakla vurularak hareket ettirilmesi
D) Şekil değiştirici	Yere atılan cam bardağın kırılması

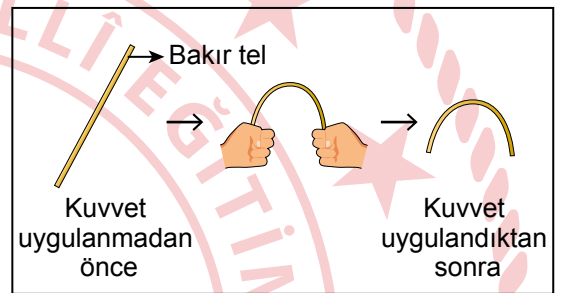
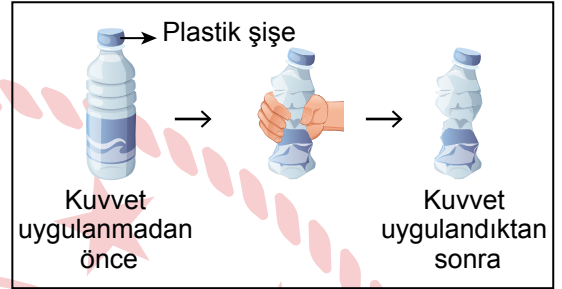
6. Bir deneyde, içinde plastik ve demir boncuklar bulunan kapalı cam kutuya mıknatıs yaklaştırıldığında, boncuklardan bazılarının şekildeki gibi kutunun üst kısmında toplandığı görülüyor.



Bu deney sonucunda aşağıdaki yargılardan hangisine ulaşılabilir?

- A) Mıknatıslar tüm maddeleri çeker.
 B) Mıknatısların cisimleri çekmesi için cisimlere temas etmesi gerekir.
 C) Mıknatıslar demirden yapılan maddeleri çeker.
 D) Farklı şekillerde mıknatıslar vardır.

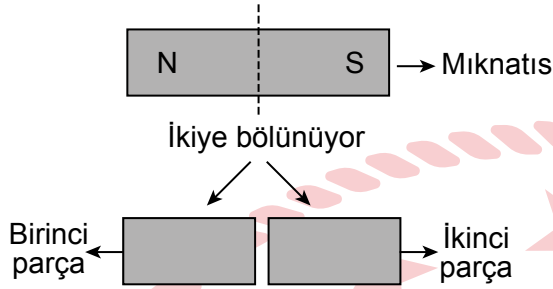
7. Bir deneyde, plastik şişe ve bakır telin kuvvet uygulanmadan önceki ve kuvvet uygulandıktan sonraki durumları şekilde verilmiştir.



Bu deney sonucunda kuvvetin cisimler üzerindeki etkisiyle ilgili aşağıdakilerden hangisine ulaşılabilir?

- A) Duran bir cisme kuvvet uygulandığında cisim hızlanabilir.
 B) Hareket hâlindeki bir cisme kuvvet uygulandığında cisim yavaşlayabilir.
 C) Hareket hâlindeki bir cisme kuvvet uygulandığında cisim durabilir.
 D) Bir cisme kuvvet uygulandığında cismin şekli değişebilir.

8. Kutupları verilen bir çubuk mıknatıs şekilde kesik çizgiyle belirtilen yerden bölündüğünde iki parça elde ediliyor.



Bölünme işleminden sonra birinci ve ikinci parçalar, herhangi bir değişiklik yapılmadan birbirine etki edecek mesafede tutuluyor.

Bu parçalarla ilgili,

- I. İkinci parçanın yalnızca güney (S) kutbu vardır.
- II. Birinci ve ikinci parçalar birbirini çeker.
- III. Oluşan parçalar mıknatıslık özelliğini kaybeder.

yargılarından hangileri doğrudur?

- A) Yalnız I B) Yalnız II
C) I ve III D) II ve III

9. Tabloda bazı maddeler numaralanarak verilmiştir.

1	2	3
Taş	Kolonya	Kalem
4	5	6
Tuz	Süt	Hava

Bu tabloda verilenlerden hangileri katı hâldeki maddelere örnektir?

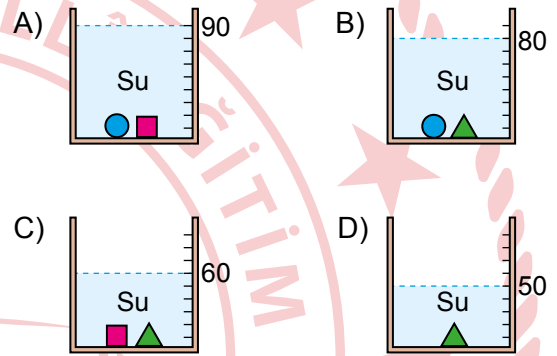
- A) 1, 3, 4 B) 1, 4, 5
C) 2, 3, 6 D) 2, 5, 6

10. Suda batan; ■, ● ve ▲ cisimlerinin hacimleri tabloda verilmiştir.

Cisim	■	●	▲
Hacim	30 mL	20 mL	10 mL

Bu cisimlerden bir tanesi veya iki tanesi, içinde 50 mL su bulunan bir dereceli kaba bırakılarak kaptaki su seviyeleri gözlemleniyor.

Buna göre, bu cisimler kaba bırakıldığında kaptaki su seviyesi aşağıdakilerin hangisinde doğru verilmiştir?

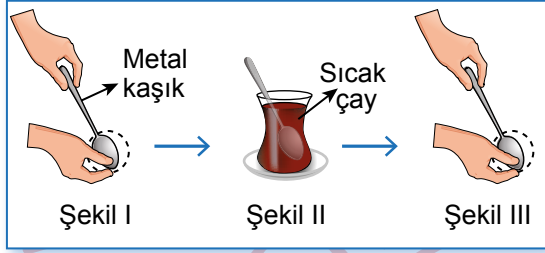


11. Bir öğrenci, penceresinin önünde biriken karlardan bir miktar alıp masasının üzerine bırakıyor. Bir süre sonra bu karların suya dönüştüğünü fark ediyor.

Buna göre, masaya bırakılan karda görülen değişim ile ilgili aşağıdakilerden hangisi doğrudur?

- A) Isı vererek soğumuştur.
B) Donma olayı gerçekleşmiştir.
C) Sıvı hâlden katı hâle geçmiştir.
D) Isı alarak erimiştir.

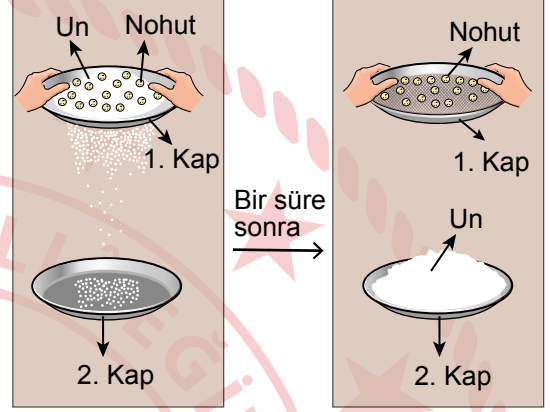
12. Bir öğrenci, yaptığı gözlemlerde bir metal kaşığın kesik çizgilerle gösterilen ucuna Şekil I'deki gibi dokunduğunda kaşığın ucunun soğuk olduğunu fark ediyor. Bu kaşığı Şekil II'deki gibi sıcak çayın içinde bir süre beklettikten sonra çıkarıp kaşığın aynı ucuna Şekil III'teki gibi tekrar dokunduğunda kaşığın ucunun sıcak olduğunu fark ediyor.



Öğrencinin bu gözlemi sonucunda yaptığı aşağıdaki yorumlardan hangisi doğrudur?

- A) Kaşık hâl değiştirmiştir.
- B) İçine kaşık konulan çayın sıcaklığı artmıştır.
- C) Çayın içine konulan kaşık soğumuştur.
- D) Kaşık çaydan ısı almıştır.

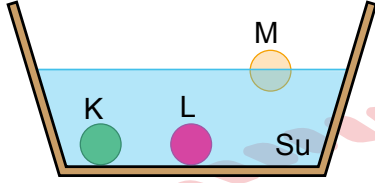
13. Bir öğrenci, içinde un ve nohut karışımı bulunan şekildeki 1. kabı sağa ve sola hareket ettirdiğinde, unun 1. kabın altındaki 2. kaba dökülmeye başladığını gözlemliyor. Bir süre sonra şekildeki gibi nohutların 1. kaptaki kaldığını, unun ise 2. kaptaki toplandığını gözlemliyor.



Öğrencinin bu gözlemden yararlanarak yaptığı aşağıdaki yorumlardan hangisi yanlıştır?

- A) 1. kabın delikleri unun geçebileceği büyüklüktedir.
- B) Karışım farklı büyüklükteki katı maddelerden oluşmuştur.
- C) 2. kaba toplanan un, süzme yöntemiyle ayrılmıştır.
- D) Kum ve çakıl taşından oluşan karışım da bu yöntemle ayrılabilir.

14. Bir deneyde K, L ve M maddeleri, içinde su olan bir kaba bırakıldığında şekildeki gibi K ve L maddelerinin suda battığı, M maddesinin ise suda yüzdüğü görülüyor.



Buna göre, bu maddeler aşağıdakilerin hangisinde doğru verilmiştir?

K	L	M
A) Demir çivi	Taş	Tahta kaşık
B) Taş	Tahta kaşık	Pinpon topu
C) Demir çivi	Pinpon topu	Taş
D) Pinpon topu	Taş	Demir çivi

15. Bir besin içeriğiyle ilgili bilgiler kartta verilmiştir.

- Vücudumuzda yapıcı ve onarıcı olarak görev yapar.
- Canlıların büyüüp gelişmesini ve yaraların iyileşmesini sağlar.
- Et, süt ve yumurta içinde bol miktarda bulunur.

Buna göre, bu besin içeriği aşağıdakilerden hangisidir?

- A) Protein B) Vitamin
C) Yağ D) Karbonhidrat

16. Besinler içerdikleri protein, yağ veya karbonhidrat bakımından zengin olma durumlarına göre sınıflandırılabilir.

Buna göre, aşağıdaki besinlerden hangisi içeriği bakımından doğru sınıflandırılmıştır?


A)



Besin : Reçel

Besin
İçeriği : Protein


B)



Besin : Ekmek

Besin
İçeriği : Karbonhidrat


C)



Besin : Salatalık

Besin
İçeriği : Yağ

D)



Besin : Makarna

Besin
İçeriği : Protein

17. Öğretmenin sınıfta sorduğu bir soruya öğrencilerden birinin verdiği doğru cevap şu şekildedir:

- Meyveleri meyve sıkacağına sıkıp suyunun elde edilmesiyle
- Elma dilimlerinin güneşte bekletildiğinde kuruyup küçülmesiyle

Buna göre, öğretmenin sorduğu soru aşağıdakilerden hangisidir?

- A) Besinlerin içinde yağ olduğunu nasıl anlarız?
B) Besinlerin içinde protein olduğunu nasıl anlarız?
C) Besinlerin içinde su olduğunu nasıl anlarız?
D) Dengeli beslenmek için besinleri ne kadar tüketmeliyiz?

18. Markete giden bir kişi, dondurulmuş bir ürünün paketini inceledikten sonra yerine bırakıp, aynı üründen başka bir paketi inceleyip alışveriş sepetine atıyor.

Buna göre, ilk paketin yerine bırakılmasının nedeni aşağıdakilerden hangisi olamaz?

- A) Ambalajının yırtılmış olması
- B) Üzerinde TSE damgasının olması
- C) Son tüketim tarihinin geçmiş olması
- D) Dondurulmuş ürünün çözölmeye başlamış olması

19. Aşağıdakilerden hangisi sağlıklı ve dengeli beslenmek için yapılması gereken doğru bir davranıştır?

- A) Her öğünde sadece yağ içeren besinler tüketmek
- B) Bol miktarda katkı maddesi içeren besinler tüketmek
- C) Karbonhidrat içeren besinlerden çok fazla tüketmek
- D) Tüm besin içeriklerinden her öğünde yeterli miktarda ve düzenli olarak tüketmek

20. Öğrencilerin kahvaltıda tükettiği besinler tabloda verilmiştir.

Öğrenciler	Kahvaltıda Tüketilen Besinler
Burak	Ekmek, bal, reçel, meyve suyu
Tuğçe	Zeytin, yumurta, reçel
Selin	Muz, bal, ekmek
Mert	Peynir, ekmek, badem, tereyağı

Buna göre, kahvaltıda protein, karbonhidrat ve yağ içeriği bakımından zengin besinleri tüketen öğrenciler aşağıdakilerin hangisinde doğru verilmiştir?

- A) Tuğçe ve Mert
- B) Selin ve Tuğçe
- C) Burak ve Selin
- D) Burak ve Mert



1. Aşağıda T.C. kimlik kartı ile ilgili bilgiler verilmiştir.

- On yıl boyunca geçerlidir.
- Elektronik çip bölümünde, sahibine ait ve değişmeyen parmak izi bilgisi vardır.
- T.C. kimlik numarası kart sahibine aittir.
- Her bölümü Türkçe ve İngilizce olarak uluslararası standartlara uygun şekilde düzenlenmiştir.

Buna göre, T.C. kimlik kartı ile ilgili aşağıdakilerden hangisi doğrudur?

- A) Güncellenmeden süresiz kullanılır.
 B) Yurt dışında kullanıma uygundur.
 C) Aile üyelerinin T.C. kimlik numaraları aynıdır.
 D) Parmak izi bilgileri sık sık yenilenmelidir.

2. Ayşenur'un, hayatında önemli gördüğü olaylar numaralanarak aşağıda verilmiştir.

- 1 Ortaokuldayken Ankara'ya taşındık.
- 2 2010 yılında doğdum.
- 3 İlkokula başladığım gün kardeşim dünyaya geldi.
- 4 Anaokuluna başladım.
- 5 Üçüncü sınıftayken sınıf başkanlığı yaptım.

Numaralanmış olayların kronolojik olarak sıralanışı aşağıdakilerin hangisinde doğru verilmiştir?

- A) 2 - 4 - 3 - 1 - 5
 B) 2 - 3 - 1 - 4 - 5
 C) 2 - 3 - 4 - 5 - 1
 D) 2 - 4 - 3 - 5 - 1

3. Aşağıdaki çocuklardan hangisi yeteneğinden bahsetmiştir?

- A) Elvan : Pul koleksiyonu yapıyorum.
 B) Polat : İlk kez dinlediğim bir şarkıyı gitarımla çalabiliyorum.
 C) Kerem : Doğa fotoğrafları çekmeyi çok seviyorum.
 D) Seda : Seyahat etmekten hoşlanıyorum.

- 4.

ENGELLERİ AŞAN ÜÇ GENCİN BAŞARI HİKÂYESİ

Millî yüzücü Faruk, Psikiyatrist Gül ve Ressam İsmail hayatları boyunca büyük zorluklar yaşadılar. Kimi sağlık sorunuyla dünyaya geldi kimi de geçirdiği kaza sonucu engelli oldu. Hiç yılmadılar, hep hayallerinin peşinden koştular. Sonunda hedeflerine ulaştılar.

Bu metindeki kişiler ile ilgili aşağıdakilerden hangisine ulaşılabilir?

- A) Arkadaşları tarafından desteklendiklerine
 B) Empati becerisine sahip olduklarına
 C) Kararlılıkları sayesinde başarıyı yakaladıklarına
 D) Farklı düşüncelere saygı gösterdiklerine

5. Çiğdem, ailesinin geçmişini öğrenmek için sözlü tarih çalışması yapacaktır. Bunun için dedesi ile görüşür. Dedesinin kabul etmesi üzerine, pazartesi günü saat üçte onun evinde buluşmaya karar verirler. Çiğdem görüşmeye giderken yanına ses kayıt cihazı ve not defterini alır.

Buna göre, Çiğdem'in sözlü tarih çalışmasında aşağıdaki aşamalardan hangisi yer almamıştır?

- A) Sorulacak soruların hazırlanması
- B) Yer ve zamanın belirlenmesi
- C) Görüşülecek kişinin belirlenmesi
- D) Araç ve gereçlerin hazırlanması

6. Annem, beni ve arkadaşlarımı bahçede ip atlarken gördü ve yanımıza geldi. "Bizim zamanımızda ip atlarken tekerlemeler söyledik. Siz neden söylemiyorsunuz?" dedi. Annem bize tekerlemeleri öğreterek farklı şekillerde ip atlamayı gösterdi. Böylece biz de annemin çocukluğundaki gibi ip atlادık.

Bu metinde aşağıdakilerin hangisinden söz edilmiştir?

- A) Büyüklerimizin çocukluğundaki oyunların farklı isimlerle anıldığından
- B) Teknolojik gelişmelerin eski oyunları unutturduğundan
- C) Geçmişten günümüze oyunlarda bazı değişimler olduğundan
- D) Eskiden kullanılan oyun araçlarının günümüzde geliştiğinden

7. Millî Mücadele Dönemi'nde Yörük Ali Efe, Ege'deki Yunan işgaline karşı Aydın'da ilk Kuvâ-yı Millîye teşkilatını kurarak silahlı mücadeleyi başlattı. Yörük Ali Efe, düzenli ordu kurulana kadar Menderes ve yöresinin komutanlığını yaptı. Yaklaşık yirmi ay boyunca düşman kuvvetlerinin Aydın üzerinden doğuya doğru ilerlemesini engelledi. Düzenli ordunun kurulması üzerine bu orduya katıldı.

Buna göre, Yörük Ali Efe ile ilgili aşağıdakilerden hangisine ulaşılabılır?

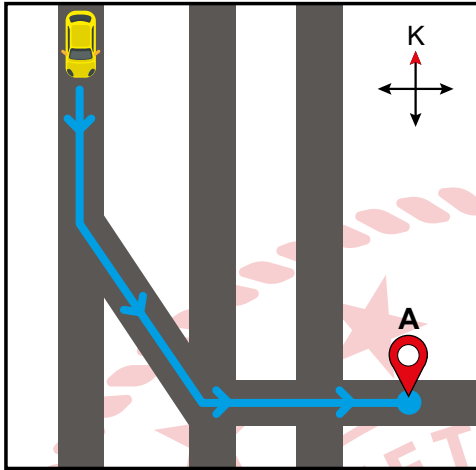
- A) Büyük Millet Meclisinin desteğiyle hareket ettiğine
- B) Ege'deki Yunan işgaline son verdiğine
- C) Düzenli orduyu kurup yönettiğine
- D) Kurtuluş Savaşı'nda hizmetlerinin bulunduğuna

8. Millî Mücadele yıllarında İstanbul'dan kaçırılan silah ve mühimmatlar önce kayıklarla İnebolu'ya taşınıyor, oradan da kağınılarla Ankara'ya naklediliyordu. Kullanılan bu yola "İstiklâl Yolu" adı verilmişti. Millî Mücadele'de kadınıyla erkeğiyle, yaşlısıyla genciyle herkes sorumluluk üstlenmişti. Anadolu'nun kadın kahramanları, bu yolda tüm zorluklara rağmen orduya cephane taşımışlardı.

Bu metinden aşağıdakilerin hangisine ulaşılamaz?

- A) İşgal güçlerine karşı şiddetli çarpışmaların yaşandığı şehirlerle
- B) Türk halkının birlik ve beraberlik içinde mücadele ettiğine
- C) Millî Mücadele'de kadınların yaptıkları büyük fedakârlıklara
- D) İstiklâl Yolu'nun Millî Mücadele'de önemli bir yerinin olduğuna

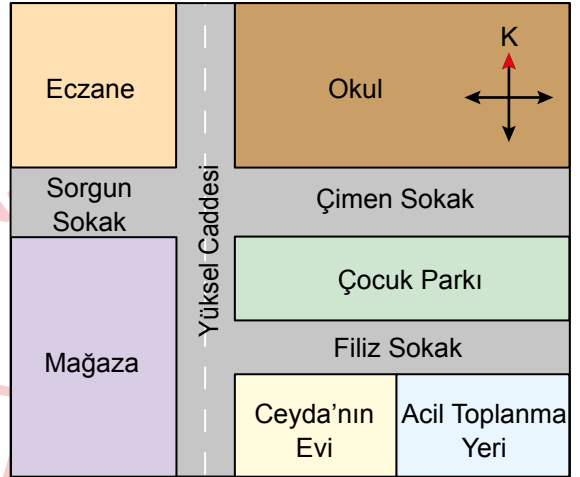
9. Görselde, sarı arabanın ulaşacağı A noktasını gösteren yol tarifi verilmiştir.



Buna göre, mavi ok yönünde ilerleyerek A noktasına ulaşmak isteyen araç, sırası ile hangi yönleri takip etmelidir?

- A) Kuzey - Kuzeydoğu - Doğu
- B) Güney - Güneydoğu - Doğu
- C) Kuzey - Kuzeybatı - Batı
- D) Güney - Güneybatı - Batı

10. Ceyda, evinin konumunu kroki çizerek aşağıdaki gibi göstermiştir.



Bu krokiye göre, Ceyda'nın evinin konumuyla ilgili aşağıdaki bilgilerden hangisi doğrudur?

- A) Doğusunda mağaza vardır.
- B) Okulun kuzeyindedir.
- C) Acil toplanma yerinin batısındadır.
- D) Güneyinde çocuk parkı vardır.

11. (1) Tortum Şelalesi, kaynağını Tortum Gölü'nden alır. (2) Tortum Şelalesi 48 metre yükseklikten dökülür. (3) Tortum Gölü, bir heyelan kütlelerinin vadide akan suyun önünü tıkaması sonucunda oluşmuştur. (4) Bu göle 1952-1960 yılları arasında hidroelektrik santrali yapılmış ve bölgenin elektrik ihtiyacının bir kısmı bu santralden karşılanmaya başlanmıştır.

Bu parçadaki numaralanmış cümlelerin hangisinde beşerî bir unsurdan söz edilmektedir?

- A) 1
- B) 2
- C) 3
- D) 4

12. Bartu, bir haftalık zaman diliminde gözlemlediği hava olaylarını aşağıdaki tabloya kaydetmiştir.

Günler	Hava Olayları
Pazartesi	
Salı	
Çarşamba	
Perşembe	
Cuma	
Cumartesi	
Pazar	



Karlı



Çok bulutlu



Rüzgârlı



Parçalı bulutlu

Bu tabloya göre hazırlanan “haftalık hava olayları grafiği” aşağıdakilerin hangisinde doğru verilmiştir?

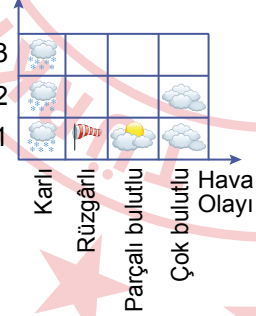
A)

Gün Sayısı



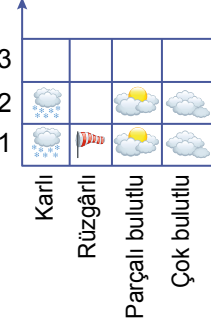
B)

Gün Sayısı



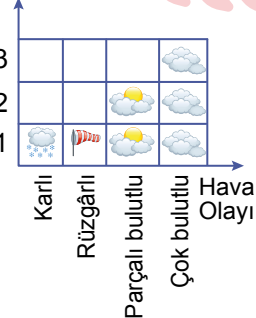
C)

Gün Sayısı



D)

Gün Sayısı



13.

İlgaz Anadolu'nun
Sen yüce bir dağsın.
Baharda yeryüzünde
O cennetin başsın.
Yalçın kayalıkların
Göklere yükseliyor.
Senin dumanlı başın
Bulutları deliyor.

Bu türküde aşağıdakilerin hangisinden söz edilmiştir?

- A) Bir yer şeklinin özelliklerinden
B) Bir bölgenin sıcaklık değerlerinden
C) Bir bölgenin su kaynaklarından
D) Bir yere ait tarım ürünlerinden

14.

Geçmişte ve günümüzde kullanılan ütülerin görselleri ve bunlara ait bilgiler aşağıda verilmiştir.

Geçmiş	Günümüz
Elektriğin kullanılmadığı dönemlerde elbiseler topraktan yapılan, içindeki sıcak taşların veya kaynar suyun etkisiyle uzun sürede ısınan ilkel ütülerle ütülenirdi.	Elektriğin icat edilmesi ile birlikte içindeki suyu hızlıca buharlaştırıp elbiseleri kolayca ütöleyen ütüler kullanılmaya başlandı.

Bu bilgilere göre, günümüzde kullanılan ütü ile ilgili aşağıdakilerden hangisi söylenemez?

- A) Zamandan tasarruf sağladığı
B) İnsan hayatını kolaylaştırdığı
C) Teknolojik bir ürün olduğu
D) Kullanım amacının değiştiği

15.



Bu şema, geçmişten günümüze aşağıdaki alanların hangisindeki teknolojik gelişimi göstermektedir?

- A) Sağlık
- B) Sanat
- C) Haberleşme
- D) Temizlik

16.



Filli Su Saati
(13. yüzyıl)

Fil şeklinde tasarlanmış "Filli Su Saati"nin mucidi El Cezeri'dir. Şırnak'ın Cizre ilçesinde doğmuştur. Tarihin ilk programlanabilen robotlarını tasarlayıp çalıştırdığı kabul edilmektedir. Filli Su Saati de bu tasarımlarından biridir. El Cezeri, tasarımlarını kitap hâline getirerek günümüz robot teknolojisinin temellerini atmıştır.

Bu bilgilere göre, "Filli Su Saati" ile ilgili aşağıdakilerden hangisi söylenemez?

- A) Yapıldığı dönemde ulaşım aracı olarak kullanılmıştır.
- B) Günümüz robot teknolojisinin gelişimine katkı sağlayan icatlardan biridir.
- C) Günümüzde üretilen robotların ilk örneklerinden biridir.
- D) Mucidi, yaptığı çalışmalarıyla bilime hizmet etmiş bir bilim insanıdır.

17.

EKMEK DOLABI PROJESİ BİRİNCİ SEÇİLDİ

Projenin sahibi Efe Gündeğer; "Okuldan eve dönerken çöp konteynerinin yanında büyük poşetler içindeki küflenmiş ve bayatlamış ekmekleri gördüm. Ekmeklerin küflenmesini ve bayatlamasını engelleyecek proje geliştirdim. Ekmekleri bu dolapta belli bir sıcaklıkta tuttuğumda fırından yeni çıkmış gibi bir ay tazeliğini koruyabildiğini gördüm. İnovatif (Yenilikçi) Ekmek Dolabı adını verdiğim bu proje ile TÜBİTAK Ortaokullar Arası Proje Yarışması'nda Türkiye birincisi oldum." dedi.

Efe'nin bu haberde söz edilen projesi ile aşağıdakilerden hangisini amaçladığı söylenebilir?

- A) Bayatlamış ekmeği uygun yöntemlerle değerlendirmeyi
- B) Ekmek israfının azaltılmasına katkı sağlamayı
- C) Ekmeğin beslenmedeki önemine dikkat çekmeyi
- D) Ekmeğin oluşum aşamalarını anlatmayı

18.

Annem ve babam, araştırma ödevlerimi kolay yapmam için bana bir tablet aldılar. Tablet kutusunun içinden küçük bir kitapçık çıktı. Kitapçığın içinde güvenlik ve bakım bilgileri vardı. Annem bu bilgilerin uygulanmasının hem kendimize hem de kullandığımız ürüne zarar vermememiz için gerekli olduğunu söyledi.

Bu metinde aşağıdakilerin hangisinden söz edilmiştir?

- A) Teknolojinin gelişim aşamalarından
- B) Araştırmalarda doğru bilginin kullanımından
- C) Kullanım kılavuzundan yararlanmanın öneminden
- D) Tablet yol açtığı sağlık sorunlarından

19. Konya Ovası ve Çarşamba Ovası Türkiye fiziki haritasında gösterilmiştir.



Bu haritada Çarşamba Ovası'nın yeşil, Konya Ovası'nın ise sarı renkle gösterilmesinin sebebi aşağıdakilerden hangisidir?

- A) Tarım faaliyetlerinin farklı olması
- B) Yükseltilerinin farklı olması
- C) Bitki örtülerinin farklı olması
- D) Nüfus yoğunluklarının farklı olması

20. Ankara'dan uçakla Bodrum'a gitmek isteyen Çetin ve babasının bilgisayardan aldıkları haritanın ekran görüntüsü aşağıda verilmiştir.



Bu görüntüye göre, Çetin ve babasının yapmayı düşündükleri yolculuk ile ilgili aşağıdakilerden hangisine ulaşamaz?

- A) Yolculuk süresine
- B) Havalimanı isimlerine
- C) Yolculuğun yönüne
- D) Uçağın iniş saatine



1 - 8. sorularda boş bırakılan yerlere uygun gelen kelime ya da ifadeyi işaretleyiniz.

1. **Mike:** Can I - - - -?

Sam: Sure. Take the ball.

- A) open the door
- B) join the game
- C) clean the board
- D) turn on the light

2. **Andy:** Can you give me your ruler?

Carol: Here you are.

Andy: Thank you, Carol.

Carol: - - - -.

- A) You are welcome
- B) Sorry, not right now
- C) Of course, I do
- D) I think so

3. **George:** - - - -, please.

Milly : Sorry, it's cold.

- A) Open the window
- B) Leave your books here
- C) Look at the board
- D) Turn off the lights

4. **Sarah:** - - - -?

Colin : No, I am not. I am American.

- A) Is this your country
- B) Is your country Japan
- C) Are you from the USA
- D) Are you French

5. **Daisy:** Where are you from?

Matt : I am from - - - -.

- A) German
- B) French
- C) Pakistani
- D) Russia

6. **Jack :** - - - -?

Melinda: Sure. It is my favorite activity.

- A) What do you do in your free time
- B) Can you give me your colorful pencils
- C) Do you like drawing pictures
- D) Where do you have lunch

7. **Sam :** Whose guitar is this?

Nancy: - - - -.

- A) The guitar is blue
- B) I like playing the guitar
- C) I can play the guitar
- D) It is John's guitar



8.



He is Efe. - - - - country is Türkiye.



She is Julia. - - - - country is Britain.

A) My / His
C) Her / Your

B) His / Her
D) Your / My

9. Alice, yapboz oyununda aşağıdaki karışık olarak verilen görsel ve görsellere uygun cümle parçalarını bir araya getirecektir. Ancak yapboz parçalarından bir tanesi eksiktir.

I can ride a horse.



I can take a photo.



?



Alice'in yapbozu tamamlayabilmesi için soru işaretinin yerine gelmesi gereken parça hangisidir?

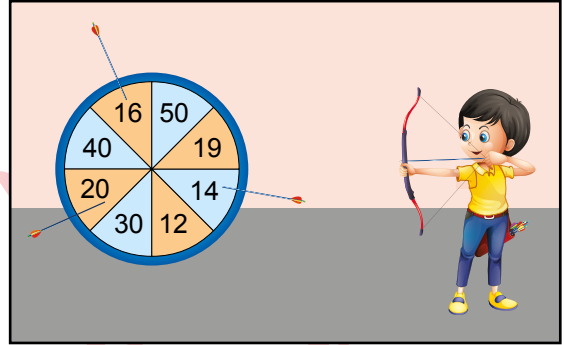
A) I can play chess.

B) I can climb a tree.

C) I can speak English.

D) I can sing a song.

10. James'in ok atarak vurduğu sayılar aşağıdaki görselde verilmiştir.



Buna göre, aşağıdakilerden hangisi James'in oklarıyla vuramadığı sayılardan biridir?

A) Fourteen
B) Thirty
C) Sixteen
D) Twenty

11. Betty, kendisine sorulan soruların cevaplarını tahtaya yazmıştır.



Buna göre, Betty'e aşağıdaki sorulardan hangisi sorulmamıştır?

A) What do you do at the weekends?
B) What is your favorite activity?
C) What is your nationality?
D) What can you do?

12. Aşağıdakilerin hangisinde konuşma balonlarında istenen nesneler doğru verilmiştir?



13. Mert'in, numaralı karelerden oluşan bir oyun alanında yürürken uyması gereken kurallar sırasıyla aşağıda verilmiştir.

Mert

Start	12	22	32	42
4	14	24	34	44
6	16	26	36	46
8	18	28	38	48
10	20	30	40	50

N

1. Walk 3 steps to the east.
2. Walk 4 steps to the south.
3. Walk 1 step to the west.
4. Walk 2 steps to the north.

Mert'in her adımı bir kareye karşılık geldiğine göre, başlangıçtan yola çıkan Mert, verilen kuralları sırasıyla takip ettiğinde en son hangi numaralı kareye ulaşır?

- A) 26 B) 34 C) 46 D) 18

14. Lisa ve Tim'in sevdikleri etkinlikler aşağıdaki cümlelerde verilmiştir.


Lisa: I like reading books and drawing pictures.

Tim: I like doing puzzle and riding a bike.

Bu etkinliklere göre, alışverişe gidecek olan Lisa ve Tim'in hangi eşyayı almasına gerek yoktur?

- A)
- B)
- C)
- D)

15. Aşağıdaki görselde 1'den 7'ye kadar sıralanmış çocuklar haftanın günlerinin yazılı olduğu kâğıtları tutmaktadırlar. Ancak haftanın günleri sıralamasına göre iki çocuğun yerlerinde yanlışlık olduğu görülmektedir.



Buna göre, görselde hangi iki çocuğun yeri değiştirilirse haftanın günleri doğru sıralanmış olur?

- A) Matt - David
B) Clara - Kevin
C) Doris - David
D) Matt - Kevin

16. On Sundays, I go to the playground with my friends at 11 a.m. I play basketball at 2 p.m. I ride a bike at 4 p.m. I do my homework at 7 p.m.

Bu paragrafa göre, aşağıdaki cümlelerden hangisi doğrudur?

- A) I play basketball in the morning.
B) I go to the playground in the evening.
C) I do my homework in the morning.
D) I ride a bike in the afternoon.

17.



Hello! I'm Jacob.
I have breakfast at 7 a.m.
I go to school at 8 a.m.
I read a book at 3 p.m.
I go to bed at 9 p.m.

Buna göre, aşağıdaki etkinliklerden hangisinin saati doğru verilmiştir?

A)



B)



C)



D)



18. Carol'ın sevdiği ve sevmediği etkinlikler tabloda verilmiştir.

Carol's Likes and Dislikes	
	
	
	
	
	





Bu tabloya göre, Carol aşağıdaki cümlelerden hangisini söylemiş olabilir?

- A) I like drawing pictures but I dislike reading a book.
 B) I like watching cartoons but I dislike planting trees.
 C) I like swimming but I dislike flying a kite.
 D) I like riding a scooter but I dislike playing table tennis.

19. Emily ve Kevin'in yapabildikleri ve yapamadıkları etkinlikler aşağıdaki cümlelerde verilmiştir.

1. Emily can't ride a scooter but she can fly a kite.
2. Kevin can't play tennis but he can play football.
3. Emily can play tennis but she can't play football.
4. Kevin can fly a kite but he can't ride a scooter.

Buna göre, aşağıdaki etkinliklerden hangisini her ikisi de yapabilir?

- A)  B) 
 C)  D) 

20. Aşağıdaki Türkiye haritasında öğrencilerin yaşadıkları şehirler ve bununla ilgili açıklamaları yer almaktadır. Ancak haritada bazı öğrencilerin yerlerinde bir yanlışlık yapıldığı görülmüştür.



Öğrencilerin açıklamalarının doğru olduğu bilindiğine göre, hangi iki öğrencinin yeri değiştirilirse haritadaki yanlışlık düzeltilmiş olur?

- A) Kerem - Melis
- B) Arda - Ece
- C) Melis - Arda
- D) Ece - Kerem

TEST BİTTİ.
CEVAPLARINIZI KONTROL EDİNİZ.



SINAV BAŞLAMADAN AŞAĞIDAKİ UYARILARI MUTLAKA OKUYUNUZ!

1. Öğrenciler, sınav kurallarına ve salon görevlilerinin tüm uyarılarına uymak zorundadırlar.
2. Cevap kâğıdındaki kimlik bilgilerinin doğruluğunu kontrol ediniz. Bilgiler size ait değilse veya cevap kâğıdı kullanılmayacak durumdaysa sınav görevlilerine bildiriniz.
3. Sınav başladıktan sonra öğrencilerin salon görevlileri ve birbirleri ile konuşmaları, kalem, silgi vb. şeyleri istemeleri yasaktır.
4. Değiştirmek istediğiniz bir cevabı, yumuşak silgiyle cevap kâğıdını yıpratmadan temizce siliniz ve yeni cevabınızı kodlayınız.
5. Cevap kâğıdınızı siyah kurşun kalemle imzalayınız.
6. Cevaplarınızı, cevap kâğıdındaki ilgili soru numarasını dikkate alarak yuvarlağın dışına taşırmadan kodlayınız.
7. Soru kitapçığının sayfalarını kontrol ediniz, baskı hatası var ise değiştirilmesini sağlayınız.
8. Soru kitapçığı üzerinde yapılp cevap kâğıdına işaretlenmeyen cevaplar değerlendirmeye alınmayacaktır.
9. Soru kitapçığının içindeki boş alanları çözümlerinizi için kullanabilirsiniz.
10. Cevaplamaya istediğiniz sorudan başlayabilirsiniz.
11. Cevabını bilmediğiniz sorular üzerinde fazla zaman kaybetmeden diğer sorulara geçiniz. Zamanınız kalırsa bu sorulara daha sonra dönebilirsiniz.
12. Sınav puanınızın hesaplanmasında 3 yanlış 1 doğru cevabınızı götürcektir. Alt testler bu şekilde hesaplanarak net puanlarının toplamı toplam net puanınızı verecektir.
13. Sınav bitiminde, soru kitapçığı ve cevap kâğıdını salon görevlilerine teslim ediniz.
14. Sınav sırasında çanta, cep telefonu, saat, kablosuz iletişim sağlayan cihazlar ve kulaklık, kolye, küpe, bilezik, yüzük, broş ve benzeri eşyalar ile her türlü elektronik ve/veya mekanik cihazları yanınızda bulundurmayınız. Bu araçları yanınızda bulundurmanız ve kopya çekmeye teşebbüs etmeniz hâlinde sınavınız geçersiz sayılacaktır.
15. Cevap kâğıdınızı sınav süresince hiçbir öğrencinin göremeyeceği şekilde önünüzde bulundurunuz.
16. Sınavınızın değerlendirilmesi aşamasında, toplu kopya tespiti veya başka adayın sınav evrakını kullanmanız durumunda sınavınız geçersiz sayılacaktır.
17. Soruları ve sorulara verdiğiniz cevapları kaydetmeyiniz, hiçbir şekilde dışarı çıkarmayınız.
18. İlk 15 dakika dışarı çıkılmayacaktır.
19. Sınav evraklarını teslim etmeyenlerin sınavı geçersiz sayılacaktır.

SINAV GÖREVLİLERİNCE SINAV BAŞLAMADAN ÖNCE ÖĞRENCİLERE YAPILACAK SON UYARI!

- Soracağınız bir şey var mı? Varsa, şimdi sorunuz.
- Sınav başladıktan sonra sorularınıza cevap verilmeyecektir.
- Başlama zilini bekleyiniz.

Hepinize başarılar dileriz.

(Sınav görevlisi başlama ve bitiş saatini tahtaya yazacaktır.)

Bu kitapçığın her hakkı saklıdır. Hangi amaçla olursa olsun, kitapçığın tamamının veya bir kısmının Millî Eğitim Bakanlığı Ölçme, Değerlendirme ve Sınav Hizmetleri Genel Müdürlüğünün yazılı izni olmadan kopya edilmesi, fotoğraflarının çekilmesi, bilgisayar ortamına alınması, herhangi bir yolla çoğaltılması, yayımlanması veya başka bir amaçla kullanılması yasaktır. Bu yasağa uymayanlar, doğabilecek cezai sorumluluğu ve kitapçığın hazırlanmasındaki mali külfeti peşinen kabullenmiş sayılır.

**11 HAZİRAN 2023 TARİHİNDE YAPILAN VEHBİ KOÇ VAKFI
KOÇ ÖZEL İLKOKULU VE ORTAOKULU SEVİYE TESPİT SINAVI
5. SINIF “A” KİTAPÇIĞI CEVAP ANAHTARI**

TÜRKÇE	MATEMATİK	FEN BİLİMLERİ	SOSYAL BİLGİLER
1. C	1. C	1. D	1. B
2. B	2. D	2. D	2. D
3. A	3. B	3. B	3. B
4. B	4. A	4. C	4. C
5. D	5. C	5. A	5. A
6. D	6. A	6. C	6. C
7. B	7. D	7. D	7. D
8. C	8. C	8. B	8. A
9. C	9. B	9. A	9. B
10. C	10. A	10. B	10. C
11. A	11. D	11. D	11. D
12. A	12. B	12. D	12. B
13. D	13. B	13. C	13. A
14. D	14. C	14. A	14. D
15. B	15. C	15. A	15. C
16. B	16. A	16. B	16. A
17. D	17. C	17. C	17. B
18. A	18. B	18. B	18. C
19. B	19. B	19. D	19. B
20. C	20. D	20. A	20. D
İNGİLİZCE			
1. B			
2. A			
3. A			
4. D			
5. D			
6. C			
7. D			
8. B			
9. A			
10. B			
11. C			
12. C			
13. A			
14. B			
15. A			
16. D			
17. C			
18. D			
19. C			
20. B			