

3.
SINIF



T.C.
MİLLÎ EĞİTİM BAKANLIĞI
ÖLÇME, DEĞERLENDİRME VE SINAV HİZMETLERİ
GENEL MÜDÜRLÜĞÜ

A
KİTAPÇIK TÜRÜ

VEHBİ KOÇ VAKFI KOÇ ÖZEL İLKOKULU VE ORTAOKULU SEVİYE TESPİT SINAVI
(2. Sınıftan 3. Sınıfa Geçenler)
11 HAZİRAN 2023 Saat: 10.00


Adayın Adı ve Soyadı :

Aday Numarası (T.C. No) :

DERS ADI	SORU SAYISI	TOPLAM SORU SAYISI	SINAV SÜRESİ (DAKİKA)
TÜRKÇE	20	60	80
MATEMATİK	20		
HAYAT BİLGİSİ	20		

ÖĞRENCİLERİN DİKKATİNE!

1. Sınıf öğrenci yoklama listesinde belirtilen sınıfta ve sıra numarasında oturunuz.
2. Cevap kâğıdındaki kimlik bilgilerinin doğruluğunu kontrol ediniz.
3. Kitapçık türünü cevap kâğıdındaki ilgili alana kodlayınız.
4. Cevap kâğıdı üzerindeki kodlamaları kurşun kalemle yapınız.



SINAV BAŞLAMADAN ÖNCE KİTAPÇIĞIN ARKA KAPAĞINDAKİ UYARILARI MUTLAKA OKUYUNUZ.

1. “Açılmak” kelimesi aşağıdaki cümlelerin hangisinde “kendine gelmek, biraz iyileşmek, ferahlamak” anlamında kullanılmıştır?

A) Gömleğimi sıcak suda yıkayınca rengi açıldı.
 B) Şehrin ilk araba müzesi geçen hafta açılmış.
 C) İlaçlarını kullanmaya başlayınca biraz açıldı.
 D) Yüzerken farkında olmadan kıyıda açılmış.

2. Aşağıdaki cümlelerin hangisinde zıt anlamlı kelimeler bir arada kullanılmıştır?

A) Dün akşam evden çıkar çıkmaz yağmur başladı.
 B) Çektiği kısa filmle en büyük hayalini gerçekleştirdi.
 C) Şehrin sessiz sokakları kalabalık meydanlara çıkıyor.
 D) Dışarıda duran odunları ıslanmadan içeri taşımaliyiz.

3. Aşağıdaki cümlelerin hangisinde altı çizili kelime, karşısında verilen anlama uygun kullanılmamıştır?

	Cümle	Anlam
A)	Cem Bey, toplantıda konuşmamıza fırsat vermeyerek hepimizi <u>bastırdı</u> .	Üstünlüğünü göstermek
B)	Havuz <u>başında</u> bir masa bulup yemeklerimizi sipariş ettik.	Bir yerin en yüksek noktası
C)	Ablam, ayakkabısını çıkarıp gün boyu yalın ayak <u>gezdi</u> .	Bir yerde dolaşmak, yürümek
D)	Kardeşıme, istediği kitap <u>setini</u> doğum gününde hediye ettim.	Takım, grup

4. İhtiyar balıkçı, her akşam yorgunluktan titreyen elleriyle balık ağı temizlerdi.

Bu cümlede aşağıdaki sorulardan hangisinin cevabı yoktur?

- A) Nerede? B) Kim?
C) Ne zaman? D) Ne?

5. 1. Denedikleri yöntemlerden bazıları taş ve topraktan yaptıkları fırın ve kaplarda yiyecekleri pişirmekmiş.
2. Zamanla, yiyecekleri sopaya geçirmek yerine daha farklı pişirme yöntemleri denemişler.
3. İnsanlar, ateşi keşfetmeden önce yiyecekleri pişirmeden tüketiyorlarmış.
4. Ateşi keşfettikten sonra ise yiyecekleri bir sopaya geçirip pişirmeyi öğrenmişler.

Numaralanmış cümleler oluş sırasına göre nasıl sıralanmalıdır?

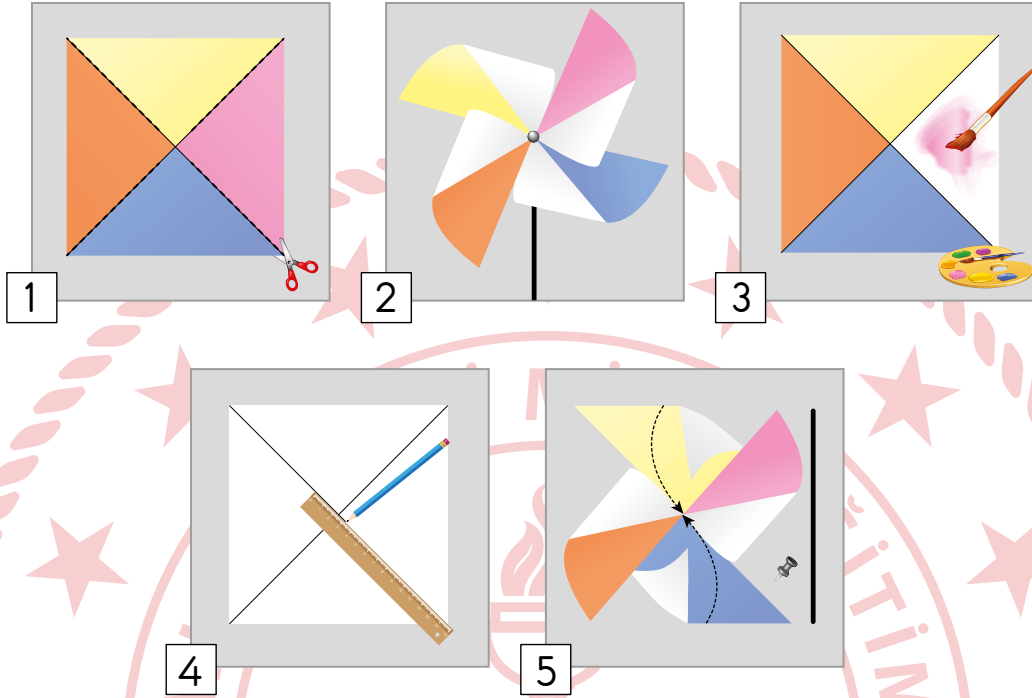
- A) 3 - 2 - 1 - 4
B) 3 - 4 - 2 - 1
C) 4 - 1 - 3 - 2
D) 4 - 2 - 1 - 3

6. Kitaplarımızı belli aralıklarla havalandırmamız gerekir. Özellikle de parlak kâğıda basılmış olanları... Kitaplarımızı mümkünse cam kapaklı kitaplıklarda bulundurmalıyız. Onları kitaplığa dizerken çok sık veya çok aralıklı koymamalıyız. Ayrıca mutfak ve banyo gibi çok nemli ortamlarda kitap bırakmamalıyız.

Bu metin aşağıdaki sorulardan hangisine cevap vermek amacıyla yazılmıştır?

- A) Kitapları korumak için neler yapılmalıdır?
B) Kitaplar gerektiği gibi saklanmadığında ne olur?
C) Kitapların dayanıklılığına kâğıt türünün etkisi nedir?
D) Kitaplıklar nerelerde bulundurulmalıdır?

7. Rüzgârgülü yapımının aşamalarıyla ilgili numaralanmış görseller aşağıda karışık olarak verilmiştir.



Numaralanmış görsellerin yapım aşamasına göre doğru sıralaması aşağıdakilerden hangisidir?

- A) 3 - 1 - 4 - 2 - 5
 B) 3 - 5 - 4 - 1 - 2
 C) 4 - 1 - 5 - 2 - 3
 D) 4 - 3 - 1 - 5 - 2

8. Aşağıdakilerin hangisinde altı çizili kelimenin eş anlamlısı yay ayraç () içinde yanlış verilmiştir?

- A) Masanın üzerindeki kirli (pis) tabakları mutfağa götürdü.
 B) Yemek salonuna girdiğimizde tanıdık (bildik) birini göremedik.
 C) Sevdiği oyuncunun yeni filmi merakla (telaş) bekliyordu.
 D) Elmaları taşımak için sepetlerin üç tanesini (adet) kullandık.

9. İbni Sina, mikrobi tanımlayan ilk bilim insanı olmuştur. O, mikropların içme suyunda bulunduğunu ve insan vücuduna zarar verdiğini ortaya çıkarmıştır. İbni Sina, bu mikroplar hastalığa yol açmasın diye de su arıtıcı filtreyi icat etmiştir.

İbni Sina'nın bu metinde sözü edilen çalışmaları aşağıdakilerden hangisiyle ilgilidir?

- A) Spor B) Tarım C) Sağlık D) Havacılık

10. Aşağıdaki kelimeler sözlük sırasına göre dizildiğinde hangisi en sonda yer alır?

- A) belgelemek
B) belirtmek
C) belgesel
D) belirsiz

11. Aşağıdaki cümlelerin hangisinde büyük harflerin yazımıyla ilgili bir yanlışlık yoktur?

- A) Teyzemin evine giderken Arı Sokağı'ndan geçiyoruz.
B) Sonraki toplantımız 26 aralık 2023'te yapılacak.
C) Kardeşim Cumhuriyet bayramı etkinliklerinde şiir okudu.
D) Arkadaşlarla Atatürk meydanı yakınlarında buluşacağız.

12. 1. çiçeklerin
2. bahçesindeki
3. arka
4. hepsi

Evin - - - - - solmuş.

Anlamalı bir cümle oluşturmak için, numaralanmış kelimeler boş bırakılan yerlere hangi sırayla getirilmelidir?

- A) 2 - 1 - 4 - 3
B) 2 - 3 - 1 - 4
C) 3 - 1 - 4 - 2
D) 3 - 2 - 1 - 4

13. (1) Ahtapot, yumuşak gövdeli ve sekiz kollu bir deniz canlısıdır. (2) Kafasına bitişik olan bu kolların her birini farklı yönlerde hareket ettirebilir. (3) Kollarının iç yüzündeki vantuzlar sayesinde avını sıkıca yakalayabilir. (4) Yakaladığı avı güvenle yiyebilmek için yuvasına götürür.

Bu metindeki numaralanmış cümlelerin hangisinde ahtapotun fiziksel özelliklerine yer verilmemiştir?

- A) 1 B) 2 C) 3 D) 4

14.



Aşağıdaki şiirlerde anlatılan varlıklardan hangisi bu görselde yoktur?

- A) Türlü türlü renkleri var
Birbirinden güzel kokar
İlkbahar gelince açar
Yaprakları göğe bakar
- B) Sabah vaktinde doğar
Gökyüzünde parlar
Yeryüzüne ışık saçar
Akşam olunca batar
- C) Upuzun antenleri var
Toprakta kaleler yapar
Yerin altında yaşar
Taşdıkları boyunu aşar
- D) Sarı siyah çizgisi var
Hep vızıldayarak uçar
Bitkilerden polen toplar
Lezzetli ballar yapar

15. Aşağıdaki kelimelerin hangisi hecelerine doğru ayrılmıştır?

- A) uç - urt - ma
C) sa - lın - cak

- B) sar - ım - sak
D) ap - art - man

16. Derelerden akar buz gibi sular
Tepelerde binbir renk çiçekler açar
Ovalarda yayılır bembeyaz atlar
Seyrine doyum olmaz bu güzelliklerin

Bu şiirin konusu aşağıdakilerden hangisidir?

- A) Doğa sevgisi
B) Ayrılık hüznü
C) Yurt özlemi
D) Tatil coşkusu

17. Bilim Şenliği kapsamında önceki gün Ankara () da yapılan etkinliklere öğ ()
retmenler () öğrenciler ve vatandaşlar katıldı ()

Bu metinde yay ayraçla () gösterilen yerlere sırasıyla aşağıdaki
noktalama işaretlerinden hangisi getirilmelidir?

- A) (-) (') (.) (!)
B) (') (-) (,) (.)
C) (-) (-) (,) (!)
D) (') (') (.) (.)

18. Mustafa Efendi, at arabasıyla taşlı yolda ilerlerken tekerleğin kırıldığını fark etti. Yolunun üzerindeki köyün meydanında durdu. Epeyce uğraştı, tekerleği tamir etmeyi beceremedi. Yükleri götüreceği köye çok yolu da kalmamıştı ancak araba bu hâldeyken yola devam edemezdi. Atları bir yere bağlayıp geceyi bu köyde geçirmeye karar verdi.

Bu metne göre, Mustafa Efendi'nin geceyi köyde geçirmeye karar vermesinin nedeni aşağıdakilerden hangisidir?

- A) Gideceği yolun uzun olması
- B) At arabasının tekerleğinin kırılması
- C) Atlarını dinlendirmek istemesi
- D) Taşıdığı yükün çok ağır olması




19. Kar maymunları, Japonya'daki soğuk ve dağlık bölgelerde yaşıyor. Aslında önceleri sıcak bölgelerde yaşayan bu maymunlar yaşam alanları yok edildiğinden buralara göç etmiş. Kar maymunları, yeni yaşam alanlarına uyum sağlamak için bu bölgelerdeki sıcak su kaynaklarına giriyor. Böylelikle soğuktan korunmuş oluyorlar. Bu maymunlar soğuktan pek hoşlanmasalar da insanlar gibi kar yağışını izlemekten keyif alıyor.

Bu metne göre, "kar maymunları" ile ilgili aşağıdakilerden hangisi söylenemez?


- A) İnsanlarla benzer davranışlarının olduğu
- B) Soğuktan korunmak için önlem aldıkları
- C) İnsanlarla bir arada yaşadıkları
- D) Yaşam alanlarının değiştiği

20. Fileyle ikiye bölünmüş bir oyun alanı üzerinde iki takımın karşılıklı oynadığı bir spor dalıdır. Oyunun amacı, topu filenin üzerinden karşı sahaya atarak sayı kazanmaktır. Bunun için topu, filenin iki yanında yer alan anten biçimindeki çubukların arasından geçirmek gerekir. Bu oyunda, oyuncular topa vururken herhangi bir araç kullanmaz, ellerini kullanırlar.

Bu metinde anlatılan spor dalına ait görsel aşağıdakilerden hangisidir?




TÜRKÇE TESTİ BİTTİ.
MATEMATİK TESTİNE GEÇİNİZ.




1. Aşağıdakilerin hangisinde bir deste kalem verilmiştir?


A)




B)



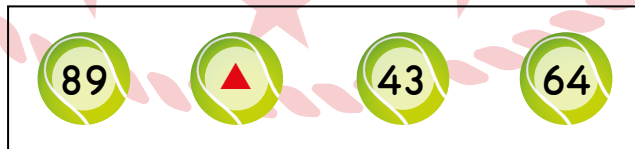
C)



D)



2. Görseldeki toplar, üzerlerinde yazan doğal sayılara göre küçükten büyüğe doğru sıralanacaktır.



Sıralama işlemi tamamlandığında ▲ doğal sayısı en küçük sayı ile en büyük sayının arasında olduğuna göre, ▲ sayısı aşağıdakilerden hangisi olamaz?

A)



B)




C)



D)



3. Görselde kurabiyelerin olduğu bir tepsi verilmiştir.



Bu tepsideki kurabiyelerin toplam sayısı aşağıdakilerden hangisi ile gösterilebilir?

- A) 8 onluk + 4 birlik
- B) 8 onluk + 3 birlik
- C) 4 onluk + 8 birlik
- D) 4 onluk + 3 birlik

4. Üzerinde iki basamaklı doğal sayıların yazılı olduğu kartlar aşağıda verilmiştir.

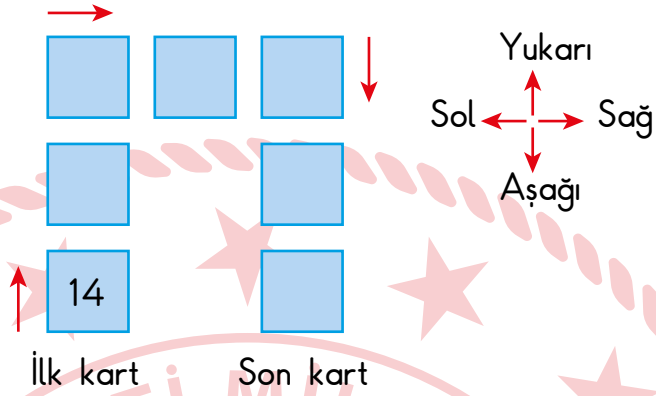
54	21	34	43	29	17	36	48	19
----	----	----	----	----	----	----	----	----

Bu sayıların tamamı en yakın oldukları onluklara yuvarlanacaktır.

Buna göre, bu sayılar ile ilgili aşağıdakilerden hangisi doğru olur?

- A) 3 tane sayının en yakın olduğu onluk 50'dir.
- B) 2 tane sayının en yakın olduğu onluk 40'tır.
- C) 3 tane sayının en yakın olduğu onluk 30'dur.
- D) 4 tane sayının en yakın olduğu onluk 20'dir.

5. Erdem, ileriye doğru ritmik sayma yaparak elde ettiği sayıları kırmızı oklar yönünde sırasıyla kartların üzerine yazacaktır.



Erdem; ilk kartta yazan 14 sayısı ile başlayıp aşağıdan yukarıya ikişer, soldan sağa üçer, yukarıdan aşağıya ise dörder ritmik sayma yapacaktır.

Buna göre, Erdem elde ettiği sayıları kartların üzerine yazma işlemini tamamladığında son kartta yazan sayı kaçtır?

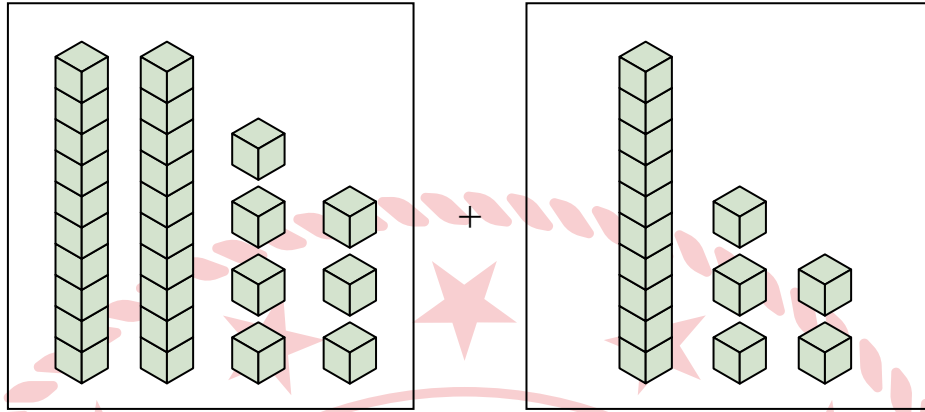
A) 24

B) 26

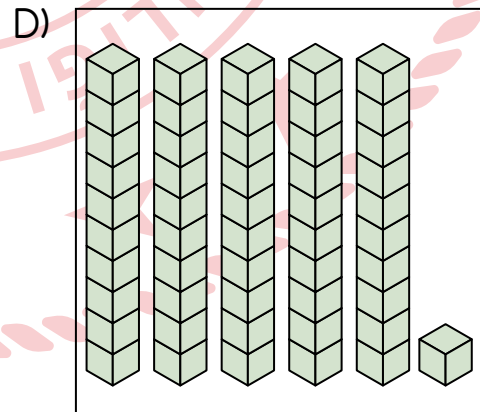
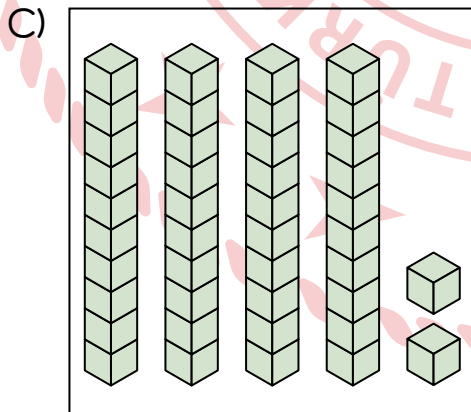
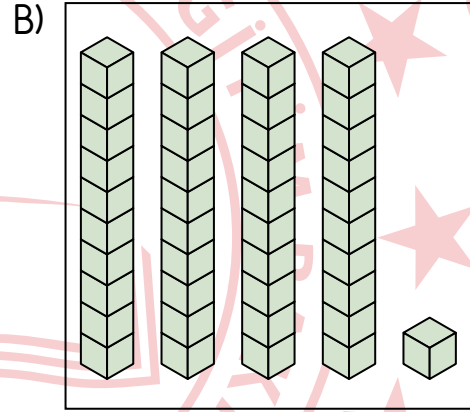
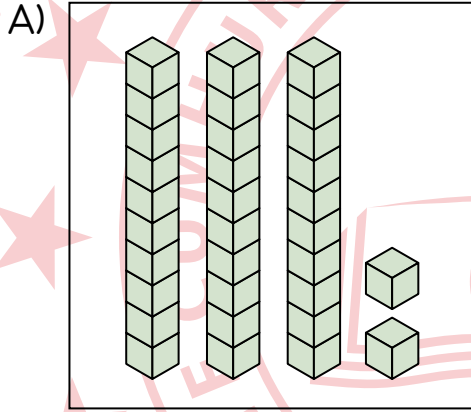
C) 30

D) 32

6. Sayı blokları kullanılarak modellenen bir toplama işlemi aşağıda verilmiştir.



Buna göre, bu işlemin sonucunun sayı blokları ile modellenmiş hâli aşağıdakilerden hangisidir?



7. $35 - 7 = \blacksquare$

Verilen çıkarma işleminde \blacksquare bir doğal sayıdır.

Buna göre, \blacksquare sayısı kaçtır?

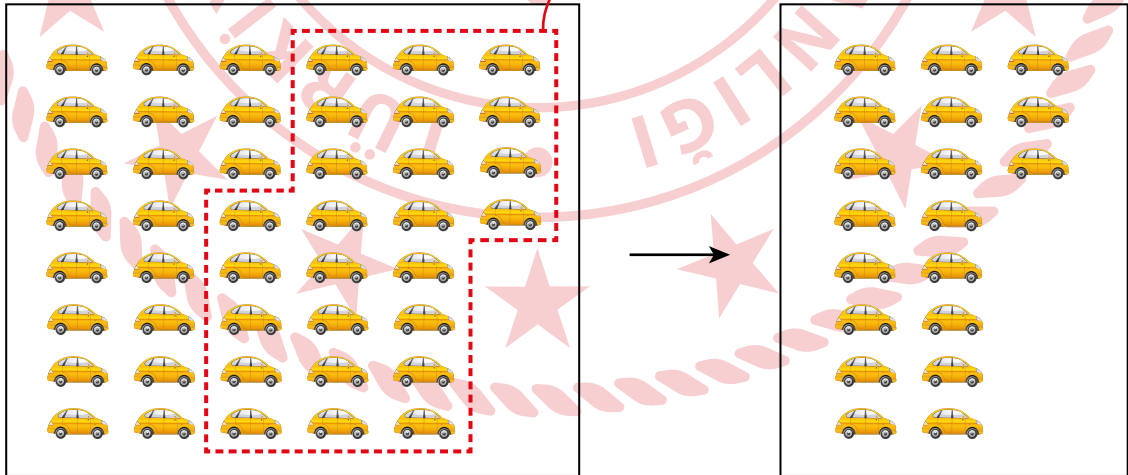
A) 26

B) 28

C) 41

D) 42

8. Bir çıkarma işlemi aşağıda modellenmiştir.



Buna göre, bu çıkarma işlemi aşağıdakilerden hangisidir?

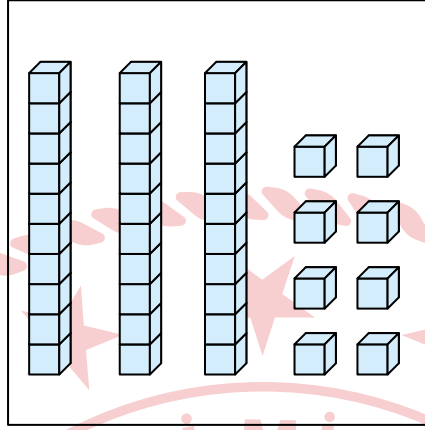
A) $44 - 25 = 19$

B) $44 - 19 = 25$

C) $43 - 24 = 19$


D) $43 - 23 = 20$

9. Sayı blokları kullanılarak aşağıda bir doğal sayı modellenmiştir.

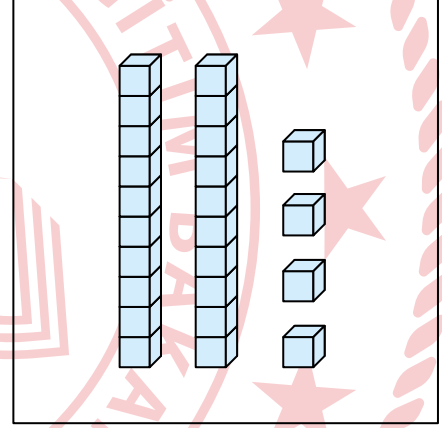


Buna göre, bu sayı bloklarına aşağıdakilerden hangisi eklenirse 65 sayısı elde edilir?

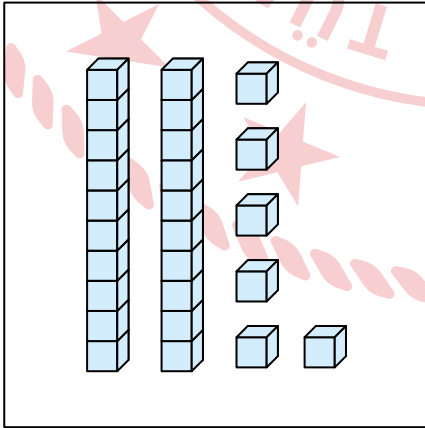
A)



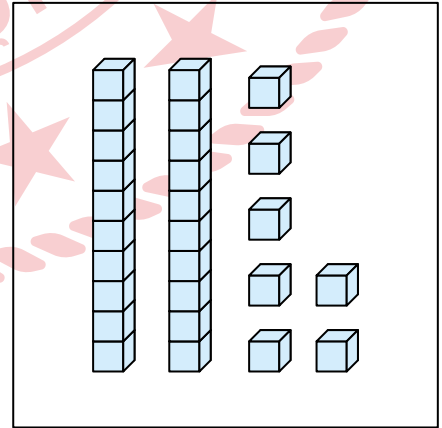
B)



C)



D)



10. Ceren'in 36 tane kitabı, 18 tane de boya kalemi vardır. Ceren, kitaplarının ve boya kalemlerinin sayılarının toplamını tahmin etmek için bu sayıları en yakın oldukları onluğa yuvarlayıp daha sonra toplamıştır.

Buna göre, Ceren'in bulduğu tahmini sonuç kaçtır?

- A) 60 B) 50 C) 40 D) 30

11. Ayşe, 22 tane çikolatalı ve 28 tane portakallı kurabiye yapmıştır.

Buna göre, Ayşe'nin yaptığı çikolatalı ve portakallı kurabiyelerin sayılarının toplamı kaçtır?

- A) 50 B) 49 C) 40 D) 39

12. Bir kutuda 35 tane defter, defterlerin sayısının 14 fazlası kadar da kitap vardır.

Buna göre, bu kutudaki defter ve kitapların sayılarının toplamı kaçtır?

- A) 74 B) 75 C) 84 D) 85

13. Bir çıkarma işleminde eksilen 54, çıkan ise 37'dir.

Buna göre, bu çıkarma işleminde fark kaçtır?

A) 16

B) 17

C) 81

D) 91

14. $72 - 19 = \bullet + 35$

Verilen eşitlikte \bullet bir doğal sayıdır.

Buna göre, \bullet sayısı kaçtır?

A) 17

B) 18

C) 27

D) 28

15. Bir kolye yapımında 45 tane beyaz boncuğun tamamı, 72 tane kırmızı boncuğun ise bir kısmı kullanılmıştır.

Bu kolye yapımı tamamlandığında geriye 25 tane kırmızı boncuk kaldığına göre, kullanılan beyaz ve kırmızı boncukların sayılarının toplamı kaçtır?

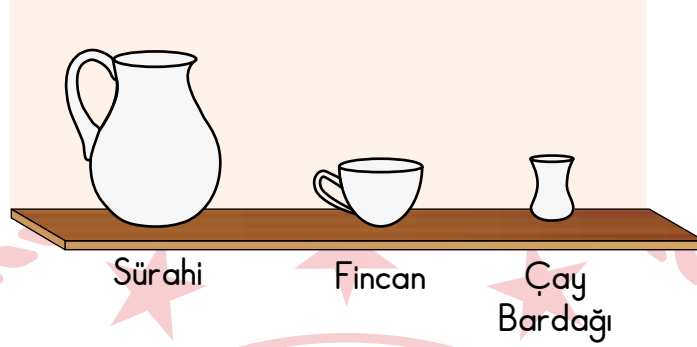
A) 82

B) 88

C) 92

D) 98

16. Görseldeki içi boş olan sürahi 5 fincan su, fincan ise 2 çay bardağı su ile tamamen dolmaktadır.



Buna göre, içi tam dolu olan 21 çay bardağı suyun tamamı kullanılarak aşağıdaki rafların hangisinde bulunan kaplar tamamen doldurulur?

A)



B)



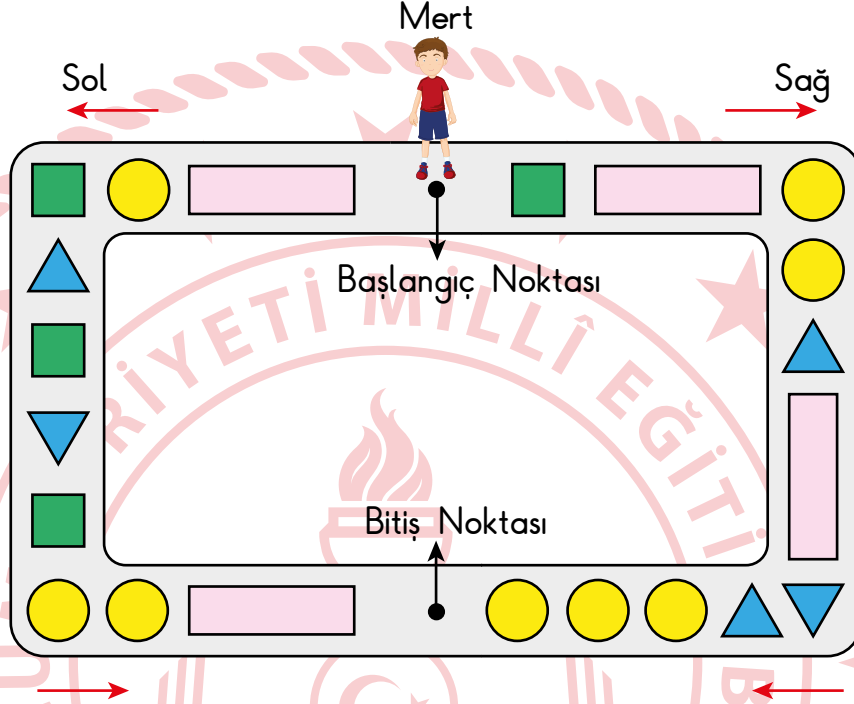
C)



D)



17. Geometrik şekillerdeki taşlarla oluşturulan yol aşağıda modellenmiştir. Başlangıç noktasında bulunan Mert, yolun sağ ya da sol tarafındaki okları takip edip taşların tümüne sırasıyla basarak bitiş noktasına varacaktır.



Mert; daha az sayıdaki taşın olduğu yoldan giderek bitiş noktasına vardığına göre, bastığı taşların köşe sayılarının toplamı kaçtır?

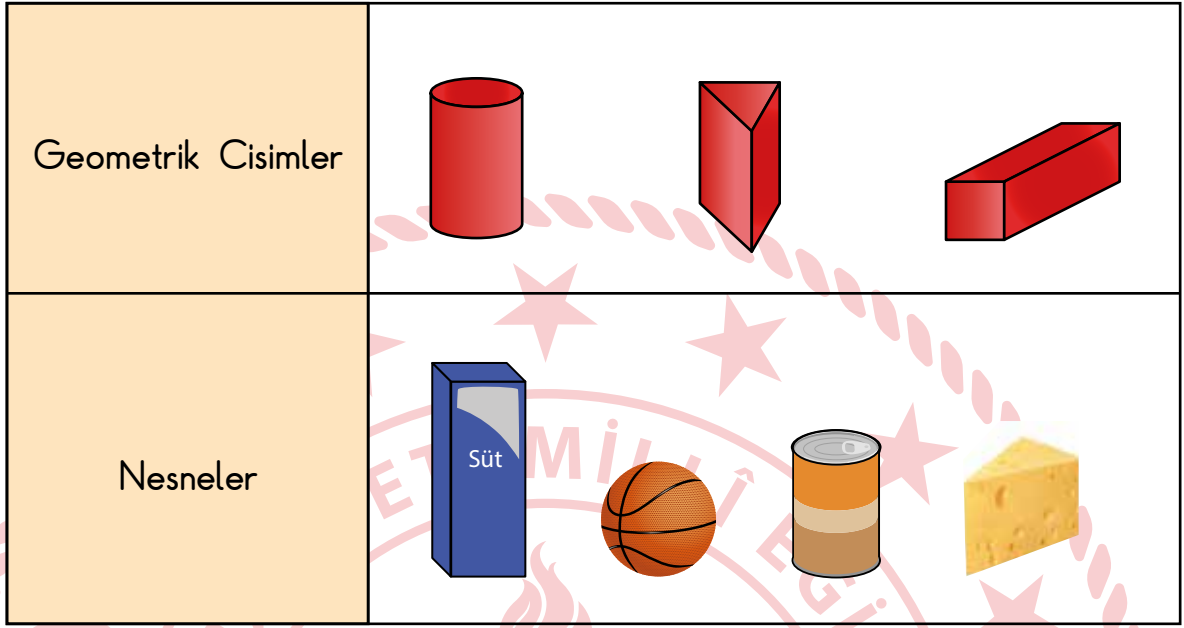
A) 21

B) 25

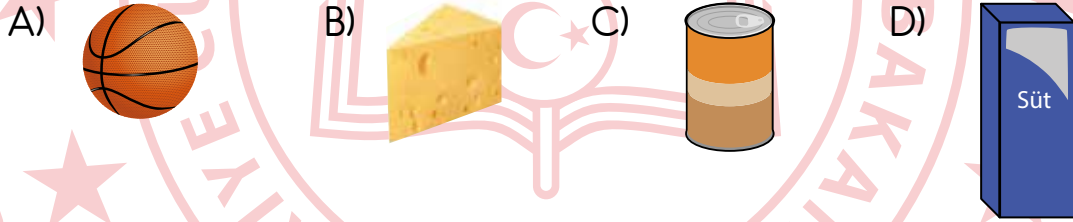
C) 26

D) 29

18. Görseldeki geometrik cisimler, benzer oldukları nesnelerle eşleştirilecektir.




Buna göre, eşleştirme işlemi tamamlandığında aşağıdakilerden hangisi dışta kalır?



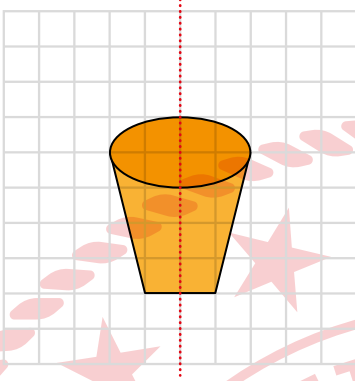
19.           _ _    

Verilen örüntünün kuralına göre, boş bırakılan yerlere sırasıyla aşağıdakilerden hangisi gelmelidir?

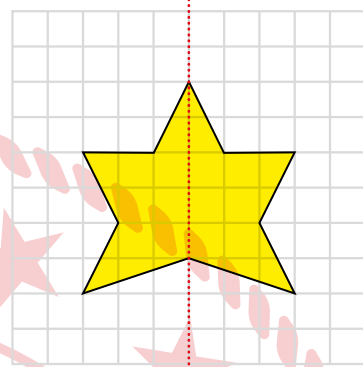
- A)   B)  
- C)   D)  

20. Aşağıdaki kareli zemin üzerinde verilen şekillerden hangisi noktalı yerlerden bir kez uygun şekilde katlandığında iki eş parçaya ayrılmaz?

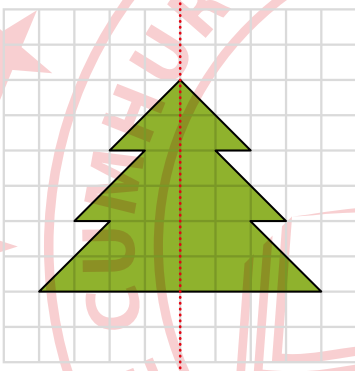
A)



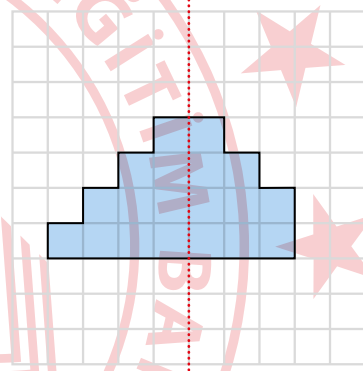
B)




C)



D)



MATEMATİK TESTİ BİTTİ.
HAYAT BİLGİSİ TESTİNE GEÇİNİZ.



1. Aşağıdaki çocuklardan hangisi yeteneğinden bahsetmiştir?

A)

Mehmet

Hayvanları seviyorum.
Evimizde kedi besliyorum.

B)

Seval

Sarı saçlı, yeşil gözlüyüm.
Sınıfımızdaki en uzun boylu
çocuk benim.

C)

Pars

Çok hızlı koşuyorum. Okulda
düzenlenen koşu yarışmasın-
da birinci oldum.

D)

Gönül

Ela gibi ben de çok iyi
keman çalmak istiyorum.
Bunun için kursa gideceğim.

2. Doruk ve ailesi, üç haftalık yaz tatili planı yapmışlardır. Bu plana uygun olarak Doruk'un istediği şekilde ilk haftayı köyde geçirmişlerdir. Tatilin ikinci haftasını annesinin istediği gibi deniz kıyısında bir otelde değerlendirmişlerdir. Tatilin kalan kısmını ise babasının isteği üzerine evde geçirmişlerdir.

Buna göre, Doruk ve ailesi için aşağıdakilerden hangisi söylenebilir?

- A) Aile üyeleri aralarında iş bölümü yapmışlardır.
- B) Tatillerini planladıkları süreden uzun tutmuşlardır.
- C) Yolculukları sırasında farklı ulaşım araçlarını kullanmışlardır.
- D) Aile bireyleri birbirlerinin fikirlerini dikkate almışlardır.

3.



Okulum; Talas Caddesi üzerinde, hastane ile kırtasiye arasındadır. Okulumun arkasındaki Nedim Caddesi üzerinde fırın, market ve eczane bulunur.

Buna göre, Yağmur'un okulunun bulunduğu yer aşağıdaki görsellerin hangisinde doğru gösterilmiştir?

A)

B)

C)

D)

4. 2/H sınıfı, beden eğitimi ve oyun dersinde mendil kapmaca oyunu oynamıştır. Oyun sonunda kaybeden takım, kazanan takımı tebrik ederek alkışlamıştır.

Buna göre, kaybeden takım için aşağıdakilerden hangisi söylenebilir?

- A) Saygılı ve nazik bir davranış göstermişlerdir.
 B) Aynı takımla tekrar oynamamaya karar vermişlerdir.
 C) Kendilerinin kazanması gerektiğini savunmuşlardır.
 D) Oyunu yeniden oynamak istemişlerdir.

5. Yeliz Öğretmen, tahtaya aşağıdaki afişi asmıştır.



Buna göre, Yeliz Öğretmen aşağıdakilerin hangisine dikkat çekmek istemiştir?

- A) Temiz olmanın önemine
- B) Kaynağın özenli tüketimine
- C) Eşyaların dikkatli kullanımına
- D) Sağlıklı olmanın gerekliliğine

6.



Cevdet
Öğretmen

İyi bir iletişim için güzel konuşmak kadar doğru dinlemek de önemlidir.

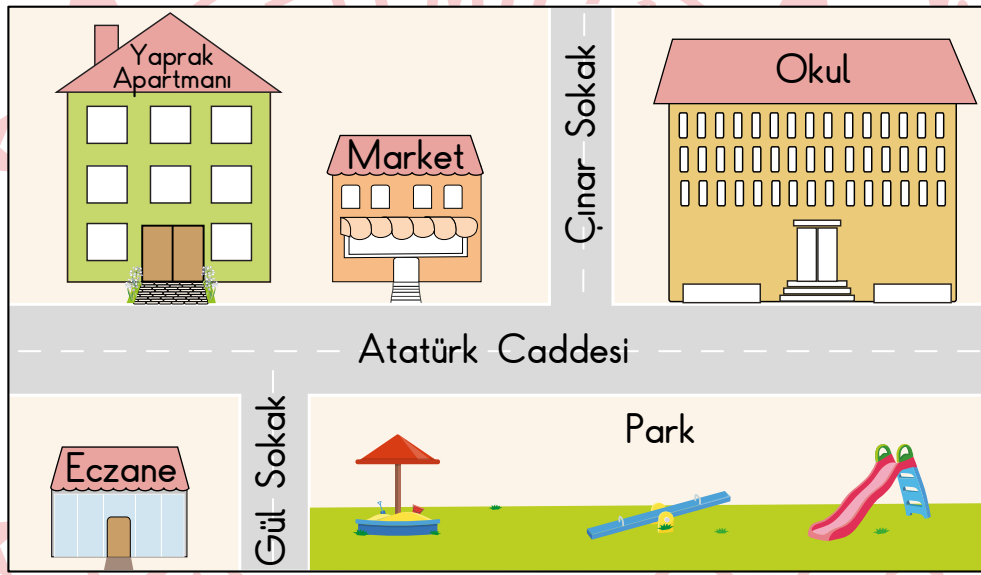
Aşağıdaki çocukların hangisi öğretmenin bu açıklamasına uygun bir ifade kullanmıştır?

- A) Birce : Konuşan kişinin dikkatini dağıtacak hareketler yaparım.
- B) Can : Karşımdaki kişiyi dinlerken başka işlerle de ilgilenirim.
- C) Lara : Dinlediğim kişiyle göz teması kurmaktan kaçınırım.
- D) Deniz: Arkadaşım konuşurken sözü bitene kadar beklerim.

7. Duygu, aşağıdakilerden hangisini yaparsa harçlığını bilinçli bir şekilde kullanmış olur?

- A) Suyu bittiği için su alırsa
- B) Silgisi varken çok beğendiği silgiyi de alırsa
- C) Annesinin hazırladığı tostu yemeyip simit alırsa
- D) Kalem için ayırdığı parayla oyuncak alırsa

8. Ayça ve ailesi İstanbul'un Maltepe ilçesinde yaşamaktadır. Ayça, gör-seldeki yeşil binanın 5 numaralı dairelerinde oturmaktadır.



Buna göre, Ayça'nın adres bilgileri aşağıdakilerin hangisinde tam ve doğru olarak verilmiştir?

A) Atatürk Caddesi
Gül Sokak
Yaprak Apartmanı
Daire: 5
İSTANBUL

B) Çınar Sokak
Yaprak Apartmanı
Maltepe/İSTANBUL

C) Gül Sokak
Daire: 5
Çınar Apartmanı
İSTANBUL

D) Atatürk Caddesi
Yaprak Apartmanı
Daire: 5
Maltepe/İSTANBUL

9.



Yasemin

Annemin bir kız kardeşi, babamın ise bir kız bir de erkek kardeşi vardır.

Buna göre, Yasemin hangi akrabasından bahsetmemiştir?

- A) Teyzesinden
C) Dayısından

- B) Halasından
D) Amcasından

10. Tolga, odasındaki panoya aşağıdaki notları yapıştırmıştır.

1 Çalışma masamı düzenli tutarım.	2 Eğlenceli oyunlar oynarım.	3 Her gün yatağımı toplarım.
4 Sevdiğim çizgi filmleri izlerim.	5 Oyuncaklarımı ve eşyalarımı özenli kullanırım.	

Buna göre, numaralanmış notların hangileri Tolga'nın evdeki sorumluluklarını göstermektedir?

- A) 1 2 3

- B) 1 3 5

- C) 2 4 5

- D) 3 4 5

11. Aşağıda 2/A sınıfına ait haftalık ders programı verilmiştir.





















	Pazartesi	Salı	Çarşamba	Perşembe	Cuma
1. Ders	Hayat Bilgisi	Hayat Bilgisi	Türkçe	Hayat Bilgisi	Yabancı Dil
2. Ders	Türkçe	Hayat Bilgisi	Türkçe	Matematik	Yabancı Dil
3. Ders	Türkçe	Türkçe	Matematik	Türkçe	Türkçe
4. Ders	Matematik	Türkçe	Matematik	Türkçe	Türkçe
5. Ders	Görsel Sanatlar	Serbest Etkinlikler	Serbest Etkinlikler	Müzik	Matematik
6. Ders	Beden Eğitimi ve Oyun	Beden Eğitimi ve Oyun	Beden Eğitimi ve Oyun	Beden Eğitimi ve Oyun	Beden Eğitimi ve Oyun

Buna göre, 2/A sınıfı öğrencisi Defne'nin okul çantası hazırlığıyla ilgili aşağıdaki ifadelerinden hangisi yanlıştır?

- A) Pazartesi günü için boya kalemlerimi çantama koymalıyım.
- B) Her gün Türkçe kitabımı çantamda okula götürmeliyim.
- C) Perşembe günü için flütümü çantama koymalıyım.
- D) Salı günü için matematik kitabımı çantama yerleştirmeliyim.

12. Aksoy ailesinin mart ayında evde kullandığı temizlik malzemelerinin sayısını gösteren tablo aşağıda verilmiştir.

















Tablo 1: Temizlik Malzemeleri ve Sayıları (Mart Ayı)

Temizlik Malzemesi	Sayısı
Toz deterjan	   
Çamaşır suyu	    
Tuvalet kâğıdı	       
Sıvı sabun	  

Not: Her şekil bir adet ürünü göstermektedir.

Temizlik malzemelerinin fazla tüketildiğini fark eden bu aile, nisan ayında aldıkları malzemelerden tasarruf yapmıştır. Bir aylık tasarruf sonunda kullanılan malzemelerin sayısını gösteren tablo aşağıda verilmiştir.

Tablo 2: Temizlik Malzemeleri ve Sayıları (Nisan Ayı)

Temizlik Malzemesi	Sayısı
Toz deterjan	  
Çamaşır suyu	  
Tuvalet kâğıdı	       
Sıvı sabun	 

Not: Her şekil bir adet ürünü göstermektedir.

Buna göre, Aksoy ailesi hangi malzemede daha fazla sayıda tasarruf yapmıştır?

- A) Tuvalet kâğıdı
C) Çamaşır suyu

- B) Sıvı sabun
D) Toz deterjan

13.



Yiğit

Komşumuz Seda Hanım, yürümekte zorlanıyor. Bu yüzden markete gittiğim zaman ona da ekmek alıyorum.

Buna göre, Yiğit için aşağıdakilerden hangisi söylenebilir?

- A) Yardıma ihtiyacı olan kişilere karşı duyarlıdır.
- B) Parasını tutumlu bir şekilde harcar.
- C) Alışveriş yapmayı sever.
- D) Akrabalık ilişkisine önem verir.

14. Gün içinde zamanını verimli kullanmak isteyen bir öğrencinin hazırlayacağı planına aşağıdakilerden hangisini yazması yanlış olur?

- A) Ailem ile birlikte akşam yemeği yerim.
- B) Okula gitmeden önce kahvaltımı yaparım.
- C) Uyumadan önce 15 sayfa kitap okurum.
- D) Tüm gün tabletle oyun oynarım.

15. Aşağıdaki akşam öğün listelerinin hangisinde sağlıklı ve dengeli beslenmek için uygun besinler bir arada verilmiştir?

A)

- Köfte
- Cips
- Yoğurt

B)

- Portakal suyu
- Patates kızartması
- Elma şekeri

C)

- Domates çorbası
- Balık
- Salata

D)

- Zeytinyağlı fasulye
- Makarna
- Gazlı içecek

16. Aşağıdaki çocuklardan hangisi yemeğini bitirdikten sonra yemeği hazırlayan kişiye söylenmesi gereken bir ifade kullanmıştır?

A)



Ellerine sağlık. Hepsi çok güzeldi.

B)



Rica ederim. Hiç önemli değil.

C)



Güle güle. İyi yolculuklar.

D)



Hoşça kal. Tekrar bekliyorum.

17.



Serap

Oyundan sonra, tuvaletten çıkınca, yemekten önce ve yemekten sonra ellerimi yıkarım.

Buna göre, Serap'ın aşağıdakilerden hangisine önem verdiği söylenebilir?

- A) Su israfını önlemeye
- B) Kişisel temizliğini yapmaya
- C) Çevreyi temiz tutmaya
- D) Okuldan sonra dinlenmeye

18.

Her yer bembeyaz olsa
Kardan adam yapsam
Gözlerine kömür, burnuna havuç
Kalbine sevgimi koysam.

Aşağıdaki çocuklardan hangisi bu dördlükte bahsedilen mevsime uygun giyinmiştir?

A)



B)



C)



D)



19. Karnı çok ağrıyan Asya'yı, annesi hastanenin acil bölümüne götürür. Asya'nın tedavi aşamaları şunlardır:

- Muayene edilir.
- İğne yapılır.
- Reçeteye yazılan ilaç alınır.

Buna göre, Asya'nın tedavi aşamalarında aşağıdaki sağlık çalışanlarından hangisi yer almamıştır?

- A) Eczacı
- B) Diş hekimi
- C) Doktor
- D) Hemşire


20.

Uzun Yaşamın Sırlarından Biri!

Uzmanlar, dünyanın en uzun yaşayan insanları üzerinde bir araştırma yapmışlardır. Bu kişilerin, mevsimine uygun sebzeleri tükettiklerini tespit etmişlerdir.

Bu haberde aşağıdakilerden hangisinin öneminden söz edilmiştir?

- A) Sağlıklı beslenmenin
- B) Spor yapmanın
- C) Bol su tüketmenin
- D) Düzenli uyumanın



TEST BİTTİ.
CEVAPLARINIZI KONTROL EDİNİZ.

SINAV BAŞLAMADAN AŞAĞIDAKİ UYARILARI MUTLAKA OKUYUNUZ!

1. Öğrenciler, sınav kurallarına ve salon görevlilerinin tüm uyarılarına uymak zorundadırlar.
2. Cevap kâğıdındaki kimlik bilgilerinin doğruluğunu kontrol ediniz. Bilgiler size ait değilse veya cevap kâğıdı kullanılmayacak durumdaysa sınav görevlilerine bildiriniz.
3. Sınav başladıktan sonra öğrencilerin salon görevlileri ve birbirleri ile konuşmaları, kalem, silgi vb. şeyleri istemeleri yasaktır.
4. Değiştirmek istediğiniz bir cevabı, yumuşak silgiyle cevap kâğıdını yıpratmadan temizce siliniz ve yeni cevabınızı kodlayınız.
5. Cevap kâğıdınızı siyah kurşun kalemle imzalayınız.
6. Cevaplarınızı, cevap kâğıdındaki ilgili soru numarasını dikkate alarak yuvarlağın dışına taşırmadan kodlayınız.
7. Soru kitapçığının sayfalarını kontrol ediniz, baskı hatası var ise değiştirilmesini sağlayınız.
8. Soru kitapçığı üzerinde yapılıp cevap kâğıdına işaretlenmeyen cevaplar değerlendirmeye alınmayacaktır.
9. Soru kitapçığının içindeki boş alanları çözümlerinizi için kullanabilirsiniz.
10. Cevaplamaya istediğiniz sorudan başlayabilirsiniz.
11. Cevabını bilmediğiniz sorular üzerinde fazla zaman kaybetmeden diğer sorulara geçiniz. Zamanınız kalırsa bu sorulara daha sonra dönebilirsiniz.
12. Sınav puanınızın hesaplanmasında 3 yanlış 1 doğru cevabınızı götürcektir. Alt testler bu şekilde hesaplanarak net puanlarının toplamı toplam net puanınızı verecektir.
13. Sınav bitiminde, soru kitapçığı ve cevap kâğıdını salon görevlilerine teslim ediniz.
14. Sınav sırasında çanta, cep telefonu, saat, kablosuz iletişim sağlayan cihazlar ve kulaklık, kolye, küpe, bilezik, yüzük, broş ve benzeri eşyalar ile her türlü elektronik ve/veya mekanik cihazları yanınızda bulundurmamınız. Bu araçları yanınızda bulundurmanız ve kopya çekmeye teşebbüs etmeniz hâlinde sınavınız geçersiz sayılacaktır.
15. Cevap kâğıdınızı sınav süresince hiçbir öğrencinin göremeyeceği şekilde önünüzde bulundurunuz.
16. Sınavınızın değerlendirilmesi aşamasında, toplu kopya tespiti veya başka adayın sınav evrakını kullanmanız durumunda sınavınız geçersiz sayılacaktır.
17. Soruları ve sorulara verdiğiniz cevapları kaydetmeyiniz, hiçbir şekilde dışarı çıkarmayınız.
18. İlk 15 dakika dışarı çıkılmayacaktır.
19. Sınav evraklarını teslim etmeyenlerin sınavı geçersiz sayılacaktır.

SINAV GÖREVLİLERİNCE SINAV BAŞLAMADAN ÖNCE ÖĞRENCİLERE YAPILACAK SON UYARI!

- Soracağınız bir şey var mı? Varsa, şimdi sorunuz.
- Sınav başladıktan sonra sorularınıza cevap verilmeyecektir.
- Başlama zilini bekleyiniz.

Hepinize başarılar dileriz.

(Sınav görevlisi başlama ve bitiş saatini tahtaya yazacaktır.)

Bu kitapçığın her hakkı saklıdır. Hangi amaçla olursa olsun, kitapçığın tamamının veya bir kısmının Millî Eğitim Bakanlığı Ölçme, Değerlendirme ve Sınav Hizmetleri Genel Müdürlüğünün yazılı izni olmadan kopya edilmesi, fotoğraflarının çekilmesi, bilgisayar ortamına alınması, herhangi bir yolla çoğaltılması, yayımlanması veya başka bir amaçla kullanılması yasaktır. Bu yasağa uymayanlar, doğabilecek cezai sorumluluğu ve kitapçığın hazırlanmasındaki mali külfeti peşinen kabullenmiş sayılır.

**11 HAZİRAN 2023 TARİHİNDE YAPILAN VEHBİ KOÇ VAKFI
ÖZEL KOÇ İLKOKULU VE ORTAOKULU SEVİYE TESPİT SINAVI
3. SINIF “A” KİTAPÇIĞI CEVAP ANAHTARI**

TÜRKÇE	MATEMATİK	HAYAT BİLGİSİ
1. C	1. B	1. C
2. D	2. D	2. D
3. B	3. C	3. C
4. A	4. B	4. A
5. B	5. D	5. B
6. A	6. C	6. D
7. D	7. B	7. A
8. C	8. A	8. D
9. C	9. D	9. C
10. B	10. A	10. B
11. A	11. A	11. D
12. D	12. C	12. C
13. D	13. B	13. A
14. C	14. B	14. D
15. C	15. C	15. C
16. A	16. D	16. A
17. B	17. C	17. B
18. B	18. A	18. D
19. C	19. D	19. B
20. D	20. D	20. A