




147 gram



978 gram




653 gram




98 gram



839 gram



995 gram



435 gram

Aşağıdaki soruları resme göre cevaplayınız.

1. Kedinin mi, yoksa pastanın mı tartısı daha büyüktür? Sembol kullanarak karşılaştırınız.

2. Oyuncak leylek, domates ve balığın tartılarını küçükten büyüğe doğru sembol kullanarak sıralayınız.

3. Çilek sepeti ve hediye paketinin tartılarını karşılaştırınız. Büyükten küçüğe doğru sıralayınız.

4. En büyük ve en küçük tartıların farkı olan sayı ile pastanın tartısını gösteren sayıyı karşılaştırınız.

5. Tartıları en büyük üç nesneyi büyükten küçüğe doğru sembol kullanarak sıralayınız.

6. Tartıları en küçük üç nesneyi büyükten küçüğe doğru sembol kullanarak sıralayınız.