

T.C.
MİLLÎ EĞİTİM BAKANLIĞI
EĞİTİM TEKNOLOJİLERİ GENEL MÜDÜRLÜĞÜ
Ölçme Değerlendirme ve Açıköğretim Kurumları Daire Başkanlığı

KİTAPÇIK TÜRÜ

A

MİLLÎ EĞİTİM BAKANLIĞI MÜFETTİŞ YARDIMCILIĞI GİRİŞ SINAVI
29 MAYIS 2005 Saat:10.00

Adayın Adı ve Soyadı :
Aday Numarası :

DİKKAT: 1. Test kitapçıklarını kontrol ederek, baskı hatası olan kitapçığın değiştirilmesi için salon sorumlularına başvurunuz.
2. Test kitapçığındaki açıklamaları okuyunuz.
3. Sınavda hesap makinesi, cep telefonu ve çağrı cihazı kullanılması yasaktır. Bu cihazları sınav başlamadan önce salon başkanına teslim ediniz.

CEVAP KÂĞIDI İLE İLGİLİ AÇIKLAMA

1. Cevap kâğıdı üzerine yazacağınız yazı ve yapacağınız işaretlemelerde kurşunkaleminden başka kalem kullanmayınız.
2. Size verilen cevap kâğıdında yazılı olan bilgilerin size ait olup olmadığını kontrol ediniz ve **kitapçık türünü mutlaka işaretleyiniz.**
3. Cevaplarınızı cevap kâğıdına aşağıdaki örnekte olduğu gibi yuvarlağı, dışına taşırmadan işaretleyiniz. Yanlış karalamalarınızı düzeltirken yuvarlağın içini temizce siliniz.

ÖRNEK KODLAMA:



TEST KİTAPÇIĞI İLE İLGİLİ AÇIKLAMA

1. Test kitapçığında **100** soru bulunmaktadır. Test için verilen cevaplama süresi **110** dakikadır.
1'den 25'e kadar olan sorular Genel Mevzuat,
26'dan 50'ye kadar olan sorular Özel Mevzuat,
51'den 75'e kadar olan sorular Özel Alan Bilgisi,
76'dan 100'e kadar olan sorular Yabancı Dil sorularıdır.
2. Her sorunun dört seçeneğı vardır. Dört seçenekten sadece bir tanesi doğru cevaptır.
3. Size ayrı bir karalama kâğıdı verilmeyecektir. Test kitapçığınızın içindeki boş alanları karalama yapmak için kullanabilirsiniz.
4. Cevaplarınız puanlanırken her doğru cevaba puan verilecek, yanlış cevaplarınız dikkate alınmayacaktır.

Soracağınız bir şey var mı? Varsa şimdi sorunuz; sınav başladıktan sonra sorularınıza cevap verilmeyecektir. Hazır mısınız? Sınav, okulun bütün salonlarında aynı anda başlayacağı için başlama zilini beraberce bekleyelim. Hepinize başarılar dileriz.

(Salon başkanı başlama ve bitiş saatini tahtaya yazacaktır.)

Bu testin her hakkı saklıdır. Hangi amaçla olursa olsun, testlerin tamamının veya bir kısmının Millî Eğitim Bakanlığı Eğitim Teknolojileri Genel Müdürlüğünün yazılı izni olmadan kopya edilmesi, fotoğraflarının çekilmesi, bilgisayar ortamına alınması, herhangi bir yolla çoğaltılması, yayımlanması veya başka bir amaçla kullanılması yasaktır. Bu yasağı uymayanlar, doğabilecek cezaî sorumluluğı ve testlerin hazırlanmasındaki malî külfeti peşinen kabullenmiş sayılır.

BAŞLAYINIZ DENİLMEDEN TEST KİTAPÇIĞINI AÇMAYINIZ.

1. “Türkiye Cumhuriyeti, toplumun huzuru, millî dayanışma ve adalet anlayışı içinde, insan haklarına saygılı, Atatürk milliyetçiliğine bağlı, başlangıçta belirtilen temel ilkelere dayanan, lâik ve sosyal bir hukuk Devletidir.”

T.C. Anayasası’nın yukarıdaki bu hükmü, aşağıdakilerden hangisini vurgulamaktadır?

- A) Cumhuriyetin niteliklerini
B) Anayasa’nın bağlayıcılığını ve üstünlüğünü
C) Devletin temel amaç ve görevlerini
D) Egemenliği

2. T.C. Anayasası’na göre millî güvenlik, kamu düzeni, genel sağlık, genel ahlâkın korunması gibi sebeplere bağlı olarak gecikmesinde sakınca bulunan hâllerde kanunla yetkili kılınan merci, konut arama kararını kaç saat içinde görevli hakim onayına sunar?

- A) 12 B) 24 C) 48 D) 72

3. T.C. Anayasası’na göre grev ve lokavtın yasaklanabileceği veya ertelenebileceği hâller aşağıdakilerden hangisiyle düzenlenir?

- A) Kanun B) Tüzük
C) Yönetmelik D) Genelge

4. T.C. Anayasası’na göre seçim kanunlarında yapılan değişiklikler yürürlüğe girdiği tarihten itibaren kaç yıl içinde yapılacak seçimlerde uygulanmaz?

- A) 4 B) 3 C) 2 D) 1

5. T.C. Anayasası’na göre aşağıdakilerden hangisi siyasî haklar ve ödevler bölümünde yer alır?

- A) Vergi ödevi
B) Din ve vicdan hürriyeti
C) Sosyal güvenlik hakkı
D) Düzeltme ve cevap hakkı

6. T.C. Anayasası’na göre Cumhurbaşkanı Türkiye Büyük Millet Meclisince kabul edilen kanunları kaç gün içinde yayımlar?

- A) 7 B) 10 C) 15 D) 30

7. T.C. Anayasası’na göre aşağıdakilerden hangisi Cumhurbaşkanlığına bağlı olarak kurulan Devlet Denetleme Kurulu’nun görev alanı dışında yer alır?

- A) Her düzeydeki işçi ve işveren meslek kuruluşları
B) Kamu kurumu niteliğindeki meslek kuruluşları
C) Silâhlı kuvvetler ve yargı organları
D) Kamuya yararlı dernekler ve vakıflar

8. Aşağıdakilerden hangisi yönetsel işlevlerin özelliklerinden değildir?

- A) Yönetsel işlevler, ya hukuksal işlem ya da eylem olarak yapılır.
B) Yönetsel işlevler ve bunları yürüten görevliler süreklidir.
C) Yönetsel işlevler, hukuka uygun olarak yürütülür.
D) Yönetsel işlevler, bir isteğe bağlı olarak yönetsel kuruluşlarca yürütülür.

9. Aşağıdakilerden hangisi yönetim hukukunun özelliklerinden değildir?

- A) Taraflar arasında eşitlik vardır.
B) Bir içtihat hukukudur.
C) Hukuksal durumlar kuralsaldır.
D) Dağınık bir hukuk dalıdır.

10. Sayıştay’ın bütçe uygulaması yönünden, kurumların harcamalarını hukuka ve bütçeye uygunluk yönünden denetlemesine ne ad verilir?

- A) Vize
B) Tescil
C) Uygunluk bildirimi
D) Verimlilik ve etkinlik denetimi

11. Aşağıdakilerden hangileri ülkemizde uygulanan yönetsel yargının özelliklerindendir?

- I- Görev alanı geniş tutulmuştur.
II- İki dereceli olarak örgütlenmiştir.
III- Genel görev ilkesi uygulanır.

- A) I ve II B) I ve III C) II ve III D) I, II ve III

12. T.C. yönetsel yapısı içerisinde aşağıdakilerden hangisi hizmet yerinden yönetim kuruluşudur?
- A) Emekli Sandığı
B) İl Özel Yönetimi
C) Devlet Plânlama Teşkilâtı
D) Diyanet İşleri Başkanlığı
13. Genel Muhasebe Kanunu'na, Sayıştay denetimine ve Devlet ihale kurallarına bağlı olmayan, kendi kuruluş yasası dışında özel hukuk kurallarının uygulandığı kuruluşlar bütçe bakımından ne tür kuruluşlardır?
- A) Fon bütçeli
B) Döner sermaye bütçeli
C) Genel bütçeli
D) Katma bütçeli
14. 657 sayılı Devlet Memurları Kanunu'na göre Devlet memurları aşağıdakilerden hangisi için mal bildirimi vermez?
- A) Kendisi
B) Eşi
C) Velayeti altındaki çocukları
D) Anne ve babası
15. 657 sayılı Devlet Memurları Kanunu'na göre Devlet memurunun kademedeki ilerlemesi için aşağıdaki şartlardan hangileri aranır?
- I- Bulunduğu kademedeki en az bir yıl çalışmış olması
II- O yıl içinde olumlu sicil almış bulunması
III- Bulunduğu derecede ilerleyebileceği bir kademenin bulunması
- A) I ve II B) I ve III C) II ve III D) I, II ve III
16. 657 sayılı Devlet Memurları Kanunu'na göre öğretmenlere, aşağıdakilerden hangisi ikinci görev olarak verilemez?
- A) İlçe millî eğitim müdürlüğü
B) Enstitü müdürlüğü
C) Okul müdür yardımcılığı
D) Okul müdürlüğü
17. 657 sayılı Devlet Memurları Kanunu'na göre yetkili sicil amirleri tarafından gizli bir yazı ile yetersizlikleri bildirilen memurlar, tebliğ tarihinden itibaren en çok kaç gün içinde aynı amire itiraz edebilir?
- A) 7 B) 10 C) 15 D) 30
18. 657 sayılı Devlet Memurları Kanunu'na göre aşağıdaki fiil ve hâllerden hangisi aylıktan kesme cezasını gerektirir?
- A) Verilen emirlere itiraz etmek
B) Usulsüz müracaat ve şikâyetle bulunmak
C) Toplu müracaat ve şikâyet etmek
D) Göreve sarhoş gelmek ve görev yerinde alkollü içki içmek
19. 657 sayılı Devlet Memurları Kanunu'na göre bir göreve vekâleten atanan memurlara, vekâlet edilen görevin kadro derecesinin birinci kademesinin ne kadarı vekâlet aylığı olarak verilir?
- A) Üçte biri B) Üçte ikisi
C) Beşte ikisi D) İki de biri
20. 657 sayılı Devlet Memurları Kanunu'na göre Devlet memurlarından çocuğu dünyaya gelenlere, hangi gösterge rakamının aylık katsayısı ile çarpılması sonucu elde edilecek miktarda doğum yardımı ödeneği verilir?
- A) 75 B) 750 C) 2500 D) 3000
21. 657 sayılı Devlet Memurları Kanunu'na göre Devlet memurları eğitimi genel plânı hazırlarken ilgili kurumun dışında aşağıdaki kurumlardan kaç tanesinin görüşü alınır?
- Maliye Bakanlığı
 - Millî Eğitim Bakanlığı
 - Türkiye ve Orta-Doğu Amme İdaresi Enstitüsü
 - Devlet Plânlama Teşkilâtı
 - Devlet Personel Başkanlığı
- A) 2 B) 3 C) 4 D) 5
22. İl İdaresi Kanunu'na göre il ve ilçe kurulması, kaldırılması, merkezlerinin belirtilmesi hangi şekilde olur?
- A) Kanun ile
B) Başbakanlığın kararı ile
C) İçişleri Bakanlığının tasvibi ile
D) İçişleri Bakanlığının kararı ve Cumhurbaşkanının tasdiki ile
23. İl İdaresi Kanunu'na göre aşağıdakilerden hangisini valinin denetleme yetkisi yoktur?
- A) Adli daireler
B) Mal Müdürlüğü
C) İl Emniyet Müdürlüğü
D) Belediyeler

24. Valiler, aşağıdakilerden hangisinin ikinci sicil amiridir?
- A) Kaymakam
B) Vali muavini
C) İlköğretim müfettişleri başkanı
D) İl İdare Şube Başkanları
25. İl İdaresi Kanunu'na göre kaymakam, ilçenin idare şube başkanlarıyla ikinci derecedeki memurlarına, genel ve özel kolluk amir ve memurlarına savunmasını aldıktan sonra disiplin cezası verebilir. Buna göre cezalarla ilgili aşağıdakilerden hangisi yanlıştır?
- A) Aylıktan kesme cezasını verir.
B) Re'sen verdiği cezalar kesindir.
C) Cezalar tebliğ tarihinden itibaren sicile geçer.
D) Uyarma, kınama cezaları verir ve uygular.
26. 3797 sayılı Millî Eğitim Bakanlığının Teşkilât ve Görevleri Hakkında Kanun'a göre aşağıdakilerden hangisi doğrudan Bakana bağlıdır?
- A) Hukuk Müşavirliği
B) Merkez Disiplin Kurulu
C) Teftiş Kurulu Başkanlığı
D) Araştırma, Plânlama ve Koordinasyon Kurulu Başkanlığı
27. 3797 sayılı Millî Eğitim Bakanlığının Teşkilât ve Görevleri Hakkında Kanun'a göre aşağıdakilerden hangisi, ana hizmet birimlerinden değildir?
- A) Eğitim Teknolojileri Genel Müdürlüğü
B) Öğretmen Yetiştirme ve Eğitimi Genel Müdürlüğü
C) Okulî Beden Eğitimi, Spor ve İzcilik Dairesi Başkanlığı
D) Yüksek Öğrenim Kredi ve Yurtlar Kurumu Genel Müdürlüğü
28. 3797 sayılı Millî Eğitim Bakanlığının Teşkilât ve Görevleri Hakkında Kanun'a göre aşağıdakilerden hangisi, Kız Teknik Öğretim Genel Müdürlüğüne bağlıdır?
- A) Olgunlaşma enstitüleri
B) Sekreterlik meslek liseleri
C) Pratik sanat okulları
D) Anadolu açılık meslek liseleri
29. 3797 sayılı Millî Eğitim Bakanlığının Teşkilât ve Görevleri Hakkında Kanun'a göre aşağıdakilerden hangisi, Dış İlişkiler Genel Müdürlüğü'nün görevlerindendir?
- A) İlk ve orta öğrenim çağında olup yurt dışında bulunan çocuk ve gençlerimizin öğrenimlerini sağlamak için gerekli düzenlemeleri yapmak
B) Yurt dışında bulunan vatandaşlarımızın ve ortak dil, kültür birliği olanların Türkçelerinin geliştirilmesi ve Türk kültürü ile bağlarının sürdürülmesi amacıyla gerekli çalışmaları yapmak ve uygulamaya koymak
C) Yurt dışında yetiştirilmiş insangücünün yetiştiriliş amaçlarına uygun olarak istihdamlarını sağlamak için gerekli tedbirleri almak
D) Ülkemizin eğitim ve bilim faaliyetlerini yurt dışında tanıtmak, yabancı ülkelerin, uluslararası kuruluşların eğitim ve bilim alanındaki faaliyetlerini takip etmek, değerlendirmek, ilgili ülke ve kuruluşlarla gereken iş birliğini sağlamak
30. 3797 sayılı Millî Eğitim Bakanlığının Teşkilât ve Görevleri Hakkında Kanun'a göre aşağıdakilerden hangisi sürekli kurullardandır?
- A) Merkez Disiplin Kurulu
B) Yüksek Disiplin Kurulu
C) Müdürler Kurulu
D) Yüksek Öğretim Kurulu
31. 1739 sayılı Millî Eğitim Temel Kanunu'na göre "İlköğretim kurumlarından sonraki eğitim kurumlarından vatandaşlar ilgi, istidat ve kabiliyetleri ölçüsünde yararlanırlar." ifadesi, Türk millî eğitiminin temel ilkelerinden hangisiyle ilgilidir?
- A) Her yerde eğitim
B) Eğitim hakkı
C) Genellik ve eşitlik
D) Demokrasi eğitimi
32. 1739 sayılı Millî Eğitim Temel Kanunu'na göre aşağıdakilerden hangisi, temel ilkelerden "Bilimsellik" ile ilgilidir?
- A) Eğitimde hiçbir kişiye, aileye, zümreye veya sınıfa imtiyaz tanınmaz.
B) Eğitim kurumlarının amaçlarının gerçekleştirilmesine katkıda bulunmak için okul ile aile arasında iş birliği sağlanır.
C) Eğitimin türüne, imkân ve zorluklara göre bazı okullar yalnızca kız veya yalnızca erkek öğrencilere ayrılabilir.
D) Bilgi ve teknoloji üretmek ve kültürümüzü geliştirmekle görevli eğitim kurumları gereğince donatılıp güçlendirilir, bu yöndeki çalışmalar maddî ve manevî bakımda teşvik edilir ve desteklenir.

33. 1739 sayılı Millî Eğitim Temel Kanunu'na göre aşağıdakilerden hangisi Millî Eğitim Bakanlığına bağlı diğer öğretim kurumları bünyesinde açılabilen okul öncesi eğitim kurumudur?
- A) Anaokulları B) Ana sınıfları
C) Uygulama sınıfları D) İş okulları
34. 1739 sayılı Millî Eğitim Temel Kanunu'na göre ilköğretim kurumları ile ilgili aşağıdakilerden hangisi yanlıştır?
- A) Kesintisiz eğitim yapılır.
B) Sekiz yıllık okullardan oluşur.
C) Her Türk çocuğunu ilgi, istidat ve kabiliyetleri yönünden yetiştirerek hayata ve üst öğrenime hazırlar.
D) Nüfusun az ve dağınık olduğu yerlerde, köyler gruplaştırılarak merkezî durumda olan köylerde yatılı ilköğretim bölge okulları kurulur.
35. 1739 sayılı Millî Eğitim Temel Kanunu'na göre aşağıdakilerden hangisi, yüksek öğretimin amaç ve görevlerinden değildir?
- A) Çeşitli kademelerde bilimsel öğretim yapmak
B) Çağımızın bilimsel, teknolojik, iktisadî, sosyal ve kültürel gelişmelerine uymalarını sağlayıcı eğitim imkânları hazırlamak
C) Türk toplumunun genel seviyesini yükseltici ve kamuoyunu aydınlatıcı bilim verilerini sözle, yazı ile halka yaymak ve yaygın eğitim hizmetlerinde bulunmak
D) Yurdumuzu ilgilendirenler başta olmak üzere, bütün bilimsel, teknik ve kültürel sorunları çözmek için bilimleri genişletip derinleştirecek inceleme ve araştırmalarda bulunmak
36. 1739 sayılı Millî Eğitim Temel Kanunu'na göre aşağıdakilerden hangisi yaygın eğitimin amaç ve görevlerinden değildir?
- A) Millî kültür değerlerimizi koruyucu, geliştirici, tanıtıcı, benimsetici nitelikte eğitim yapmak
B) İktisadî gücün artırılması için gerekli beslenme ve sağlıklı yaşama şekil ve usullerini benimsetmek
C) Boş zamanlarını iyi bir şekilde değerlendirme ve kullanma alışkanlıkları kazandırmak
D) Araştırma ve incelemelerinin sonuçlarını gösteren, bilim ve tekniğin ilerlemesini sağlayan her türlü yayınları yapmak
37. 1739 sayılı Millî Eğitim Temel Kanunu'na göre aşağıdakilerden hangisi öğretmenlik mesleği kariyer basamaklarından değildir?
- A) Öğretmen B) Başöğretmen
C) Aday öğretmen D) Uzman öğretmen
38. 1739 sayılı Millî Eğitim Temel Kanunu'na göre uzman ve usta öğreticiler aşağıdakilerin hangisinde geçici veya sürekli olarak görevlendirilemez?
- A) Örgün eğitim kurumlarında
B) Yaygın eğitim kurumlarında
C) Hizmetiçi yetiştirme kurslarında
D) Rehberlik araştırma merkezlerinde
39. 625 sayılı Özel Öğretim Kurumları Kanunu'na göre hangi durumda kurucunun kurum açma izni geri alınır?
- A) İki yıl içinde öğretime başlanılmazsa
B) Öğretime başladıktan sonra ara verilirse
C) Üç yıl içinde öğretime başlama izni alınmazsa
D) İznin alınış amacından başka amaçlarla kullanıldığı teftiş raporuyla anlaşılırsa
40. 625 sayılı Özel Öğretim Kurumları Kanunu'na göre öğretmenlerin, toplam ders saati sayısı haftada kaç saati geçemez?
- A) 8 B) 15 C) 20 D) 30
41. 625 sayılı Özel Öğretim Kurumları Kanunu'na göre bir özel okula alınabilecek yabancı uyruklu öğrenci sayısı, o okulda okuyan Türk vatandaşı öğrencilerin yüzde kaçını aşamaz?
- A) 5 B) 10 C) 15 D) 20
42. 625 sayılı Özel Öğretim Kurumları Kanunu'na göre özel öğretim kurumlarının vereceği reklâm ve ilânlarla ilgili aşağıdakilerden hangisi yanlıştır?
- A) Yalnız tanıtıcı mahiyette reklâm ve ilân verebilirler.
B) Reklâm ve ilânlarında gerçeğe aykırı beyanlarda bulunamazlar.
C) Reklâm ve ilânın tanıtıcı mahiyette olduğuna Bakanlık karar verir.
D) Televizyonda reklâm ve ilân yapamazlar.

43. 625 sayılı Özel Öğretim Kurumları Kanunu'na göre özel öğretim kurumları yönetici ve öğretmenlerine uygulanabilen ödül ve cezalar, hangi kanun ve bu kanuna dayalı yönetmeliklerle yetkili kılınan amir ve mercilerce verilir?
- A) 625 sayılı Kanun B) 1702 sayılı Kanun
C) 4357 sayılı Kanun D) 657 sayılı Kanun
44. 1702 sayılı İlk ve Orta Tedrisat Muallimlerinin Terfi ve Tecziyeleri Hakkında Kanun'a göre "vazifeye geç gelmek veya vazifeden erken çıkmak" fiilinin tekrarında hangi ceza verilir?
- A) İhtar
B) Tevbih
C) Kıdem indirilmesi
D) Ders ücretlerinin kesilmesi
45. 1702 sayılı İlk ve Orta Tedrisat Muallimlerinin Terfi ve Tecziyeleri Hakkında Kanun'a göre aşağıdakilerden hangisi "maaş kesilmesi" cezasını gerektirir?
- A) Sarhoş olarak mektebe gelmek
B) Bir ay zarfında iki defadan ziyade derse geç gelmek
C) Aynı suçtan dolayı iki defa tevbih aldığı hâlde o fiili tekrar etmek
D) Ders senesi başında vazifesine mazeretsiz vaktinde gelmemek
46. 1702 sayılı İlk ve Orta Tedrisat Muallimlerinin Terfi ve Tecziyeleri Hakkında Kanun'a göre "amirine karşı hakarette bulunmak" fiilini işleyene aşağıdaki cezalardan hangisi uygulanır?
- A) Maaş kesilmesi
B) Kıdem indirilmesi
C) Derece indirilmesi
D) Ders ücretlerinin kesilmesi
47. 4357 sayılı Kanun'a göre aşağıdakilerden hangisi "kıdem indirme" cezasını gerektirir?
- A) Talebesine, okul ve meslek mensuplarına iftira etmek veya ettirmek
B) Meslekdaşlarının veya talebenin haklarını kasten zarara uğratmak
C) Başkalarını vazifelerini yapmamağa teşvik ederek okulun çalışmasını aksatmak
D) Bir kıdem müddeti içinde iki defadan fazla on beş günlük maaş kesimi cezası almak
48. 5816 sayılı Atatürk Aleyhine İşlenen Suçlar Hakkında Kanun'a göre Atatürk'ün hatırasına alenen hakaret etmek veya sövmek suçlarına verilecek ceza ile ilgili aşağıdakilerden hangisi doğrudur?
- A) İki veya daha fazla kimseler tarafından toplu olarak işlenirse hükmolunacak ceza bir misli artırılır.
B) İki veya daha fazla kimseler tarafından toplu olarak işlenirse hükmolunacak ceza iki misli artırılır.
C) Bir yıldan üç yıla kadar hapis cezası verilir.
D) Bir yıldan beş yıla kadar ağır hapis cezası verilir.
49. 3628 sayılı Mal Bildiriminde Bulunulması, Rüşvet ve Yolsuzluklarla Mücadele Kanunu'na göre kimler mal bildiriminde bulunmaz?
- A) Noterler
B) Muhtarlar ve ihtiyar heyeti üyeleri
C) Yeminli malî müşavirler
D) Dışardan atanan Bakanlar Kurulu üyeleri
50. 3628 sayılı Mal Bildiriminde Bulunulması, Rüşvet ve Yolsuzluklarla Mücadele Kanunu'na göre İl Genel Meclisi üyeleri bildirimlerini aşağıdaki mercilerden hangisine verirler?
- A) Valilere
B) Adalet Bakanlığına
C) İçişleri Bakanlığına
D) Yargıtay Cumhuriyet Başsavcılığına
51. Liseler Yönetmeliği'ne göre müdürün ödev ve yetkisi ile ilgili olarak aşağıdakilerden hangisi yanlıştır?
- A) Kanun, yönetmelik ve emirlerin sınırı içinde okulun bütün işlerini çevirmeye, düzene koymaya ve denetlemeye yetkilidir.
B) Yönetim ödevlerini okulunda bulunan memurlara dağıtmaya ve ödevlerini değiştirmeye yetkilidir.
C) Harcama kağıtlarını ve bordroları onaylar ve gider gerçekleştirme memurluğunun kanunlarla belirtilen sorumluluğunu taşır.
D) Geçici nedenler ya da özürleri yüzünden ödevlerine gelmeyen öğretmenlerin yerine gerekli nitelikleri taşıyan ücretli öğretmenleri seçerek işe başlatır.

52. Liseler Yönetmeliği'ne göre nöbet görevi ile ilgili olarak aşağıdakilerden hangisi yanlıştır?

- A) Öğretmenler, haftada bir gün nöbet tutarlar. Öğretmen sayısı elverişli olmayan okullarda nöbet işleri okul müdürü tarafından gereğince ayarlanır.
- B) Maaş aldığı okulda hiç dersi olmayan öğretmen, en çok dersinin bulunduğu okulda nöbet tutar.
- C) Birkaç okulda görevli olan öğretmenin nöbet tutacağı okulu millî eğitim müdürleri gerekli görürse değiştirebilir.
- D) Okullarda nöbet, birinci dersten yarım saat önce başlar, aralıksız devam ederek son dersten 15 dakika sonra biter.

53. I- Yönetimi Öğretmenler Kurulunca ya da okul müdürlüğünce kendilerine verilen öğrenci kurullarını yönetmek

II- Öğretmenler Kurulu toplantısına katılmak

III- Eğitimi üzerlerine aldıkları sınıfın çocuklarının okul içi ve dışındaki durumları, davranışları ve çalışmalarını yakından ilgilenmek

IV- Haftada bir gün nöbet tutmak

Liseler Yönetmeliği'ne göre yukarıda verilenlerden hangisi ya da hangileri öğretmenlerin eğitim işlerindeki ödevlerinden değildir?

- A) Yalnız II
- B) Yalnız IV
- C) I ve IV
- D) II ve III

54. MEB Orta Öğretim Kurumları Sınıf Geçme ve Sınav Yönetmeliği'ne göre dönem notlarının tespiti ile ilgili olarak aşağıdakilerden hangisi yanlıştır?

- A) Ödev ve projelerden alınan puan o dönemin yazılı ve sözlü puanlarıyla birlikte değerlendirilir.
- B) Puanların aritmetik ortalaması alınırken yarım ve yarımdan büyük kesirler tama yükseltilir.
- C) Zorunlu hâllerde bir yazılı sınav eksikliği ile de dönem notu verilebilir.
- D) Öğretmen takdir hakkını kullanıp, aritmetik ortalamanın bir not eksikliği de dönem notu olarak verebilir.

55. MEB Orta Öğretim Kurumları Sınıf Geçme ve Sınav Yönetmeliği'ne göre ortalama yükseltme ve sorumluluk sınavlarının uygulanması ile ilgili olarak aşağıdakilerden hangisi yanlıştır?

- A) Uygulanacak sınavların şekli, esasları, başlama saati ve sınavda kullanılacak araç-gereç, sınav çizelgesi ile birlikte okulda ilân edilir.
- B) Sınav komisyonları, okul müdürünün ya da görevlendireceği müdür yardımcısının başkanlığında öğretmenler kurulunca belirlenen en az üç üyeden oluşturulur.
- C) Okul müdürü, sınavlar için yeterli sayıda öğretmeni sınav sürecince görev yapmak üzere gözcü olarak görevlendirir.
- D) Komisyonca, yazılı sınavlar için sorularla birlikte bir "cevap anahtarı" ve "puanlama çizelgesi" hazırlanır ve komisyon başkanınca onaylanır.

56. MEB Orta Öğretim Kurumları Sınıf Geçme ve Sınav Yönetmeliği'ne göre öğrenim hakkı ile ilgili olarak aşağıdakilerden hangisi yanlıştır?

- A) Özürleri nedeniyle okula devam edemeyen öğrenciler, o yıla ait öğrenim haklarını kullanmamış sayılır.
- B) İkinci dönem okula hiç devam etmeyen öğrenciler, o yıla ait öğrenim hakkını kullanmış sayılır.
- C) Öğrenim süresi içinde ikinci defa sınıf tekrarı durumuna düşen öğrencilerin öğretim yılı sonunda okulla ilişkisi kesilir.
- D) Mezun olamayan son sınıf öğrencilerinden sınıf tekrarı yapmış olanlar, bir öğretim yılı daha başarısız oldukları derslerden sorumluluk sınavına girebilir.

57. MEB İlköğretim ve Orta Öğretim Kurumları Sosyal Etkinlikler Yönetmeliği'ne göre aşağıdakilerden hangisi, öğrenci kulübü ve toplum hizmeti çalışmalarındaki temel ilkelerden değildir?

- A) Proje geliştirme
- B) Üretkenlik
- C) Süreklilik
- D) İş birliği

58. MEB İlköğretim ve Orta Öğretim Kurumları Sosyal Etkinlikler Yönetmeliği'ne göre aşağıdakilerden hangisi danışman öğretmenin görevlerinden değildir?

- A) Kulüpteki öğrenci sayısını liste hâlinde sosyal etkinlikler kuruluna bildirir.
- B) Projenin uygulama aşamasında öğrenci velisi ile işbirliği içinde bulunur.
- C) Çalışmaların genel gözetim ve rehberliğini sağlar.
- D) Çalışmalarda öğrencileri, yaratıcı ve özgün fikirler üretmeye teşvik eder.

59. MEB İlköğretim ve Orta Öğretim Kurumları Sosyal Etkinlikler Yönetmeliği'ne göre Bakanlık dışında kalan kurum ve kuruluşlarca düzenlenecek il düzeyindeki yarışmalara katılım, yurt çapındaki yarışmalar ise izni ile gerçekleştirilir.

Yukarıda boş bırakılan yerlere sırasıyla aşağıdakilerden hangisi gelmelidir?

- A) Bakanlığın - Valiliğin
- B) Valiliğin - Bakanlığın
- C) Millî Eğitim Müdürlüğünün - Bakanlığın
- D) Millî Eğitim Müdürlüğünün - Valiliğin

60. I- Ödevler, ders kesimine en geç bir ay kala öğrencilerden toplanır ve değerlendirilir.
II- Öğrenciler ödev almak için, biri Türkçe veya Edebiyat olmak üzere tercih sırasına göre beş ders adı belirtir.
III- Hazırlık ve alıştırmaya çalışmalarını öğretmen imkân nisbetinde, konunun işlenmesi sırasında sınıfta da yaptırabilir.
IV- Hazırlık ve alıştırmaya çalışmaları notla değerlendirilemez.

İlköğretim ve Orta Öğretim Kurumlarındaki Öğrencilerin Ders Dışı Eğitim ve Öğretim Faaliyetleri Hakkındaki Yönetmelik'e göre yukarıda verilenlerden hangisi ya da hangileri doğrudur?

- A) Yalnız III
- B) I ve II
- C) II ve III
- D) I, II ve IV

61. İlköğretim ve Orta Öğretim Kurumlarındaki Öğrencilerin Ders Dışı Eğitim ve Öğretim Faaliyetleri Hakkındaki Yönetmelik'e göre "her öğrenci bulunduğu sınıfta belirlenecek bir konuda ders yılı boyunca bir ödev hazırlamak zorundadır."

Buna göre öğrencilerin alacağı ödev konularını aşağıdakilerden hangisi belirler?

- A) Zümre Öğretmenler Kurulu
- B) Sınıf Öğretmenler Kurul
- C) Sınıf Öğretmeni
- D) Öğrenci

62. I- Ders Programı
II- Ders Kitabı
III- Öğretmenin dersle ilgili verdiği konular
IV- Öğretmenin dersle ilgili vereceği sorular
İlköğretim ve Orta Öğretim Kurumlarındaki Öğrencilerin Ders Dışı Eğitim ve Öğretim Faaliyetleri Hakkındaki Yönetmelik'e göre hazırlık ve alıştırmaya çalışmaları yukarıdakilerden hangilerine dayalı olarak yapılır?

- A) I ve II
- B) III ve IV
- C) I, III ve IV
- D) I, II, III ve IV

63. - 70. sorular branşınızla ilgili sorulardır. Branşınıza ait soruları cevaplandırdıktan sonra 71. sorudan cevaplamaya devam ediniz.

BEDEN EĞİTİMİ

63. Günümüzde olimpik anlayışının simgesi olan Fair-Play aşağıdakilerden hangisidir?

- A) Bir spor kuralı
- B) Bir takım adı
- C) Sporda bir müsabaka çeşidi
- D) Sporda centilmenlik anlayışı

64. Güreşirken Türk Milletinin sırtımda olduğunu hissediyorum o yüzden sırtımın yere gelmesini asla düşünmüyorum diyen Civan Pehlivanı aşağıdakilerden hangisidir?

- A) Kara Ahmet
- B) Yaşar Doğu
- C) Adalı Halil
- D) Koca Yusuf

65. Sporda en yüksek performansa ulaşmada kişilik yapısı önemlidir. Bu yapıda öncelikle aşağıdakilerden hangisi özellikle yer alır?

- A) Psikodinamik kişilik özellikleri
- B) Saldırganlık özelliği
- C) Rakibi iyi tanıma özelliği
- D) Antrenmandan haz alma duygusu özelliği

66. Aşağıdakilerden hangisi spor psikolojisinin alanı içine girer?

- A) Sporcuları tanıma
- B) Yarışma esnasında olumsuzlukları tespit etme
- C) Sporcuların performansını yükseltme
- D) Yarışma kurallarını düzenleme

67. Maksimal şiddete bir egzersiz başlangıcında ilk olarak devreye giren enerji sistemi aşağıdakilerden hangisidir?

- A) Fosfojen sistemi B) Laktik asit sistemi
C) O₂ sistemi D) Krebs devri

68. Antrenmanlarda uygulanacak temel ilkeler aşağıdakilerden hangileridir?

- I- Çalışmanın şiddeti
II- Çalışmanın sıklığı
III- Çalışmanın süresi

- A) I ve II B) I ve III C) II ve III D) I, II ve III

69. Aşağıdakilerden hangisi yıllık plân yapılırken dikkate alınmamalıdır?

- A) Okulun bulunduğu çevre, iklim şartları, mevsim özellikleri ve doğadan faydalanma durumlarına dikkat edilir.
B) Okulun araç ve gereçleri ve ders malzemeleri belirlenerek konuların seçimi yapılır.
C) Öğrencilere genellikle serbest aktivite yapacakları şekilde imkân sağlanır.
D) Konular Milli Eğitim Bakanlığı amaçlarına uygun olarak müfredat programından seçilir.

70. Düzenli yaşam boyu spor uygulamalarının insan sağlığına etkilerinden hangisi doğrudur?

- A) Kan yağ düzeyinde artış olur.
B) Oksijen taşımada önemli olan alyuvarların sayısı azalır.
C) Vücuttaki toplam kan hacmi azalır.
D) Kroner damarlarda daralma ve tıkanma riski azalır.

BİYOLOJİ

63. Kalp kası ile iskelet kasının kasılma kuvvetleri farklıdır. Bunun sebebi aşağıdakilerden hangisidir?

- A) Kalp kasının kasılma kuvveti önemli derecede hücre dışı Ca²⁺ iyonunun konsantrasyonuna bağlıdır.
B) İskelet kasının kasılma kuvveti hücre içi K⁺/Cl⁻ oranına bağlıdır.
C) Kalp kası hep aynı kuvvette kasılır, otomatiktir ve iskelet kası gibi Cl⁻ çıkışı ile repolarize olmaz.
D) İskelet kasının kasılma kuvveti hücre dışı Na⁺ iyonunun konsantrasyonuna bağlıdır.

64. Yeşil bitkilerin yapraklarından izole edilmiş kloroplastlarda sadece O₂ çıkışını göstermek için;

- I- Işık
II- H₂O
III- NADP⁺
IV- CO₂

faktör veya moleküllerinden hangilerine gerek yoktur?

- A) I - II B) III - IV
C) Yalnız III D) Yalnız IV

65. Humoral bağışıklık aşağıdakilerden hangisi yoluyla meydana gelir?

- A) B lenfositlerin plazma hücrelerine dönüşerek ürettikleri antikorlar vasıtasıyla
B) Antijenlerin antikorları nötralize etmesi yoluyla
C) T lenfositlerin antijen üretmeleri yoluyla
D) Antikorların, kendisine özgü B lenfositin zarına bağlı bulunan immünoglobulin ile etkileşmesi sonucunda

66. I- Diyafram kasının bulunması
II- İdrar kesesinin bulunması
III- Kalbin 4 odacıklı olması
IV- Akciğerle solunum yapma

Yukarıdakilerden hangileri, memelileri diğer omurgalı sınıflarından kesinlikle ayıran özelliklerdir?

- A) I - III B) I - II
C) II - III - IV D) I - III - IV

67. Aşağıdakilerden hangisi ekotonun tanımıdır?

- A) Belirli bir alan ya da habitatta yaşayan popülasyonlar topluluğudur.
B) Farklı iki komünite arasındaki geçiş bölgesidir.
C) Komünite ve cansız çevre birlikteliğidir.
D) Ekosistemin işlerlik gösterdiği alandır.

68. Ökaryotik hücre organellerinden hangileri, prokaryotik hücre ile bazı benzerliklere sahiptir?

- A) Peroksizom - Lizozom
B) Lizozom - Ribozom
C) Mitokondri - Kloroplast
D) Çekirdek - Golgi

69. Bazı hücrelerin serbest yüzeylerinden mikrovillusların oluşumunun esas sebebi aşağıdakilerden hangisidir?

- A) Hücre yüzeyini genişletmek
- B) Hücre yüzeyinin hareketini sağlamak
- C) Hücre yüzeyini genişleterek besinlerin emilimini artırmak
- D) Hücreyi korumak

70. Bir çocuğun alyuvarlarında A ve B aglütinojeni yok, plazmasında anti - Rh aglütinini vardır. Bu çocukla ilgili olarak;

- I- Annesi heterozigot A olabilir.
- II- Babası O olabilir.
- III- Babasının genotipi AOrr olabilir.
- IV- Babasının genotipi ABrr olabilir.

bilgilerinden hangisi kesinlikle yanlıştır?

- A) I - IV
- B) II - III
- C) Yalnız III
- D) Yalnız IV

COĞRAFYA

63. Aşağıdaki yerlerin aynı boyuttaki kâğıtlara haritaları hazırlanmıştır. Bunlardan ölçeği en küçük olan hangisidir?

- A) Ankara
- B) Asya Kıtası
- C) Türkiye
- D) Akdeniz Bölgesi

64. Güneş ışınlarının yerkürenin tamamına ulaşmasına rağmen kutuplar ve çevresinin daha az ısınmasının temel nedeni aşağıdakilerden hangisidir?

- A) Yer ekseninin eğik olması
- B) Dünya'nın Güneş çevresindeki hareketi
- C) Dünya'nın kendi eksenini etrafında dönmesi
- D) Güneş ışınlarının kutuplara eğik açıyla ulaşması

65. 21 Haziran tarihinde aşağıdakilerden hangisinde gündüz süresi diğerlerinden daha uzundur?

- A) Sinop
- B) Mersin
- C) Gazi Antep
- D) Antalya

66. Aşağıdakilerden hangisi gelişmiş ülkelerin nüfus özelliklerinden birisi değildir?

- A) Ortalama ömür fazladır.
- B) Genç nüfus oranı azdır.
- C) Doğurganlık fazladır.
- D) Eğitim seviyesi yüksektir.

67. Türkiye'nin yerleşme coğrafyası özellikleriyle ilgili olarak aşağıdakilerden hangisi söylenemez?

- A) İç kesimlerdeki köylerde çoğunlukla meskenler toplu haldedir.
- B) İklim ve çevredeki kaynaklar kır yerleşmelerinde mesken özelliklerini belirler.
- C) Genellikle Karadeniz Bölgesi'nde dağınık yerleşme görülür.
- D) Batı kesimlerindeki yerleşmelerde nüfus sadece doğumlarla artmaktadır.

68. Ülkemizin bazı yörelerinde yılın belirli bir bölümünde tarımsal faaliyetlerde bulunmak ve turizm işlerinde çalışmak üzere gidenler mevsimlik göçü oluşturur. Aşağıdakilerden hangisinde belirtilen amaçlarla mevsimlik göç yoğun olarak yaşanmaktadır?

- A) Trabzon - Gümüşhane
- B) Adana - Antalya
- C) Yozgat - Bolu
- D) Antalya - Kayseri

69. Aşağıdaki akarsulardan hangisi Ege Denizi'ne dökülmez?

- A) Susurluk
- B) Gediz
- C) Meriç
- D) Büyük Menderes

70. I- Kazakistan
II- Azerbaycan
III- Özbekistan
IV- Tacikistan

Yukarıdaki ülkelerden yüz ölçümü en büyük ve nüfusu en fazla olan iki ülke hangileridir?

- A) I-II
- B) II-III
- C) I-III
- D) III-IV

DİN KÜLTÜRÜ VE AHLÂK BİLGİSİ

63. Yahudiliğin Araplar arasında Hristiyanlıktan daha az ilgi görmesinin başlıca nedeni aşağıdakilerden hangisidir?

- A) Yahudilerin gereğinden az ibadet etmeleri
- B) Yahudilerin ticarete aşırı düşkün olmaları
- C) Yahudilerin Filistin kökenli olmaları
- D) Yahudilerin Allah'ın seçilmiş halkı oldukları iddiası

64. Hz. Peygamber'in geceleyin Mekke'den Mescid-i Aksa'ya götürülmesine ne ad verilir?

- A) İsrâ ve Mi'rac B) Mi'rac
C) İsrâ D) Burak

65. Bir kimsenin karısına öfkelenerek "sen bana anamın sırtı gibisin" diyerek onu kendisine haram etmesine ne ad verilir?

- A) Yemin B) Zihar
C) Keffaret D) Nezir

66. Aşağıdakilerden hangisi Hz. Peygamber'in geçici olarak hadis yazımını yasaklamasının nedenlerinden biri olamaz?

- A) Arap dilinin yazım kurallarının henüz belirlenmemesi
B) Kağıt, kalem vb. yazı malzemesinin olmaması
C) Kur'an'la karışma endişesi
D) Yazı bilenlerin azlığı

67. Kur'an'ın Arapça indirilmesiyle ilgili olarak aşağıdaki ifadelerden hangisi doğrudur?

- A) Medeniyet dili olması nedeniyle Kur'an Arapça indirilmiştir.
B) Ahiret dili olması nedeniyle Kur'an Arapça indirilmiştir.
C) Muhataplarının dili olması nedeniyle Kur'an Arapça indirilmiştir.
D) Zengin bir dil olması nedeniyle Kur'an Arapça indirilmiştir.

68. Kur'an'da aşağıdaki hukuk alanlarından hangisiyle ilgili daha çok ayet bulunmaktadır?

- A) Aile hukuku B) Ceza hukuku
C) Devletler hukuku D) İdare hukuku

69. Keşf, ilham ve sezgi prensibini esas alan felsefi ekol aşağıdakilerden hangisidir?

- A) İsrâkîlik B) Tabiiyyûn
C) Meşşâîlik D) Dehriyyûn

70. Aşağıdaki düşüncelerden hangisi İslam'ın öngördüğü "ahiret hayatı" kavramıyla bağdaşmaz?

- A) Dünyası olmayanın ahireti de olmaz.
B) Ahiret hayatı dünya hayatının devamıdır.
C) Ahiret hayatı dünyada kazanılır.
D) Ahiret hayatı dünya hayatının alternatifidir.

ERKEK TEKNİK (MESLEK DERSLERİ)

63. Ne zaman küçük adımlı testere kullanılır?

- A) Ağaç kesmede
B) Alüminyum kesmede
C) Pirinç kesmede
D) Çelik kesmede

64. Genel ve meslekî eğitim hangi açılardan birbirine yaklaşmaktadır?

- A) Kullanılan araçlar bakımından
B) Öğretim süreci bakımından
C) Ders kitapları yönünden
D) Amaçlar yönünden

65. Aşağıdakilerden hangisi meslek okullarında döner sermaye işletmelerinin sağladığı faydalardan değildir?

- A) Piyasayı kontrol etme
B) Eğitim maliyetini düşürme
C) Gerçek eğitim ortamı yaratma
D) Tesisleri daha iyi değerlendirme

66. Uzaydaki iki düzlemin kesişip kesişmediğini, kesişiyorsa hangi noktada kesiştiğini bulmayı sağlayan disipline ne ad verilir?

- A) Geometri B) Tasarı geometri
C) Teknik resim D) Meslek resim

67. Bir küpün kenarları $10 \pm 0,1$ cm olarak ölçülmüştür. Bu küpün hacmi yaklaşık ne kadardır?

- A) $1000 \pm 2 \text{ cm}^3$ B) $1000 \pm 3 \text{ cm}^3$
C) $1000 \pm 20 \text{ cm}^3$ D) $1000 \pm 30 \text{ cm}^3$

68. Meslekî ve teknik eğitimde aşağıdakilerden hangisi okul – endüstri ilişkisini gerektiren sebepler arasında değildir?

- A) Hizmeti yaygınlaştırma
B) İşe yerleştirme
C) Program geliştirme
D) İlgı ve destek sağlama

69. Endüstriyel sanatlar eğitimi aşağıdakilerden hangisinin bir parçasıdır?

- A) Meslek eğitiminin B) Hizmetiçi eğitimin
C) Genel eğitimin D) Teknik eğitimin

70. Teknik eğitimi aşağıdakilerden hangisi daha iyi tanımlamaktadır?

- A) Bireysel yeteneklerin çeşitli yönleri ile geliştirildiği eğitimidir.
- B) İleri düzeyde fen bilimleri ile uygulamalı teknik yeteneği gerektiren meslek eğitimidir.
- C) İleri düzeyde meslek eğitim veren bir eğitimidir.
- D) Mesleğinde çalışan bireyin etkinliğini arttırmayı amaçlayan bir eğitimidir.

FELSEFE

63. Aşağıdakilerden hangisi, Aristoteles'in madde-form kuramındaki "neden"lerden birisi değildir?

- A) Maddî neden
- B) Formal neden
- C) Ereksel neden
- D) Tözsel neden

64. Aşağıdakilerden hangisi, Descartes'in kuşkucu yönteminin basamakları arasında yoktur?

- A) Açık-seçik belirgin fikirler dışında hiçbir şeyi doğru kabul etmemek
- B) Her sorunu çözümü için gerekli parçalara ayırmak
- C) Deney ile kanıtlanmamış bilgileri kabul etmemek
- D) Düşünceleri basitten karmaşığa doğru sıralamak

65. Sofist Gorgias, varlık problemi hakkında şöyle diyor. "Hiçbir şey yoktur, olsa bile anlaşılamaz." Buna göre, Gorgias aşağıdaki felsefi görüşlerden hangisini savunmaktadır?

- A) Varlık hiçliğin ta kendisidir.
- B) Varlık bir oluş ve işleyiş sürecidir.
- C) Varlığın kaynağı atomlardır.
- D) Varlık ideadır.

66. Bir filozofa göre ahlakî değerler doğru ya da yanlış, bireylerin düşüncelerinden bağımsız olarak belirler. Örneğin "Hırsızlık kötüdür." yargısı, tıpkı "Isınan gazlar genleşir." yargısı gibi, doğruluğu insanların duygu ve eğilimlerine göre değişmeyen bir yargıdır. Bu düşünür, ahlak değerlerinde hangi özelliğin bulunduğunu öne sürmektedir?

- A) Erdemli yaşamının biri aracı olma
- B) Rölatif (görelî) olma
- C) Zamanla değişme
- D) Objektif olma

67. Aşağıdakilerden hangisi, siyaset felsefesinde gerçekleşmesi istenmeyen ütopyalar arasındadır?

- A) Huxley'in "Yeni Dünya"sı
- B) Farabi'nin "Erdemli Şehir"i
- C) Thomas Moore'un "Ütopya"sı
- D) Platon'un "İdeal Devlet"i

68. Platon ve Aristo'dan etkilenmiş olan Farabi, İbn-i Sina ve El-Kindi gibi akılcı filozoflardan oluşan İslam Felsefesi akımı aşağıdakilerden hangisidir?

- A) Mu'tezile
- B) Meşşailer
- C) Maddiyun
- D) İshakiyun

69. İnsan doğa hakkında elde edilen verilerden yararlanarak ileride olabilecek olayları önceden kestirebilir.

Bu açıklama bilimsel yöntemin hangi özelliğini vurgulamaktadır?

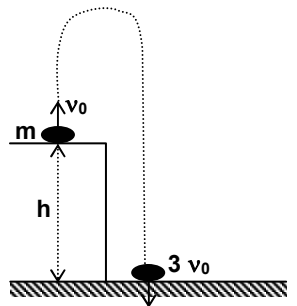
- A) Açıklama
- B) Betimleme
- C) Öndeyi oluşturma
- D) Varsayım kurma

70. T.Kuhn'a göre yeni bir paradigma ortaya çıktığında eski paradigma çöker. Bilim bu yeni paradigma çevresinde yeniden kurulur. Paradigmaların bu yer değiştirmesi işlemi Kuhn'a göre nasıl adlandırılmalıdır?

- A) Bilimsel değişme
- B) Bilimsel devrim
- C) Tümdengelim
- D) Tümevarım

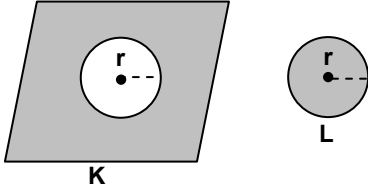
FİZİK

63. v_0 hızı ile atılan m kütleli cisim yere $3v_0$ hızı ile çarptığına göre h yüksekliğini veren bağıntı aşağıdakilerden hangisidir?



- A) $1/3 v_0^2$
- B) $2/5 v_0^2$
- C) v_0^2
- D) $1/2 v_0^2$

64. Homojen bir levhanın ortasından L dairesel levhası kesilerek şekildeki levhalar oluşturulmuştur. Levhalar bir süre ısıtıldıktan sonra L levhasının K levhasındaki oyuktan geçemediği gözlenmiştir.

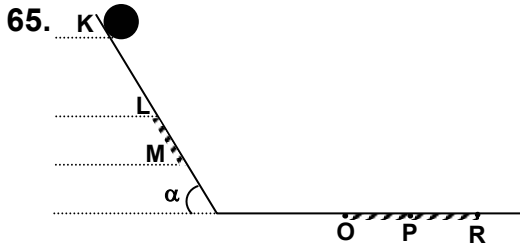


Buna göre;

- I- K levhası üzerine bırakılan L levhası bir süre sonra oyuktan geçer.
- II- L levhasına verilen ısı, K levhasına verilen ısıdan daha fazladır.
- III- L levhasının sıcaklığı, K levhasının sıcaklığından daha fazla artmıştır.

yargılarından hangileri kesinlikle doğrudur?

- A) Yalnız I B) Yalnız II
C) Yalnız III D) I ve III



Şekildeki yolun yalnız LM ve OR kesimleri sürtünmelidir. K noktasından bırakılan m kütleli cisim LM aralığını sabit hızla katetmekte ve R noktasında durmaktadır. OR aralığında, cisim ile yüzey arasındaki sürtünme katsayısı k'dır.

Buna göre;

- I- LM aralığında cisme etki eden net kuvvet $mgsin\alpha - kmgcos\alpha = 0$ 'dır.
- II- Cismin LM aralığında kaybettiği potansiyel enerjinin tümü ısıya dönüşmüştür.
- III- K noktasından bırakılan cismin 2m kütleli olması halinde cisim P'de durur.

ifadelerinden hangileri doğrudur?

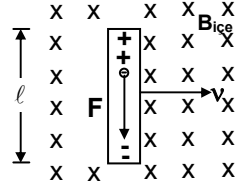
- A) Yalnız I B) I ve II C) I ve III D) I, II ve III

66. Aşağıdaki hareketlerden hangisi ya da hangilerinde, cismin kinetik enerjisi zamanla değişmez?

- I- Düzgün dairesel hareket
- II- Düzgün doğrusal hareket
- III- Basit harmonik hareket

- A) Yalnız I B) Yalnız II
C) Yalnız III D) I ve II

67. Yandaki şekilde, v 'ye dik düzgün bir B manyetik alan içinde v hızıyla hareket eden ℓ uzunluğunda doğrusal bir iletken çubuk bulunmaktadır. Buna göre, çubuğun uçları arasında oluşacak emk değeri nedir?

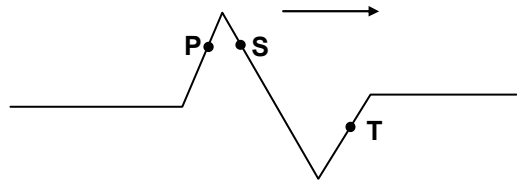


- A) $Bv\ell$ B) $Bi\ell$ C) qvB D) vB

68. Seri RLC devresinde, rezonans durumu için aşağıdakilerden hangisi yanlıştır?

- A) Akım maksimum değerini alır.
- B) Rezonans frekansı LC'nin doğal titreşim frekansına karşılık gelir.
- C) Akım ve voltaj arasında 90 derecelik faz farkı vardır.
- D) Rezonans frekansı sadece L ve C'ye bağlıdır.

- 69.



Düzgün türdeş yayda oluşturulan dalga ok yönünde hareket etmektedir. Dalga üzerinde gösterilen P, S, T noktalarının titreşim yönü aşağıdakilerden hangisi gibidir?

- | | P | S | T |
|----|---|---|---|
| A) | ↓ | ↑ | ↓ |
| B) | ↓ | ↓ | ↓ |
| C) | ↑ | ↑ | ↓ |
| D) | ↑ | ↑ | ↑ |

70. Bir yarı iletken de iletim boşluklar ve elektronlarla sağlanır. Bir elektrik alan etkisinde boşluk ve elektronların hareket yönü aşağıdakilerden hangisidir?

- A) Elektron ve boşluk, elektrik alan yönünde hareket eder.
 B) Elektron ve boşluk, elektrik alana zıt yönde hareket eder.
 C) Elektron elektrik alana zıt yönde, boşluk elektrik alan yönünde hareket eder.
 D) Elektron ve boşluk, elektrik alandan etkilenmezler.

KİMYA

63. Su ortamında X bazı Y bazından, Z asidi de T asidinden daha kuvvetlidir. Buna göre, bu maddelerin eşit derişimli çözeltilerinin pH değerlerinin büyükten küçüğe doğru sıralanışı aşağıdakilerin hangisindeki gibi olur?

- A) X, Y, Z, T
 C) Z, T, Y, X
 B) T, Z, Y, X
 D) X, Y, T, Z

64. $2\text{HgO (katı)} \rightleftharpoons 2\text{Hg(sıvı)} + \text{O}_2\text{(gaz)}$ denge tepkimesi için K_p ve K_c arasındaki bağıntı aşağıdakilerin hangisinde verilmiştir?

- A) $K_p = RTK_c$
 C) $K_p = K_c$
 B) $K_c = RTK_p$
 D) $K_p = (RT)^2 K_c$

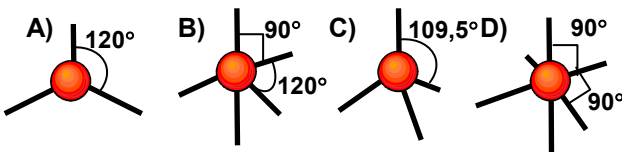
65. Aşağıda verilen tuzlardan hangisinin sudaki çözeltisi asidiktir?

- A) KClO_4
 C) $\text{Ni(ClO}_4)_2$
 B) $\text{Sr(ClO}_4)_2$
 D) $\text{Mg(ClO}_4)_2$

66. X ve Y iyonlarından oluşan iyonik bir bileşik kübik sistemde kristallenmektedir. X atomları birim hücrenin köşelerinde ve Y atomları ise yüzeylerin merkezlerinde yer almaktadır. Bu bileşiğin ampirik formülü nedir?

- A) XY
 B) XY_3
 C) X_2Y
 D) X_3Y

67. Aşağıda gösterilen yapılardan hangisi tetrahedraldir?



68. Amino asitler yüksek pH'larda hangi hâlde bulunurlar?

- A) Anyonik
 C) Moleküler
 B) Katyonik
 D) İçtuz

69. α ışıması yapan bir atomun kütle numarasındaki değişme hangisindeki gibi olur?

- A) 2 artar
 C) 4 artar
 B) 2 azalır
 D) 4 azalır

70. Bir analiz işlemi neticesinde elde edilen verilerin kesinliği için aşağıdaki ifadelerden hangisi doğrudur?

- A) Sistemik hatanın olmaması, kesinliğin yüksek olduğunu gösterir.
 B) Deney sonuçlarının birbirine yakınlığı, kesinliğin yüksek olduğunu gösterir.
 C) Bağıl hatanın küçük olması, kesinliğin yüksek olduğunu gösterir.
 D) Sonuçların ortalamasının doğru değere yakın olması, kesinliğin yüksek olduğunu gösterir.

MATEMATİK

63. $x \in \mathbb{R}$ olmak üzere aşağıdaki eşitliklerden hangisi bir özdeşliktir?

- A) $\frac{1-x^4}{1+x^2} = 1-x^2$
 B) $1+x = \frac{1-x^2}{1-x}$
 C) $\sin x^2 = \frac{1+\cos 2x}{2}$
 D) $x^2 + y^2 = (x+y)^2 - 4xy$

64. $y = a(1 - \cos x)$ eğrisinin $[0, 2\pi]$ aralığındaki ortalama değeri aşağıdakilerden hangisidir?

- A) $-\frac{a}{2}$
 B) a
 C) $\frac{a}{2}$
 D) -a

65. Beş kişilik bir aile, yuvarlak bir yemek masası etrafında oturmaktadırlar. Ayşe anne ve babanın arasında oturmak istediğine göre, bu şart altında aile masa etrafında kaç değişik biçimde oturabilir?

- A) 36
 B) 12
 C) 8
 D) 4

66. $\begin{vmatrix} 2 & x & -1 \\ 8 & 2 & 7 \\ 4 & 1 & 0 \end{vmatrix} = 0$ denkleminin çözümü

aşağıdakilerden hangisidir?

- A) 0 B) 2 C) $-\frac{1}{2}$ D) $\frac{1}{2}$

67. R^3 uzayında $u=(2, a, 1)$ ve $v=(4, -2, -2)$ vektörleri arasındaki açının kosinüsü ne olur?

- A) $\frac{4}{7}$ B) $\frac{4}{9}$ C) $\frac{2}{9}$ D) $\frac{3}{7}$

68. Köşeleri $A(1, 1, 1)$, $B(1, 2, 3)$ ve $C(2, 3, 1)$ noktaları olan üçgenin alanı nedir?

- A) $\frac{2}{\sqrt{21}}$ B) $\sqrt{21}$ C) $\frac{\sqrt{21}}{2}$ D) $\frac{1}{\sqrt{21}}$

69. Bir $p(x)$ polinomu $(x-1)$ 'e bölündüğünde kalan ve 3 ve $(x-2)$ 'ye bölündüğünde kalan 5 ise, bu polinom $(x-1)(x-2)$ 'ye bölündüğünde kalan ne olur?

- A) $2x-1$ B) $x - \frac{1}{2}$ C) $2x+1$ D) $2x - \frac{1}{2}$

70. 4^{15} sayısının 5 ile bölümünden elde edilen kalan ne olur?

- A) 4 B) 6 C) 8 D) 9

MÜZİK

63. Halk müziğinde "sipsi" olarak adlandırılan çalgı aşağıdaki bölgelerden hangisinde daha çok yaygın olarak görülmektedir?

- A) İç Anadolu B) Marmara
C) Ege D) Karadeniz

64. Aşağıdakilerden hangisi Cumhuriyetin ilk yıllarında halk müziğine büyük katkı sağlayan müzisyenlerdendir?

- A) Hikmet Şimşek B) Muzaffer Sarısözen
C) Nevit Kodallı D) C.Reşit Rey

65. Halk Müziğinde aşağıda gösterilen dizinin karşılığı nedir?



- A) Müstezat B) Garip
C) Yahyalı Kerem D) Tatyân Kerem

66. Aşağıdaki dizelerden hangisi fa diyez majör dizisidir?



67. Aşağıda gösterilen Türk Müziği usulünün adı nedir?



- A) Müsemmen B) Devri turan
C) Düyek D) Aksak

68. Geleneksel Türk Sanat Müziğinde aşağıda perde adları verilen dörtlülerden hangisi rasttır?

- A) Rast, Dügah, Kürdi, Çargah
B) Dügah, Buselik, Çargah, Neva
C) Çargah, Neva, Hüseyini, Acem
D) Rast, Dügah, Segah, Çargah

69. 1778-1846 yılları arasında yaşamış Mevlî âyinlerinden köçekçelere kadar geniş bir yelpazede çok sayıda eser vermiş ve Dellâlzâde İsmail Efendi ve Mutfazâde Ahmet Efendi gibi öğrenciler yetiştirmiş ünlü besteci kimdir?

- A) Hacı Arif Bey B) İsmail Dede Efendi
C) Şevki Bey D) Hafız Post

70. 18. yüzyıldan sonra unutulmuş eski çalgılarımızdan çeng aşağıdaki Batı müziği çalgılarından daha çok hangisine benzer?

- A) Obua B) Akordiyon
C) Gitar D) Harp

TARİH

63. Türklerdeki ikili teşkilât anlayışının,
I- Devlet geleneğinin sürdürülememesi
II- Kut anlayışının sona ermesi
III- Devlet yapısını daha baştan parçalaması
durumlarından hangilerine zemin hazırladığı
söylenbilir?
- A) Yalnız I B) Yalnız III
C) I ve III D) I – II ve III
64. I- Kan davalarının yaygınlığı
II- Göçebe hayat tarzı
III- Güçlü bir devletin bulunmaması
Yukarıda verilenlerden hangileri İslâmiyet
öncesi Arap Yarımadasında sosyal durumu
ortaya koymaktadır?
- A) Yalnız I B) Yalnız II
C) I ve II D) II ve III
65. Aşağıdakilerden hangisi 1071 Malazgirt Savaşı
sonucunda Anadolu’da kurulan ilk Türk
beylikleri arasında yer almaz?
- A) Menteşeliler B) Mengücekler
C) Saltuklar D) Danişmendliler
66. Anadolu Selçuklu Devletinin Anadolu Türk
Beylikleri ile mücadele etmesi,
I- Sınırlarını genişletmek istemesi
II- Anadolu Türk birliğini sağlama arzusu
III- Anadolu’daki otoritesini artırma düşüncesi
durumlarından hangisini hedeflediğinin
kanıtıdır?
- A) Yalnız I B) Yalnız III
C) I ve III D) I, II ve III
67. Osmanlı Devleti, Kuruluş döneminden itibaren
kısa bir süre içerisinde Balkanlar’ın önemli bir
kısımını Türkleştirmeyi başarmıştır.
Osmanlı Devleti’nin bu başarısındaki en önemli
etken aşağıdakilerden hangisidir?
- A) Balkanlarda siyasî birliğin olmaması
B) İzlenilen iskân politikası
C) Önemli merkezlerin Osmanlı Devleti
tarafından ele geçirilmesi
D) Katolik – Ortodoks çatışmasından fayda-
lanılması

68. I. Abdülhamit devrinin en önemli ıslahatçısı
aşağıdakilerden hangisidir?

A) Humbaracı Ahmet Paşa
B) Baron de Tott
C) Halil Hamit Paşa
D) Damat İbrahim Paşa

69. Rusya aşağıdaki antlaşmalardan hangisi ile
boğazlar üzerinde bir takım haklara sahip
olmuştur?

A) 1833 Kütahya Antlaşması
B) 1856 Paris Antlaşması
C) 1840 Londra Antlaşması
D) 1833 Hünkâr İskelesi Antlaşması

70. Kapıkulu Ocakları içerisinde havan topu ve el
bombası yapmakla görevli olan sınıf
aşağıdakilerden hangisidir?

A) Humbaracılar B) Ulufeciler
C) Cebeciler D) Lağımclar

TÜRK DİLİ VE EDEBİYATI

63. Aşağıdaki cümlelerin hangisinde anlatım
bozukluğu vardır?

A) Deney sahibi değilseniz bu işte başarılı
olamazsınız.
B) Bazı işyerlerinde kaç saat çalıştığınız değil,
yaptığınız iş önemlidir.
C) En yeteneklisini buluncaya kadar eleman
aramaya devam edeceğiz.
D) İyi bir yönetici, emrinde çalışan her elemanın
görüşünü dikkate alır.

64. Aşağıdaki cümlelerin hangisinde “soğuk” söz-
cüğü, diğerlerinden farklı bir görevde kullanıl-
mıştır?

A) Güz geldi, soğuklar başlayacak; sobayı
kuralım.
B) Bana kırılmış, son zamanlarda soğuk
davranıyor.
C) Sıcak bölgelerin çocuğu o, soğuğu sevmez.
D) Nisandaki soğuk, portakal bahçelerine zarar
verdi.

65. “Gün batar, sürü yatar ve sararan bir ayla
Çoban hicranlarını bağrına basar yayla
‘Kuru bir yaprak gibi kalbini eline al!’
Diye hıçkırır kaval!”

Bu şiirde, aşağıdaki sözcüklerin hangisi özne görevinde değildir?

- A) Kaval B) Sürü C) Gün D) Çoban

66. “Göz” sözcüğü dilimizdeki deyim kalıpları içinde en çok yer alan bir sözcüktür. Beklenen bir kişinin ya da haberin önemini vurgulamak için dört gözle beklemek, girişken ve her işi başaran bir insanın durumunu anlatmak için gözü kara, öfkeli ve saldırgan birinin durumunu anlatmak için gözü dönmek deyimlerini kullanırız. Bir güzellik karşısında etkilendiğimizi belirtmek için de göz kamaştırıcı deriz.

Parçadaki deyimlerden hangisi yanlış açıklanmıştır?

- A) Dört gözle beklemek
B) Gözü dönmek
C) Gözü kara
D) Göz kamaştırıcı

67. “Batan gün kana benziyor
Yaralı cana benziyor
Ah ediyor bir gül için
Şu bülbül bana benziyor”

Bu dörtlüğün kafiyesi aşağıdakilerden hangisidir?

- A) Yarım kafiye B) Tam kafiye
C) Zengin kafiye D) Cinaslı kafiye

68. Aşağıdakilerden hangisi Realizm akımının özelliklerinden biri değildir?

- A) Romantik akımın aşırı duygusallığına tepki olarak doğmuştur.
B) Yazarlar eserlerine kişisel yorum ve görüşlerini katmamışlardır.
C) İnsan ve çevre betimlemeleri nesnel özellik gösterir.
D) Anlatılan konudan çok anlatım biçimine önem verilir.

69. “Yaşadığını yazan bir yazarımızdır. Türk edebiyatına deniz sevgisini, deniz insanlarını, denizin gizemli dünyasını getiren odur. Onu okurken birlikte kayığa binip Ege adalarını dolaşır gibi olursunuz. Deniz Gurbetçileri, Mavi Sürgün, Gülen Ada, Ege’nin Dibi eserlerinden bazılarıdır.

Bu parçada tanıtılan yazar aşağıdakilerden hangisidir?

- A) Osman Cemal KAYGILI
B) Refik Halit KARAY
C) Cevat Şakir KABAĞAÇLI
D) Halide Edip ADIVAR

70. Aşağıdaki cümlelerin hangisinde bir deyim açıklamasıyla birlikte verilmiştir?

- A) Kimseye muhtaç olmadan geçiniyor, kendi yağımızla kavruluyoruz.
B) Böyle gezmeye devam edersen bir baltaya sap olamazsın.
C) Hiçbir zaman dilini tutmasını beceremedi.
D) Öyle bir düzen kurmuş ki, parmağını oynatsa miyarlar kazanıyor.

TÜRKÇE

63. Her sanat yapıtının bir konusu olduğu, herkesin bildiği bir gerçektir. Bu yapıt ne hakkındadır? Bu yapıtla sanatçının anlatmak istediği nedir?...” gibi sorularla bir sanat yapıtının konusunu anlayabiliriz. Ancak sanat yapıtlarını birbirinden ayıran onlarda anlatılan konu değildir. Aynı konuda yazılmış binlerce yapıtın her biri diğerinden farklıdır. Peki bu fark nereden kaynaklanıyor. Kuşkusuz sanatçıların üslup farklarından. Üslûp, bir sanatçının yapıtına vurduğu kişisel damgadır. Bir sanatçı yapıtına bu damgayı vuramıyorsa, onun sanatsal yetkinliğe ulaştığı nasıl düşünülür?

Yukarıdaki paragraftan, aşağıdaki yargıların hangisi çıkarılamaz?

- A) Sanat yapıtları arasında farklar vardır.
B) Farklı sanat yapıtlarında ortak konular üzerinde durulabilir.
C) Bir sanatçı farklı yapıtlarında farklı üslûplar kullanır.
D) Sanatçı, yapıtının konusu ne olursa olsun onu kendi üslûbuyla oluşturmaktadır.

64. (I) İnsan, yaşlılık çağına yediğine, içtiğine ister istemez daha da dikkat etmek zorunda kalıyor. (II) Doktor, özellikle üç beyazdan kaçınılmasını öneriyor. Tuz, şeker ve hamur işi yiyecekler. (III) Sağlığını, sıhhatini düşünen insanlar bu uyarıyı ciddiye almalı. (IV) Batı ülkelerinde gözlemlediğimiz uzun yaşamının sırrı, beslenme alışkanlıklarıyla açıklanabilir.
- Bu parçanın hangi cümlesinde bir anlatım bozukluğu vardır?

A) IV B) III C) II D) I

65. “Sarmak” sözcüğü aşağıdaki cümlelerden hangisinde mecaz anlamda kullanılmıştır?

A) Elektriğin birden kesilmesiyle, çocuğun içini müthiş bir korku sardı.
 B) Askerler, kaçağın saklandığı evin etrafını sarmıştı.
 C) Çürümüş meyvelerin kötü kokusu evin her tarafını sarmıştı.
 D) Babam, kuvvetli kollarıyla beni sardı.

66. “Üzerinde rahatça kalem oynatabildiğim yazınsal tür denemedir. Denemenin belli bir içeriği yok, her yazınsal türü kucaklayacak kadar geniş, rahat ve değişken. Kalıplaşmamış olduğu için çekici... Diğer yazı türlerinde istediğimi, istediğim gibi söyleyemiyorum.

Parçaya göre, deneme için aşağıdakilerden hangisi söylenemez?

A) Her konuda yazmaya elverişli bir yazı türüdür.
 B) Yazarın özgürlüğünü kısıtlamayan bir türdür.
 C) Belli kurallar çerçevesinde, yazının nemsal yargılar vermesini gerektiren bir türdür.
 D) Yazarın her türlü düşünceyi özgür bir anlatım içinde ortaya koyabileceği bir türdür.

67. Aşağıdaki cümlelerin hangisinde “kendi” sözcüğü kişi adıyla (zamiri) birlikte kullanılarak özneyi pekiştirme görevi üstlenmiştir?

A) Kendi gelememiş, buraya amcasını göndermiş.
 B) Madem öyle, siz kendiniz cevap verin bu soruya.
 C) Bu işin kolay yolunu kendisi buldu.
 D) Yavrum, sana kendinden başka kimse yardım edemez.

68. “Vatan () ne bir filozofun düşüncesidir, ne bir şairin duygusu () Vatan, gerçekten var olan yerdir () Onun her halini sevenler () vatanını sever.”

Yukarıdaki parantezlerin içine sırasıyla hangi noktalama işareti konulmalıdır?

A) (;) (.) (.) (;) B) (,) (;) (...) (,)
 C) (,) (;) (.) (;) D) (,) (...) (.) (,)

69. “(I) Haşim öleli tam 69 yıl oldu ve bu süre içinde birkaç kuşak değişti. (II) Beğeniler başkalaştı; yeni sanat akımları birbirini izledi. (III) Hele dil, köklü değişmelere uğradı. (IV) Haşim’i inceleyecek bir eleştirmen, onu kendi çağı içinde düşünmeli, şiire neler getirdiğini, çağdaşlarından nasıl ayrıldığını göstermelidir.”

Bu parça iki paragrafa bölünmek istense, ikinci paragraf hangi cümleyle başlar?

A) I B) II C) III D) IV

70. Aşağıdaki cümlelerin hangisinde yazım yanlışı yoktur?

A) Elindeki bardağı, birden bana fırlatmasın mı?
 B) Bu konudaki görüşlerimi şimdi arzedeceğim.
 C) Öyle zannediyorumki, bu kez başaracağız.
 D) Uzaktanda olsa seni sevmeye devam edeceğim.

İNGİLİZCE

63. - 70. sorularda, cümlede boş bırakılan yerlere uygun düşen sözcük veya ifadeyi bulunuz.

63. How long is she thinking of in this town?

A) coming B) leaving
 C) staying D) looking

64. He learned to a car when he was twenty years old.

A) ride B) drive C) guide D) conduct

65. The girl me was smiling someone else.

A) for / to B) near / of
 C) next to / at D) with / in

66. The murdered man must have been Bill or Tim.

- A) both B) neither C) not D) either

67. He has already persuaded her to go to the party,?

- A) hasn't he B) isn't he
C) doesn't he D) didn't he

68. When she in 1970 she in the village for 20 years.

- A) had died / lived
B) has died / has lived
C) died / had been living
D) died / was living

69. Susan does not know where her father went,

- A) neither do I B) so do I
C) I do, too D) nor I do

70. I told him if I had known he was your brother.

- A) hadn't B) wouldn't
C) wouldnt have D) don't have

71. "Etkin bir öğretim için öğretmenin sınıf atmosferinde tüm iletişime açık olması gerekir." Buna göre aşağıdaki öğretim yöntemlerinin hangisinde, öğretmen-öğrenci, öğrenci-öğretmen, öğrenci-öğrenci etkileşimlerinin hepsi birlikte görülmez?

- A) Grup Tartışması
B) Soru – Cevap
C) Problem Çözme
D) Örnek Olay İncelemesi

72. I- Öğretmenin yönetime yatkınlığı
II- Zaman ve fiziksel imkânlar
III- Öğrenci grubunun büyüklüğü
IV- Konunun özelliği

Yukarıda verilenlerden hangisi ya da hangileri öğretmenin yöntem seçimini etkileyen faktörlerdendir?

- A) Yalnız I B) I ve III
C) II, III ve IV D) I, II, III ve IV

73. Aşağıdakilerden hangisi Gösteri Yönteminin faydalarından değildir?

- A) İyi bir gösteri işlemin standartlarını ortaya koyar.
B) Hem görerek hem de işiterek öğrenme imkânı sağlar.
C) Bilişsel ya da yüksek seviyeli duygusal öğrenmede kolaylıkla kullanılır.
D) Kelimelerin yetersiz olduğu fikir, prensip ve kavramların açıklanması için kullanılır.

74. "Özel bir tartışma yöntemidir. Bu yöntemde küçük bir grup öğrenci diğer öğrencilere bilgi verirler. Sununun sonunda dinleyiciler, konuşuculara konuya ilişkin sorular yöneltirler. Kendine soru yöneltilen öğrenci o sorunun cevabını verebilecek en yetkili kişi olarak açıklamalarda bulunur."

Yukarıdaki açıklama, aşağıdaki grup tartışması yöntemlerinden hangisine aittir?

- A) Panel B) Forum
C) Seminer D) Münazara

75. Aşağıdakilerden hangisi, yaparak - uygulayarak öğretme tekniklerinden değildir?

- A) Problem çözme B) Takrir
C) Demonstrasyon D) Yansıtma

76. - 100. sorular yabancı dil sorularıdır. Kendi yabancı dilinizle ilgili soruları cevaplayınız.

ALMANCA

76. - 92. sorularda, cümlede boş bırakılan yerlere uygun düşen sözcük veya ifadeyi bulunuz.

76. Wir wohnen in der Stadt, die ich kenne.

- A) häßliche B) häßlichere
C) häßlichsten D) am häßlichsten

77. Wir brauchen eine Schlüssel.

- A) seichte B) flache C) ebene D) schräge

78. Seine Mittel sind leider

- A) klein B) eng C) wild D) knapp

79. Wer hat die Farbe auf die Tür?

- A) beschmiert B) geschmiert
C) beklebt D) bestrichen

80. Es wird alles gut gehen, wenn du dich verhältst.

- A) weise B) geistvoll
C) vernünftig D) nachlässig

81. Am Tage steigt das Thermometer, in der Nacht es.

- A) klettert B) läuft
C) fällt D) flieht

82. Er mußte dem Unglück, ohne helfen zu können.

- A) betrachten B) zusehen
C) anschauen D) sehen

83. Gleich anfangs die Gegner hart aufeinander.

- A) prallen B) schleudern
C) beben D) schwindeln

84. die alte Regelung noch gelten, so alles viel leichter.

- A) Hätte / wäre B) Wäre / hätte
C) Würde / hätte D) Würde / wäre

85. Er zum katholischen Glauben

- A) tritt / ein B) stellt / um
C) führt / über D) tritt / über

86. Sie trinken keinen Alkohol mehr, Sie werden nie gesund.

- A) entweder / oder
B) einerseits / andererseits
C) nicht nur / sondern
D) weder / noch

87. Es tut mir leid, aber auch im Krankenhaus können wir ihn nicht heilen. Er..... an einer unheilbaren Krankheit,

- A) fürchtet B) leidet
C) leuchtet D) leistet

88. Die Soldaten dem wütenden Angriff des Feindes.

- A) warteten B) wunderten
C) widerstanden D) verurteilten

89. Ich habe ihm das Buch nur , nicht geschenkt.

- A) gekauft B) entzogen
C) erlaubt D) geborgt

90. Seine ständige Müdigkeit mit seiner Krankheit

- A) denkt / nach B) passt / auf
C) stellt / vor D) hängt / zusammen

91. Ich mache mir nichts daraus, denn

- A) es ist zu wenig.
B) es ist mir egal.
C) der Stoff reicht nicht.
D) es ist wichtig für mich.

92. Sie hat eine Schwäche für Mozarts Musik, denn

- A) sie versteht nichts davon.
B) sie ist zu schwach dafür.
C) sie hört sie nicht gern.
D) sie hat sie besonders gern.

93.- 95. sorularda, verilen karşılıklı konuşmalarda boş bırakılan yerlere gelecek uygun ifadeleri bulunuz.

93. P: Hallo Monika! Ich möchte heute abend ins Theater gehen. Willst du nicht mitkommen?

M: Was wird denn gespielt?

P: Die Physiker, von Dürrenmatt, ein interessantes Stück.

M: Wie ist denn die Aufführung?

P:

- A) Die Aufführung soll ausgezeichnet sein.
B) Ich habe noch eine Karte.
C) Ein guter Platz, erster Rang, zweite Reihe.
D) Leicht gewellt und nach innen gerollt.

94. Dieter : Tag, Gerd, Na, wie geht's?
Gerd : Prima. Ich war in den Ferien in Italien.
Dieter :?
Gerd : Ja, es hat mir gut gefallen dort.

A) Wie geht es dir?
B) War es schön da?
C) Geht es dir gut?
D) Warst du schon einmal in Italien

95. Metin :?

Der Beamte : Der nächste fährt in zwei Minuten ab.

Metin : Ach, ich glaube, das schaffe ich nicht mehr. Wann geht dann der nächste?

Der Beamte : Um 16 Uhr 20.

A) Sagen Sie bitte, wann geht ein Zug nach Hamburg?
B) Entschuldigung, wie kann ich nach Berlin fahren?
C) Verzeihung, können Sie mir sagen, ob hier ein Bahnhof ist?
D) Verzeihen Sie, wie komme ich von hier zum Bahnhof?

96. soruda, anlam bakımından parçaya uygun olmayan cümleyi bulunuz.

96. I- Zuerst fahren wir nach Berlin.
II- Dort gehen wir am Samstag in die Oper.
III- An diesem Tag steht der "Tannhäuser" von Wagner auf dem Programm.
IV- Wir haben lange auf die Gäste gewartet, aber jetzt sind sie endlich eingetroffen.

A) I B) IV C) III D) II

97. - 99. sorularda, verilen Türkçe cümlelerin Almanca karşılığını bulunuz.

97. Bu insanlardan hiçbir zaman hoşlanmadım.

A) Diese Leute freuen mich niemals.
B) Mit diesen Leuten war ich noch zufrieden.
C) Diese Leute mochte ich noch nie.
D) Ich konnte diese Leute nie lieben.

98. Arkadaşı onu terkettiğinden beri çok mutsuz.

A) Seit seine Freundin ihn verlassen hat, ist er sehr unglücklich.
B) Seit seine Freundin ihn betrogen hat, ist er sehr unglücklich.
C) Er hat kein Glück, seit seine Freundin ihn überredet hat.
D) Er ist sehr unglücklich, seit er seine Freundin beschwichtigt hat.

99. Okulda çocuklara okuma kabiliyeti verilmektedir.

A) In der Schule wird den Kindern das Lesen beigebracht.
B) In der Schule lehrt man den Kindern das Lesen.
C) In der Schule haben die Kinder das Lesen gelernt.
D) In der Schule wird den Kindern die Fähigkeit des Lesens vermittelt.

100. soruda, verilen Almanca cümlelerin Türkçe karşılığını bulunuz.

100. Ich habe eigentlich keine Lust, an diesem Projekt zu arbeiten. Dir zuliebe kann ich doch mitmachen.

A) Aslında bu proje üzerinde çalışma isteğim yok, fakat senin hatırın için katılabilirim.
B) Her ne kadar bu proje üzerinde çalışmayı düşünmediysem de yine de sana yardım edebilirim.
C) Bu proje üzerinde çalışma isteğim yok, fakat sen ısrar edersen çalışabilirim.
D) Senin yüzünden bu proje üzerinde çalışmak istemedim.

İNGİLİZCE

76. - 95. sorularda, cümlede boş bırakılan yerlere uygun düşen sözcük veya ifadeyi bulunuz.

76. "May I play here?"

"Yes, as long you are careful."

A) like B) that C) while D) as

77. "I can't work tonight."

"..... can I."

A) Neither B) Either
C) Also D) Too

78. The teacher told us any noise here.

- A) not making B) don't make
C) not to make D) not make

79. We will have another tost tomorrow. I wish
.....

- A) we hadn't had one
B) we wouldn't have one
C) we don't have one
D) we might not have one

80. Ayla is wearing a hat is red.

- A) it B) so C) that D) such

81. She said she you.

- A) know B) knows
C) knew D) have known

82. After her tea she went out.

- A) drink B) drinking
C) drank D) had drunk

83. My sister travelling, but I don't.

- A) likes B) liked C) like D) had liked

84. I can't help about it.

- A) worry B) to worry
C) to have worried D) worrying

85. Your heart is the part of your body her house.

- A) whose B) what
C) which D) of which

86. That's very nice you.

- A) of B) in C) at D) to

87. English almost everywhere in the world.

- A) is speaking B) is spoken
C) has spoken D) have spoken

88. They came here June 1st.

- A) until B) in C) on D) at

89. They have been with us three years.

- A) by B) from
C) since D) for

90. I am interested music.

- A) at B) to C) for D) in

91. My parents and went to the cinema last night.

- A) me B) I C) myself D) mine

92. is shining today.

- A) Some sun B) A sun
C) Sun D) The sun

93. We it yet.

- A) haven't finished B) didn't finish
C) have finished D) don't finish

94. I a letter when she came in.

- A) were writing B) was writing
C) have written D) an writing

95. "Did they have dinner at home?"
"No, they"

- A) didn't B) didn't have
C) have not D) don't

96.-100. sorularda verilen İngilizce cümlelerin
Türkçe dengini bulunuz.

96. The government also tries to reunite families
that have been separated by immigration.

- A) Hükümet aileleri bölünmüş olanları bir araya
getirmeye de gayret ediyor.
B) Hükümet göç ile bölünmüş olan aileleri bir
araya getirmek için de gayret ediyor.
C) Hükümet göç ile bir araya gelen aileleri
yeniden birleştirmeye çalışıyor.
D) Hükümet aileleri göç etmiş olanları da
birleştirmeye çalışıyor.

97. Special efforts have been made to support the students who cannot afford to buy the required books.

- A) Öğrenciler özel çabalar sayesinde gereken kitapları alabildiler.
- B) Öğrenciler gereken kitapları alabilmek için özel çabalar harcadılar.
- C) Gereken kitapları alamayan öğrencileri desteklemek için özel çabalar harcadı.
- D) Özel çabalar, gereken kitapları alamayan öğrencileri desteklemek içindir.

98. This industry helped cotton growers by increasing the market for cotton.

- A) Bu endüstri, pamuk pazarını genişleterek pamuk üreticilerine yardımcı oldu.
- B) Bu endüstri, pamuk pazarını genişleterek pamuk üreticilerini yardıma çağırdı.
- C) Pamuk pazarını genişletmeyi amaçlayan pamuk üreticileri bu endüstriyi yardıma davet etti.
- D) Pamuk üreticileri bu endüstrinin yardımı sayesinde pamuk pazarını genişletmeyi umabilirler.

99. Edison never looked like a man whose inventions had changed the world.

- A) Dünyayı değiştiren buluşlarını Edison hiç bir adamdan etkilenmeden yapmıştı.
- B) Buluşlarının dünyayı değiştirmiş olması Edison'u değişik bir adam yapmamıştı.
- C) Edison hiç bir zaman buluşları dünyayı değiştiren bir adama bakmamıştı,
- D) Edison hiç bir zaman buluşları dünyayı değiştirmiş birine benzememişti.

100. You will certainly feel nervous when asked to make a speech.

- A) Konuşma yapmanız istendiğinde kendinizi mutlaka sinirli hissedeceksiniz.
- B) Siz kesinlikle sinirli birisiniz ama ne zaman konuşacaksınız.
- C) Ne zaman konuşursanız mutlaka sinirleneceksiniz
- D) Ne zaman konuşacağınız sorulduğunda mutlaka sinirleneceksiniz

FRANSIZCA

76. - 89. sorularda boş bırakılan yerlere anlam bakımından uygun düşen seçeneği işaretleyiniz.

76. C'est un ami j'ai rencontré à Newyork, et est informaticien.

- A) qui / que
- B) qui / qui
- C) que / que
- D) que / qui

77. Veuillez lire ce document si vous n'avez aucune addition ou correction à apporter, alors je vous prie de le signer.

- A) attentivement / y
- B) lentement / lui
- C) attentivement / l'
- D) sérieusement / en

78. Il s'approcha de son compagnon de chambre était assis par terre, malgré le froid.

- A) où / avec son ami
- B) qui / avec manteau
- C) qui / sans manteau
- D) pour qu' / sans manteau'

79. Oui monsieur. Nous étions en train de parler de lui.

- A) lentement
- B) justement
- C) doucement
- D) seulement

80. Nous avons besoin de beaucoup d'eau. Vous devez donner souvent.

- A) le / nous
- B) nous / le
- C) nous / en
- D) en / nous

81. Tu sais mon père m'appelait j'étais petit.

- A) pourquoi / puisque
- B) quand / comment
- C) comment / quand
- D) pourquoi / parce que

82. C'est lui qui a insisté on se réunisse ce soir.

- A) en attendant qu'
- B) pour qu'
- C) puisqu'
- D) selon qu'

83. En lisant tous les jours il a fini par trouver un boulot.

- A) les petites annonces
- B) les informations
- C) les publicités
- D) les faits divers

84. Il a parlé et de sorte que tout le monde le comprenne.

- A) furieusement / décidément
- B) conformément / assidûment
- C) confusément / constamment
- D) lentement / clairement

85. Il se mit à vagabonder sur les murs, sur les meubles et le plafond, tout se mit à tourner autour de lui.

- A) de même que
- B) à mesure que
- C) si bien que
- D) jusqu'à ce que

86. Le metteur en scène s'est retiré, le tournage devait commencer.

- A) alors que
- B) du moment que
- C) à moins que
- D) si tant est que

87. Ma femme est la personne la plus extraordinaire

- A) que j'avais rencontrée
- B) que j'aie rencontrée
- C) que je rencontrais
- D) que j'eus rencontrée

88. rêviez-vous pour le futur?

- A) Pour quoi
- B) Sur quoi
- C) A quoi
- D) Avec quoi

89. je veux dire il faut être très vigilant quand on lui parle.

- A) Lorsque / tant qu'
- B) Vous ne comprenez pas ce que / parce qu'
- C) Plus / plus
- D) Ce que / c'est qu'

90. - 91. sorularda altı çizili kelime ya da kelime gruplarının yerine konulduğunda anlamı BOZMAYACAK olan seçeneği işaretleyiniz.

90. Le gouvernement réduit le nombre des officiers, mais améliore leurs soldes.

- A) leurs conditions de vie.
- B) leurs capacités militaires.
- C) leurs statuts.
- D) leurs salaires.

91. Le plan de réforme du système éducatif turc est entré en vigueur.

- A) a été imposé par la force.
- B) a commencé à être appliqué.
- C) a été vivement discuté.
- D) a provoqué de vives réactions.

92. soruda verilen soru cümlesinin cevabı olabilecek seçeneği işaretleyiniz.

92. Quand vous étiez petite, rêviez-vous déjà d'être artiste?

- A) Si l'on a décidé de devenir un mythe, mieux vaut disparaître.
- B) Quand j'étais petite je faisais beaucoup de rêves, surtout des cauchemars. Et je les racontais à ma mère.
- C) Oh, non, Je n'aime pas du tout les filles rêveuses. Ne me faites pas dire ce que je n'ai pas dit.
- D) Je n'ai jamais dit que je serais artiste ou comédienne. Mais inconsciemment, sûrement je ne pensais qu'à ça.

93. - 95. sorularda verilen Fransızca cümlelerin Türkçe karşılıklarını bulunuz.

93. On nous avait dit qu'il fallait y arriver avant que la nuit soit tombée.

- A) Bize, gece olmadan oraya varmamız gerektiği söylenmişti
- B) Acele etmek zorundaydık, çünkü bize gece olmadan oraya varmamız gerektiği söylenmişti.
- C) Bize acele etmemiz ve gece olmadan oraya varmamız gerektiği söylenmişti.
- D) Size, gece olmadan oraya varmanız gerektiğini söylemeliydiler.

94. L'enfant le regarda, puis commença à trembler de la tête aux pieds et après quelques secondes de stupeur, se mit à s'enfuir en de toute ses forces.

- A) Çocuk öylece bakakalmıştı, korkudan zangır zangır titriyordu. Birkaç dakikalık şaşkınlıktan sonra bağıra bağıra koşmaya başladı.
 B) Çocuk ona baktı, sonra korkudan tir tir titremeye başladı. Birkaç saniyelik şaşkınlıktan sonra bütün gücüyle kaçmaya başladı.
 C) Büyük bir şaşkınlıkla korkudan tir tir titreyen çocuğa baktı. Ne yapacağını şaşırmıştı, sonra bütün gücüyle kaçmaya başladı.
 D) Çocuk büyük bir şaşkınlık içinde donakaldı. Korkudan titriyordu, birkaç saniye sonra kendini toparladı ve kaçmaya başladı.

95. Ma mère nous avait déjà dit plusieurs fois qu'un jour elle ferait la grève.

- A) Annem daha önce bize birçok kez bir gün grev yapacağını söylemişti.
 B) Annem daha önce bize birçok kez bir gün çekip gideceğini söylemişti.
 C) Annem daha önce bize grev yapacağını söylemişti ama biz blöf yapıyor sanmıştık.
 D) Annem artık dayanamadığını, bir gün bütün işleri bırakıp grev yapacağını söylüyordu.

96. - 98. sorularda anlam bakımından parçaya uygun OLMAYAN cümleyi bulunuz.

96. I- Un tiers de la population estime qu'un bon mariage ne se fonde pas nécessairement sur l'amour.

II- Et je me demande toujours pourquoi je me suis mariée si jeune.

III- De plus en plus, l'amitié est considérée comme le fondement du mariage.

IV- Ceux qui insistent sur le besoin essentiel d'amitié sont deux fois plus nombreux que ceux qui disent que l'amour est plus important.

- A) I B) II C) III D) IV

97. I- Cet hôtel a été construit récemment.

II- Il veut réserver une chambre double.

III- Il possède 30 chambres qui ont chacune un balcon et le téléphone.

IV- En payant un supplément, on peut avoir l'air conditionné. Il possède aussi un parking privé.

- A) I B) III C) II D) IV

98. I- Au-dessus des toits le ciel est devenu rougeâtre et avec le soir naissant les rues se sont animées. Il y avait des gens qui se croisaient partout.

II. Les lampes de la rue se sont alors allumées brusquement.

III. J'ai senti mes yeux se fatiguer à regarder les trottoirs avec leur chargement d'hommes et de lumière.

IV- Alors je me suis arrangé pour cacher mon bonheur à des regards envieux des gens.

- A) IV B) III C) II D) I

99. - 100. sorularda verilen Türkçe cümlelerin Fransızca karşılıklarını bulunuz.

99. Patlama mağazanın bir kısmını tahrip etti. Bereket versin içeride hiç müşteri yoktu.

A) Une partie du magasin a été détruite par l'explosion, heureusement il n'y personne dedans.

B) Au moment de l'explosion il n'y avait pas de clients à l'intérieur. Pourtant une partie du magasin a été détruite.

C) Malgré l'explosion qui a détruit une partie du magasin il n'y a pas eu de blessés.

D) L'explosion a détruit une partie du magasin, heureusement il n'avait pas de clients à l'intérieur.

100. Anne babalar çocuklarının kendilerini dinlememelerinden yakınıyorlar.

A) Les parents se plaignent de ce que leurs enfants ne les écoutent pas.

B) Les parents se plaignent de leurs enfants qui ne les écoutent pas.

C) Les enfants sont encouragés à ne pas écouter leurs parents.

D) Les parents se plaignent beaucoup de ce que leurs enfants ne soient pas polis.

TEST BİTTİ.

CEVAPLARINIZI KONTROL EDİNİZ.

**29 MAYIS 2005 TARİHİNDE YAPILAN
MİLLÎ EĞİTİM BAKANLIĞI MÜFETTİŞ YARDIMCILIĞI GİRİŞ SINAVI
A KİTAPÇIĞI CEVAP ANAHTARI**

1. A
2. B
3. A
4. D
5. A
6. C
7. C
8. D
9. A
10. A
11. D
12. A
13. A
14. D
15. D
16. A
17. D
18. C
19. A
20. C
21. C
22. A
23. A
24. C
25. A
26. C
27. D
28. A
29. D
30. C
31. B
32. D
33. C
34. D
35. B
36. D
37. C
38. D
39. C
40. D
41. D
42. C
43. D
44. B
45. C
46. B
47. B
48. C
49. B
50. A

51. B
52. C
53. A
54. D
55. B
56. B
57. A
58. B
59. B
60. C
61. A
62. D

BEDEN EĞİTİMİ

63. D
64. C
65. A
66. C
67. A
68. D
69. C
70. D

BİYOLOJİ

63. A
64. D
65. A
66. B
67. B
68. C
69. C
70. D

COĞRAFYA

63. B
64. D
65. A
66. C
67. D
68. B
69. A
70. C

**DİN K. VE AHL.
BİL.**

63. D
64. C
65. B
66. B
67. C
68. A
69. A
70. D

**ERKEK TEKNİK
MES. DERS.**

63. D
64. D
65. A
66. B
67. C
68. A
69. C
70. B

FELSEFE

63. D
64. C
65. A
66. D
67. A
68. B
69. C
70. B

FİZİK

63. B
64. D
65. B
66. D
67. A
68. C
69. A
70. C

KİMYA

63. D
64. A
65. C
66. B
67. C
68. A
69. D
70. B

MATEMATİK

63. A
64. B
65. D
66. D
67. B
68. C
69. C
70. A

MÜZİK

63. C
64. B
65. A
66. A
67. C
68. D
69. B
70. D

TARİH

63. B
64. C
65. A
66. D
67. B
68. C
69. D
70. A

