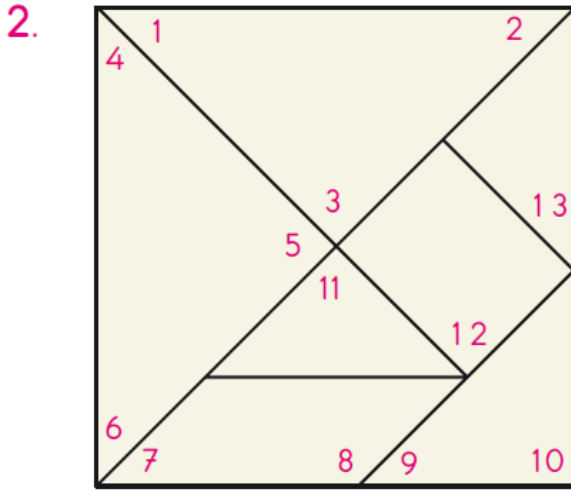


1. N V M S F C Ü L


Yukarıdaki harflerden açısı olanları işaretleyiniz.



Gönyenizi kullanarak tangramda numaralanmış açıları sınıflandırınız. Dik, dar ve geniş açılar tabloda gösteriniz.

Dar açılar	
Dik açılar	
Geniş açılar	

3. Gönyenizi kullanarak aşağıdaki noktalı kâğıda dik, dar ve geniş açılar çizin.



Bütün açıları diktir.

Dört köşesi vardır.

Kenar uzunlukları eşittir.

Özellikleri verilen geometrik şekil aşağıdakilerden hangisidir?

A) kare

B) dikdörtgen


C) üçgen

6. Gönyenizi kullanarak;

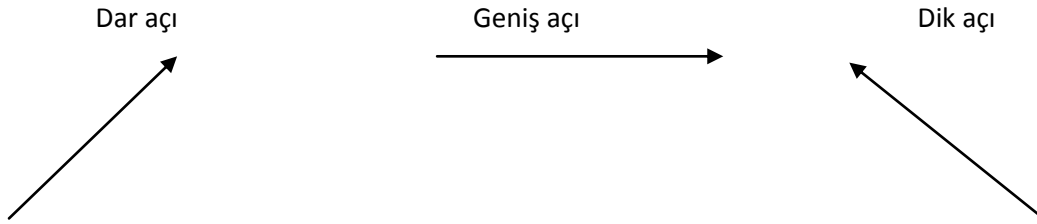
a. Üç açısı da dar açı olan üçgen çizersiniz.

b. Bir kare çizersiniz.







c. Bir dikdörtgen çizersiniz.



7. Gönyenizi kullanarak aşağıdaki açı kollarını dik, dar ve geniş açıya tamamlayınız.



Aşağıdaki tabloyu doldurunuz.

						
Köşe sayısı						
Açı sayısı						
Dik açı sayısı						