

1. Ali boş zamanlarında kitap okumayı, Ayşe ise müzik dinlemeyi sevmektedir. Ali yalnız kalmaktan, Ayşe ise arkadaşlarıyla birlikte olmaktan hoşlanmaktadır.

Ali ile Ayşe hakkında aşağıdakilerden hangisi söylenebilir?

- A) Aynı şeylerden hoşlanmaktadırlar.
B) Farklı özelliklere sahiptirler.
C) Ortak özellikleri fazladır.
2. Aşağıdakilerden hangisi bizi geleceğe hazırlar?
- A) Okul
B) Tatil
C) Komşular

Dişlerini fırçalar-
ken çeşmeyi
açık bırakan bir
kişi yandaki şe-
kilde numara-
landırılanlardan
hangisini boş
harcamış olur?



- A) 1 B) 2 C) 0 D) 3

Seviyorsan canını,
Vücuduna iyi bak,
Kuvvetlendir kanını,
istersen çok yaşamak.

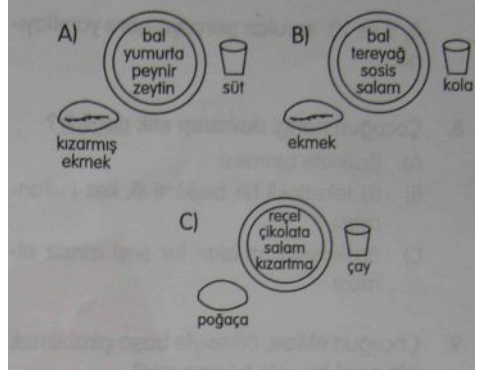
Vehbi Cem AŞKUN

Aşağıdakilerden hangisini yaparsak şairin öğüdünü tutmuş oluruz?

- A) Temiz olmayan yerlerde oynamak
B) Dengeli beslenmek
C) Geç yatmak

5. Her türlü yiyecekten yeterince yiyerek beslenme, dengeli beslenmedir.

Aşağıdaki kahvaltılardan hangisi dengeli beslenen bir kişiye aittir?



6. Aşağıdakilerden hangisi okulda meydana gelebilecek kazalardan biridir?

- A) Bir otobüsün önüne aniden kaçamak yapmak
B) Asansör kapısına parmağını sıkıştırarak kırması
C) Merdivenlerden yuvarlanmak

7. Ayşe'yi öğretmenimiz tahtaya kaldırdı ve bize başından geçen bir olayı anlatmasını istedi. Herkes sessizce Ayşe'yi dinliyordu. Metin ise o sırada resim yapıyordu. Öğretmenimiz Metin'e davranışının etik olmadığını söyledi.

Metinin davranışı niçin etik değildir?

- A) Resim yaptığı için
B) Arkadaşı konuşurken onu dinlemediği için
C) Arkadaşına soru sormadığı için

Ablamdan izin almadan bisikletine bindim. Hayatımda ilk kez iki tekerlekli bisiklet kullanıyordum. Çok geçmeden kendimi yerde buldum. Bana bir şey olmadı ama bisikletin aynası kırıldı. Ablam bisikleti o hâlde görünce çok üzüldü, içinden ona kadar saydı ve bana gülümsedi. Ben bağırıp çağıracağını sanıyordum. O ise bana yaptığının etik olmadığını söyledi.

8, 9 ve 10. sorulan parçaya göre yanıtlayınız.

8. Çocuğun hangi davranışı etik değildir?
 - A) Bisiklete binmesi
 - B) iki tekerlekli bir bisikleti ilk kez kullanması
 - C) Başkasına ait olan bir şeyi izinsiz alması
9. Çocuğun ablası, öfkesiyle başa çıkabilmek için nasıl bir yola başvuruyor?
 - A) içinden bağırıp çağırıyor.
 - B) içinden ona kadar sayıyor.
 - C) Bisikletin aynasını kırıyor.
10. Aşağıdakilerden hangisi etik bir davranıştır?
 - A) Çocuğun bisikleti almak için izin istememesi.
 - B) Çocuğun iki tekerlekli bisiklet kullanmayı bilmediği hâlde ablasından yardım istememesi.
 - C) Ablasının bağırıp çağırmak yerine kardeşinin davranışını eleştirmesi.
11. "Bana arkadaşını söyle, sana kim olduğunu söyleyeyim."

Yukarıdaki atasözümüz neyin önemini vurgulamaktadır?

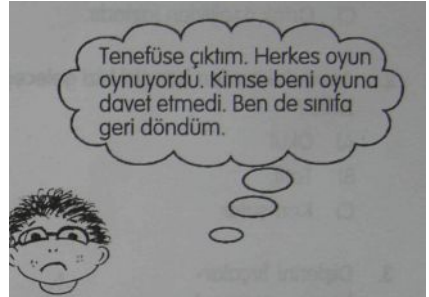
 - A) Doğru arkadaş seçiminin
 - B) Düşünceye değer vermenin
 - C) Dostluğun

12. "Ahmet o gün tahtaya kalkacağına ve hikayesinin özetini anlatacağına emindi. Bir gün öncesinden bütün provalarını yapmış ve hikaye kahramanlarını nasıl canlandıracağını bile plânlamıştı. Fakat sıra bir türlü ona gelmedi. Ahmet öğretmenine çok kırılmıştı."

Hikayeye göre Ahmet in ne yapması gerekir?

- A) Ağlayarak öğretmenine duygu sömürsü yapması
- B) Öğretmeniyle konuşarak kırılganlığını ifade etmesi
- C) Öğretmenine küserek durumu annesine anlatması

13.



Burak oyuna katılabilmek için aşağıdaki-lerden hangisini yapmalıydı?

- A) Kenarda durup oyunu izlemeliydi.
 - B) "Ben de sizinle oynayabilir miyim?" diye sormalıydı.
 - C) Yalnız başına oynamalıydı.
14. Cumhuriyetin ilanıyla aşağıdakilerden hangisi gerçekleşmiştir?
 - A) Devletimizin adı Türkiye Cumhuriyeti Devleti olmuştur.
 - B) Mustafa Kemal meclis başkanı seçilmiştir.
 - C) Yurdumuz düşmanlardan kurtarılmıştır.
 15. Aşağıdakilerden hangisi sınıfta yaptığımız bayram hazırlıklarından biri değildir?
 - A) Sınıfı süslemek
 - B) Okuyacağımız şiirlere hazırlanmak
 - C) Caddeleri bayraklarla donatmak

Sınıfımızın krokisinde aşağıdakilerden hangisi bulunmaz?

- A) Sıralar
- B) Öğretmen masası
- C) Atatürk büstü

Aşağıdakilerden hangisi bir araştırma ödevi olamaz?

- A) Okulumuzun tarihi hakkında bilgi toplayınız.
- B) Okul eşyalarını özenli kullanmadığınızda ortaya çıkabilecek sorunlar hakkındaki düşüncelerinizi yazınız.
- C) Çevrenizdeki insanların mesleklerini öğreniniz.

3. Alışveriş merkezinden aldığınız sütün son kullanma tarihinin geçmiş olduğunu eve gelince fark ediyorsunuz.

Bilinçli bir tüketici olarak aşağıdakilerden hangisini yapmanız gerekir?

- A) Sütü çöpe atmak.
- B) Son kullanma tarihini önemsememek.
- C) Sütü fişile birlikte aldığım yere götürerek iade etmek.

Arkadaşımızla alay ettiğimizde arkadaşımız aşağıdaki duygulardan hangisini hisseder?

- A) Sevinç
- B) Üzüntü
- C) Gurur

5. Aşağıdakilerden hangisinin okul çantamızda bulunmaması gerekir?

- A) Silgi
- B) Defter
- C) Bıçak

6. Aşağıdakilerden hangisi bir trafik levhası değildir?

A)



B)

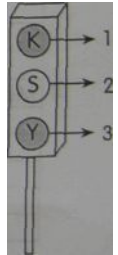


C)



Kaç numaralı trafik ışığı yandığında araçlar geçmelidir?

- A) 1
- B) 2
- C) 3



8. Aşağıdaki alanlardan hangisinde oyun ynamamalıyız?

- A) Okul bahçesinde
- B) Trafiğe açık bir caddede
- C) Oyun parkında

9. Aşağıdakilerden hangisi bilgi edinmemize yarayan bir araç değildir?

A) Telefon
B) Televizyon
C) Otomobil

10. Mektup - Kâğıt - Gazete - Dergi - Kitap
Yukarıdakilerden kaç tanesi bilgi edinme-
mize yarayan bir araçtır?

A) 5 B) 4 C) 3

11.

Nu.	Meslekler	Kullanılan Araç - Gereç
1	Kameraman	Mikrofon
2	Doktor	Tornavida
3	Tamirci	Makas
4	Terzi	Steteskop
5	Sunucu	Kamera

Yukarıdaki tabloda mesleklerle, kullanılan araç ve gereçler yanlış eşleştirilmiştir.
Doğru eşleştirme aşağıdakilerden hangisidir?

A)

Meslek	Araç
1	5
2	4
3	3
4	2
5	1

B)

Meslek	Araç
1	5
2	4
3	2
4	3
5	1

a

Meslek	Araç
1	4
2	5
3	3
4	1
5	2

12. Aşağıdaki meslek sahiplerinden hangisinin çalışma ortamı kapalı bir ortam değildir?

A) Eczacı
B) Fırıncı
C) Balıkçı

13. Aşağıdakilerden hangisi toplumsal sorumluluğa örnektir?

A) Dişlerimizi fırçalamak
B) Ders çalışmak
C) Eğitici kol çalışmalarında görev almak

14. Aşağıdakilerden hangisi okulda başlatılan "çevreyi temiz tutma" kampanyasıyla ilgili geliştirilebilecek fikirlerden olamaz?

A) Çevreyle ilgili bir afiş hazırlamak
B) Okul bahçesine çöp kovaları yerleştirmek
C) Deprem tatbikatı yapmak

15. Deprem anında sınıfta isek aşağıdakilerden hangisini yapmamalıyız?

A) Ellerimizle başımızı kapatmak
B) Sıranın yanına çömelmek
C) Pencereden atlamak

1. Aşağıdakilerden hangisi evdeki canlı varlıklardan değildir?

- A) Akvaryumdaki balık
B) Kafesteki kanarya
C) Raftaki oyuncak ayı

Aile bireyi	Sevdiği spor dalı
Anne	Voleybol
Baba	Futbol
Abla	Tenis
Kardeş	Basketbol

Tabloya bakılarak aşağıdakilerden hangisi söylenemez?

- A) Her aile bireyi sporun farklı bir dalıyla ilgilenmektedir.
B) Aile bireyleri, ilgi alanları açısından birbirlerinden farklıdır.
C) Bütün aile bireyleri aynı zevklere sahiptir.

3. Aşağıdakilerden hangisi geniş ailemizin bir üyesi değildir?

- A) Büyükkannemiz
B) Mahalle komşumuz
C) Amcamız

4. Büyükbabamın oğlu babamın nesi olur?

- A) Amcası
B) Kardeşi
C) Dayısı

5. Annemin kız kardeşinin ağabeyi, benim neyim olur?

- A) Dayım
B) Amcam
C) Eniştem

TUNA AİLESİ

Anne: Sevgi Tuna. Mesleği öğretmenlik. 36 yaşında Araba kullanmayı seviyor. Çocuklarıyla tatile gitmek, değişik ülkeler görmek en büyük zevki.

Baba: Hayri Tuna. Üniversite mezunu. İşadamı. 40 yaşında. İşine çok düşkün. Gazete okumak, tekne gezintilerine katılmak en büyük zevki.

Abla: Damla Tuna. Öğrenci. 22 yaşında. Değişik diller öğrenmeye meraklı. Müzikle uğraşır, şarkı söylüyor.

Kardeş: Erkan Tuna. Öğrenci. 9 yaşında. Futbol oynamayı seviyor. Bilgisayara meraklı.

6, 7 ve 8. sorulan yukarıda verilen parçaya göre yanıtlayınız.

6. Tuna ailesinin ekonomik durumu ile ilgili olarak aşağıdakilerden hangisi söylenebilir?

- A) Fakir bir ailedir.
B) Ekonomik durumları oldukça iyidir.
C) Ekonomik durumları kötüdür.

7. Tuna ailesinin eğitime bakış açılan ile ilgili olarak aşağıdakilerden hangisi söylenebilir?

- A) Eğitime önem vermektedirler.
B) Sadece ilköğretimi tamamlamışlardır,
C) Aile bireyleri eğitimsizdir.

8. Tuna ailesindeki bireysel farklılıkları nasıl karşılamalıyız? Niçin?

A) Olumsuz karşılamalıyız. Çünkü aile bireyleri arasında farklılık olmamalıdır.
 B) Olumlu karşılamalıyız. Çünkü bir gün hepsi aynı özellikleri taşıyacaktır.
 C) Olumlu karşılamalıyız. Çünkü ailede her bireyin kendine özgü yönleri vardır.

9. Almanya'da yaşayan amcama mektup yazdım.

İletişimde hangi türü kullanmış oldum?

A) Yazılı iletişim
 B) Sözlü iletişim
 C) Görüntülü iletişim

10. 1 çocuk——> Köpeğini seviyor.

2. çocuk——> Arkadaşına tatilde yaptıklarını anlatıyor.

3. çocuk——> Babasıyla telefonda konuşuyor.

Çocuklardan hangisi daha fazla iletişim türünü birarada kullanmış olabilir?

A) 1. çocuk
 B) 2. çocuk
 C) 3. çocuk

11.



1. dakika 2. dakika 3. dakika

Yukarıda bir çocuğun arkadaşıyla konuşurken yüzünün aldığı ifadeler resmedilmiştir.

Bu konuşma aşağıdakilerden hangisi olabilir?

A) Sınavı kazanamamışsın. Şaka şaka. 1. olmuşsun.
 B) Sınavı sen kazandın. Ben kazanamadım. Olsun Sen kazandın.
 C) İkimiz de sınavı kazanamadık. Alper kazandı. Başka da kazanan yok

12. İşitme duyusu zayıf olan bir arkadaşımızla konuşurken hangisini yapmamalıyız?

A) El ve kol hareketlerini kullanmak.
 B) Göz teması kurmak
 C) Kısık sesle konuşmak

13. Ailenin tümünü ilgilendiren konularda karar alınırken tüm aile bireylerinin görüşünün alınması aşağıdakilerden hangisinin göstergesidir?

A) Demokrasi
 B) Bireysellik
 C) Bencilik

14.

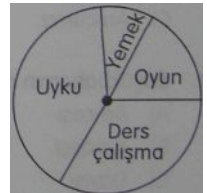
Uyku	Çalışma	Dinlenme
------	---------	----------

Yukarıdaki şekilde bir kişinin bir günde uyku, çalışma ve dinlenmeye ayırdığı zaman dilimlerle gösterilmiştir.

Bu kişi için aşağıdakilerden hangisi söylenebilir?

A) Zamanının büyük bir bölümünü çalışmaya ayırmıştır.
 B) Zamanının büyük bölümünde çalışmamaktadır.
 C) Çok az uyumaktadır.

15. Zamanın yemek, uyku, ders çalışma ve oyun saatlerine göre dilimlendiği zaman pastasına göre hangisi söylenemez?




A) Oyuna ayrılan zaman çok azdır.
 B) Uykuya yeteri kadar zaman ayrılmıştır.
 C) Ders çalışmaya ayrılan zaman oyuna ayrılan zamandan daha azdır.

1. Aşağıdakilerden hangisi tutumlu bir çocuktur?

- A) Musluğu açık bırakan çocuk
- B) Kumbarasına para atan çocuk
- C) Evdeki bütün lambaları yakan çocuk

2.



- 1. kap——> Dişlerimi fırçalarken harcadığım su miktarı
- 2. kap——> Annemin bulaşıkları durularken harcadığı su miktarı

Yukarıda verilenlere bakılarak hangisi söylenebilir?

- A) Anne bulaşıkları durularken çok su harcamaktadır.
- B) Çocuk tutumludur.
- C) Çocuk dişlerini fırçalarken çok su harcamaktadır.

3.

Yatak Odası 1	Salon 2
Çalışma Odası 3	Mutfak 4

Ben tutumlu bir insanım ve aşırı derecede elektrik tüketmem.

Yukarıdaki lambalardan hangisi veya hangilerini akşam yemek yaparken yakmalıyım?

- A) Yalnız 4
- B) 2 ve 3
- C) 1, 2 ve 4

4. Aldığım meyve ve sebzeler sürekli olarak çürüyor ve çöpe gidiyorsa, benimle ilgili olarak hangisi söylenebilir?

- A) Tasarrufa önem verdiğim
- B) Tutumlu bir insan olduğum
- C) Bilinçsiz bir tüketici olduğum

5. Reklamlar bilinçli bir tüketici için nasıl bir etki yapar?

- A) Reklamlarda gördüğü her şeyi almasını sağlar.
- B) Ürünler hakkında fikir verir.
- C) Birikiminin tamamını harcamasına neden olur.

6.



Resimdeki çikolatayla ilgili bir reklam afişi hazırlamalıyım. Afişe aşağıdakilerden hangisini yazarsam olumlu yönde dikkat çekip satışı arttırabilirim?

- A) Fazla yemeyin dişleriniz çürür.
- B) Sıradan bir çikolata
- C) Lezzeti inanılmaz, hemen paketi açın.

7. Aşağıdakilerden hangisi ailemizle hep beraber yapabileceğimiz bir eğlencedir?

- A) Piknik yapmak
- B) Ders çalışmak
- C) Okula gitmek

8. Hangisi görgü kurallarına uygun bir davranış değildir?

- A) Misafirlere "hoşgeldiniz" demek.
- B) Yemek yerken konuşmamak
- C) Yatağı dağınık bırakmak.

9. Aşağıdaki davranışlardan hangisini sergileyen bir insanın hayvan sevgisi yoktur?

- A) Evinde köpek besleyen
- B) Sokak kedilerine yiyecek veren
- C) Çöplere zehirli ekmek atan

10. Ayşe'nin en büyük hedefi pilot olmaktır. Bu hedefi gerçekleştirmek için aşağıdakilerden hangisini mutlaka yapmalıdır?

- A) Yüzme öğrenmek
- B) Uçuş dersleri almak.
- C) Dil öğrenmek.

11. "İnsanlara yardım etmeyi seviyorum. Özellikle de sağlıklarını kaybetmiş insanlarla ilgilenmek, onları sağlıklarına kavuşturmak istiyorum." diyen bir kişi hangi mesleği seçmelidir?

- A) Polislik
- B) İtfaiyecilik
- C) Doktorluk

12.

Alevler korksun benden.
Yangının düşmanıyım.
Korkmadan dalarım dumanın içine
Hayatlar kurtarıyorum.

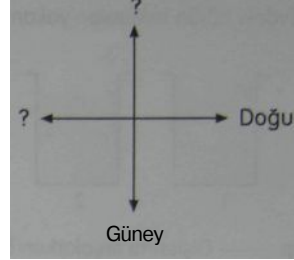
Yukarıdaki şiirde hangi meslek anlatılmıştır?

- A) İtfaiyecilik
- B) Hemşirelik
- C) Polislik

13. Çarşıda kaybolan bir çocuk aşağıdakilerden hangisini biliyorsa evine kolaylıkla ulaşabilir?

- A) Oturduğu ilçenin adı
- B) Ev adresini
- C) Babasının adı

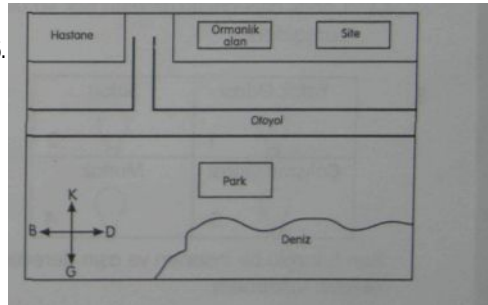
14.



Yukanda soru işareti (?) ile belirtilen yerlere hangileri gelmelidir?

- A) Kuzeybatı - Doğu
- B) Kuzey - Batı
- C) Güneydoğu - Kuzeybatı

15.



Yukarıdaki plâna göre aşağıdakilerden hangisi söylenemez?

- A) Site otoyolun kuzeyindedir.
- B) Ormanlık alan sitenin batısındadır.
- C) Park ve deniz sitenin kuzeyindedir.

1. Aşağıdakilerden hangisi haritada mavi renkte gösterilmez?

A) Akarsu
B) Deniz
C) Ada

5. Aşağıdakilerden hangisi kişisel bir eşyadır?

A) Televizyon
B) Cep telefonu
C) Buzdolabı

6.

Nu.	Alan	Eşya
1	Salon	Koltuk
2	Mutfak	Yatak
3	Banyo	Küvet

Tabloda bir alana ait eşya yanlış verilmiştir. Bu eşya yerine hangisi yazılırsa tablo doğru olur?

A) Buzdolabı
B) Şampuan
C) Yorgan

3. Mutfağımın herkesin mutfağından farklı olmasını istiyorum.

Aşağıdaki eşyalardan hangisini mutfağıma yerleştirirsem yaratıcı bir çalışma yapmış olurum?

A) Fırın
B) Kitaplık
C) Masa ve sandalyeler

4. Aşağıdakilerden hangisi yön bulmamızı sağlayan bir araçtır?

A) Mikroskop
B) Pusula
C) Cep telefonu

Ahmet arkadaşının çantasından kitabını aldı. Arkadaşına söylemeyi unuttu. Arkadaşı eve gidince kitap okumak istedi. Fakat kitabını bir türlü bulamıyordu. Kitabını kaybettiğini düşündü ve çok üzüldü. Ertesi gün Ahmet kitabı arkadaşına geri verdi. Arkadaşı ona yaptığının hiç de etik olmadığını söyledi.

Ahmet'in davranışı niçin etik değildir?

A) Arkadaşından izin almadan bir eşyasını aldığı için.
B) Kitap okumak istediği için.
C) Kitabı ertesi gün verdiği için.

7. Aşağıdakilerden hangisi ailenin ortaklaşa kullandığı bir eşya değildir?

A) Şampuan
B) Diş fırçası
C) Sıvı sabun

8. Küçük kardeşim elindeki çatalı elektrik prizine sokmaya çalışıyordu. Annem çatalı kardeşimin elinden aldı ve ona bunun çok tehlikeli olduğunu söyledi.

Kardeşim çatalı prize soksaydı hangi durum olabilirdi?

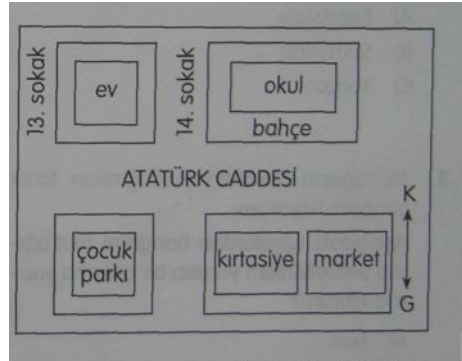
A) Çatal kırılabilirdi.
B) Kardeşimi elektrik çarpabilirdi.
C) Yangın çıkabilirdi.

9. Aşağıdakilerden hangisi evde oluşabilecek kazalardan biri değildir?
- A) Elektrik çarpması
B) Yangın çıkması
C) Yılan sokması
10. Aşağıdakilerden hangisi deprem öncesi yapılması gerekenlerden biridir?
- A) Duvar diplerinden uzaklaşmak
B) Su, doğalgaz ve elektrik vana ve şalterlerini kapatmak.
C) Deprem çantası hazırlamak.
11. Aşağıdakilerden hangisi bir doğal afet değildir?
- A) Depremler
B) Trafik kazaları
C) Sel baskınları
13. Aralarındaki benzerlik ve farklılıklara karşılık bütün insanlar aynı gezegende yaşar. Daha iyi bir dünya yaratmak için aşağıdakilerden hangisinin insanlığın temel hedefi olması gerekir?
- A) Düşmanlık
B) Savaş
C) Barış
14. Türkiye Cumhuriyeti vatandaşı olarak her bireyin yerine getirmesi gereken görev ve sorumlulukları vardır.
- Aşağıdakilerden hangisi bu görev ve sorumluluklarımızdan biridir?
- A) Seyahat etmek
B) Oy kullanmak
C) Yol yapmak

Deniz ve kardeşi oyun oynuyorlardı. Bir ara kardeşi eline geçen çakmakla masanın üzerindeki kağıtları tutuşturdu. Tutsan kağıtlar örtüyü yaktı. Deniz bu küçük yangını söndürmeyi başardı.

Deniz yangını nasıl söndürmüş olabilir?

- A) Ateşe kolonya dökerek
B) Ateşin üzerine battaniye örterek
C) Ateşe daha fazla kağıt atarak



15. 1. Okulumuz Atatürk Caddesi üzerindedir.
2. Okulumuzun doğusunda kalan evimiz 13. Sokağın sağ tarafındadır.
3. Okulumuzun kuzeyinde çocuk parkı, kırtasiye ve bakkal yer alır.

Yukarıdaki krokiye göre verilen bilgilerden kaç tanesi doğrudur?

- A) 1 B) 2 C) 3

1. "1881 yılında Selanik'te dünyaya geldi. Ailesi ona Mustafa adını verdi. Annesi Zübeyde Hanım, babası Ali Rıza Efendi'dir. Yaşamı boyunca Türk milleti için çalıştı. 10 Kasım 1938'de İstanbul'da Dolmabahçe Sarayı'nda öldü."

Yukarıda kısa özgeçmişi verilen lider kimdir?

- A) Atatürk
B) İsmet İnönü
C) Fevzi Çakmak

2. Aşağıdakilerden hangisi Atatürk'ün kendi isteğiyle gittiği bir okuldur?

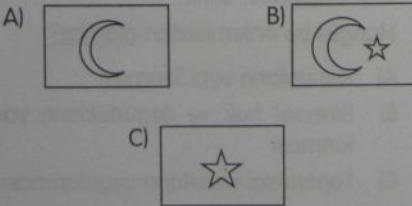
- A) Mahalle Mektebi
B) Şemsi Efendi ilkokulu
C) Selanik Askeri Ortaokulu

3. • Kurtuluş Savaşı'nın kazanılmasını sağladı.
• Yurdumuzun bu günlere gelmesi için yenilikler yaptı.
• Cumhuriyeti ilân etti.

Yukarıda verilenlerden kaç tanesi Atatürk'ün ulusal önderimiz olduğunun göstergesidir?

- A) 1 B) 2 C) 0 D) 3

4. Aşağıdakilerden hangisi ülkemizin bağımsızlık sembolüdür?



5. İstiklâl Marşı'mız söylenirken aşağıdaki davranışların hangisinden kaçınmalıyız?

- A) Ayağa kalkmak
B) Hazır ol durumunda olmak
C) Önümüzdeki arkadaşımızla şakalaşmak

6. Cumhuriyetimizi korumak, güçlendirmek ve geliştirmek için aşağıdakilerden hangisinin yapılması gerekir?

- A) Seçme ve seçilme hakkımızı kullanmamak.
B) Laiklik ilkesine sahip çıkmak.
C) Padişahlık yönetimini desteklemek.

7. Aşağıdakilerden hangisi Atatürk'ün özelliklerinden biri değildir?

- A) Vatanını ve milletini çok sevmesi
B) İyi bir önder olması
C) Yeniliklere karşı olması

- 8.

1. Makbule	a. Atatürk'ün kız kardeşinin adıdır.
2. Laiklik	b. Din ve devlet işlerinin ayrılmasıdır.
3. 10-16 Kasım tarihleri arasındadır.	c. Cumhuriyetin kutlandığı haftadır.

Tablodaki eşleştirmelerden hangisi yanlıştır?

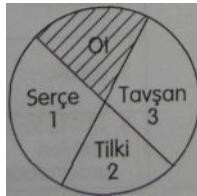
- A) 1 - a
B) 2 - b
C) 3 - c

9. Öğretmenimizle birlikte gezmeye gittik. Gittiğimiz yer kapalı bir mekândı. İçeride çok sayıda tarihi eser vardı. Gittiğimiz yer aşağıdakilerden hangisi olabilir?
- A) Açık hava tiyatrosu
B) Milli Park
C) Müze

10. Aşağıdakilerden hangisi canlı bir varlıktır?
- A) Vücudumuzun dışında yaşayan bir virüs
B) Toprağın 10 cm altında yaşayan bir solucan
C) Akarsuyun taşıdığı bir çakıl taşı

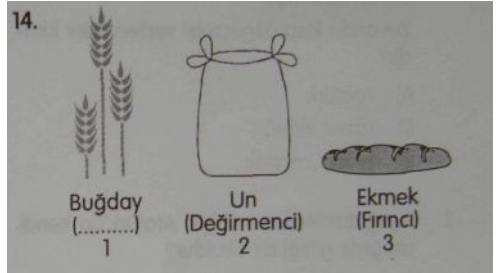
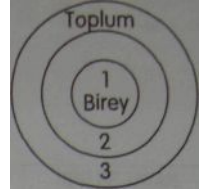
11. Canlıların yaşamak için birbirine gereksinimleri vardır. Aşağıdakilerden hangisi buna bir örnektir?
- A) ineğin otu yemesi
B) Kuşun kaya dibine yuva yapması
C) insanın toprağı kazması.

12. Yandaki şekil aşağıdakilerden hangisini anlatıyor olabilir?



- A) Serçe ot yer, tavşan serçeyi yer, tilki tavşanı yer.
B) Serçe ve tavşan ot yer; tilki serçe ve tavşanı yer.
C) Serçe, tilki ve tavşan ot yer.

13. Yandaki şekilde 2 numaralı halkaya aşağıdakilerden hangisi gelmelidir?
- A) Halk
B) Vatandaş
C) Aile



Yukarıda buğdayın ekmeğe dönüşmesi resmedilmiştir. 1 numaralı meslek hangisi olmalıdır?

- A) Şoför
B) Çiftçi
C) Kasap

15. Toplumda bütün bireyler bir arada yaşar ve karşılıklı olarak etkileşimde bulunurlar. Toplumsal yaşamın kargaşasız olması yani toplumsal düzenin sağlanması için bir takım önlemler alınır.

Hangisi bu önlemlerden olamaz?

- A) Kanunların uygulanması
B) Bireysel hak ve özgürlüklerin yasaklanması
C) Toplumsal kuralların uygulanması



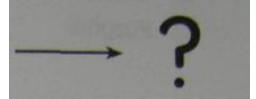
Mumun şekilindeki gibi uğradığı değişimin nedeni aşağıdakilerden hangisidir?

- A) Isı alması
- B) Isı vermesi
- C) Işık vermesi

4.

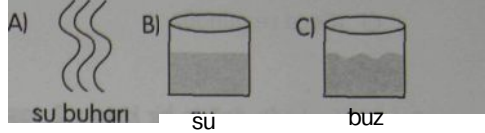


su



sıcaklığı eksi
dereceye düştü

Soru işareti (?) olan yere hangi resim yapılmalıdır?



5.

Pazartesi	Salı	Çarşamba	Perşembe	Cuma	Cumartesi	Pazar

Yukarıdaki hava grafiğine bakılarak hafta ile ilgili aşağıdakilerden hangisi söylenebilir?

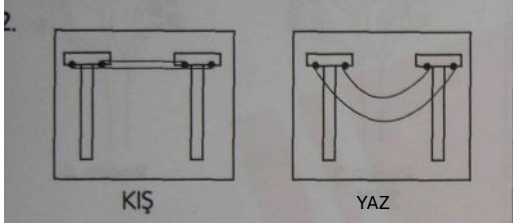
- A) Haftanın beş günü hava güneşlidir.
- B) Hafta sonu hava yağmurludur.
- C) Hafta içi hava parçalı bulutludur.

6.



Hava durumu sunucusu yukarıdaki açıklamayı yaparken hangisini söylemeye çalışıyor olabilir?

- A) Pazartesi günü hava güneşli olacak.
- B) Salı günü hava parçalı bulutlu olacak.
- C) Çarşamba günü hava yağmurlu olacak.



Resimdeki telefon direklerindeki tellerin yazın sarkmasının nedeni hangisi olabilir?

- A) Isınan tellerin genişlemesi
- B) Tellerin ısınıp soğuması
- C) Direklerin birbirine yaklaşması



Şekildeki çaydanlıkta kaynayan suya ne olmuştur?

- A) Yok olmuştur.
- B) Su buharı olmuştur.
- C) Donmuştur.

7. Sabah kalktığımda gökyüzü masmavi ve açıktı. Güneş ışınları pencereden içeri doluyordu

Açıklamaya göre günün hava durumunun nasıl olması beklenir?


- A) Yağışlı
B) Güneşli
C) Rüzgârlı

8. Aşağıdakilerden hangisi Dünya'nın kendi çevresinde dönmesi sonucu oluşur?

- A) Karalar ve denizler
B) Mevsimler
C) Gece ve gündüz

1996 yılında doğan bir kişinin 2 yaşından 2006 yılına kadar geçen sürede Dünya'nın Güneş'in çevresinde kaç defa dönmüştür?

- A) 5 B) 8 C) 11



11. Aşağıdakilerden hangisi sel baskınlarından korunma yollarından biri değildir?

- A) Derelerin üzerine göletlerin yapılması
B) Evlerin dere yataklarına yapılması
C) Çevrenin ağaçlandırılması

12. Deprem anında aşağıdakilerden hangisini yapmamalıyız?

- A) Duvar diplerinden uzaklaşmak
B) Merdivenlerden uzak durmak
C) Asansöre binmek

13. Çevreyi temiz tutmak için hangisi yapılmalıdır?

- A) Ağaçları kesmek
B) Yere çöp atmamak
C) Halkı çevre konusunda bilinçlendirmek

14.



Resim 1



Resim 2



Resim 3



Resim 4

Ağaçların değişim nedeni aşağıdakilerden hangisidir?

- A) Günlük sıcaklık farklılıkları
B) Haftalık hava durumu değişiklikleri
C) Yıllık mevsim değişiklikleri

15. - Yağmur yağınca yollar kayganlaşabilir.
- Karlı havalarda araçlar zincir takmalıdır.

Yukarıdaki olaylar neye örnektir?

- A) Farklı iklim olaylarının trafikteki etkileri
B) Mevsimlerin oluşumuna
C) Yıl içinde canlılardaki değişime

"Elfin karnı çok acıkmıştı. Yanında parası da yoktu. Bir alışveriş merkezine girdi ve raftan bir çikolata aldı. Paketi açıp yemeye başladı. Paketi rafa bırakıp çıkış kapısına yöneldi. Güvenlik görevlisi olayı farketmişti ve ona doğru yürüdü"

ilk üç soruyu yukarıda anlatılan olaya göre yanıtlayınız.

Elfin davranışını etik kuralları çerçevesinde nasıl değerlendirmeliyiz?

- A) Doğru bir davranıştır. Çünkü acıktığı için yapmıştır.
- B) Doğru değildir. Çünkü çikolata yemiştir.
- C) Doğru değildir. Çünkü davranışı hırsızlığa girer.

Elfin yaptığıının etik olması için hangisini yapması gerekirdi?

- A) Çikolatayı, parasını daha sonra ödemek üzere izin alarak yemesi gerekirdi.
- B) Çikolatayı çantasına koyarak evde yemesi gerekirdi.
- C) Çikolata yerine ekmek yemesi gerekirdi.

i. Olay nasıl sonuçlanmış olabilir?

- A) Güvenlik görevlisi Elfin ailesini çağırır.
- B) Güvenlik görevlisi yaptığıının önemsiz olduğunu söyleyerek Elfi affeder
- C) Güvenlik görevlisi ile Elif arkadaş olurlar.

4. Aşağıdakilerden hangisi kuş için en güzel ve en doğal yuvadır?

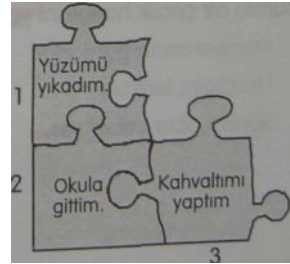
- A) Kafes
- B) Ağaç dalı
- C) Kümes

5. Hangi aile demokratik değildir?

- A) Ece'nin ailesi: Eve hangi televizyonu alacaklarını oturup tartıştılar ve 72 ekran almaya karar verdiler.
- B) Ekin'in ailesi: Tatile nereye gideceklerini konuştular ve Antalya'ya karar verdiler,
- C) Esra'nın ailesi: Babası, Esra ve kardeşi için en uygun okulun kolej olduğuna karar verdi ve çocukları çok istemelerine rağmen mahalledeki okula kaydettirmede.

6. Türkiye Büyük Millet Meclisi (TBMM) hangisini temsil eder?

- A) Milletvekilleri
- B) Milli Egemenliği
- C) Padişahı



Yapboz parçalarına yazılan günlük işlerimizden hangisi diğerlerinden önce gelmelidir?

- A) 1
- B) 2
- C) 3

"Her sabah 7.00'de kalkarım. 8.00'de evden çıkarım. 9.00 da iş yerimde olurum." diyen bir kişi günlük programına nasıl başlar?

- A) 8.00 evden çıkış
- B) 9.00 işe başlama
- C) 7.00 uyanma

9. Hangisi toplumsal bir davranışa örnektir?

- A) Yere çöp atmamak.
- B) Acıkınca yemek yemek
- C) Spor yapmak.

10. Hangisi Atatürk'ün vatan sevgisine örnektir?

- A) Ağaçların kesilmesine izin vermemesi
- B) Çocukları kucağına alıp sevmesi
- C) "Vatan bir bütündür, bölünemez." demesi

11. Tutumlu bir çocuk hangisini yapmaz?


- A) Kumbarasına para atar.
- B) Harçlığını biriktirir.
- C) Sürekli abur cubur yer.

12. "taş - ağaç - toprak"


Yukarıdaki varlıklardan kaç tanesi canlıdır?

- A) 1
- B) 2
- C) 3

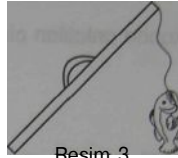
13. Hangi balık en mutludur?



Resim 1



Resim 2



Resim 3

A) Resim 1'deki

B) Resim 2'deki

C) Resim 3'teki

14. Aşağıdakilerden hangisi vazgeçemeyeceğimiz bir haktır?

A) Seyahat hakkı

B) Evlenme hakkı

C) Yaşama hakkı

15. Farklılıklarımıza rağmen birarada yaşayabilmek için birbirimize nasıl davranmalıyız?

A) düşmanca

B) hoşgörülü

C) anlayışsız

"Derya otobüse bindi ve en ön koltuğa oturdu. Birkaç durak sonra otobüs tıklım tıklım oldu. Yaşlı ve hasta bir teyze ayakta bekliyordu. Kimse ona yer vermedi. Derya da yerinden kalkmadı. Teyze biraz sonra sığağa dayanamadı ve bayıldı."

1, 2 ve 3. soruyu yukarıda anlatılan olaya göre yanıtlayınız.

1. Derya'nın davranışı etik midir?

- A) Etik bir davranıştır.
- B) Etik değildir.
- C) Etik, çünkü Derya da çok yorgundur.

Derya'nın yaşlı teyzeye yer vermesi toplumsal açıdan niçin gereklidir?

- A) Gençlerin otobüste oturmaya hakları olmadığı için.
- B) Ön koltuklar gazi, hasta, yaşlı ve hamilelere ait olduğu için.
- C) Başkası yerini vermediği için.

3. Otobüste yaşlılara yer vermek aşağıdakilerden hangisine bir örnektir?

- A) Toplumsal kurallara
- B) Yasalara
- C) Vicdani sorumluluğa

4. Komşumuz çamaşırlarını balkonda kurutmaktadır. Annemse bu görüntünün apartmanımızı çirkinleştirdiğini düşünmektedir. Annemin bu düşüncesi birarada yaşama kuralları çerçevesinde nasıl değerlendirilebilir?

- A) Annem bu düşüncesinde haklıdır ve komşumuzla kavga etmelidir.
- B) Annem komşumuzun evinde yaptığı hiçbir şeye karışamaz.
- C) Annem komşumuzla uygun bir dille konuşmalı, fakat olayı fazla büyütmemelidir.

5. Atatürk'ün "Yurtta barış! Dünya da barış!" sözü O'nun hangi özelliğine bir örnektir?

- A) Barışçılığına
- B) Vatanseverliğine
- C) Devrimciliğine

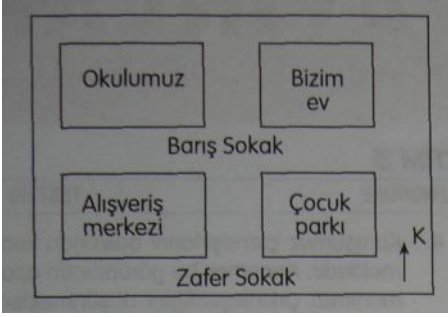
6. Hangisi canlıların ortak özelliği de

- A) Yürümek
- B) Nefes almak
- C) Üremek

7. Aşağıdakilerden hangisi hoşgörüyü bir örnektir?

- A) Çocuğun çiçeği sulaması.
- B) Çocukların bahçede kavga etmeden oynaması.
- C) Çocuğun sokak kedisine yiyecek vermesi.


8.



Yukarıdaki krokiye göre hangisi doğrudur?

- A) Bizim ev ve okulumuz Zafer sokaktadır.
 B) Alışveriş merkezi okulumuzun kuzeyindedir.
 C) Çocuk parkı; okulumuz ve bizim evin güneyindedir.
9. Buğdayıüretir.....buğdayı öğütür, un yapar.....ise undan ekmek yapar.
 Yukarıdaki boşluklara sırasıyla hangisi gelmelidir?
- A) çiftçi - değirmenci - fırıncı
 B) köylü - uncu - bakkal
 C) işçi - terzi - postacı
10. Aşağıdakilerden hangisi deprem öncesinde alınması gereken önlemlerden birisidir?
- A) Binaları sağlam yapmak.
 B) Pencere ve balkonlardan uzak durmak.
 C) Çevreyi ağaçlandırmak.

11. Dünyamızın ısı ve ışık kaynağı aşağıdakilerden hangisidir?




12. Bardağın içine konulan buz parçacıkları bir süre sonra hâl değiştirebilir. Bu hâl değişimi nasıl olur?




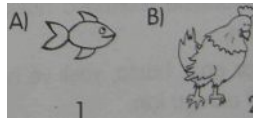
- A) Katı hâlden sıvı hâle
 B) Sıvı hâlden gaz hâle
 C) Sıvı hâlden katı hâle

13.



- A) Karada yaşıyorum.
 B) Doğurarak çoğalıyorum.
 C) Uçarak hareket edebilirim.

14. Aşağıdakilerden hangisi yumurtlayarak çoğalmaz?



15.



Hangisi sağlığımız için zorunlu değildir?

- A) 1 B) 2 C) 3

"Ali televizyonun kumandasını evde kimseye vermek istemiyordu. Yalnızca kendi istediği programın izlenmesini istiyordu. Bu yüzden de sık sık kardeşiyle kavga ediyorlardı"

1, 2 ve 3. soruyu yukarıda anlatılan olaya göre yanıtlayınız.

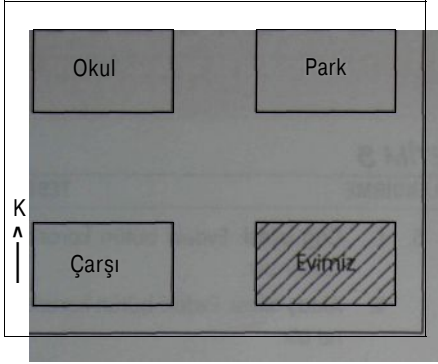
1. Ali'nin bu davranışı etik açıdan nasıl değerlendirilebilir?
 - A) Etik, çünkü istediği programı izlemeye hakkı vardır.
 - B) Etik değildir. Çünkü televizyon evdeki ortak kullanım aracıdır.
 - C) Etik değildir. Çünkü izlemek istediği programın yayın saati çok geçtir.
2. Ali'nin davranışı nasıl etik olurdu?
 - A) Televizyonu yalnız başına izleseydi.
 - B) Kardeşinin düşüncesini alıp, izlenecek kanala beraber karar verselerdi.
 - C) Bu konuda kardeşiyle kavga etmeseydi.
3. Ali'nin davranışı aşağıdakilerden hangisine örnektir?
 - A) Hırsızlık
 - B) Toplumsallık
 - C) Bencillik
4. "Yurtta barış, dünya da barış!" sözü kime aittir?
 - A) ismet İnönü
 - B) Fevzi Çakmak
 - C) Atatürk

5. I. Çağ ailesi: Evdeki bütün kararları çocuklar alır
 II. Aktaş ailesi: Evdeki bütün kararları anne alır.
 III. Güngör ailesi: Evdeki bütün kararları beraber alırlar.
 Hangi aile demokratik bir ailedir?

A) I B) II C) III

6. Ulusal egemenliğimizi aşağıdakilerden hangisi temsil eder?
 - A) Milli Eğitim Bakanlığı (MEB)
 - B) Türkiye Büyük Millet Meclisi (TBMM)
 - C) Türk Hava Yolları (THY)
7. Günde 12 saat uyuyan, 8 saat eğlenen ve dinlenen birisi için aşağıdakilerden hangisi söylenebilir?
 - A) Çok fazla çalışmaktadır.
 - B) Az uyumaktadır.
 - C) Günün büyük kısmını çalışmadan geçirmektedir.
8. Aşağıdakilerden hangisi toplumsal bir davranış değildir?
 - A) Otobüste yaşlılara yer vermek
 - B) Trafikte kırmızı ışıkta beklemek.
 - C) Evde şarkı söylemek.
9. Aşağıdakilerden hangisi tutumluluk örneğidir?
 - A) Harçlığının bir bölümünü biriktirmek.
 - B) Harçlığıyla çikolata almak.
 - C) Harçlığını kaybetmek.

K).




Evimi nasıl tarif edebilirim?

- A) Evim çarşının batısındadır.
- B) Evim parkın kuzeyindedir.
- C) Evim okul ve parkın güneyinde, çarşı-
nın doğusundadır.

11. Aşağıdakilerden hangisi Atatürk'ün kişilik özelliklerinden birisi değildir?

- A) Savurganlık
- B) Barışseverlik
- C) Önderlik

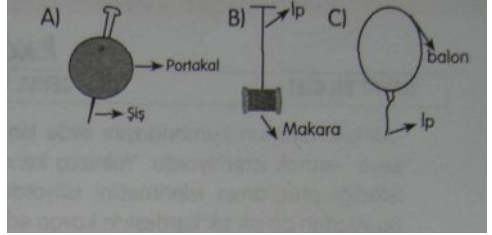
12.



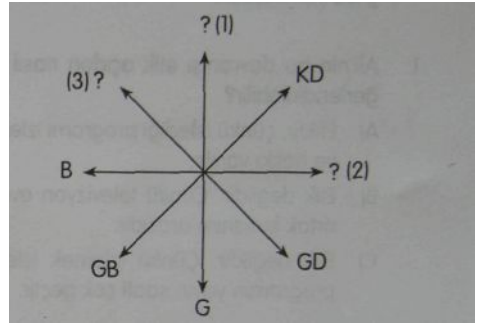
Horoz ve tavuk aynı kümeste yaşamak zorundadır. Mutlu olmaları için birbirlerine karşı nasıl davranılmalı gerekir?

- A) Saygısız
- B) Hoşgörülü
- C) Kavgacı

13. Aşağıdakilerden hangisinde dünyanın kendi eksenini etrafında dönmesi anlatılmak istenmiştir?



14.



Yandaki şekile göre Güneş nereden doğar?

- A) 1
- B) 2
- C) 3

15. Aşağıdakilerden hangisi milli bir bayramdır?

- A) Kurban Bayramı
- B) Ramazan Bayramı
- C) Cumhuriyet Bayramı

OKULUM

Doğru yolu gösterir,
Bilgim, görgüm güçlenir,
Bana bilgiler verir
Bir tanecik okulum

Gülerek "Günaydın!" der,
Sevgili öğretmenim,
Mutluluk duyduğum yer.
Bir tanecik okulum.

Sınıf aydınlık, güneş
Arkadaşlarım Kardeş,
Olduk ayrılmaz bir eş,
Bir tanecik okulum.

Hadi BESLEYİCİ

1, 2, 3 ve 4. soruları şiire göre yanıtlayınız.

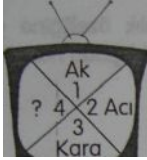
1. Şiirin konusu hangisidir?
A) Kardeşlik duygusu
B) Okul sevgisi
C) Öğretmen sevgisi
2. Hangisi okulun özelliklerinden değildir?
A) Doğru yolu göstermesi
B) Bilgi ve görgü vermesi
C) Gülerek "günaydın!" demesi.
3. Şiirde Güneşe benzetilen hangisidir?
A) Okul
B) Sınıf
C) Arkadaşlar
4. Şair kimlerle ayrılmaz eş olmuştur?
A) Bilgilerle
B) Arkadaşlarıyla
C) Kardeşleriyle

5. "Gül" sözcüğü hangi cümlede eş sesli olarak kullanılmıştır?
A) Sen gülünce güller açar Gülpembe
B) Ben yarime gül demem, gülün ömrü az olur.
C) Son gülen iyi gülermiş.
 6. Eş anlamlılık özelliğine göre iki sözcük gruplandırıldığında hangisi dışarıda kalır?
A) Kalp
B) Yürek
C) Sevgi
 7. "O gün sirke gitmiştik. En çok ilgimi çeken bir vantrolog olmuştı. Dudak hiç oynamadığı hâlde konuşabili- < yordu. Ben buna inanmak istemedim Annem onun karnından konuştuğunu söyledi."
- Yukarıdaki altı çizili sözcüğün anlamı hangisidir?
- A) Bitki ve hayvan türlerini inceleyen kişi
 - B) Karnından konuşan kişi
 - C) Fal ve büyüyle uğraşan kişi
8. Ekmeğimizi (1) sütümüzü (2) kalemimizi para ödeyerek alırs (3) Kaç numaralı paranteze diğerlerinden farklı bir noktalama işareti gelmelidir?
A) 1 B) 2 C) 0 D) 3
 9. Hangi cümlede sonuna nokta (.) konulmalıdır?
A) İnsanlar için zaman önemlidir
B) Okulda hangi kurallara uymalıyız
C) Sınıfımızı nasıl temiz tutabiliriz

10. Aşağıdakilerden hangisi bir cümle olmaz?

- A) Bilinçli bir tüketici reklâmların etkisinde kalmaz
- B) İhtiyacımız olan malı görerek almalıyız
- C) ihtiyaçlar bütçeye göre


11.



Şekildeki 1 numaralı sözcüğün 3 numaralı sözcükle ilişkisi düşünüldüğünde 4 numaralı yere hangisi yazılmalıdır?

- A) Tatil
- B) Şekerli
- C) Tuzlu

12.



Ortadaki hece kaç numaralı heceye eklendiğinde yeni bir kelime türemiş olur?

- A] 1
- B) 2
- C) 3



Şule, Hilmi.....çalışkandır.

Cümlede boş bırakılan yere hangisi gelmelidir?

- A) ve
- B) ile
- C) kadar

14.

1. Uçurtmamı gökyüzüne bıraktım.
- 2. Açık bir araziye yürüdüm.
3. Hava güneşli ve açıktı.
4. Uçurtmam kuş gibi süzülüyordu.

Yukarıdaki cümlelerden anlamlı bir metin oluşturulduğunda doğru sıralama hangisi olur?

- A) 1 - 4 - 3 - 2
- B) 3 - 2 - 1 - 4
- C) 2 - 3 - 4 - 1

15.:

- Simitçi çocuğu görünce sevindi

Anlam karışıklığına yol açmamak için kaç numaralı kutucuğa virgül (,) konulmalıdır?

- A) 1
- B) 2
- C) 3

Hayvanlar da bizim gibi canlı varlıklardır. Korunmaları gerekir. Onlara eziyet etmemeliyiz. Bütün hayvanları sevmeliyiz. Evcil hayvanlarımızı iyi beslemeliyiz. Kafesteki kuşlarımız, akvaryumdaki balıklarımız evimizin süsüdür

1, 2, 3 ve 4. sorulan parçaya göre yanıtlayınız.

- Parçanın konusu hangisidir?
 - Hayvanlar
 - Evcil hayvanlar
 - Kuşlar ve balıklar
- Hayvanlara ne yaparsak parçada verilen öğütlere uymamış oluruz?
 - Onları korursak
 - Onları beslersek
 - Onlara eziyet edersek
- Aşağıdakilerden hangisi evimizin süsü değildir?
 - Kafesteki kuşlarımız
 - Küresteki tavuklarımız
 - Akvaryumdaki balıklarımız.
- Parçanın ana fikri aşağıdakilerden hangisidir?
 - Hayvanları korumalı ve sevmeliyiz.
 - Evcil hayvanlarımızı beslemeliyiz.
 - Evimizin süslerini dikkatli kullanmalıyız.


- "Günün manâsını belirten yazı ve resimleri panoya astık" cümlesinde altı çizili sözcüğün yerine hangisi gelirse eş anlamlısı kullanılmış olur?
 - Önem
 - Anlam
 - Vurgu

6.




Ortakdaki taralı ek, kutadaki sözcüklerden kaç tanesinin yanına eklendiğinde türemiş sözcük oluşur?

- 4
 - 3
 - 0
 - 2
- ".....için dün okula gelmemiş." Cümlesinde boş bırakılan yere hangisi gelmelidir?
 - Okula gelmediği
 - Hastalandığı
 - Evine gidince
 - Şeker sözcüğünün yanına kaç numaralı baloncuktaki ek getirildiğinde yeni bir sözcük türe-
 - 1
 - 2
 - 3



9.



"Sana eşyalarımı almamanı kaç kez söyledim ." İfadesi kaç numaralı yüze aittir?


- A) 1 B) 2 C) 0 D) 3

10. "Eve geç kalınca" cümlesi nasıl tamamlanmalıdır?

- A) annesi bayram etti.
B) annesi çok telaşlandı.
C) annesi mutlu oldu.

11.

1. Yararlanım saymakla bitmez.
2. Her gün beni yersen çok sağlıklı olursun.
3. Kahvaltıda ben olurum.
4. Merhaba ben yumurtayım.



Yumurtanın konuşmasını doğru sıralamayla düzelttiğimizde son cümleden bir önceki cümle hangisi olur?

- A) 1 B) 3 C) 4

12. "Neşe bütün yemekleride ıspanağı çok seviyordu." cümlesinde boş bırakılan yere hangisi gelmelidir?

- A) hiç
B) gibi
C) özellikle

13. "Kuşlar mavi semada özgürce uçuyor." cümlesinde altı çizili sözcüğün yerine hangisi yazılabilir?

- A) gökkuşağında
B) gökyüzünde
C) bulutta

14. Aşağıdaki cümlelerin hangisinde anlatım bozukluğu vardır?

- A) Günlük yaşamımızda birçok şeye gerek benim duyarız.
B) Alışverişe çıkmadan bir liste hazırlamalıyız.
C) Zorunlu olmayan gereksiz ihtiyaçlarımızın alınması ısrarcı olmamalıyız.

15. Hangi cümlelerin sonuna soru işareti (?) gelmelidir?

- A) Ne sen sor ne ben söyleyeyim
B) Ne güzel bir gün
C) Ne zaman geldin

16. Aşağıdaki sözcüklerden hangisinin yazımı yanlıştır?

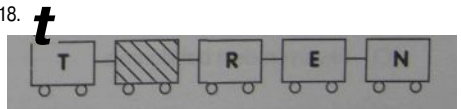
- A) Mutfak
B) Kalemlik
C) Peteçe

17. Ailenin \ ülkenin ve dünyanın geleceği bizim

Yukarıdaki cümlede kutucuklara sırasıyla hangi noktalama işaretleri gelmelidir?

- A) (, .)
B) (. .)
C) (, ?)

18.



Sözcüğün doğru yazımı için taralı kutucuk ile ilgili hangisi söylenebilir?

- A) "i" harfi gelmelidir.
B) Boş bırakılmalıdır.
C) "l" harfi gelmelidir.

Bir vatan bırakın
Biz çocuklara
Islanmış olmasın
Gözyaşlarıyla.

Bir barış bırakın
Biz çocuklara
Ulaştın şarkımız
Güneş'e ve Ay'a

Bir bahçe bırakın
Biz çocuklara
Göklerde yer açın
Uçurtmalara

Bir dünya bırakın
Biz çocuklara
Yazalım üstüne
"Sevgili Dünya"

Adnan ÇAKMAKÇIOĞLU

1, 2, 3 ve 4. soruları şiire göre yanıtlayınız.

1. Aşağıdakilerden hangisi şiirde verilmek istenen duygulardan değildir?

- A) Barış
B) Sevgi
C) Düşmanlık

2. Çocuklar kendilerine bırakılan vatanın nasıl olmasını istiyorlar?

- A) Göklerde uçurtma uçuracakları
B) Gözyaşlarıyla ıslanmış olmayan
C) Şarkılarının Güneş'e ve Ay'a ulaşacağı

3. Çocuklar dünyanın üstüne ne yazmak istiyorlar?

- A) Sevgili Dünya
B) Biz çocuklar
C) Güneş ve Ay

4. Çocuklar barış şarkılarını nereye ulaştırmak istiyorlar?

- A) Dünya'ya
B) Göklere
C) Güneş'e ve Ay'a

5. "Sağlığımızaetmeliyiz." cümlesinde boş bırakılan yere hangi sözcük gelmelidir?

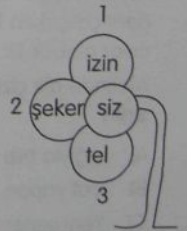
- A) önem
B) dikkat
C) yardım

6. Zıt anlamlılık özelliğine göre iki sözcük gruplandırıldığında aşağıdakilerden hangisi dışarıda kalır?

- A) Yaşlı
B) Çocuk
C) Genç

7. Çiçeğin hangi yaprağındaki sözcük "siz" eylele birleştğinde iki anlamlı bir sözcük oluşur?

- A) 1
B) 2
C) 3



Merhaba, benim adım nokta.
Yerimi kaybettim. Bana yardımcı
olur musun? Nereye gitmeliyim?

12.

B

Kutucuklarda gizli sözcüğün taralı harfleri
hangi seçenekte verilmiştir?

- A) A, U
B) O, I
C) E, Ü

- A) Sağlığın temeli nedir
B) Ne iyilik yarıyor sana ne kötülük
C) Sana ne dedi

"Ahmet bir an önce eve gitmek istiyordu.
Çünkü....." cümlesi hangisiyle tamam-
lanmalıdır?

- A) bir an önce eve gitti.
B) uzun zamandır görmemişti.
C) küçük kardeşine bakacaktı.

13. "Küçük (1) kız kardeşimle (2) parka gitti(3)"
cümlesinde kaç numaralı paranteze virgül
(,) getirilirse cümlemin öznesi değişmiş
olur?

- A) 1 B) 2 c) 3

14. Mucit—> icat

Yukarıdaki sözcükler arasındaki ilişki "ka-
şif sözcüğüyle hangisi arasında vardır?

- A) muayene
B) iş
C) keşif

10. "Yüz" sözcüğü hangisinde eşsesli olarak
kullanılmıştır?

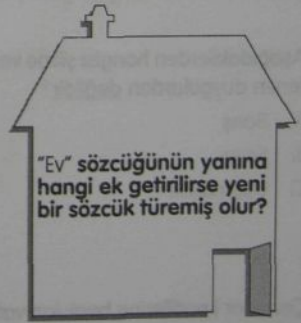
- A) Yüzdün yüzdün kuyruğuna geldin.
B) Yüzü yüz yaşında gösteriyordu.
C) Yüzde yüz haklısın

11. "Edison çok iyi bir mucitti. Ampulü bulma-
saydı hayatımız ne zor olurdu. Örneğin
ders çalışırken hâla mum ışığıyla aydınla-
nıyor olabilirdik."

Metinde altı çizili sözcüğün anlamı hangi-
sidir?

- A) Işıqla bizi aydınlatan bir araç
B) icat yapan kişi
C) Yeni yerler keşfeden insan

15.



- A) de
B) den
C) li

Verem bulaşıcı bir hastalıktır ve insanlar için tehlikelidir. İnsandan insana veya hayvanlardan insanlara bulaşır. Verem mikrobi çoğunlukla akciğere yerleşerek insanı hasta eder.

1, 2, 3 ve 4. sorulan parçaya göre yanıtlayınız.

- Verem nasıl bir hastalıktır?
 - Geçici
 - Bulaşıcı
 - Tehlikesiz
- Aşağıdakilerden hangisi veremin bulaşma yollarından değildir?
 - insandan insana
 - Hayvandan insana
 - Bitkiden insana
- Verem mikrobunun vücudumuzda yerleştiği organ aşağıdakilerden hangisidir?
 - Karaciğer
 - Akciğer
 - Kalp
- Yukarıdaki parçanın başlığı aşağıdakilerden hangisi olabilir?
 - Verem hastalığı
 - Hastalıklar
 - Organlarımız


- Hangi cümlede eşsesli bir sözcük kullanılmıştır?
 - Gözümün önüne tek gözlü çekmece-nin içindeki çikolatalar geliyor.
 - Yüzünü yıka, yüzün temiz olsun.
 - Elini bıçak kesince eline dikmiş atıldı.
- Hangi cümlede yanlış yazılmış bir sözcük vardır?
 - Muhabbet kuşu ötücü bir kuştur.
 - Penguenler uçamazlar,
 - Ak baba yırtıcı bir kuştur.

"Karpuzun ki yassı ve siyah,'
fasulyenin ki ise iri, oval ve beyazdır.
Yani bitkilerin görünüş'
bakımından çok farklıdır."

Aşağıdakilerden hangisi boş bırakılan yere gelmelidir?

- kabukları
- tohumları
- yaprakları

8.



"Elma armut portakal kayısı kiraz ceviz fındık gibi meyveleri meyve bahçelerinde yetiştiririz." cümlesinde eksik olan noktalama işareti aşağıdakilerden hangisidir?

- Virgül!)
- Soru işareti (?)
- Kesme işareti (-)

9. "Çok yağmur yağınca ırmaklar taşar." cümlesinde altı çizili sözcüğün yerine hangisi getirilirse eş anlamlısı kullanılmış olur?

A) dere
B) çay
C) akarsu

10.

F	A	S	U	L	Y	A
---	---	---	---	---	---	---

Sözcüğünün doğru yazımı için kaç numaralı kutuya "E" harfi gelmelidir?

A) 1
B) 2
C) 3

11.

Sağlıklı	olmak	?
dengeli	beslenmeliyiz.	

cümlesinde boş bırakılan yere hangi sözcük yazılmalıdır?

A) kadar
B) için
C) gibi

12. "Açık havada gündüz gök yüzüne bakınca

1 2 3

neler görürüz?" cümlesinde kaç numaralı sözcük yanlış yazılmıştır?

A) 1 B) 2 C) 0 D) 3

13. Yukarıdaki cümlelerden anlamlı bir metin oluşturulduğunda ilk cümle hangisi olur?

A) 1
B) 2
C) 3

Enerjiyi, suyu tutumlu kullanır
2. ihtiyaçtan fazlasını biriktirir.
3. Tutumlu insan, parasını ihtiyacına göre harcar.

14.

Omzunda çantası, ,
Yürür gider.....
Mektupları evlere,
Verir gider.....

Şiirde boş bırakılan yere hangisi yazılmalıdır?

A) doktor
B) postacı
C) itfaiyeci

15. "Arka" sözcüğünün zıt anlamlısı hangi cümlede kullanılmıştır?

A) Evin karşısında okul var.
B) Arabanın ön koltuğuna bebekleri oturtmayın.
C) İleride bir bakkal var.

KUZUM

Bir kuzum var, yaramaz
Hiç yerinde duramaz.
Güzelim tüyleriyle,
Bulutlardan da beyaz.

Kuzumu pek severim.
Onu sever okşarım.
"Üzüm, fıstık, ceviz mi?
Kara gözlü şekerim..."

Sokulur meleyerek
Okşanmak dileyerek
O sanki kuzu değil,
Beyaz yünden bir bebek.
Mehmet Faruk GÜRTÜ

1, 2, 3 ve 4. sorulan şiire göre yanıtlayınız.

1. Aşağıdakilerden hangisi kuzunun özelliklerinden değildir?

- A) Yaramaz
- B) Kara gözlü
- C) Siyah tüylü

Şiirde hangi benzetme yapılmamıştır?

- A) Kuzunun tüyleri buluta benzetilmiş.
- B) Kuzunun gözleri üzüme benzetilmiş
- C) Kuzu beyaz yünden bir bebeğe benzetilmiş.

Kuzu neyi dileyerek sahibine sokuluyor?

- A) Üzüm, fıstık, ceviz yemeyi
- B) Şeker almayı
- C) Okşanmayı

4. Şiirde işlenen temel duygu aşağıdakilerden hangisidir?

- A) Oyuncak sevgisi
- B) Hayvan sevgisi
- C) Yaramazlığın sonu

5.

Yukarıdakilerden hangisi eş anlamlı sözcükler değildir?

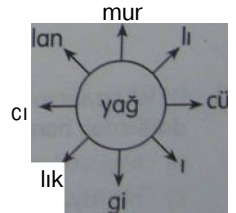
A) 1 B) 2 C) 3

6. "Ulusal" sözcüğünün eş anlamlısı aşağıdakilerden hangisidir?

- A) Vatani
- B) Milli
- C) Uluslararası

7. Yağ sözcüğü şekildeki eklerden kaç tanesini alırsa yeni bir sözcük türemiş olur?

- A) 7
- B) 4
- C) 2



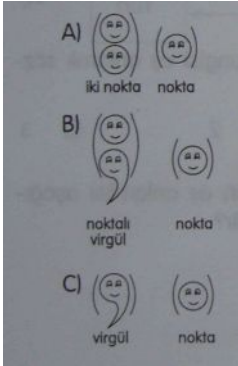
8. 'Şeker' sözcüğü aşağıdaki eklerden hangisini alırsa anlamı "içinde şeker bulunan" olur?

A) Şekerlik
B) Şekerli
C) Şekerci

9. Aşağıdaki cümlelerin hangisinde nokta (.) yanlış kullanılmıştır?

A) Yaralı bir kuş gördüm.
B) Masa örtüsü kirli mi kirli.
C) Ne aradınız.

10. Atatürk diyor ki () "Türkiye Cumhuriyeti'nin temeli kültürdür ()" cümlesinde boş bırakılan yerlere sırasıyla hangi noktalama işaretleri gelmelidir?



"1216" sayısının doğru yazılmış şekli aşağıdakilerden hangisidir?

A) binikiyüzonaltı
B) bin ikiyüz onaltı
C) bin iki yüz on altı

12. Aşağıdaki cümlelerin hangisinde özel isimlerin yazımıyla ilgili bir yanlışlık vardır?

A) Telefonu Canan açtı.
B) Bugün Antalya'ya gidiyoruz.
C) Yaz tatilinde akdenize gittik.

$k < f^{\wedge} j^{\circ} fi -f:$

Yukandaki sözcük nasıl tamamlanmalıdır?

A)

B)

C)


14. Aşağıdakilerden hangisi bir cümle ola-
maz?

A) Satmış bütün eşyalarını
B) Nereye gittiğini bilmiyoruz
C) Adam hayaller kurmaya

15. "Seni merak etmiş olmalı, çünkü....." cümlesinde boş bırakılan yere ne yazılmalıdır?

A) çok güzel olmuş.
B) sorular sorup durdu bana.
C) çok merak etmiş.

5.



Çocuklar; ailenin, ülkenin ve dünyanın geleceğidir. Yarının büyükleri çocuklar olacak. Ülkeleri onlar yönetecek.

1, 2, 3 ve 4. sorulan parçaya göre yanıtlayınız.

1. Parçanın konusu nedir?

- A) Ülkenin geleceği
- B) Çocuklar
- C) Kalkınma

2. Ailenin, ülkenin ve dünyanın geleceği kimlerdir?

- A) Büyükle
- B) Yaşlılar
- C) Çocuklar

3. Çocuklar için aşağıdakilerden hangisi söylenmemiştir?

- A) Ülkenin geleceğidir.
- B) Kalkınıp güçlenmemizi sağlayacaktır
- C) Geri kalmamıza neden olmaktadır.

4. Parçaya göre ülkelerin güçlenmesi neye bağlıdır?

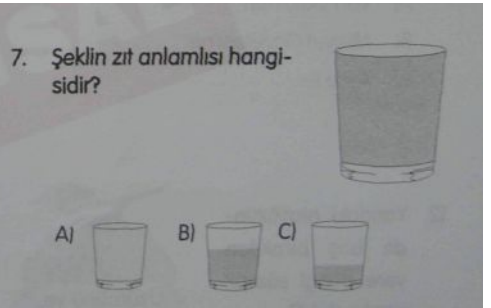
- A) Kalkınmaya
- B) Yönetime
- C) Geleceğe

Aşağıda verilen sözcüklerden hangisinin eş anlamlısı şekilde yoktur?

- A) Ad
- B) Sözcük
- C) Temiz

6. "Kaz sürüsü uçuyordu." cümlesinin öznesinin eşşesli kullanımı hangi cümlede vardır?

- A) Kümesimizde kaz besliyoruz.
- B) Bahçeye çukur kaz.
- C) Kaz yumurtası çok büyüktü.



7. Şeklin zıt anlamlısı hangisidir?

- A) [Empty glass]
- B) [Half full glass]
- C) [One-quarter full glass]

8. Hangisinde cümlemin öznesi belirsizdir?

- A) Kitaplarını almış dün.
- B) Hasta adama nereye gittiğini sordu.
- C) Ali kapıyı kapattı.

aldı karne çocuklar dün

sözcükleriyle kurallı bir cümle kurarsak
sondan ikinci sözcük ne olur?

- A) aldı
- B) karne
- C) çocuklar

10.

Haftanın
günlerinden
hangisi yanlış


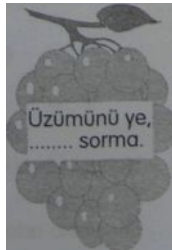
- A) Pazartesi
- B) Cumartesi
- C) Perşembe

11. Hangisinin yazımı yanlıştır?

- A) Van Gölü'nün
- B) Milliyet Gazetesi'ne
- C) Ayşe'ler

12. Yandaki atasözün-
de boş bırakılan
yere hangi sözcük
yazılmalıdır?

- A) bağı
- B) sahibini
- C) ağacını



13.

Yukarıdaki hecelerden oluşturulacak söz-
cüğün sondan bir önceki hecesinin son
harfi ne olur?

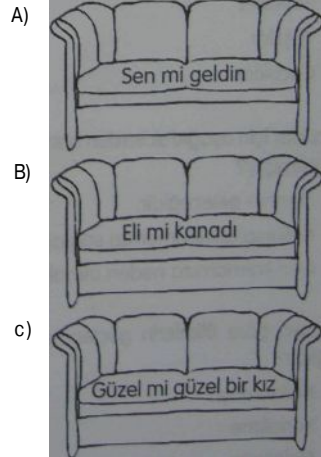
- A) m
- B) z
- C) y

14. "O sırada bir avcı....." cümlesinin
boş bırakılan yerine hangisi yazılmalıdır?

- A) canı sıkıldı.
- B) tüfeğini doğrulttu.
- C) uçuştı gitti.

15. Nokta (.) arkadaşlarıyla top oynamış ve
çok yorulmuştur. Şöyle rahat bir koltuğa
oturup dinlenmek istemektedir. Ancak
hangi koltuğun doğru koltuk olduğunu
bilmemektedir.

Sizce hangi koltuk nokta için doğru koltuk-
tur?



S.

Şu ağacın tepesinde
Var bir sincap
Ceviz kırar, yemek arar.
Her gün göremem ki,
Saklar onu,
Anne yapraklar.
Fazıl Hüsnü Dağlarca,

Ben bir ülkeyi yönetebiliyorum
ancak kendi adımlarım düzgün
yazamıyorum.
Bana yardıma olur musun?



- A) Kırıl
B) Kral
C) Kırıl

1, 2, 3 ve 4. sorulan parçaya göre yanıtla-
yınız.

1. Sincap nerededir?

- A) Ağacın arkasında.
B) Ağacın önünde.
C) Ağacın tepesinde.

2. Sincap şiiirde ne ile beslenmektedir?

- A) Yaprak
B) Ceviz
C) Yemek

3. Şiiirde yapraklar neye benzetilmiştir?

- A) Anneye
B) Eve
C) Yemeğe

Şiiirde kaç tane isim (ad) vardır?

- A) 5 B) 7

C) 8

6. "başlık - başak - başka" sözcüklerini alfa-
betik sıraya göre sıralarsak ilk sözcük han-
gisi olur?

- A) başlık
B) başak
C) başka

7.



Çiçek sözcüğüne yukarıda şekilde verilen
eklerden kaç tanesini eklersek yeni bir
sözcük oluşur?

- A) 1 B) 2 C) 4

Bu sene çok
çalışacağım.

cümlesinde altı çizili sözcüğün yerine hangisin yazılması cümlemin anlamını değiştirmez?

A) ay B) gün C) yıl

9. "Soruya doğru cevap verdi." cümlesinde altı çizili sözcüğün yerine hangisi yazılırsa cümle tam tersi bir anlam bildirir?

A) istediğim gibi
B) yanlış
C) eksik

10. Hangisi "fakat" sözcüğüyle devam ettirilebilir?

A) Ayşe'de Ece kadar
B) Ali yarın için
C) Hava soğuktu.

11. Yanlış yazılmış olan cümle hangisidir?

A)

Bahçeye
çiçek
diktik.



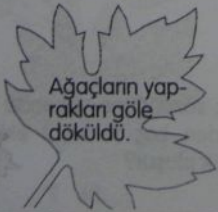
B)

Cumhuriyet bayra-
mında şiiir okudum.




C)

Ağaçların yap-
rakları göle
döküldü.



12.



A) Cahilin
B) Hırsızın
C) Yalancının

13. "geçti - yanıımızdan - koşarak - çocuk" sözcükleriyle kurallı bir cümle kurarsak baştan üçüncü sözcük hangisi olur?

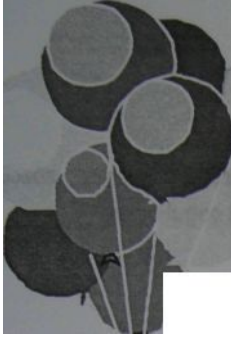
A) geçti
B) yanıımızdan
C) çocuk

14. Hangi sözcüğün anlamı "24 saatlik süre"dir?

A) Yıl
B) Ay
C) Gün

15. "Koyun" sözcüğün çoğulu hangisi olur?

A) Sürü
B) Koyunlar
C) Koyunda



Baharın güzelliğine
Dayanamadı toprak
Yeşillendi.
Baharın güzelliğine
Dayanamadı ağaç
Çiçektendi.
Baharın güzelliğine
Dayanamadı kuş
Dillendi.

Baharın güzelliğine
Dayanamadı kar
Eridi.
Dereye indi.
Baharın güzelliğine
Dayanamadı bulut
Yağmur oldu
Elendi.

M. Necati ÖNGAY

3. Kuşları dillendiren nedir?
A) Baharın güzelliği
B) Yağmurun yağması
C) Ağaçların yeşilliği
4. Baharın güzelliği karşısında bulut neye dönüşüyor?
A) Kara
B) Yağmura
C) Ağaca

1, 2, 3 ve 4. soruları parçaya göre yanıtlayınız.

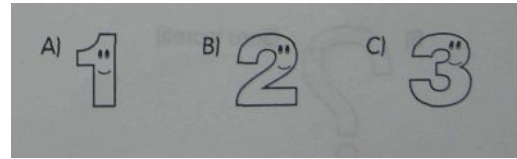
"Gelinliklerden" altı çizili
sözcükten sonra kaçına
hece yapım ekidir?

1. Şiirin konusu hangisidir?

- A) Kuşların ötüşünün güzelliği
- B) Baharın geliş ve güzelliği
- C) Yağmurun yağışı

2. Baharda hangi olay yaşanmıyor?

- A) Ağaçların çiçek açması
- B) Karların erimesi
- C) Kuşların göç etmesi



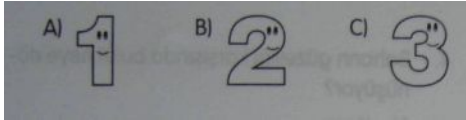
6. "Temiz" sözcüğünün pekiştirilmiş hâli hangisidir?
A) Temtemiz
B) Tertemiz
C) Testemiz

7. sözcüğüne ek getirilirse "içine kalem konulan kap" anlamına gelen bir sözcük oluşur?


A) -siz
B) -ci
C) -lik

8. Evde kitaplık yok.

cümlesinde kaç numaralı sözcük türemiştir?



9. "Ece uçak resmi....." cümlesi hangi sözcükle tamamlanamaz?
- A) sever
B) yapar
C) biner
10. "Okuyoruz" cümlesinin öznesi hangisidir?
- A) Ben
B) Biz
C) Onlar
11. Teyzemi çok mu özledin" cümlesinin sonuna hangi noktalama işareti gelmelidir?



12. "komşunun - muhtaçtır - külüne - komşu" sözcükleriyle kurallı bir cümle oluşturursak cümlelerin öznesi hangisi olur?

A) komşunun
B) külüne
C) komşu

13. "masa, ordu, tavşanlar" sözcüklerinden kaç tanesi çoğul addır?

A) 1 B) 2 C) 3

14. Aşağıdakilerden hangisinin yazımı yanlıştır?

A) Kiprik
B) Sarımsak
C) Peçete

15. Çocuk ders çalışacaktı fakat..." cümlesi nasıl tamamlanır?

A) sular akıyordu.
B) elektrikler kesikti.
C) karnı toktu.


"Dünyamızda enerji kaynakları sınırlıdır. Günün birinde bu enerjiler tükenebilir. Bu yüzden mevcut enerji kaynaklarını tutumlu kullanmalıyız. Gereksiz yere lamba yakmamalıyız, suları boşa akıtmamalıyız. Binalarda ısı kaybını önlemeliyiz. Böylece hem aile bütçesine hem de ülke ekonomisine katkıda bulunmuş oluruz."

1, 2, 3 ve 4. sorulan parçaya göre yanıtlayınız.


- Parçanın başlığı hangisi olmalıdır?
A) Dünyamız
B) Enerji Tasarrufu
C) Kaynaklarımız
- "Mevcut" sözcüğü yerine hangisi kullanılabilir?
A) Var olan
B) Olağan dışı
C) Olağan üstü

- Enerji kaynaklarını niçin tutumlu kullanmıyoruz?
A) Sınırlı olduğu için
B) Gerekli olmadığı için
C) Paramız boşa gitmesin diye
- Hangisi enerji kaynaklarının tutumlu kullanılmasına örnek olarak parçada verilmiştir?
A) Suları boşa akıtmamak
B) Binalarda ısı kaybını önlemek
C) Lamba yerine mum yakmak

5.



bilgisayar
1



kaplo
2

disket
3

Kaç numaralı kutucuktaki sözcüğün yazımı yanlıştır?

- A) 1 B) 2 C) 3

- Hangi sözcük sözlükte önce gelir?
A) dut
B) dudak
C) dua
- "Zaten içerisi de dışarısı kadar soğuktu." cümlesinde altı çizili sözcüğün yerine hangisi yazılırsa cümlelerin anlamı değişir?
A) Aslında
B) Gerçi
C) Sanma ki

Hangisi türemiş bir sözcük değildir?

12

- A) Askılık
- B) Balık
- C) Kitaplık



Anlam özelliği
ne göre grup-
landırıldığında
hangisi dışarı-
da kalır?

sözcüklerinden anlamlı bir cümle oluştu-
rulduğunda baştan üçüncü sözcük hangi-
si olur?

- A) Şişman
- B) Geniş
- C) Dar

- A) her
- B) dalında
- C) güzeldir

"hasta - lık" sözcüğünde
olduğu gibi yapım ekleri,
bir sözcükten yeni bir sözcük
meydana getiren eklerdir.
Buna göre hangi sözcük yapım
eki almıştır?

13. "Çocuklar yanlış yapınca " cümlesi
hangisi ile tamamlanmalıdır?

- A) beğendim.
- B) yaşadım.
- C) üzuldüm.

- A) okulda
- B) köpekler
- C) boncuklu

14. Aşağıdakilerden hangisi bir topluluk ismi
değildir?

- A) Küme
- B) Orman
- C) Kediler

11. Aşağıda kilerden hangisi cümle değildir?

- A) Kapıyı kim çaldı?
- B) Ebru bugün ödevlerini
- C) Bahçede çocuklar oynuyor.

15. Aşağıdaki sözcüklerden hangisinin yazımı
doğrudur?

- A) gıram
- B) piresens
- C) kirpik


Güvercin çok susamıştı. Bir dere kıyısına indi. Tam su içerken bir karıncanın suya düştüğünü gördü. Karıncaya acıdı ve bir çöp parçası

uzatarak onu kurtardı. O sırada derenin kenarından bir avcı geçiyordu. Tam da tüfeğini doğrultmuşken ayağında bir acı hissetti. Bağıarak zıplamaya başladı. Güvercin sesi duyunca uçup gitti. Böylece karınca da güvercinin hayatını kurtarmış oldu.

4. Parçanın ana fikri hangisidir.

- A) Hayvanları iyi davranmalıyız.
B) Yaptığımız iyilikler karşılıksız kalmaz
C) Avlanmak tehlikeli bir iştir.

5. Kaç numaralı sözcük, ortadaki yapım ekini sonuna aldığı yeni bir sözcük oluşturmaz?



- A) 1 B) 2 C) 3

1, 2, 3 ve 4. sorulan parçaya göre yanıtlayınız

Güvercin su içmek için nereye gidiyor?

- A) Bir gol kıyısına
B) Bir dere kıyısına
C) Bir çeşme başına

2. Güvercin karıncaya neden yardım ediyor?

- A) Sevdiği için
B) Güvendiği için
C) acıdığı için


Karıncanın güvercinin hayatını nasıl kurtarıyor?

- A) Avcının ayağını ısırarak
B) Avcıyı suya düşürerek
C) Avcının tüfeğinin yönünü değiştirerek

6. "olmuş - çok - yemek - güzel" sözcükleriyle anlamlı ve kurallı bir cümle oluşturulduğunda son sözcük hangisi olur?

- A) olmuş
B) çok
C) yemek

7. "Ali de Ayşe kadar çalışıyor çünkü....." cümlesi hangisi ile tamamlanmalıdır?



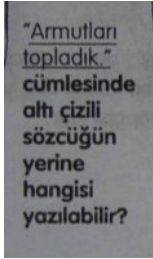
- A) zaten başarılı
B) sınava az kaldı.
C) eve hırsız girmiş

Hangisi özel isim olduğu hâlde baş harfi küçük yazılmıştır?

- A| İstanbul şehri
B| Konya Ovası
C| Marmara bölgesi

9. Hangi cümlede altı çizili sözcüğün yazımı yanlıştır?

- A) Sinop'a yerleşmişler.
B) Ahmed'e söyledim.
C) Tunç'a aldık.



- A| bizi
B| bunları
C| birkaçını

11. Hangi sözcük Türkçe değildir?



- A) 1 B) 2 C) 3

12. Hangi seçenekte tarih yanlış yazılmıştır?

- A| 19 mayıs 1919
B) 23 Nisan 1920
C| 29 Ekim 1923

13. Hangisinin sonuna virgöl (,) gelmelidir?


- A| Biliyorum
B) Sevgili teyzeciğim
C| Ne yapıyorsun

14. Okul ile sınıf sözcükleri arasında bir ilişki vardır.

Aynı ilişki "ev" sözcüğü ile hangisi arasında vardır?

- A| bahçe
B) salon
C) pencere

15.



Resmedilen hikayede anlatılmak istenen hangisidir?

- A| Çiçek, bulut ve Güneş'in arkadaşlıklarını.
B) Sıcaktan bunalan çiçeğin bulutun yardımıyla serinlemesi
C| Güneş'in bulut ve çiçeğin arkadaşlıklarını kıskanması

TÜRKİYEMİZ

Kokar burcu burcu güller,
Öter dallarda bülbüller,
Açar menekşe sümbüller..
Ne güzeldir Türkiye'miz!

Köyü kenti çiçeklidir,
Birbirine ekilidir.
Çelik erlerle beklidir.
Ne güzeldir Türkiye'miz!
Mehmet Necati
ÖNGAY

1, 2, 3 ve 4. soruyu yukarıdaki şiire göre yanıtlayınız.


- Şiirin konusu aşağıdakilerden hangisidir?
A) Çevre güzelliği
B) Ülke sevgisi
C) Hayvan sevgisi
- Şiirde aşağıdakilerden hangisinden söze-dilmemiştir?
A) Güllerden
B) Bülbüllerden
C) Lalelerden
- Şiire göre Türkiye'nin köyü kenti nasıl mış?
A) Bülbüllü
B) Çiçekli
C) Sümbüllü

- Şiirlerde geçen "çelik erler" aşağıdakilerden hangisidir?

- Köyler
- Mehmetçikler
- Kentler

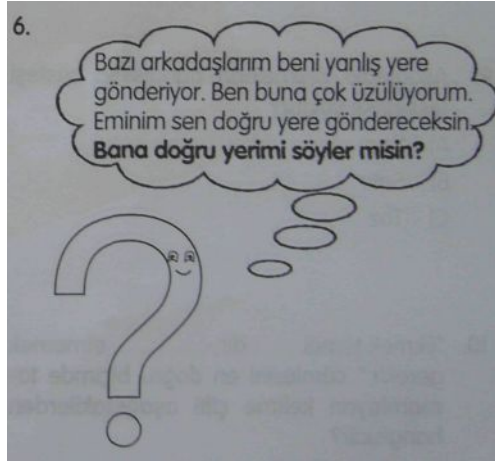
-

Aşağıdaki cümlelerin birine gitmem gerekiyor ama hangisi-- ne gideceğimi unuttum.
Bana söyler misin hangi cümle--nin sonunda olmalıyım?



- Ne söylediğini duydun mu
- Öğretmenim şöyle dedi
- Bu konuyu sana da anlatacağım

-



- Ne annem ne de babam geldi
- Ne güzel bir gün
- Ne zaman alacaksın



Yukarıdaki yumurtalar kardeş. Ancak birbirleriyle hiç anlaşıyorlar. Çünkü ikisi de cümlelerin içinde sürekli zıt anlamlı kelimeler kullanıyorlar. Aşağıdakilerden birinde de böyle zıt anlamlı kelimelerin kullanıldığı bir cümle var.

Bu cümle hangisidir?

- A) Çayın kenarında çay demledik.
B) Genç yaşlı herkes alanda toplandı.
C) Bu millet Atatürk'ün ulusu.

8.

dost	akraba	düşman
1	2	3

Yukarıdakilerden hangisi anlam yönünden ikili grup yapıldığında, dışarıda kalır?

- A) 1 B) 2 C) 3

9. Aşağıdaki kelimelerin hangisinin sesteşi (eşseslisi) yoktur?

- A) Yaz
B) Satır
C) Toz

10. "Ekmek temel_____dir,.....etmemek gerekir" cümlesini en doğru biçimde tamamlayan kelime çifti aşağıdakilerden hangisidir?

- A) besin - israf
B) sevdiğimiz - boca
C) biri - hiç

11.

seviyorum	1
çok	2
ben	3
okulumu	4



Yukarıdaki kelimelerden anlamlı ve kurallı bir cümle oluşturulursa sıralama nasıl olur?

- A) 4 - 2 - 3 - 1
B) 3 - 4 - 2 - 1
C) 2 - 1 - 4 - 3

12. "Yaprak sınıfımızın en.....öğrencisidir. Öğretmenimiz onu çok sever." cümlelerinde amaca uygun olarak anlatılmak istenen düşüncüyü en doğru biçimde ilk cümleyi hangi sözcük tamamlar?

- A) Haylaz
B) Çalışkan
C) Yaramaz

13.

1	hayatı sevdiren
2	biz insanlara
3	yine insanlardır

Kutucuklardaki cümle parçacıklarının anlamlı ve kurallı sıralanışında 4. sözcük aşağıdakilerden hangisi olur?

- A) sevdiren
B) yine
C) insanlara

Çiftçinin biri tarlasını sürerken bir yılan'na rastlamış. Bir süre sonra yılanla dost olmuşlar. Yılan çiftçinin yanına her gelişinde ona bir altın vermiş. Aradan yıllar geçmiş. Çiftçi bir gün çok hastalanmış. Oğlunu yanına çağırıp sırrını ona anlatmış. Oğlu da yılanı gidip altın istemiş. Yılan altını verirken oğlan " Bu yılanın yuvasında altın çok herhalde onu öldürüp bütün altınları alayım." diye düşünmüş. Yerden aldığı taşı yılanı fırlatmış. Kuyruğu kopan yılan da çiftçinin oğlunu zehirleyip öldürmüştü. Aradan günler geçmiş. Çiftçi iyileşip yılanın yuvasına gittiğinde yılanı yeniden dost olmayı önermiş. Yılan da ona "Bende bu kuyruk acısı, sen de evlat acısı varken yeniden dost olamayız." demiş.

1, 2, 3, 4 ve 5. soruyu yukarıdaki şiire göre yanıtlayınız.

1. Çiftçi yılanı nerede rastlamıştır?

- A) Tarlasında
- B) Bahçede
- C) Ormanda

2. Çiftçinin oğlunun davranışı aşağıdaki-lerden hangisidir?

- A) Sevecen
- B) Aç gözlü
- C) Dostça

3. Yılan çiftçinin oğlunu neden zehirleyerek öldürmüştür?

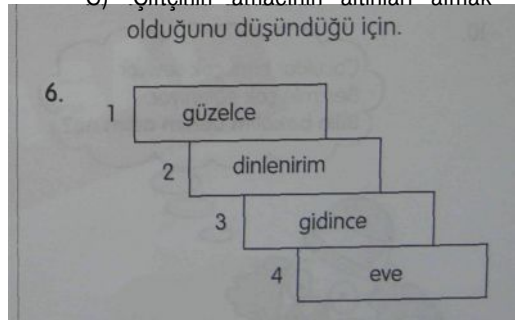
- A) Çiftçinin oğlundan korktuğu için
- B) Çiftçiye çok kızdığı için
- C) Çiftçinin oğlu onu öldürmek istediği için

4. Çiftçi iyileşince ne yapmıştır?

- A) Yılanı öldürmek istemiştir.
- B) Yılanla yeniden dost olmak istemiştir.
- C) Yılanın yuvasındaki altınları almak istemiştir.

5. Yılan çiftçiye niçin yeniden dost olamayacaklarını söylemiştir?

- A) Çiftçiye güvenmediği için.
- B) Geçmiş unutkanın ikisi içinde mümkün olmadığını düşündüğü için.
- C) Çiftçinin amacının altınları almak olduğunu düşündüğü için.



Yukarıdaki sözcüklerden anlamlı ve kurallı bir cümle oluşturulduğunda doğru sıralama nasıl olur?

- A) 4 - 3 - 1 - 2
- B) 3 - 4 - 2 - 1
- C) 1 - 3 - 4 - 2

7. "Çok değil, iyi.....marifettir." cümlesini en anlamlı şekilde tamamlayan kelime çifti aşağıdakilerden hangisidir?

- A) okumak - düşünmek
- B) konuşmak - dinlemek
- C) bilmek - söylemek

8.




Çay sözcüğünün eşseslisi hangi cümlede kullanılmıştır?

- A) Bir bardak kahve olsaydın.
- B) Çayda ördekler yüzüyordu.
- C) Denizde gemileri batmış.

9. Aşağıdaki sözcüklerden hangisinin yazılışı yanlıştır?

- A) Sipor
- B) Şiddet
- C) Jilet

10.



- A) Palyanço
- B) Palyaço
- C) Palyoço

11. Aşağıdaki özel isimlerden hangisi yanlış yazılmıştır?

- A) Aylinler
- B) Mehmet'çik
- C) Rizeli

12. "- lar" eki aşağıdaki cümlelerin hangisinde eklendiği sözcüğe çoğul anlamı katmamıştır?

- A) Ağaçlar çiçek açtı.
- B) Annemle gömlekleri ütiledik.
- C) Bu konuda amcamlar gibi düşünüyorum.

13. Aşağıdaki cümlelerden hangisinin öznesi belirsizdir?

- A) Çalışan insan başarılı olur.
- B) Hasta adamı içeri almadı.
- C) Kuzular su içti.

14. "Bu sorunun cevabını bilivormu sun?"

1 2 3

cümlesinde kaç numaralı sözcüğün yazımı yanlıştır?

- A) 1 B) 2 C) 0 D) 3

15. "Açlık () susuzluk ve yorgunluktan halsiz düştü ()" cümlesinde parantez içlerine sırasıyla hangi noktalama işaretleri gelmelidir?

- A) (:)(.)
- B) (,)(.)
- C) (-) (...)

İLKÖĞRETİM3

MATEMATİK j

OOĞAL SAYILARDA TOPLAMA İŞLEMİ

TEST 24

1. Yandaki toplama işleminin sonucu kaçtır? $321 + 407$
- A) 628
B) 728
C) 828

6. Yandaki toplama işleminin sonucu kaçtır? $251 + 438$
- A) 791
B) 781
C) 780

2. Yandaki toplama işleminin sonucu kaçtır? $429 + 354$
- A) 774
B) 773
C) 783

7

321 ile 543 sayılarının toplamı aşağıdakilerden hangisine daha yakındır?

3. Yandaki toplama işleminin sonucu kaçtır? $683 + 509$
- A) 1182
B) 1192
C) 1174

- A) 854
B) 864
C) 874

4. Yandaki toplama işleminin sonucu kaçtır? $475 + 768$
- A) 1243
B) 1143
C) 1133


8. iki basamaklı iki doğal sayı toplanırken aşağıda verilen bilgilerin sıralanması nasıl olmalıdır?

1. Birlikler toplanır.
2. iki sonuç toplanır.
3. Onluklar toplanır.

- A) 3. 2, 1
B) 3, 1. 2
C) 1. 2, 3

253 + 547 toplama işlemi yüzlük, onluk ve birliklerine ayrılarak yapıldığında hangisi doğru olur?

- A) 7 yüzlük + 9 onluk + 10 birlik
B) 7 yüzlük + 10 onluk
C) 8 yüzlük



47 + 38 toplama işlemini GÖKHAN, ARDA ve YAĞMUR zihinden yapıyorlar. Hangisi doğru yapmıştır?

- A) Gökhan
- B) Arda
- C) Yağmur

10. Beyza'nın boyu 138 cm, Derya'nın boyu 142 cm'dir. İkisinin boylan toplamı kaç cm'dir?

- A) 280
- B) 270
- C) 260

11. Yandaki toplama işleminde 245
A ve B rakamlarının toplamı $\pm \underline{31A}$
kaçtır? SB2

- A) 11
- B) 12
- C) 13

12. Baykal 22 yaşındadır. Annesi Baykal'dan 20 yaş büyüktür. Babası da annesinden 4 yaş büyük ise üçünün yaşları toplamı kaçtır?

- A) 112
- B) 110
- C) 108

13. Gökhan elindeki kitabın 1. gün 122 sayfasını, 2. gün 78 sayfasını ve 3. gün 84 sayfasını okuyor. 4. gün ilk üç gün okuduğu toplam sayfaların yansı kadar daha okuyup kitabı bitiriyor. Kitap kaç sayfadır?

- A) 416
- B) 426
- C) 436

14. Bir bahçede 284 tane vişne ağacı, 160 tane de kiraz ağacı vardır. Vişne ve kiraz ağaçlarının toplamının $\frac{1}{3}$ 'ü kadar da elma ağacı olduğuna göre bahçe-de kaç ağaç vardır?

- A) 592
- B) 582
- C) 572

15. Üç basamaklı en büyük doğal sayı ile rakamları farkı üç basamaklı en küçük doğal sayının toplamı kaçtır?

- A) 1099
- B) 1100
- C) 1101

16. 389 sayısından 145 fazla olan sayı kaçtır?

- A) 534
- B) 524
- C) 514

17. 7 - 2 - 4 rakamlarını birer kez kullanarak yazılabilecek en büyük sayı ile en küçük sayının toplamı kaçtır?

- A) 1029
- B) 999
- C) 989

18. Bir pazarcı 245 kg domates, 182 kg salatalık ve 112 kg biber satıyor. Pazarcı toplam kaç kg sebze satmıştır?

- A) 549
- B) 539
- C) 529

İLKÖĞRETİM 3

MATEMATİK

DOĞAL SAYILAR

TEST 23 |

1. "1 yüzlük + 4 onluk + 7 birlik" hangi doğal sayıyı oluşturur?
- A) 147
B) 111
C) 107
2. "4 yüzlük + 8 onluk + 2 birlik" hangi sayıyı oluşturur?
- A) 498
B) 482
C) 428
3. "iki yüz yetmiş altı" sayısının rakamla gösterilişi aşağıdakilerden hangisidir?
- A) 276
B) 267
C) 207
4. "Sekizyüzdokuz" sayısının rakamla gösterilişi aşağıdakilerden hangisidir?
- A) 890
B) 889
C) 809
5. *437* sayısının içinde kaç yüzlük vardır?
- A) 3
B) 4
C) 7
6. "785* sayısının yüzler basamağında hangi rakam vardır?
- A) 5
B) 7
C) 8
7. *305" sayısının çözümlenmiş şekli aşağıdakilerden hangisidir?
- A) $100+100+100+10+10+10+10+10$
B) $100+100+100+1+1+1+1$
C) $100+100+100+1+1+1+1+1$
8. *429* sayısının çözümlenmiş şekli aşağıdakilerden hangisidir?
- A) 4 yüzlük + 2 onluk + 9 birlik
B) 4 yüzlük + 9 birlik
C) 4 yüzlük + 9 onluk + 2 birlik
9. "100 + 100 + 100 + 100 + 1 + 1" şeklin- de çözümlenmiş olan sayının okunuşu aşağıdakilerden hangisidir?
- A) Dört yüz yirmi
B) Dört yüz yirmi iki
C) Dört yüz iki
10. *635" sayısının okunuşu aşağıdakiler- den hangisidir?
- A) Altı yüz otuz beş
B) Altı yüz elli üç
C) Altı yüz üç

11. 289, 128, 400 sayılarının büyükten küçüğe doğru sıralanmış şekli aşağıdakilerden hangisidir?
- A) $400 > 289 > 128$
 B) $400 < 289 < 128$
 C) $128 < 289 < 400$
12. 487, 629, 531, 702 sayılarını küçükten büyüğe sıralanmış şekli aşağıdakilerden hangidir?
- A) $702 > 629 > 531 > 487$
 B) $487 > 531 > 629 > 702$
 C) $487 < 531 < 629 < 702$
13. $720 - 726 - 732 - ? - 744 - 750$ şeklinde altışar altışar sıralanmış sayılarda ? yerine hangi sayı yazılmalıdır?
- A) 737
 B) 738
 C) 739
14. $639 - 648 - 657 - ? - 675 - 684$ şeklinde dokuzar dokuzar sıralanmış sayılarda ? yerine hangi sayı yazılmalıdır?
- A) 664
 B) 665
 C) 666
15. Rakamları farklı üç basamaklı en küçük tek sayı kaçtır?
- A) 123
 B) 113
 C) 103
16. Rakamları farklı üç basamaklı en büyük çift sayı kaçtır?
- A) 998
 B) 988
 C) 986
17. 3, 1, 7 rakamlarını birer kez kullanarak üç basamaklı yazılabilecek en büyük sayı kaçtır?
- A) 731
 B) 371
 C) 173
18. 8, 1, 9 rakamlarını birer kez kullanarak üç basamaklı yazılabilecek en büyük çift sayı kaçtır?
- A) 981
 B) 918
 C) 891
19. 7, 0, 4 rakamlarını birer kez kullanarak elde edilebilecek üç basamaklı en küçük tek sayı kaçtır?
- A) 470
 B) 407
 C) 704
20. Yandaki saat kaç göstermektedir?



- A) Dördü beş geçiyor.
 B) Dörde beş var.
 C) Biri yirmi geçiyor.

İLKÖĞRETİM 3

MATEMATİK

OOĞAL SAYILARDA ÇIKARMA İŞLEMİ

TEST 25

1. Yandaki çıkarma işleminin sonucu kaçtır?
- $$\begin{array}{r} 517 \\ - 305 \\ \hline \end{array}$$
- A) 212
B) 202
C) 312
2. Yandaki çıkarma işleminin sonucu kaçtır?
- $$\begin{array}{r} 429 \\ - 110 \\ \hline \end{array}$$
- A) 219
B) 309
C) 319
3. Yandaki çıkarma işleminin sonucu kaçtır?
- $$\begin{array}{r} 643 \\ - 509 \\ \hline \end{array}$$
- A) 144
B) 146
C) 134
4. Yandaki çıkarma işleminin sonucu kaçtır?
- $$\begin{array}{r} 807 \\ - 258 \\ \hline \end{array}$$
- A) 559
B) 549
C) 649
5. $A + 328 = 459$ eşitliğinin doğru olması için A sayısı kaç olmalıdır?
- A) 131
B) 231
C) 787
6. Bir çıkarma işleminde eksilen 784, çıkarılan 336 ise fark kaçtır?
- A) 358
B) 452
C) 448
7. Bir çıkarma işleminde çıkan 257, fark 500 ise eksilen kaçtır?
- A) 243
B) 757
C) 802
8. Bir çıkarma işleminde fark 108, eksilen 624 ise çıkan kaçtır?
- A) 516
B) 426
C) 536
9. Okulumuzda 384 öğrenciden 178 tanesi kız ise kaç tanesi erkektir?
- A) 216
B) 206
C) 196
10. Sınıfımızda 34 arkadaşım var. Sınıfımızdan 2 arkadaş nakil gidince sınıfta kaç öğrenci kalmıştır?
- A) 33
B) 32
C) 31

11. Yandaki çıkarma işleminde 492
noktalı yere hangi sayı yazılmalıdır? 159
A) 352
B) 343
C) 333
12. Aklımdan tuttuğum sayıyı 304 ile topladığım zaman 928 oluyor. Aklımdan tuttuğum sayı kaçtır?
A) 634
B) 624
C) 614
13. Bir trende 246 yolcu vardır. 1. istasyonda 84 yolcu inip, 52 yolcu biniyor. 2. istasyonda 108 yolcu inip, 76 yolcu biniyor. Trende kaç yolcu kalmıştır?
A) 182
B) 190
C) 208
14. Okulumuzdaki erkek öğrenciler kızlardan 92 eksiktir. Erkeklerin sayısı 290 ise okulumuzda kaç öğrenci vardır?
A) 478
B) 488
C) 498
15. Rakamları farklı üç basamaklı en büyük sayı ile iki basamaklı en büyük sayının farkı kaçtır?
A) 889
B) 888
C) 887
16. Baba ile kızının yaşları toplamı 46'dır. Kızı 8 yaşında ise baba kızı doğduğu zaman kaç yaşındaydı?
A) 30
B) 29
C) 28
- 412 sayfalık bir kitabın 1. gün 118 sayfasını, 2. gün 76 sayfasını okuyan bir kişinin okuyacağı kaç sayfası kalmıştır?
A) 228
B) 218
C) 208
- 798 sayısına kaç eklersek 999 sayısına eşit olur?
A) 203
B) 202
C) 201
19. 7 - 0 - 5 rakamlarını birer kez kullanarak yazabileceğimiz en büyük sayı ile en küçük sayının farkı kaçtır?
A) 243
B) 248
C) 253
20. Bir çıkarma işleminde EKSİLEN + ÇIKAN + FARK = 724 ise eksilen sayı kaçtır?
A) 342
B) 352
C) 362

x	5	6	7	8	9
5	25		A		
6		36		B	
7			49		C
8	D			64	
9		E			81

1. Yandaki çarpım tablosunda A, B, C, D, E sayılarının toplamı kaçtır?
A) 245
B) 240
C) 235
2. Yandaki çarpma işleminin sonucu kaçtır? 24
A) 280
B) 284
C) 288
3. Yandaki çarpma işleminin sonucu kaçtır? 47
A) 517
B) 527
C) 537
4. Yandaki çarpma işleminin sonucu kaçtır? 704
A) 1408
B) 418
C) 808
5. Yandaki çarpma işleminin sonucu kaçtır? 209
A) 1872
B) 1672
C) 1572
6. Yandaki çarpma işleminin sonucu kaçtır? 48
A) 1296
B) 1386
C) 1476
7. Yandaki çarpma işleminin sonucu kaçtır? 77
A) 2391
B) 2471
C) 2541
8. Yandaki çarpma işleminde A çarpanı kaçtır? 312
A) 3
B) 4
C) 5
9. $35 \times 10 = 14 \times A$ eşitliğinde A sayısı kaçtır? 312
A) 25
B) 20
C) 15
10. $16 \times 9 = 36 \times A$ eşitliğinde A sayısı kaçtır? 312
A) 3
B) 4
C) 6

11. $22 \times 100 = 110 \times A$ eşitliğinde A çarpma kaçtır?
A) 5
B) 10
C) 20
12. 78 sayısının 100 katı kaçtır?
A) 780
B) 7800
C) 78000
13. 64 sayısının 5 katının 128 fazlası kaçtır?
A) 320
B) 428
C) 448
14. Saatte 80 km hızla giden bir araç 7 saatte kaç km yol gider?
A) 560
B) 540
C) 520
15. Bir havuza dakikada 15 litre su akıtan bir musluk, 1 saatte kaç litre su akıtır?
A) 700
B) 800
C) 900
16. Bir kırtasiyeci 8 düzine kurşun kalem, 5 deste kırmızı kalem satmıştır. Kırtasiyeci kaç kalem satmıştır?
A) 146
B) 136
C) 126
17. Yansı 125 olan sayının 4 katı kaçtır?
A) 750
B) 1000
C) 1250
18. Bir çiftlikte 78 koyun, 126 tavuk vardır. Çiftlikteki hayvanların toplam kaç ayağı vardır?
A) 544
B) 554
C) 564
19. Beyza yeni aldığı kitabından günde 33 sayfa okumaktadır. Kitabını 12 günde bitirdiğine göre kitabı kaç sayfadır?
A) 396
B) 386
C) 376
20. Dakikada ortalama 129 kelime okuyan bir öğrenci, 12 dakikada kaç kelime okuyabilir?
A) 1488
B) 1508
C) 1548

İLKÖĞRETİM 3

MATEMATİK

DOĞAL SAYILARDA BÖLME İŞLEMİ

TEST 27

- Yandaki bölme işleminin sonucu kaçtır?
A) 24
B) 22
C) 20
- Yandaki bölme işleminin sonucu kaçtır?
A) 14
B) 16
C) 18
- Bir sınıfta 42 öğrenci vardır, öğrenciler sıralara ikiye bölünürler. Bu sınıfta kaç sıra vardır?
A) 21
B) 20
C) 19
- Bir kütüphanedeki masaların 76 tane ayağı vardır. Bu kütüphanede kaç masa vardır?
A) 17
B) 18
C) 19
- Yandaki bölme işleminde kalan kaçtır?
A) 4
B) 3
C) 2
- Yandaki bölme işleminde B ile K sayılarının toplamı kaçtır?
A) 33
B) 31
C) 30
- Yandaki bölme işleminde kalan en çok kaç olabilir?
A) 9
B) 8
C) 7
- Yandaki bölme işleminde bölünen kaçtır?
A) 99
B) 100
C) 101
- Bir bölme işleminde bölünen 150, bölünen 4 ise bölüm kaçtır?
A) 38
B) 37
C) 36

$$\begin{array}{r} 72 \overline{) 3} \\ \underline{} \end{array}$$

$$\begin{array}{r} 64 \overline{) 4} \\ \underline{} \end{array}$$

$$\begin{array}{r} 48 \overline{) 5} \\ \underline{} \end{array}$$

$$\begin{array}{r} 95 \overline{) 3} \\ \underline{} \end{array}$$

$$\begin{array}{r} \dots \overline{) 8} \\ \underline{} 12 \\ 5 \end{array}$$

11. $125 \cdot 5 = A$ ise $5 \times A = B$ eşitliğinde B kaçtır?
A) 120
B) 125
C) 130
12. Bir günün üçte birini okulda geçiren bir öğrenci, kaç saatini okulda geçirmiştir?
A) 6
B) 8
C) 12
13. 1 metre uzunluğundaki kurdeleyi 20 cm uzunluğunda 5 parçaya bölmek için kaç defa kesmeliyiz?
A) 4
B) 5
C) 6
14. Bir bakkal 120 kg pirinci 3'er kg'lık torbalara doldurması için kaç torba almalıdır?
A) 30
B) 35
C) 40
15. Üç basamaklı en büyük sayının en büyük rakama bölümü kaçtır?
A) 111
B) 110
C) 101
16. Bir araç 540 km yolu 6 saatte gittiğine göre saatteki hızı kaç km'dir?
A) 70
B) 80
C) 90
17. Çarpımları 959 olan iki sayıdan biri 7 ise diğer çarpan kaçtır?
A) 147
B) 137
C) 127
18. Bir günde 4 saat çalışan bir öğrenci, 1 ayda kaç gün çalışmış olur?
A) 5
B) 4
C) 3
19. Bir bölme işleminde bölen 24 ise kalan en çok kaç olabilir?
A) 25
B) 24
C) 23
20. Bir bölme işleminde bölen 12, bölüm 18 se bölünen en az kaç olabilir?
A) 217
B) 216
C) 215

Bir bütünden yarım yapabilmek için bütünü kaç böleriz?

- A) 4
B) 3
C) 2

2. Bir bütünden çeyrek yapabilmek için bütünü kaç böleriz?

- A) 4
B) 3
C) 2

3. $\frac{1}{3}$ 'ü, 8 olan sayı kaçtır?

- A) 16
B) 24
C) 36

4. $\frac{1}{5}$ 'i, 20 olan sayı kaçtır?

- A) 120
B) 100
C) 80

5. Çeyreği 16 olan sayı kaçtır?

- A) 40
B) 52
C) 64

6. 24 öğrencinin $\frac{2}{3}$ 'ü kızdır. Kız öğrenci sayısı kaçtır?

- A) 8
B) 12
C) 16

7. Orkun 120 sayfalık kitabın $\frac{1}{8}$ 'i okudu. Okumadığı sayfa sayısı kaçtır?

- A) 15
B) 12
C) 10

8. 480 sayısının yansının, yansı kaçtır?

- A) 160
B) 150
C) 120

9. Yansının yansı 20 olan sayı kaçtır?

- A) 80
B) 60
C) 40

10. $\frac{1}{7}, \frac{1}{2}, \frac{1}{5}$ kesirlerinin küçükten büyüğe sıralanmış şekli aşağıdakilerden hangisidir?

- A) $\frac{1}{2} < \frac{1}{5} < \frac{1}{7}$
B) $\frac{1}{7} > \frac{1}{5} > \frac{1}{2}$
C) $\frac{1}{7} < \frac{1}{5} < \frac{1}{2}$

11. 888 sayısının yansının, $\frac{1}{4}$ - o kaçtır?
 A) 222
 B) 111
 C) 55
12. Bir sepette 250 yumurta vardır. Yumurtaların $\frac{1}{4}$ — çatlırsa, geriye sağlam kaç yumurta kalır?
 A) 240
 B) 225
 C) 205
13. Parasının $\frac{1}{4}$ ünü harcayan Selimin 3 YTL'si kalmıştır. Selimin kaç YTL parası vardı?
 A) 9
 B) 10
 C) 12
14. Bir bisikletli gideceği yolun $\frac{1}{4}$ - ünü 1. gün gidiyor. Geriye kalan yolun $\frac{1}{4}$ - ünü 2. gün giden bisikletli 3. gün 24 km giderek yolu tamamlıyor. Bisikletli kaç km yol gitmiştir?
 A) 48
 B) 40
 C) 32
15. Bir çiçekçi satmayı düşündüğü buketlerin $\frac{1}{8}$ ini satınca geriye 28 buket kalıyor. Çiçekçinin kaç buketi vardı?
 A) 48
 B) 40
 C) 32
16. 240 dönüm tarlanın $\frac{1}{4}$ ini nadasa bırakılıyor. Tarlanın ekilen kısmı kaç dönümdür?
 A) 208
 B) 192
 C) 174
17. Bir bahçede 549 ağaç vardır. Bunların $\frac{1}{9}$ vişne ağacıdır. Bahçede kaç tane vişne ağacı vardır?
 A) 61
 B) 60
 C) 59
18. Bir su deposunun $\frac{1}{6}$ - boştur. Su deposuna 20 litre su konulursa depo tamamen doluyor. Bu su deposu kaç litre su almaktadır?
 A) 80
 B) 100
 C) 120
19. — u, 12 olan sayı kaçtır?
 A) 120
 B) 100
 C) 80
20. Bir kamyon 18 ton yük taşıyabiliyor. Kamyonun yansı doluyken ağırlığı 12 ton ise kamyonun boş ağırlığı kaç tondur?
 A) 6
 B) 4
 C) 3

Düz yüzeylere "Düzlem " denir.

Aşağıdakilerden hangisinin yüzeyi düzlem oluşturur?

- A) Sınıfımızdaki yazı tahtası
- B) Futbol topu
- C) Portakal

2 "Düzlem istenilen (sınırsız) büyüklükte olabilir."

- 1. Denizin yüzeyi
- 2. Futbol sahası
- 3. Hava alanı pisti

Yukarıdaki bilgilerden yararlanarak numaralandırılmış ifadelerden hangilerinin düzlem oluşturduğu söylenebilir?

- A) Yalnız 1
- B) 1 ve 2
- C) 1 2 ve 3

- 3. 1. Deftere çizilen dikdörtgen
- 2. Yazı tahtasına çizilen kare
- 3. Pencerenin camı

Yukarıda numaralandırılmış ifadelerden hangilerinin düzlem oluşturduğu söylenebilir?

- A) Yalnız 3
- B) 1 ve 2
- C) 1, 2 ve 3

4. Aşağıdakilerden hangisinin yüzeyi eğridir?

- A) Kapı
- B) Basketbol Topu
- C) İlân panosu

5. Aşağıda yazılan geometrik şekillerden hangisinin yüzeyleri birbirine eşittir?

- A) Küre
- B) Dikdörtgenler prizması
- C) Küp

6. Aşağıdaki geometrik cisimlerden hangisinin açılımı bir düzlem oluşturmaz?

- A) Üçgen prizma
- B) Küre
- C) Dikdörtgenler prizması

- 7. 1. DOĞRU a. •——•
- 2. İŞİN b. ———
- 3. DOĞRU PARÇASI c. .——•

Yukarıda numaralandırılmış ifadelerin harflendirilmiş çizgi modellerle eşleştirilmiş hâli aşağıdakilerden hangisidir?

- | | | |
|------|---|---|
| 1 | 2 | 3 |
| A) a | b | c |
| B) b | c | a |
| C) c | b | a |

8.

Yukarıda çizili doğrular bir düzlemde hangi durumda bulunmaktadır?

- A) Birbirlerine paralel
- B) Birbirlerini keserler
- C) Birbirleriyle çakışık

9.



Yukarıda çizili doğrular bir düzlemde hangi durumda bulunmaktadır?

- A) Birbirlerine paralel
- B) Birbirlerini keserler
- C) Birbirleriyle çakışık

10.

Yukarıda çizili doğrular bir düzlemde hangi durumda bulunmaktadır?

- A) Birbirlerine paralel
- B) Birbirlerini keserler
- C) Birbirleriyle çakışık

11. Aşağıdakilerden hangisi paralel doğrulara örnek değildir?

- A) Sınıftaki yazı tahtasının pencere ve kapı tarafındaki kenarları
- B) Pencerenin üstü ve altı
- C) Defterimin kısa kenarı ile uzun kenarı

12. Aşağıdakilerden hangisi kesişen doğrulara örnek değildir?

- A) Kitabımın kısa kenarı ile uzun kenarı
- B) Sıranın uzun kenarı ile kısa kenarı
- C) Masanın yanyana iki ayağı

13. Aşağıdakilerden hangisi çakışan iki doğruya örnektir?

- A) Tahtanın uzun kenarı ile kısa kenarı
- B) Masanın yanyana iki ayağı
- C) Defterimdeki çizgilerden birinin üstünden çizdiğim çizgi

14. Aşağıdakilerden hangisi yatay doğruya örnektir?

- A) Tahtanın yere yakın olan uzun kenarı
- B) Masanın ayaklarından birisi
- C) Bayrak direği

15. Aşağıdakilerden hangisi eğik doğruya örnektir?

- A) Bayrak direği
- B) Merdiven korkuluğu
- C) Tahtanın yere yakın olan uzun kenarı

16. Aşağıdakilerden hangisi dikey doğruya örnek değildir?

- A) Bayrak direği
- B) Masanın ayaklarından birisi
- C) Tahtanın yere yakın olan uzun kenarı

17. Aşağıdakilerden hangisi açığa örnek değildir?

- A) Saatin akrep ile yelkovanının "Dört buçuğu" göstermesi
- B) İşaret parmağım ile orta parmağımı makas ucu gibi açmam.
- C) Tahtanın iki uzun kenarının birbirlerine göre duruşu

1. Üçgenler için aşağıdaki ifadelerden hangisi yanlıştır?

- A) Köşe ve açı sayısı üçtür.
B) Kenar sayısı üçtür.
C) Kenar sayısı üçten fazladır.

2. Kare ve dikdörtgen için aşağıdaki ifadelerden hangisi yanlıştır?

- A) Köşe ve açı sayısı dörttür.
B) Kenar sayısı dörttür.
C) Açılırları dar açıdır.



3. 1. Köşesi yoktur.
2. Açısı yoktur.
3. Çevresi bir çember belirtir.


"Gülen Surat" için yukandaki ifadelerden hangileri doğrudur?

- A) Yalnız 3
B) 1 ve 2
C) 1, 2 ve 3

4. Şekildeki ABCD karesinin çevresi 20 cm ise bir kenar kaç cm'dir?

- A) 4 B) 5 C) 6

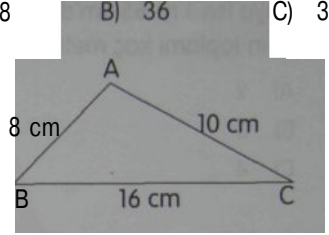
5.



Şekildeki ABCD dikdörtgeninin çevresi kaç cm' dir?

- A) 38 B) 36 C) 34

6.



Şekildeki ABC üçgeninin çevresi kaç cm'dir?

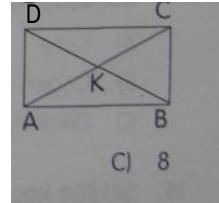
- A) 34 B) 36 C) 38

7. Bir kenar uzunluğu 24 cm olan karenin çevresi kaç cm'dir?

- A) 94 B) 96 C) 98

8. Şekildeki ABCD dikdörtgeni içerisinde kaç tane üçgen vardır?

- A) 4 B) 6 C) 8



9. $100 \text{ cm} = ? \text{ m}$ eşitliğinde ? yerine **aşağıdakilerden** hangisi yazılmalıdır?

- A) $1/2$ B) M C) |

10. $12\text{ m} = ?\text{ cm}$ eşitliğinde ? yerine aşağıdakilerden hangisi yazılmalıdır?

A) 12
B) 120
C) 1200

11. Bir kanş 20 cm olan Deniz, 1 metreyi ölçmek için kaç kanş kullanmalıdır?

A) 4
B) 5
C) 6

12. Sartier'in boyu $1\text{ m } 45\text{ cm}$, Göksel'in boyu ise $1\text{ m } 55\text{ cm}$ 'dir. İkinin boylarının toplamı kaç metredir?

A) 2
B) 3
C) 4

13. Sınıfımızın boyu $8\text{ m } 35\text{ cm}$, eni ise $4\text{ m } 65\text{ cm}$ 'dir. Sınıfımızın çevresi kaç metredir?

A) 26
B) 25
C) 24

14. "Dört kenarı ve dört köşesi" olan şeklin adı aşağıdakilerden hangisi olamaz?

A) Kare
B) Üçgen
C) Dikdörtgen

15. Şekilde kaç tane kare vardır?

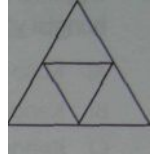
A) 4
B) 5
C) 6

16. Bir adımı 30 cm olan Damla, 3 metre-yi ölçmek için kaç adım atmalıdır?

A) 8
B) 9
C) 10

17. Şekilde kaç tane üçgen vardır?

A) 6
B) 5
C) 4



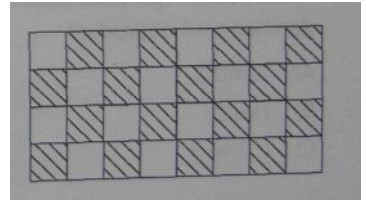
18. Boyu 120 cm olan fidan her yıl 20 cm uzamaktadır. Kaç yıl sonra boyu 3 m olur?

A) 7
B) 8
C) 9

19. Bir kenarı 225 m olan kare şeklindeki bir bahçenin çevresi kaç metredir?

A) 1000
B) 900
C) 800

- 20.



Siyah ve beyaz fayanslarla döşenmiş yukarıdaki duvarda kaç tane fayans vardır?

A) 28
B) 32
C) 36

1. Ahmefin 12 YTL'si vardır. 4 YTL'ye bo-
ya kalemleri, 3 YTL'ye de resim defteri
alan Ahmetin kaç YTL'si kalmıştır?

A) 4 B) 5 0 6

2. 6 tane 25 YKR ile 3 tane 50 YKR toplama
kaç YTL'dir?

A) 3 B) C) 5

3. Tanesi 9 YKR olan yumurtalardan 300
tane alan Ayşe Teyze kaç YTL ödemiştir?

A) 29
B) 28
C) 27

4. Tanesi 50 YKR olan kalemlerin bir dü-
zinesi kaç YTL'dir?

A) 5 B) 6 0 7

5. Ali'nin cebinde 5 tane 25 YKR, 3 tane
50 YKR ve 2 tane 1 YTL parası var. 5
YTL'ye kitap almak isteyen Ali'nin bu
alışverişi sonunda aşağıdakilerden
hangisi doğru olur?

A) 25 YKR para üstü alır.
B) Parası yeterli gelmiştir.
C) Parası 25 YKR eksiktir.

- 2 sa 2 dk = ? dk eşitliğinde ? yerine
aşağıdakilerden hangisi yazılmalıdır?

A) 102
B) 122
C) 142

- 1 saatin $\frac{1}{6}$ sı kaç dakikadır?

A) 8
B) 10
C) 12

8. Günde 6 saatini okulda geçiren bir öğ-
renci günün kaçta kaçını okulda geçir-
miştir?

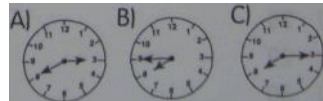
A) $\frac{1}{2}$ » j C) $\frac{1}{4}$

9. Yandaki saatin gösterdiği
zaman aşağıdakilerden
hangisidir?



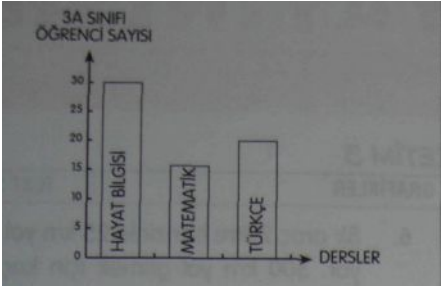
A) 13:25
B) 13:30
C) 13:35

10. Aşağıdaki saatlerden hangisi "Sekizi
çeyrek geçiyor." ifadesiyle okunur?



- Yandaki saatin gösterdiği zaman nasıl söylenir?
- A) Beşe beş var.
B) Beşi beş geçiyor.
C) Beşte beş
12. Saatte 90 km hızla giden bir araç 5 saatte kaç km yol gider?
- A) 360
B) 450
C) 540
13. "Saat Yediyi On Geçiyor." ifadesinden 45 dakika sonra zaman nasıl söylenir?
- A) Sekizi beş geçiyor.
B) Sekize beş var
C) Sekiz
14. Fındığın kilosu 24 YTL'dir. 250 gr fındığın fiyatı kaç YTL'dir?
- A) 12
B) 8
0 6 .
15. Kilosu 70 YKR olan domatesin 40 kilogramı kaç YTL'dir
- A) 28
B) 29
C) 30
16. 8 kg fındık 100 gramlık poşetlere konulacaktır. Bunun için kaç poşet gereklidir?
- A) 80
B) 40
C) 32
17. 2850 gram =kg.....gr eşitliğinde noktalı yerlere aşağıdakilerden hangisi yazılır?
- A) 2 kg 85 gr
B) 2 kg 850 gr
C) 20 kg 85 gr
18. 40 tane 50 gram kaç kg'dır?
- A) 2000
B) 20
C) 2
19. 125 gramlık paketler hâlinde satılan şekerlemelerin fiyatı 250 YKR'dur. Şekerlemenin kg kaç YTL'dir?
- A) 12
B) 16
C) 20
20. Yunus'un ağırlığı 26 kg'dır. Ablası Yunus'un 2 katı ağırlığındadır. Annesi ise ablasından 14 kg daha ağırdır. Yunus'un annesinin ağırlığı kaç kg'dır?
- A) 62
B) 64
C) 66

- Yarım litrelik 8 paket süt alan Selma, kaç litre süt almıştır?
- A) 2
B) 3
C) 4
2. Haftada 4 litre süt alan Ayşe Teyze, ayda kaç litre süt alır?
- A) 20
B) 16
C) 12
3. Çiftlikteki bir inek günde 12 litre süt vermektedir. Bir haftalık sütünü yarım litrelik şişelere doldurmak için kaç şişe gerekir?
- A) 172
B) 170
C) 168
4. 2 su bardağı çeyrek litre süt ile dolduruluyor. 4 litre sütü kaç su bardağına doldurabiliriz?
- A) 32
B) 36
C) 40
5. Bir kova 12 litre su almaktadır. 600 litrelik su deposunu doldurmak için kaç kova su taşınmalıdır?
- A) 5
B) 50
C) 500
6. Bir araç 2 litre benzinle 25 km yol gidiyor. 500 km yol gitmek için kaç litre benzin gerekir?
- A) 4
B) 40
C) 400
7. 120 litrelik depodaki suyu, 5 litrelik şişelere boşaltmak için kaç şişe gerekir?
- A) 24
B) 25
C) 30
8. 8 litrenin $\frac{1}{4}$ -ö kaç litredir?
- A) 4
B) 2
C) 1
9. 5 litre = ? yarım litre eşitliğinde ? yerine aşağıdakilerden hangisi yazılmalıdır?
- A) 8
B) 10
C) 12
10. 18 yarım litre = ? litre eşitliğinde ? yerine hangisi yazılmalıdır?
- A) 7
B) 8
C) 9



Yukarıdaki grafik üç dersten başarılı olan 3-A sınıfındaki öğrencileri göstermektedir.

11,12,13,14 ve 15. sorulan grafiğe göre yanıtlayınız.

11. 3 - A sınıfı en çok hangi dersten başarılıdır?

A) Türkçe
B) Hayat Bilgisi
C) Matematik

12. 3 - A sınıfı en az hangi dersten başarılıdır?

A) Türkçe
B) Matematik
C) Hayat Bilgisi

13. Aşağıdaki bilgilerden hangisi yanlıştır?

A) Türkçe dersinden 20 öğrenci başarılıdır.
B) Matematik dersinden 10 öğrenci başarılıdır.
C) Hayat Bilgisi dersinden 30 öğrenci başarılıdır.

14. Aşağıdaki bilgilerden hangisi yanlıştır?

A) 3 - A sınıfında 30 öğrenci vardır.
B) Sınıfın yarısı matematikten başarılıdır.
C) Türkçe dersinden 15 öğrenci başa-

rıszdır.

15. Aşağıdaki bilgilerden hangisi doğrudur?

A) Hayat Bilgisinden başarısız öğrenci yoktur.
B) Matematik dersinden 10 öğrenci başarısızdır.
C) Türkçe dersinden 20 öğrenci başarısızdır.

VIŞNE	
KIRAZ	
ELMA	

Yukarıdaki tabloda her ağaç 25 ağacı göstermektedir.

16,17,18. sorulan tabloya göre yanıtlayınız.

16. Hangi meyve ağacı daha çoktur?

A) Elma
B) Kiraz
C) Vişne

17. Hangi meyve ağacı daha azdır?

A) Elma
B) Kiraz
C) Vişne

18. Aşağıdaki bilgilerden hangisi doğrudur?

A) 150 tane elma ağacı vardır.
B) 100 tane kiraz ağacı vardır.
C) 75 tane vişne ağacı vardır.

İLKÖĞRETİM 3 CEVAP ANAHTARI

TEST-1			TEST-2			TEST-3			TEST-4		
1. B	8. t	15. C	1. C	S. B	15. C	1. C	8. C	15. C	1. B	8. C	15. C
2. A	9. B		2. B	9. C		2. C	9. A		2. C	9. C	
3. B	10. C		3. C	10. B		3. B	10. B		3. A	10. B	
4. d	11. A		4. B	11. B		4. B	11. A		4. C	11. C	
5. A	12. B		5. C	12. C		5. A	12. C		5. B	12. A	
6. C	13. B		6. A	13. C		6. B	13. A		6. C	13. B	
7. B	14. A		7. C	14. C		7. A	14. B		7. A	14. B	

TEST-5			TEST-6			TEST-7			TEST-8		
1. C	8. B	15. B	1. A	e. C	15. B	1. A	8. C	15. A	1. C	8. C	15. B
2. A	9. C		2. C	9. C		2. A	9. B		2. A	9. A	
3. B	10. C		3. C	10. B		3. B	10. A		3. A	10. C	
4. B	11. B		4. B	11. A		4. C	11. B		4. B	11. C	
5. B	12. B		5. C	12. B		5. B	12. C		5. C	12. A	
6. A	13. C		6. B	13. C		6. C	13. A		6. B	13. B	
7. B	14. B		7. C	14. B		7. B	14. C		7. A	14. C	

TEST-9			TEST-10			TEST-11			TEST-12		
1. B	8. C	15. C	1. B	8. C	15. C	1. B	8. C	15. A	1. A	8. A	15. C
2. B	9. A		2. B	9. A		2. C	9. A		2. C	9. B	16. C
3. C	10. A		3. C	10. C		3. -B	10. C		3. B	10. B	17. A
4. C	11. B		4. C	11. A		4. B	11. A		4. A	11. A	18. B
5. A	12. A		5. C	12. B		5. A	12. C		5. B	12. C	
6. A	13. B		6. B	13. A		6. C	13. C		6. A	13. B	
7. B	14. C		7. C	14. B		7. B	14. B		7. B	14. C	

TEST-13			TEST-14			TEST-15			TEST-16		
1. C	8. B	15. C	1. B	8. A	15. B	1. C	8. B	15. B	1. B	8. B	15. C
2. B	9. C		2. C	9. C		2. B	9. C		2. C	9. B	
3. A	10. B		3. B	10. C		3. C	10. A		3. C	10. C	
4. C	11. B		4. A	11. B		4. B	11. C		4. A	11. C	
S. B	12. A		5. A	12. C		S. A	12. C		5. C	12. A	
6. B	13. A		6. C	13. C		S. B	13. B		6. B	13. C	
7. C	14. C		7. B	14. B		7. B	14. C		7. A	14. B	

İLKÖĞRETİM 3 CEVAP ANAHTARI

[TEST-17]				TEST- 18				TEST-19				TEST - 20			
1. C	2. b	3. A	4. C	5. B	6. B	7. B	8. B	9. C	10. B	11. B	12. C	13. A	14. C	15. B	
1. B	2. C	3. A	4. B	5. A	6. B	7. C	8. B	9. A	10. C	11. B	12. B	13. C	14. C	15. C	
1. C	2. b	3. A	4. C	5. B	6. B	7. B	8. B	9. A	10. C	11. B	12. B	13. C	14. C	15. B	

TEST - 21				TEST - 22				TEST - 23				TEST - 24																
1. B	8. B			1. A				15. B			1. A			8. A			15. 0			1. B			8. B			15. C		
2. C	9. C			2. B							2. B			9. C			16. C			2. C			9. C			16. A		
3. B	10. A			3. C				9. A			3. A			10. A			17. A			3. B			10. A			17. C		
4. B	11. B			4. B				11. B			4. C			11. A			16. B			4. A			11. C			18. B		
5. C	12. B			5. B				12. C			5. B			12. C			19. B			5. C			12. B					
6. C	13. A			6. A				13. B			6. B						20. A			6. A			13. B					
7. B				7. B				14. C			7. C			14. C						7. B			14. A					

TEST - 25						TEST - 26					TEST - 27						TEST - 28																						
1. A	2. C	3. C	4. B	5. A	6. C	7. B	8. A	9. B	10. A	11. C	12. B	13. A	14. B	15. B	16. A	17. B	18. C	19. A	20. C	1. B	2. C	3. A	4. A	5. B	6. A	7. C	8. C	9. A	10. B	11. C	12. B	13. C	14. A	15. C	16. A	17. B	18. C	19. A	20. C

		TEST - 29										TEST - 30										TEST - 31								TEST - 32									
1.	A	2.	A	3.	A	4.	A	5.	B	6.	B	7.	B	8.	A	9.	B	10.	C	11.	C	12.	C	13.	A	14.	A	15.	B	16.	C	17.	B	18.	C	19.	B	20.	C
2.	C	3.	C	4.	B	5.	C	6.	B	7.	B	8.	C	9.	B	10.	C	11.	B	12.	B	13.	B	14.	C	15.	A	16.	A	17.	B	18.	C	19.	C	20.	C		
3.	C	4.	B	5.	C	6.	B	7.	B	8.	C	9.	B	10.	C	11.	B	12.	B	13.	B	14.	C	15.	A	16.	A	17.	B	18.	C	19.	C	20.	C				
4.	B	5.	C	6.	B	7.	B	8.	C	9.	B	10.	C	11.	B	12.	B	13.	B	14.	C	15.	A	16.	A	17.	B	18.	C	19.	C	20.	C						
5.	C	6.	B	7.	B	8.	C	9.	B	10.	C	11.	B	12.	B	13.	B	14.	C	15.	A	16.	A	17.	B	18.	C	19.	C	20.	C								
6.	B	7.	B	8.	C	9.	B	10.	C	11.	B	12.	B	13.	B	14.	C	15.	A	16.	A	17.	B	18.	C	19.	C	20.	C										
7.	B	8.	A	9.	B	10.	C	11.	C	12.	C	13.	A	14.	A	15.	B	16.	C	17.	B	18.	C	19.	C	20.	C												
8.	A	9.	B	10.	C	11.	C	12.	C	13.	A	14.	A	15.	B	16.	C	17.	B	18.	C	19.	C	20.	C														
9.	B	10.	C	11.	C	12.	C	13.	A	14.	A	15.	B	16.	C	17.	B	18.	C	19.	C	20.	C																
10.	C	11.	C	12.	C	13.	A	14.	A	15.	B	16.	C	17.	B	18.	C	19.	C	20.	C																		
11.	C	12.	C	13.	A	14.	A	15.	B	16.	C	17.	B	18.	C	19.	C	20.	C																				
12.	C	13.	A	14.	A	15.	B	16.	C	17.	B	18.	C	19.	C	20.	C																						
13.	A	14.	A	15.	B	16.	C	17.	B	18.	C	19.	C	20.	C																								
14.	A	15.	B	16.	C	17.	B	18.	C	19.	C	20.	C																										
15.	B	16.	C	17.	B	18.	C	19.	C	20.	C																												
16.	C	17.	B	18.	C	19.	C	20.	C																														
17.	B	18.	C	19.	C	20.	C																																
18.	C	19.	C	20.	C																																		
19.	C	20.	C																																				
20.	C																																						