



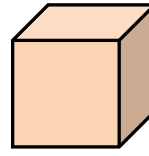
### TÜRKÇE DERSİ SORULARI

1. "hüseyindünakşamsinopagitti" cümlesinin doğru yazılışı hangisidir?  
A) Hüseyin dün akşam Sinoba gitti.  
B) Hüseyin dün akşam Sinop'a gitti.  
C) hüseyin dün akşam sinopa gitti.
2. Aşağıdaki söz gruplarından hangisi, bir varlığın **seklini** bildiriyor?  
A) mavi deniz  
B) yuvarlak masa  
C) üçüncü çocuk
3. "Fatih, nihayet doğru cevabı buldu." cümlesinde altı çizili sözcüğün yerine hangisi yazılırsa anlam değişmez?  
A) kolayca  
B) çalışmadan  
C) sonunda
4. Aşağıdaki cümlelerin hangisinde özel isim yoktur?  
A) Sen de benimle kantine gelir misin?  
B) Ahmet, her sabah erken kalkar.  
C) Bu yaz Pamukkale'ye gideceğiz.
5. Aşağıdaki seçeneklerin hangisinde "dolu" kelimesi **farklı** bir anlamda kullanılmıştır?  
A) Sepetin içi muz dolu idi.  
B) Dün akşam köye dolu yağmış.  
C) Dolu, felakete sebep oldu.
6. "Yeni arkadaşım çok nazik birisidir." Cümlesinde altı çizili sözcüğün **zıt (karşıt)** anlamı hangisidir?  
A) kibar  
B) saygılı  
C) kaba
7. "komşuna – gelir – gülme – başına" sözcükleriyle anlamlı bir atasözü oluşturduğumuzda **en sondaki** sözcük hangisi olur?  
A) gelir  
B) başına  
C) komşuna

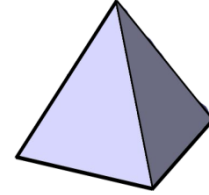
8. "Mehmet, dün akşam ödevini **tamamlamak için geç saatlere kadar çalıştı.**" Cümlesinde hangi sorunun cevabı yoktur  
A) kim  
B) niçin  
C) nerede

### MATEMATİK DERSİ SORULARI

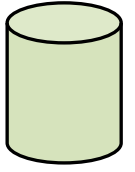
9. Aşağıdaki şekillerden hangisinin köşesi ve ayrıtı yoktur?



A)



B)



C)

10. Aşağıdaki bilgilerden kaç tanesi doğrudur?  
I. Yaz mevsiminin ayları haziran, temmuz ve ağustostur.  
II. Bir yılda 52 hafta vardır.  
III. Bir gün 12 saattir.  
IV. Yeni yıl ocak ayı ile başlar.  
V. Bir yılda 7 mevsim vardır.

A) 3

B) 4

C) 5

11. Bir bakkal birinci gün **27** ekmek, ikinci gün **32** ekmek, üçüncü gün ise **26** ekmek sattı. Bu bakkal üç günde toplam kaç ekmek satmıştır?  
A) 94  
B) 85  
C) 76

12. Pınar, geçen yaz Antalya'da **2 hafta 5 gün** tatil yaptı. Pınar, Antalya'da toplam kaç gün kalmıştır?  
A) 8 gün  
B) 19 gün  
C) 21 gün

13. Aşağıda çözümlenmiş olarak verilen iki doğal sayının toplamı kaçtır?

$$\begin{array}{r} 5 \text{ onluk} + 9 \text{ birlik} \\ + 3 \text{ onluk} + 7 \text{ birlik} \\ \hline \end{array}$$

A) 96

B) 86

C) 75

14.



Yandaki kovada bulunan suyu aşağıdakilerden hangisiyle ölçmek daha uzun sürer?

A)



B)



C)



15.

“14 – 18 – 22 – 25 – 30 – 34 – 38” sayı örüntüsünde, kuralı bozan sayı hangisidir? Bu sayının yerine hangi sayı yazılmalıdır?

- A) 18'in yerine 19 yazılmalı  
B) 34'ün yerine 33 yazılmalı  
C) 25'in yerine 26 yazılmalı

16.

Bir karışı 16 santimetre olan Erdem'in, 3 karışı kaç santimetredir?

- A) 48 cm B) 45 cm C) 18 cm

17.



25 TL

I



8 TL

II



17 TL

III

Orhan'ın 35 TL. parası var. Yukarıdaki oyuncaklardan hangilerini alırsa parası yetmez?

- A) I + II B) I + III C) II + III

### HAYAT BİLGİSİ DERSİ SORULARI

18.

Aşağıdakilerden hangisi gövdemizde bulunan bir organ değildir?

- A) kalp B) burun C) mide

19.

Aşağıdakilerden hangisi bizim için çalışan insanların işlerini zorlaştırır?

- A) Kurallara uymak.  
B) Görevlilere karşı saygılı olmak.  
C) Çevreyi kirletmek.

20.

Aşağıdakilerden hangisi yanlıştır?

- A) Açıkta satılan yiyecekleri yemek.  
B) Meyveleri yıkayarak yemek.  
C) Soğuk havalarda kalın giysiler giymek.

21.

Ailede ilişkilerle ilgili aşağıdaki açıklamalardan hangisi doğrudur?

- A) Ailede sadece babanın dediği olmalıdır.  
B) Ailede çocukların düşünceleri önemli değildir.  
C) Aile bireyleri birbirlerine saygılı olmalıdır.

22.

Hemşirelik ve doktorluk hangi meslek grubuna girer?

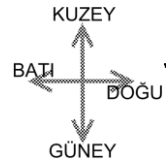
- A) Sanat  
B) Güvenlik  
C) Sağlık

23.

“**Babam; mavi gözlü, kıvrırcık saçlıdır. Ben, yeşil gözlü ve sarışınım. Kardeşimin ise gözleri kahverengi ve saçları siyahtır.**” Yukarıdaki anlatımda hangi özellikten söz edilmemiştir?

- A) saç şekli  
B) vücut yapısı  
C) göz rengi

24.



Resme göre hangisi doğrudur?

- A) Ağaç, evin kuzeyindedir.  
B) Ev, ağacın batısındadır.  
C) Ağaç, evin batısındadır.

25.




“Benim tıpkı babama benzediğimi söylerler. Hele saçlarım, tıpkı babamın saçları...” diyen çocuğun babasının resmi aşağıdakilerden hangisi olabilir?

A)



B)



C)



Her soru 4 (dört) puandır.  
CEVAPLARINIZI KONTROL EDİNİZ

*S. Ocak*  
Süleyman OCAK  
Uzman Sınıf Öğretmeni

Bafra Gazi  
İlköğretim Okulu  
2 / B Sınıfı  
Genel  
Değerlendirme  
Sınavı -12

Adı: .....  
Soyadı: .....

- 1 (A) (B) (C)
- 2 (A) (B) (C)
- 3 (A) (B) (C)
- 4 (A) (B) (C)
- 5 (A) (B) (C)
- 6 (A) (B) (C)
- 7 (A) (B) (C)
- 8 (A) (B) (C)
- 9 (A) (B) (C)
- 10 (A) (B) (C)
- 11 (A) (B) (C)
- 12 (A) (B) (C)
- 13 (A) (B) (C)
- 14 (A) (B) (C)
- 15 (A) (B) (C)
- 16 (A) (B) (C)
- 17 (A) (B) (C)
- 18 (A) (B) (C)
- 19 (A) (B) (C)
- 20 (A) (B) (C)
- 21 (A) (B) (C)
- 22 (A) (B) (C)
- 23 (A) (B) (C)
- 24 (A) (B) (C)
- 25 (A) (B) (C)

Doğru:

Yanlış:

PUAN:

Bafra Gazi  
İlköğretim Okulu  
2 / B Sınıfı  
Genel  
Değerlendirme  
Sınavı - 12

Adı: .....  
Soyadı: .....

- 1 (A) (B) (C)
- 2 (A) (B) (C)
- 3 (A) (B) (C)
- 4 (A) (B) (C)
- 5 (A) (B) (C)
- 6 (A) (B) (C)
- 7 (A) (B) (C)
- 8 (A) (B) (C)
- 9 (A) (B) (C)
- 10 (A) (B) (C)
- 11 (A) (B) (C)
- 12 (A) (B) (C)
- 13 (A) (B) (C)
- 14 (A) (B) (C)
- 15 (A) (B) (C)
- 16 (A) (B) (C)
- 17 (A) (B) (C)
- 18 (A) (B) (C)
- 19 (A) (B) (C)
- 20 (A) (B) (C)
- 21 (A) (B) (C)
- 22 (A) (B) (C)
- 23 (A) (B) (C)
- 24 (A) (B) (C)
- 25 (A) (B) (C)

Doğru:

Yanlış:

PUAN:

Bafra Gazi  
İlköğretim Okulu  
2 / B Sınıfı  
Genel  
Değerlendirme  
Sınavı - 12

Adı: .....  
Soyadı: .....

- 1 (A) (B) (C)
- 2 (A) (B) (C)
- 3 (A) (B) (C)
- 4 (A) (B) (C)
- 5 (A) (B) (C)
- 6 (A) (B) (C)
- 7 (A) (B) (C)
- 8 (A) (B) (C)
- 9 (A) (B) (C)
- 10 (A) (B) (C)
- 11 (A) (B) (C)
- 12 (A) (B) (C)
- 13 (A) (B) (C)
- 14 (A) (B) (C)
- 15 (A) (B) (C)
- 16 (A) (B) (C)
- 17 (A) (B) (C)
- 18 (A) (B) (C)
- 19 (A) (B) (C)
- 20 (A) (B) (C)
- 21 (A) (B) (C)
- 22 (A) (B) (C)
- 23 (A) (B) (C)
- 24 (A) (B) (C)
- 25 (A) (B) (C)

Doğru:

Yanlış:

PUAN:

Bafra Gazi  
İlköğretim Okulu  
2 / B Sınıfı  
Genel  
Değerlendirme  
Sınavı - 12

Adı: .....  
Soyadı: .....

- 1 (A) (B) (C)
- 2 (A) (B) (C)
- 3 (A) (B) (C)
- 4 (A) (B) (C)
- 5 (A) (B) (C)
- 6 (A) (B) (C)
- 7 (A) (B) (C)
- 8 (A) (B) (C)
- 9 (A) (B) (C)
- 10 (A) (B) (C)
- 11 (A) (B) (C)
- 12 (A) (B) (C)
- 13 (A) (B) (C)
- 14 (A) (B) (C)
- 15 (A) (B) (C)
- 16 (A) (B) (C)
- 17 (A) (B) (C)
- 18 (A) (B) (C)
- 19 (A) (B) (C)
- 20 (A) (B) (C)
- 21 (A) (B) (C)
- 22 (A) (B) (C)
- 23 (A) (B) (C)
- 24 (A) (B) (C)
- 25 (A) (B) (C)

Doğru:

Yanlış:

PUAN:

Bafra Gazi 10 - Süleyman ÖCAK