



### TÜRKÇE DERSİ SORULARI

1. Aşağıdaki cümlelerin hangisinde noktalama işareti **yanlış** kullanılmıştır?

- A) Semra hikaye kitabı aldı mı?
- B) Mete,nin saçları kirlenmiş.
- C) Zehra, Tuğba ve Kevser ders çalıştı.

2. “**Sonra dişlerini fırçalamaya gitti.**” Bu cümle aşağıdaki cümlelerin hangisinden sonra söylenebilir?

- A) Önce kahvaltısını yaptı.
- B) En sonunda yatağına erkenden gitti.
- C) Daha sonra sütünü içti.

3. Aşağıdaki cümlelerin hangisinde **hoşlanma** anlamı vardır?

- A) Eyvah! Yine sözlüğümü unutmuşum.
- B) Başım ağrırken film seyredeyemem.
- C) Babamla balık tutmaktan zevk alırım.

4. “**Gökhan, ikinci sınıfa devam etmektedir.**” Cümlesinin rakam kullanılarak doğru yazılışı hangisidir?


- A) Gökhan, 2. sınıfa devam etmektedir.
- B) Gökhan, 2 sınıfa devam etmektedir.
- C) Gökhan, 2 inci sınıfa devam etmektedir.


5.




Dün akşam çok ödevim vardı.

Emine, aşağıdaki öğrencilerden hangisinin sorusunu cevaplamıştır?

A)  Dün akşam niçin ödev yaptın?

B)  Dün akşam ödevini nerede yaptın?

C)  Dün akşam ne kadar ödevin vardı?

6. Aşağıdaki cümlelerin hangisinde **karşıt (zıt)** anlamlı sözcükler bir arada kullanılmıştır?

- A) Fatih, küçük botlarını kardeşine verdi.
- B) Halit, eski çorabını bırakıp yenisini giydi.
- C) Serdar, taze ekmek almaya gidiyor.

7. “**Bekir, Ömer, Osman ve Ali karne tatilinde Bursa’ya gidip Uludağ’da kayak kayacaklar.**” Cümlesinde kaç tane özel isim vardır?

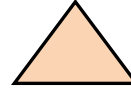
- A) 4
- B) 5
- C) 6

8. Altı çizili sözcüklerden hangisi sözlük sıralamasında **en önde** yer alır?

- A) Babam bu sabah berbere gitti.
- B) Evin balkonuna kilim sermiş.
- C) Buzdolabında yumurta kalmamış.

### MATEMATİK DERSİ SORULARI

9. Aşağıdaki iki şekilde toplam kaç kenar ve köşe vardır?



- A) 7 kenar, 7 köşe
- B) 8 kenar, 8 köşe
- C) 8 köşe, 7 kenar

10. Aşağıdaki bilgilerden kaç tanesi doğrudur?

- I. Bir yılda 4 mevsim vardır.
- II. Bir haftada 12 gün vardır.
- III. En az gün şubat ayında vardır.
- IV. Her mevsimde 3 ay vardır.
- V. Yeni yıl, 1 Aralık’ta başlar.

- A) 5
- B) 4
- C) 3

11. Dün pazartesi ise yarın günlerden ne olacaktır?

- A) çarşamba
- B) perşembe
- C) salı

12. Ayşe, perşembe günü doktora gitti. Doktor muayene ettikten sonra kontrol için 5 gün sonra tekrar gel dedi. Acaba Ayşe, hangi gün doktora gidecek?

- A) pazartesi
- B) salı
- C) perşembe

13. Aşağıda çözümlenmiş olarak verilen iki doğal sayının toplamı kaçtır?

$$\begin{array}{r} 4 \text{ onluk} + 6 \text{ birlik} \\ + 3 \text{ onluk} + 2 \text{ birlik} \\ \hline \end{array}$$

- A) 78
- B) 67
- C) 58

14.



Yandaki sürahi 4 bardak su almaktadır. Üç sürahiyi doldurmak için kaç bardak suya ihtiyacımız vardır?

- A) 8 B) 10 C) 12

15. Aşağıdakilerden kaç tanesini litre kabıyla ölçebiliriz?

ekmek	kolonya	karpuz
meyve suyu	limonata	tuz
süt	bisküvi	benzin

- A) 4 B) 5 C) 6

16. İlkbahar mevsiminde toplam kaç gün vardır?

- A) 90 gün B) 91 gün C) 92 gün

17.

ÇİÇEKLER	Öğrenci Sayıları						
Papatya	😊	😊	😊	😊	😊		
Menekşe	😊	😊	😊	😊			
Gül	😊	😊	😊	😊	😊	😊	😊
Karanfil	😊	😊	😊				

Yukarıdaki nesne grafiğine göre en sevilen çiçek hangisidir?

- A) Gül B) Papatya C) Menekşe

### HAYAT BİLGİSİ DERSİ SORULARI

18. Aşağıdakilerden hangisinin çalıştığı kurum diğerlerinden farklıdır?

- A) doktor B) hemşire C) öğretmen

19. "Rabia, her akşam güneşin batışını odasından seyrediyor." Buna göre Rabia'nın odası hangi yöndedir?

- A) Kuzey B) Batı C) Güney

20.

I) Evimizin adresi

II) Babamızın telefon numarası

III) Evimizin kaçınıcı katta olduğu

Kaybolduğumuzda yukarıdaki bilgilerin hangisi işimize yaramaz?

- A) I B) II C) III

21.

"Vücudumuzun bütün bölümlerini ..... yönetir." Cümlesindeki noktalı yere ne yazılmalıdır?

- A) beynimiz B) kalbimiz C) midemiz

22.

Aşağıdakilerden hangisiyle dedemiz ve ninemiz çocukken oynamış olamaz?



A)



B)



C)


23.

"Fatma, bu sabah bahçede bir gül gördü. Gülü eliyle kopardı ve kokladı."

Fatma bu işleri yaparken hangi duyu organlarını kullanmıştır?

- A) göz, deri, burun  
B) dil, burun, göz  
C) kulak, deri, burun

24.



Ferit

Serkan

Engin

Resme göre hangisi yanlıştır?

- A) En önde Engin vardır.  
B) Engin'in arkasında Serkan oturuyor.  
C) Serkan, Ferit'in arkasında oturuyor.

25.

Aşağıdakilerden hangisi doğrudur?

- A) Geceleri istediğimiz saatte uyumalıyız.  
B) Başarılı olmak için plân yapmalıyız.  
C) Zamanımızı hep oyun oynayarak geçirmeliyiz.

Her soru 4 (dört) puandır.  
CEVAPLARINIZI KONTROL EDİNİZ

*S. Ocak*  
Süleyman OCAK  
Uzman Sınıf Öğretmeni

Bafra Gazi  
İlköğretim Okulu  
2 / B Sınıfı  
Genel  
Değerlendirme  
Sınavı - 11

Adı: .....  
Soyadı: .....

- 1 ☐ A ☐ B ☐ C
- 2 ☐ A ☐ B ☐ C
- 3 ☐ A ☐ B ☐ C
- 4 ☐ A ☐ B ☐ C
- 5 ☐ A ☐ B ☐ C
- 6 ☐ A ☐ B ☐ C
- 7 ☐ A ☐ B ☐ C
- 8 ☐ A ☐ B ☐ C
- 9 ☐ A ☐ B ☐ C
- 10 ☐ A ☐ B ☐ C
- 11 ☐ A ☐ B ☐ C
- 12 ☐ A ☐ B ☐ C
- 13 ☐ A ☐ B ☐ C
- 14 ☐ A ☐ B ☐ C
- 15 ☐ A ☐ B ☐ C
- 16 ☐ A ☐ B ☐ C
- 17 ☐ A ☐ B ☐ C
- 18 ☐ A ☐ B ☐ C
- 19 ☐ A ☐ B ☐ C
- 20 ☐ A ☐ B ☐ C
- 21 ☐ A ☐ B ☐ C
- 22 ☐ A ☐ B ☐ C
- 23 ☐ A ☐ B ☐ C
- 24 ☐ A ☐ B ☐ C
- 25 ☐ A ☐ B ☐ C

Doğru:

Yanlış:

PUAN:

Bafra Gazi  
İlköğretim Okulu  
2 / B Sınıfı  
Genel  
Değerlendirme  
Sınavı - 11

Adı: .....  
Soyadı: .....

- 1 ☐ A ☐ B ☐ C
- 2 ☐ A ☐ B ☐ C
- 3 ☐ A ☐ B ☐ C
- 4 ☐ A ☐ B ☐ C
- 5 ☐ A ☐ B ☐ C
- 6 ☐ A ☐ B ☐ C
- 7 ☐ A ☐ B ☐ C
- 8 ☐ A ☐ B ☐ C
- 9 ☐ A ☐ B ☐ C
- 10 ☐ A ☐ B ☐ C
- 11 ☐ A ☐ B ☐ C
- 12 ☐ A ☐ B ☐ C
- 13 ☐ A ☐ B ☐ C
- 14 ☐ A ☐ B ☐ C
- 15 ☐ A ☐ B ☐ C
- 16 ☐ A ☐ B ☐ C
- 17 ☐ A ☐ B ☐ C
- 18 ☐ A ☐ B ☐ C
- 19 ☐ A ☐ B ☐ C
- 20 ☐ A ☐ B ☐ C
- 21 ☐ A ☐ B ☐ C
- 22 ☐ A ☐ B ☐ C
- 23 ☐ A ☐ B ☐ C
- 24 ☐ A ☐ B ☐ C
- 25 ☐ A ☐ B ☐ C

Doğru:

Yanlış:

PUAN:

Bafra Gazi  
İlköğretim Okulu  
2 / B Sınıfı  
Genel  
Değerlendirme  
Sınavı - 11

Adı: .....  
Soyadı: .....

- 1 ☐ A ☐ B ☐ C
- 2 ☐ A ☐ B ☐ C
- 3 ☐ A ☐ B ☐ C
- 4 ☐ A ☐ B ☐ C
- 5 ☐ A ☐ B ☐ C
- 6 ☐ A ☐ B ☐ C
- 7 ☐ A ☐ B ☐ C
- 8 ☐ A ☐ B ☐ C
- 9 ☐ A ☐ B ☐ C
- 10 ☐ A ☐ B ☐ C
- 11 ☐ A ☐ B ☐ C
- 12 ☐ A ☐ B ☐ C
- 13 ☐ A ☐ B ☐ C
- 14 ☐ A ☐ B ☐ C
- 15 ☐ A ☐ B ☐ C
- 16 ☐ A ☐ B ☐ C
- 17 ☐ A ☐ B ☐ C
- 18 ☐ A ☐ B ☐ C
- 19 ☐ A ☐ B ☐ C
- 20 ☐ A ☐ B ☐ C
- 21 ☐ A ☐ B ☐ C
- 22 ☐ A ☐ B ☐ C
- 23 ☐ A ☐ B ☐ C
- 24 ☐ A ☐ B ☐ C
- 25 ☐ A ☐ B ☐ C

Doğru:

Yanlış:

PUAN:

Bafra Gazi  
İlköğretim Okulu  
2 / B Sınıfı  
Genel  
Değerlendirme  
Sınavı - 11

Adı: .....  
Soyadı: .....

- 1 ☐ A ☐ B ☐ C
- 2 ☐ A ☐ B ☐ C
- 3 ☐ A ☐ B ☐ C
- 4 ☐ A ☐ B ☐ C
- 5 ☐ A ☐ B ☐ C
- 6 ☐ A ☐ B ☐ C
- 7 ☐ A ☐ B ☐ C
- 8 ☐ A ☐ B ☐ C
- 9 ☐ A ☐ B ☐ C
- 10 ☐ A ☐ B ☐ C
- 11 ☐ A ☐ B ☐ C
- 12 ☐ A ☐ B ☐ C
- 13 ☐ A ☐ B ☐ C
- 14 ☐ A ☐ B ☐ C
- 15 ☐ A ☐ B ☐ C
- 16 ☐ A ☐ B ☐ C
- 17 ☐ A ☐ B ☐ C
- 18 ☐ A ☐ B ☐ C
- 19 ☐ A ☐ B ☐ C
- 20 ☐ A ☐ B ☐ C
- 21 ☐ A ☐ B ☐ C
- 22 ☐ A ☐ B ☐ C
- 23 ☐ A ☐ B ☐ C
- 24 ☐ A ☐ B ☐ C
- 25 ☐ A ☐ B ☐ C

Doğru:

Yanlış:

PUAN:

Bafra Gazi 10 - Süleyman ÖCAK