

20. Eşleştirmelerden hangisi **yanlıştır**?

- A) gemi - pilot B) otomobil - şoför C) tren - makinist

21.



Yandaki şekil ne anlama gelir?

- A) Taşıtlar geçebilir.
B) Bisiklete binmek yasaktır.
C) Yayalar geçebilir.

22. Hangisi **yanlış** bir davranıştır?

- A) Sınıfımız aydınlıkken ışıkları açmak.
B) Ellerimizi yıkadıktan sonra muslukları kapatmak.
C) Okulda tuvaletten çıkarken ışığı kapatmak.

23. Hangisi dini bayramlarımızdandır?

- A) Kurban Bayramı
B) 30 Ağustos Zafer Bayramı
C) 29 Ekim Cumhuriyet Bayramı

24. "Ayşe 29 Ekim şiir okuyacağı için çok heyecanlıdır." cümlesini hangisiyle tamamlamalıyız?

- A) Ulusal Egemenlik ve Çocuk Bayramı'nda
B) Cumhuriyet Bayramı'nda
C) Zafer Bayramı'nda

25.



Resimde vücudumuzun hangi bölümü gösteriliyor?

- A) gövde B) baş C) kollar ve bacaklar

Her soru 4 (dört) puandır.
CEVAPLARINIZI KONTROL EDİNİZ

S. Ocak
Süleyman OCAK
Uzman Sınıf Öğretmeni



TÜRKÇE DERSİ SORULARI

1. Aşağıdaki noktalama işaretlerinden hangisi cümle sonuna **konulmaz**?

- A) nokta (.) B) virgül (,) C) soru işareti (?)

2. "Gülperiye kazak almışlar." cümlesindeki hangi sözcükte **yazım yanlış** vardır?

- A) Gülperiye B) kazak C) almışlar

3. Hangi seçenekteki sözcüklerle anlamlı bir cümle yazabiliriz?

- A) okudun - kitabı - mu - Veysel
B) Seher - taşıtlara - kızım
C) bu - Cengiz - parayla

4. Aşağıdaki sözcüklerin yanlarına hece sayıları verilmiştir. Hangisinin hece sayısı **yanlış** yazılmıştır?

- A) ders - bir hece
B) mutfak - iki hece
C) öğrenmek - dört hece

5. Aşağıdaki sözcüklerden hangisinin **zıt** anlamlısı **yoktur**?

- A) saat B) yeni C) birinci

6. Aşağıdaki sözcüklerden hangisi sözlükte **en önce** gelir?

- A) sıra B) masa C) tebeşir

7. "Küçük kız ağlayarak eve geldi." cümlesinde aşağıdaki sorulardan hangisine cevap yoktur?




- A) Küçük kız ne zaman eve geldi?
B) Küçük kız eve nasıl geldi?
C) Eve kim geldi?

8. "Buket'in kuşunun adı Maviş'tir." cümlesinde "Maviş" sözcüğü nasıl bir isimdir?


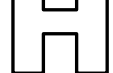

- A) cins isim B) çoğul isim C) özel isim

MATEMATİK DERSİ SORULARI

9. Hangi gruba 3 tane daha misket katarsak misketlerin sayısı bir düzine olur?

- A)  B)  C) 

10. Aşağıdaki harflerden hangisi simetri doğrusu ile eşit olarak ayrılmaz?

- A)  B)  C) 

11. Küpün bir yüzünü kâğıda koyup, çevresini çizerseniz hangi şekli elde ederiz?

- A) çember B) kare C) üçgen

12. 3onluk 2 birlikten oluşan doğal sayı aşağıdakilerden hangisidir?

- A) 5 B) 23 C) 32




13. Hangi şekil, bir bütünün yarısını göstermektedir?

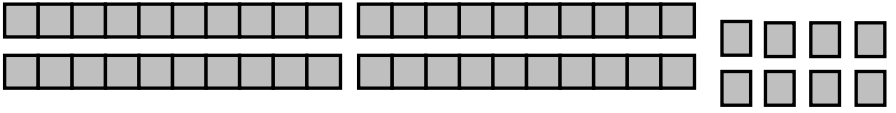
- A)  B)  C)  2

14. Nur'un 9 TL'si vardı. 3 TL ile kalemlik, 2 TL ile boya aldı. Geriye kaç lirası kaldı?

- A) 4 TL B) 5 TL C) 6 TL

15. Hangi geometrik şekil silindire benzer?




- A)  B)  C) 

16. 

Yukarıda onluk ve birlikleri gösterilen sayı hangisidir?

- A) 38 B) 40 C) 48

17. Hangi saat 07.30'u göstermektedir?

- A)  B)  C) 

HAYAT BİLGİSİ DERSİ SORULARI

18. I. Okula zamanında vardım.

II. Kahvaltımı yapıp okul önlüğümü giydim.

III. Derste yapılan etkinliklere katıldım.

Yukarıdaki cümleler hangi seçenekte zaman bakımından doğru sıralanmıştır?

- A) 3 - 2 - 1 B) 2 - 1 - 3 C) 1 - 2 - 3

19. Hangisi sınıfta bulunan eşyalardan değildir?

- A)  B)  C)  3

Bafra Gazi
İlköğretim Okulu
2 / B Sınıfı
Genel
Değerlendirme
Sınavı - 4

Adı:
Soyadı:

- 1 ☐ A ☐ B ☐ C
- 2 ☐ A ☐ B ☐ C
- 3 ☐ A ☐ B ☐ C
- 4 ☐ A ☐ B ☐ C
- 5 ☐ A ☐ B ☐ C
- 6 ☐ A ☐ B ☐ C
- 7 ☐ A ☐ B ☐ C
- 8 ☐ A ☐ B ☐ C
- 9 ☐ A ☐ B ☐ C
- 10 ☐ A ☐ B ☐ C
- 11 ☐ A ☐ B ☐ C
- 12 ☐ A ☐ B ☐ C
- 13 ☐ A ☐ B ☐ C
- 14 ☐ A ☐ B ☐ C
- 15 ☐ A ☐ B ☐ C
- 16 ☐ A ☐ B ☐ C
- 17 ☐ A ☐ B ☐ C
- 18 ☐ A ☐ B ☐ C
- 19 ☐ A ☐ B ☐ C
- 20 ☐ A ☐ B ☐ C
- 21 ☐ A ☐ B ☐ C
- 22 ☐ A ☐ B ☐ C
- 23 ☐ A ☐ B ☐ C
- 24 ☐ A ☐ B ☐ C
- 25 ☐ A ☐ B ☐ C

Doğru:

Yanlış:

PUAN:

Bafra Gazi
İlköğretim Okulu
2 / B Sınıfı
Genel
Değerlendirme
Sınavı - 4

Adı:
Soyadı:

- 1 ☐ A ☐ B ☐ C
- 2 ☐ A ☐ B ☐ C
- 3 ☐ A ☐ B ☐ C
- 4 ☐ A ☐ B ☐ C
- 5 ☐ A ☐ B ☐ C
- 6 ☐ A ☐ B ☐ C
- 7 ☐ A ☐ B ☐ C
- 8 ☐ A ☐ B ☐ C
- 9 ☐ A ☐ B ☐ C
- 10 ☐ A ☐ B ☐ C
- 11 ☐ A ☐ B ☐ C
- 12 ☐ A ☐ B ☐ C
- 13 ☐ A ☐ B ☐ C
- 14 ☐ A ☐ B ☐ C
- 15 ☐ A ☐ B ☐ C
- 16 ☐ A ☐ B ☐ C
- 17 ☐ A ☐ B ☐ C
- 18 ☐ A ☐ B ☐ C
- 19 ☐ A ☐ B ☐ C
- 20 ☐ A ☐ B ☐ C
- 21 ☐ A ☐ B ☐ C
- 22 ☐ A ☐ B ☐ C
- 23 ☐ A ☐ B ☐ C
- 24 ☐ A ☐ B ☐ C
- 25 ☐ A ☐ B ☐ C

Doğru:

Yanlış:

PUAN:

Bafra Gazi
İlköğretim Okulu
2 / B Sınıfı
Genel
Değerlendirme
Sınavı - 4

Adı:
Soyadı:

- 1 ☐ A ☐ B ☐ C
- 2 ☐ A ☐ B ☐ C
- 3 ☐ A ☐ B ☐ C
- 4 ☐ A ☐ B ☐ C
- 5 ☐ A ☐ B ☐ C
- 6 ☐ A ☐ B ☐ C
- 7 ☐ A ☐ B ☐ C
- 8 ☐ A ☐ B ☐ C
- 9 ☐ A ☐ B ☐ C
- 10 ☐ A ☐ B ☐ C
- 11 ☐ A ☐ B ☐ C
- 12 ☐ A ☐ B ☐ C
- 13 ☐ A ☐ B ☐ C
- 14 ☐ A ☐ B ☐ C
- 15 ☐ A ☐ B ☐ C
- 16 ☐ A ☐ B ☐ C
- 17 ☐ A ☐ B ☐ C
- 18 ☐ A ☐ B ☐ C
- 19 ☐ A ☐ B ☐ C
- 20 ☐ A ☐ B ☐ C
- 21 ☐ A ☐ B ☐ C
- 22 ☐ A ☐ B ☐ C
- 23 ☐ A ☐ B ☐ C
- 24 ☐ A ☐ B ☐ C
- 25 ☐ A ☐ B ☐ C

Doğru:

Yanlış:

PUAN:

Bafra Gazi
İlköğretim Okulu
2 / B Sınıfı
Genel
Değerlendirme
Sınavı - 4

Adı:
Soyadı:

- 1 ☐ A ☐ B ☐ C
- 2 ☐ A ☐ B ☐ C
- 3 ☐ A ☐ B ☐ C
- 4 ☐ A ☐ B ☐ C
- 5 ☐ A ☐ B ☐ C
- 6 ☐ A ☐ B ☐ C
- 7 ☐ A ☐ B ☐ C
- 8 ☐ A ☐ B ☐ C
- 9 ☐ A ☐ B ☐ C
- 10 ☐ A ☐ B ☐ C
- 11 ☐ A ☐ B ☐ C
- 12 ☐ A ☐ B ☐ C
- 13 ☐ A ☐ B ☐ C
- 14 ☐ A ☐ B ☐ C
- 15 ☐ A ☐ B ☐ C
- 16 ☐ A ☐ B ☐ C
- 17 ☐ A ☐ B ☐ C
- 18 ☐ A ☐ B ☐ C
- 19 ☐ A ☐ B ☐ C
- 20 ☐ A ☐ B ☐ C
- 21 ☐ A ☐ B ☐ C
- 22 ☐ A ☐ B ☐ C
- 23 ☐ A ☐ B ☐ C
- 24 ☐ A ☐ B ☐ C
- 25 ☐ A ☐ B ☐ C

Doğru:

Yanlış:

PUAN: