



## TÜRKÇE DERSİ SORULARI

### AĞACIN ÖYKÜSÜ

Kocaman bir ağaçım ben. Gökyüzüne uzanan dallarım vardı. Bir güz sabahı, oduncu geldi. Acımasızca vurdu baltasını kalbime. Gövdem ayaklarımdan ayrıldı. Uzandım yere boylu boyunca. Sonra bir bir dallarımı kesti. Kocaman bir kamyonun kasasına yükledi beni.

Tohumdan fidan olmayı düşlerdim. Fidan olunca da ulu bir ağaç olmayı. Böyleymiş demek ulu ağaçların sonu. Gözyaşlarımı tutamıyordum. Beni bir insan dikmişti. Oysa yine bir insandı beni kesen. Hem de hiç acımadan.

1, 2, 3 ve 4. soruları yukarıdaki parçaya göre cevaplayınız.

1. Parçada ağacın başına ne geliyor?  
A) Kuş konuyor.  
B) Büyüyüp fidan oluyor.  
C) Oduncu tarafından kesiliyor.
2. Parçada bahsedilen oduncu nasıl bir insandır?  
A) merhametli  
B) acımasız  
C) sinirli
3. Oduncu kestiği ağacı nasıl taşıyor?  
A) at üstünde  
B) elinde  
C) kamyonun kasasında
4. Oduncu ağacı ne zaman kesiyor?  
A) sonbaharda  
B) kışın  
C) ilkbaharda
5. I) .....çocuk kuşlara taş attı.  
II) Kantinde ..... simit var.  
III) Yine mi ..... ekmek aldın?

Yukarıda boş bırakılan yerlere varlıkların özellikleri yazılacaktır. Aşağıda verilen seçeneklerden hangisinin buradaki boş yerlere yazılması uygun olmaz?

- A) yaramaz      B) bayat      C) ihtiyar

6. "Çok sigara içiyordu, ..... kanser oldu." Boş bırakılan yere hangisi yazılmalıdır?  
A) fakat  
B) bu yüzden  
C) buna rağmen

7. Arkadaşınız sizinle bir konu hakkında konuşuyor; ama onu anlamıyorsunuz. Bunun sebebi aşağıdakilerden hangisi olabilir?

- A) Arkadaşınızın boyu biraz kısa.  
B) Yazısı güzel değil.  
C) Kelimeleri doğru söyleyemiyor.

8.



Ellerin yumuşak.

Meral'in söylediği cümlelerin anlamına gelen seçenek hangisidir?

- A) Ellerine sağlık.  
B) Ellerin pamuk gibi.  
C) Ver elini öpeyim.

## MATEMATİK DERSİ SORULARI

9. Aşağıdaki işlemlerden kaç tanesi doğrudur?

$$12 + 48 = 60$$

$$30 + 57 = 80$$

$$53 - 35 = 18$$


$$70 - 20 = 50$$

$$6 \times 3 = 18$$


$$9 \times 5 = 55$$

- A) 4      B) 5      C) 6

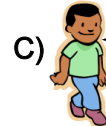
10. Hangi çocuğun verdiği bilgi yanlıştır?



Bir toplama işleminde **toplananların** yeri değişse de **toplam** değişmez.



Bir çıkarma işleminde **fark** ile **çıkanın** toplamı **eksilene** eşittir.



Bir çarpma işleminde **çarpanların** yeri değişince **çarpım** da değişir.

11. Aşağıdaki işlemlerin sonucunu toplayınca toplam hangi onluğa daha yakın olur?

$$9 \times 5 = \dots$$

$$9 \times 2 = \dots$$

- A) 5 onluğa      B) 6 onluğa      C) 4 onluğa

12. 2/B sınıfında 18 erkek, 15 kız öğrenci var. 2/B sınıfının mevcudu kaçtır?

- A) 23      B) 32      C) 33

13. Aşağıdaki çıkarma işlemlerinden kaç tanesinin sonucu 24'tür?

$55 - 21 = ..$

$48 - 24 = ..$

$90 - 76 = ..$

$24 - 0 = ..$

$64 - 44 = ..$

$89 - 55 = ..$

A) 2

B) 3

C) 4

14.



70 kuruşum vardı. Tanesi 10 kuruş olan resim kağıtlarından 4 tane aldım. Geriye kaç kuruşum kaldı?

A) 60 Kr

B) 30 Kr

C) 56 Kr

15. "9" sayısı aşağıdaki sayılardan hangisiyle çarpılırsa çarpım yine "9" olur?

A) 0

B) 9

C) 1

16.



Ben 8 yaşındayım. Ablamın yaşı, benim yaşımdan 2 katından 3 fazladır.


Cüneyt'in verdiği bilgiye göre ablası kaç yaşındadır?

A) 16

B) 19

C) 20

17.



Yukarıda verilen yarım portakallar kaç **bütün portakal** eder?

A) 4 portakal

B) 5 portakal

C) 6 portakal

### HAYAT BİLGİSİ DERSİ SORULARI

18. "Olası bir depreme karşı hazırlıklı olmak için deprem çantası hazırlamalıyız." Buna göre aşağıdakilerden hangisinin deprem çantasında olmasına gerek yoktur?

A) düdük

B) el feneri

C) televizyon

19. Aşağıdakilerden hangisi hem aile bütçesine hem de devlet bütçesine zarar verir?

A) Boşa akan bir musluğu kapatmak.

B) Diş fırçalarken suyu sonuna kadar açmak.

C) Gereksiz yanan lambaları söndürmek.

20. "Gerektiğinde harcamak üzere biriktirilen paraya ..... denir." Tümcesindeki noktalı yeri aşağıdaki sözcüklerden hangisi tamamlar?

A) savurganlık

B) cimrilik

C) tasarruf

21. 1. Arkadaşlarımızın eşyalarını izin alarak kullanmak.

2. Çevremizdeki kişilere sevgi ve saygı duymak.

3. Hoşgörülü olmak.

Yukarıdakilerin hangileri doğru davranışlardır?

A) 1 - 2 - 3

B) 1 - 2

C) 2 - 3

22. Yasemin, sınıf arkadaşlarına karşı hangi davranışta bulunursa onların güvenini kaybeder?

A) Onlara verdiği sözü yerine getirirse

B) Onlara sürekli yalan söylerse

C) Arkadaşlarıyla yardımlaşır

23.



Yeni ayakkabı almak istiyorum.

Özlem'e alınacak ayakkabının rengine kim karar vermelidir?

A) Özlem

B) Annesi

C) Kız kardeşi

24.

doktor

hasta bakıcı

postacı

avukat

hemşire

mühendis

Yukarıda yazılanlardan kaç tanesi sağlığımız için çalışan meslek grupları içinde yer alır?

A) 6

B) 4

C) 3

25.

1. Önlüğümü giyerim.

2. Kahvaltımı yaparım.

3. Elimi yüzümü yıkarım.

4. Dişlerimi fırçalarım.

Okula gitmek için yapılan hazırlıklar hangi seçenekte oluş sırasına göre sıralanmıştır?

A) 1 - 3 - 4 - 2

B) 3 - 2 - 4 - 1

C) 3 - 4 - 2 - 1

Her soru 4 (dört) puandır.  
CEVAPLARINIZI KONTROL EDİNİZ

S. Ocak

Süleyman OCAK  
Uzman Sınıf Öğretmeni

Bafra Gazi  
İlköğretim Okulu  
2 / B Sınıfı  
**Genel**  
**Değerlendirme**  
**Sınavı - 18**

Adı: .....  
Soyadı: .....

- 1 ☐ A ☐ B ☐ C
- 2 ☐ A ☐ B ☐ C
- 3 ☐ A ☐ B ☐ C
- 4 ☐ A ☐ B ☐ C
- 5 ☐ A ☐ B ☐ C
- 6 ☐ A ☐ B ☐ C
- 7 ☐ A ☐ B ☐ C
- 8 ☐ A ☐ B ☐ C
- 9 ☐ A ☐ B ☐ C
- 10 ☐ A ☐ B ☐ C
- 11 ☐ A ☐ B ☐ C
- 12 ☐ A ☐ B ☐ C
- 13 ☐ A ☐ B ☐ C
- 14 ☐ A ☐ B ☐ C
- 15 ☐ A ☐ B ☐ C
- 16 ☐ A ☐ B ☐ C
- 17 ☐ A ☐ B ☐ C
- 18 ☐ A ☐ B ☐ C
- 19 ☐ A ☐ B ☐ C
- 20 ☐ A ☐ B ☐ C
- 21 ☐ A ☐ B ☐ C
- 22 ☐ A ☐ B ☐ C
- 23 ☐ A ☐ B ☐ C
- 24 ☐ A ☐ B ☐ C
- 25 ☐ A ☐ B ☐ C

Doğru:

Yanlış:

PUAN:

Bafra Gazi  
İlköğretim Okulu  
2 / B Sınıfı  
**Genel**  
**Değerlendirme**  
**Sınavı - 18**

Adı: .....  
Soyadı: .....

- 1 ☐ A ☐ B ☐ C
- 2 ☐ A ☐ B ☐ C
- 3 ☐ A ☐ B ☐ C
- 4 ☐ A ☐ B ☐ C
- 5 ☐ A ☐ B ☐ C
- 6 ☐ A ☐ B ☐ C
- 7 ☐ A ☐ B ☐ C
- 8 ☐ A ☐ B ☐ C
- 9 ☐ A ☐ B ☐ C
- 10 ☐ A ☐ B ☐ C
- 11 ☐ A ☐ B ☐ C
- 12 ☐ A ☐ B ☐ C
- 13 ☐ A ☐ B ☐ C
- 14 ☐ A ☐ B ☐ C
- 15 ☐ A ☐ B ☐ C
- 16 ☐ A ☐ B ☐ C
- 17 ☐ A ☐ B ☐ C
- 18 ☐ A ☐ B ☐ C
- 19 ☐ A ☐ B ☐ C
- 20 ☐ A ☐ B ☐ C
- 21 ☐ A ☐ B ☐ C
- 22 ☐ A ☐ B ☐ C
- 23 ☐ A ☐ B ☐ C
- 24 ☐ A ☐ B ☐ C
- 25 ☐ A ☐ B ☐ C

Doğru:

Yanlış:

PUAN:

Bafra Gazi  
İlköğretim Okulu  
2 / B Sınıfı  
**Genel**  
**Değerlendirme**  
**Sınavı - 18**

Adı: .....  
Soyadı: .....

- 1 ☐ A ☐ B ☐ C
- 2 ☐ A ☐ B ☐ C
- 3 ☐ A ☐ B ☐ C
- 4 ☐ A ☐ B ☐ C
- 5 ☐ A ☐ B ☐ C
- 6 ☐ A ☐ B ☐ C
- 7 ☐ A ☐ B ☐ C
- 8 ☐ A ☐ B ☐ C
- 9 ☐ A ☐ B ☐ C
- 10 ☐ A ☐ B ☐ C
- 11 ☐ A ☐ B ☐ C
- 12 ☐ A ☐ B ☐ C
- 13 ☐ A ☐ B ☐ C
- 14 ☐ A ☐ B ☐ C
- 15 ☐ A ☐ B ☐ C
- 16 ☐ A ☐ B ☐ C
- 17 ☐ A ☐ B ☐ C
- 18 ☐ A ☐ B ☐ C
- 19 ☐ A ☐ B ☐ C
- 20 ☐ A ☐ B ☐ C
- 21 ☐ A ☐ B ☐ C
- 22 ☐ A ☐ B ☐ C
- 23 ☐ A ☐ B ☐ C
- 24 ☐ A ☐ B ☐ C
- 25 ☐ A ☐ B ☐ C

Doğru:

Yanlış:

PUAN:

Bafra Gazi  
İlköğretim Okulu  
2 / B Sınıfı  
**Genel**  
**Değerlendirme**  
**Sınavı - 18**

Adı: .....  
Soyadı: .....

- 1 ☐ A ☐ B ☐ C
- 2 ☐ A ☐ B ☐ C
- 3 ☐ A ☐ B ☐ C
- 4 ☐ A ☐ B ☐ C
- 5 ☐ A ☐ B ☐ C
- 6 ☐ A ☐ B ☐ C
- 7 ☐ A ☐ B ☐ C
- 8 ☐ A ☐ B ☐ C
- 9 ☐ A ☐ B ☐ C
- 10 ☐ A ☐ B ☐ C
- 11 ☐ A ☐ B ☐ C
- 12 ☐ A ☐ B ☐ C
- 13 ☐ A ☐ B ☐ C
- 14 ☐ A ☐ B ☐ C
- 15 ☐ A ☐ B ☐ C
- 16 ☐ A ☐ B ☐ C
- 17 ☐ A ☐ B ☐ C
- 18 ☐ A ☐ B ☐ C
- 19 ☐ A ☐ B ☐ C
- 20 ☐ A ☐ B ☐ C
- 21 ☐ A ☐ B ☐ C
- 22 ☐ A ☐ B ☐ C
- 23 ☐ A ☐ B ☐ C
- 24 ☐ A ☐ B ☐ C
- 25 ☐ A ☐ B ☐ C

Doğru:

Yanlış:

PUAN:

Bafra Gazi İÖ - Süleyman ÖCAK