



TÜRKÇE DERSİ SORULARI


TÜRKÇE ANA DİLİMİZ

Tadına doyum olmaz, İyi kur cümleleri,
Güzel konuş dilini. Açıkça anlaşılın.
Dilde yanlış yapılmaz, Çiğneme heceleri,
Türkçe atanın dili. Sonra ayıplanırsın.

Türkçenin gelişmesi,
Çok okumaya bağlı.
Yazarken özenmeli,
Hiç yanlış yapmamalı.
Beytullah HATOĞLU

İlk üç soruyu yukarıdaki şiire göre cevaplayınız.

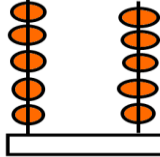
1. Tadına doyulmayan nedir?
A) güzel yazı
B) kitap okuma
C) ana dilimiz
2. Hangisini yaparsak ayıplanırız?
A) Heceleri çiğneyerek konuşursak
B) Cümlelerimizi iyi kurarsak
C) Anlaşılır şekilde konuşursak
3. Türkçenin gelişmesi neye bağlıdır?
A) Oyun oynamaya bağlıdır.
B) Çok okumaya bağlıdır.
C) Arkadaşlığa bağlıdır.
4. "Otobüslerde yaşlılara ve hamile bayanlara yer vermeliyiz." Cümlesinde boş bırakılan yere aşağıdakilerden hangisi yazılmalıdır?
A) özellikle B) örneğin C) yani
5. Aşağıdaki cümlelerin hangisinde birden fazla özel ad vardır?
A) Almanya'da birçok Türk var.
B) Ayşegül, annesine eldiven ördü.
C) Karabaş, kulübesinden çıkmış.
6. "Saç" sözcüğü hangisinde farklı bir anlamda kullanılmıştır?
A) Dedemin saçlarına ak düşmüş.
B) Kardeşimin kıvrıkcık saçları vardı.
C) Oyuncaklarını ortalığa saçtı.

7.  Sen gitar çal, onlar şarkı söyleyin.
Merve'nin söylediği cümlede hangi sözcük eş seslidir?
A) çal B) sen C) şarkı

8. Hangi cümledeki altı çizili sözcük yanlış yazılmıştır?



- A)  Her sabah spor yaparım.
- B)  Annecim, seni çok özledim.
- C)  Elektrik faturasını dolaba koydum.


MATEMATİK DERSİ SORULARI

9.  Yandaki abaküste gösterilen sayıya "2 onluk ve 7 birlik" eklersek toplam kaç olur?

- A) 82 B) 72 C) 28


10. Bir kasada 42 tane elma vardı. Satıcı bunların 2 düzinesini sattı. Geriye kaç tane elma kaldı?
A) 40 B) 22 C) 18

11.
$$\begin{array}{r} 30 \\ + 3 \\ \hline \end{array}$$
 
$$\begin{array}{r} - 14 \\ \hline \end{array}$$
 

Yukarıdaki işlemlerde  şeklinin olduğu yere hangi sayı yazılmalıdır?

- A) 33 B) 19 C) 9

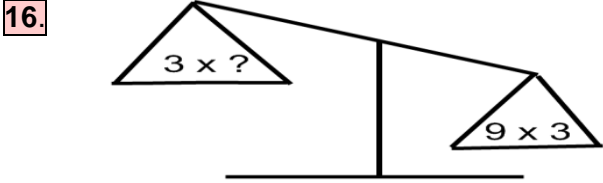
12. Cebimde 17 fındık vardı. 5 tanesini ben yedim. Diğerlerini 3 arkadaşıma paylaştırdım. Her arkadaşım kaç fındık yedi.
A) 4 B) 3 C) 9

13.  Yandaki elmaları 6 tabağa eşit şekilde paylaşmak istiyorum. Her tabağa kaç tane elma koymam gerekir?
A) 6 B) 5 C) 4



14. Yukarıdaki kutuların içindeki kalem bitmiştir. 5 kutunun içindeki kalem sayısını gösteren seçenek aşağıdakilerden hangisidir?
A) 0×5 B) 5×0 C) $5 + 0$

15. Her sırada 2 öğrenci oturacaktır. 18 kişilik sınıfta kaç sıraya ihtiyaç vardır?
A) 20 B) 16 C) 9



16. Terazide dengenin sağlanması için “ ? ” olan yere hangi sayı yazılmalıdır?
A) 6 B) 9 C) 12

17. Yanda okla gösterilen nedir?
A) köşe B) kenar C) yüz

HAYAT BİLGİSİ DERSİ SORULARI

18. Aykut, annesine aşağıdaki soruları sormuştur:
- Anne, küçükken hangi oyunları oynardın?
- En sevdiğin oyuncak neydi?
- Nasıl bir oyuncaktı?

Aykut'un annesine sorduğu soruların nedeni aşağıdakilerden hangisi olabilir?

- A) eskiden kullanılan ev aletlerinin neler olduğunu öğrenmek
B) küçükken nasıl bir çocuk olduğunu öğrenmek
C) aile büyüklerinin küçükken oynadığı oyunları araştırmak

19. Aşağıdakilerden hangisi bebekken daha çok tüketilir?



20. Aşağıdakilerden hangisi ailede üstlenebileceğimiz görevler arasında sayılmaz?
A) bozulan bir aleti tamir etmek
B) evde beslenen bir hayvana yemini vermek
C) dağılan oyuncakları toplamak

21. Doğum günündü. En sevdiğim arkadaşımı davet ettim. Ama gelemeyeceğini söyledi. Çok üzülüm. Tam pastamı keserken kapı çaldı. Kapıda arkadaşım vardı. O anda çok

- Sinem'in sözlerini hangi seçenek tamamlamaz?
A) şaşırdım
B) üzülüm
C) heyecanlandım

22. Pencerele süsler astık.

Türk bayraklarıyla sınıfı donattık.

- Şiirler ezberledik.

Yukarıdaki öğrenciler okulda bayram hazırlığı yapmışlar. Buna göre aşağıdakilerden hangisine hazırlanıyor olabilirler?

- A) Kurban Bayramı
B) Ramazan Bayramı
C) 23 Nisan Çocuk Bayramı

23. “Bir arkadaşı, koridorda koşarken Esra’ya çarparak yere düşürdü.” Esra bu durumda nasıl davranmalıdır?

- A) Ona vurmalıdır.
B) Sakin olup, özür dilemesini beklemelidir.
C) Ona öfkeyle bağırmalıdır.

24. Benim adım Kubilay. Yaşadığım yerde iki tane boğaz köprüsü var. Sultanahmet Camisi ve Ayasofya bu şehirdedir. Yurdumuzun en kalabalık şehri burasıdır.

- Acaba Kubilay, hangi şehirde yaşıyor?
A) Erzurum B) Trabzon C) İstanbul

25. Aşağıdakilerden hangisi liderin sahip olması gereken özellikler arasında yer almaz?
A) planlı B) yalancı C) sabırlı

Bafra Gazi
İlköğretim Okulu
2 / B Sınıfı
**Genel
Değerlendirme
Sınavı - 22**

Adı:
Soyadı:

- 1 ☐ A ☐ B ☐ C
- 2 ☐ A ☐ B ☐ C
- 3 ☐ A ☐ B ☐ C
- 4 ☐ A ☐ B ☐ C
- 5 ☐ A ☐ B ☐ C
- 6 ☐ A ☐ B ☐ C
- 7 ☐ A ☐ B ☐ C
- 8 ☐ A ☐ B ☐ C
- 9 ☐ A ☐ B ☐ C
- 10 ☐ A ☐ B ☐ C
- 11 ☐ A ☐ B ☐ C
- 12 ☐ A ☐ B ☐ C
- 13 ☐ A ☐ B ☐ C
- 14 ☐ A ☐ B ☐ C
- 15 ☐ A ☐ B ☐ C
- 16 ☐ A ☐ B ☐ C
- 17 ☐ A ☐ B ☐ C
- 18 ☐ A ☐ B ☐ C
- 19 ☐ A ☐ B ☐ C
- 20 ☐ A ☐ B ☐ C
- 21 ☐ A ☐ B ☐ C
- 22 ☐ A ☐ B ☐ C
- 23 ☐ A ☐ B ☐ C
- 24 ☐ A ☐ B ☐ C
- 25 ☐ A ☐ B ☐ C

Doğru:

Yanlış:

PUAN:

Bafra Gazi
İlköğretim Okulu
2 / B Sınıfı
**Genel
Değerlendirme
Sınavı - 22**

Adı:
Soyadı:

- 1 ☐ A ☐ B ☐ C
- 2 ☐ A ☐ B ☐ C
- 3 ☐ A ☐ B ☐ C
- 4 ☐ A ☐ B ☐ C
- 5 ☐ A ☐ B ☐ C
- 6 ☐ A ☐ B ☐ C
- 7 ☐ A ☐ B ☐ C
- 8 ☐ A ☐ B ☐ C
- 9 ☐ A ☐ B ☐ C
- 10 ☐ A ☐ B ☐ C
- 11 ☐ A ☐ B ☐ C
- 12 ☐ A ☐ B ☐ C
- 13 ☐ A ☐ B ☐ C
- 14 ☐ A ☐ B ☐ C
- 15 ☐ A ☐ B ☐ C
- 16 ☐ A ☐ B ☐ C
- 17 ☐ A ☐ B ☐ C
- 18 ☐ A ☐ B ☐ C
- 19 ☐ A ☐ B ☐ C
- 20 ☐ A ☐ B ☐ C
- 21 ☐ A ☐ B ☐ C
- 22 ☐ A ☐ B ☐ C
- 23 ☐ A ☐ B ☐ C
- 24 ☐ A ☐ B ☐ C
- 25 ☐ A ☐ B ☐ C

Doğru:

Yanlış:

PUAN:

Bafra Gazi
İlköğretim Okulu
2 / B Sınıfı
**Genel
Değerlendirme
Sınavı - 22**

Adı:
Soyadı:

- 1 ☐ A ☐ B ☐ C
- 2 ☐ A ☐ B ☐ C
- 3 ☐ A ☐ B ☐ C
- 4 ☐ A ☐ B ☐ C
- 5 ☐ A ☐ B ☐ C
- 6 ☐ A ☐ B ☐ C
- 7 ☐ A ☐ B ☐ C
- 8 ☐ A ☐ B ☐ C
- 9 ☐ A ☐ B ☐ C
- 10 ☐ A ☐ B ☐ C
- 11 ☐ A ☐ B ☐ C
- 12 ☐ A ☐ B ☐ C
- 13 ☐ A ☐ B ☐ C
- 14 ☐ A ☐ B ☐ C
- 15 ☐ A ☐ B ☐ C
- 16 ☐ A ☐ B ☐ C
- 17 ☐ A ☐ B ☐ C
- 18 ☐ A ☐ B ☐ C
- 19 ☐ A ☐ B ☐ C
- 20 ☐ A ☐ B ☐ C
- 21 ☐ A ☐ B ☐ C
- 22 ☐ A ☐ B ☐ C
- 23 ☐ A ☐ B ☐ C
- 24 ☐ A ☐ B ☐ C
- 25 ☐ A ☐ B ☐ C

Doğru:

Yanlış:

PUAN:

Bafra Gazi
İlköğretim Okulu
2 / B Sınıfı
**Genel
Değerlendirme
Sınavı - 22**

Adı:
Soyadı:

- 1 ☐ A ☐ B ☐ C
- 2 ☐ A ☐ B ☐ C
- 3 ☐ A ☐ B ☐ C
- 4 ☐ A ☐ B ☐ C
- 5 ☐ A ☐ B ☐ C
- 6 ☐ A ☐ B ☐ C
- 7 ☐ A ☐ B ☐ C
- 8 ☐ A ☐ B ☐ C
- 9 ☐ A ☐ B ☐ C
- 10 ☐ A ☐ B ☐ C
- 11 ☐ A ☐ B ☐ C
- 12 ☐ A ☐ B ☐ C
- 13 ☐ A ☐ B ☐ C
- 14 ☐ A ☐ B ☐ C
- 15 ☐ A ☐ B ☐ C
- 16 ☐ A ☐ B ☐ C
- 17 ☐ A ☐ B ☐ C
- 18 ☐ A ☐ B ☐ C
- 19 ☐ A ☐ B ☐ C
- 20 ☐ A ☐ B ☐ C
- 21 ☐ A ☐ B ☐ C
- 22 ☐ A ☐ B ☐ C
- 23 ☐ A ☐ B ☐ C
- 24 ☐ A ☐ B ☐ C
- 25 ☐ A ☐ B ☐ C

Doğru:

Yanlış:

PUAN:

Bafra Gazi İÖ - Süleyman ÖCAK