



TÜRKÇE DERSİ SORULARI

Reyhan çok akıllı bir kızdı. Arkadaşları ile iyi geçinirdi. En çok Neslihan ile Gülnur'u severdi. Ödevlerini her zaman birlikte yaparlardı. Neslihan Türkçe dersinde iyiydi. Reyhan ise matematikte iyiydi. Gülnur resim yapmayı çok severdi. Reyhan çok şanslı olduğunu düşünüyordu. Çünkü arkadaşları onu hiç yalnız bırakmıyordu. Ayrıca hepsi kitap okumayı çok seviyordu.

İlk üç soruyu yukarıdaki parçaya göre cevaplayınız.

- Reyhan için aşağıdakilerden hangisi söylenemez?
A) Gülnur'u çok sever.
B) Türkçe dersinde çok iyidir.
C) Akıllı bir kızdır.
- Reyhan, Gülnur ve Neslihan'ın **ortak özelliği** hangisidir?
A) Kitap okumayı severler.
B) Resim yapmayı severler.
C) Ödevlerini birlikte yapmazlar.
- Reyhan niçin şanslı olduğunu düşünüyor?
A) Akıllı bir kız olduğu için.
B) Arkadaşları onu yalnız bırakmadığı için.
C) Hepsisi birlikte ödev yaptıkları için.
- | |
|------|
| uslu |
|------|

yalan

yüksek

gerçek

alçak

yaramaz

yeni

Yukarıda zıt anlamlı kelimeler bir arada verilmiştir. Hangisinin eşi yoktur?
A) yeni B) yaramaz C) gerçek
- Aşağıdaki cümlelerin hangisinde yazım yanlışı yapılmıştır?
A) Eda'nın başı çok ağrıdı.
B) Baba'mın bisikleti bozulmuş.
C) Otobüs, Ankara'ya gidecekti.
- Hangi cümlede sebep – sonuç ilişkisi belirtilmiştir?
A) Üşüdüğüm için kazağımı giydim.
B) Annem pazardan muz almamış.
C) Eve gelince hemen üstünü değiştirdi.
- "**Ablam, dün sabah bahçede oyun oynamış.**" Cümlesinde hangi sorunun cevabı yoktur?
A) Nasıl B) Nerede C) Kim

- Hangi cümlelerin sonunda **soru işareti** olmalıdır?

- Ne zaman geleceğini bilmiyorum
- Kaç, arkandan köpek geliyor
- Helikopter nereye düşmüş

MATEMATİK DERSİ SORULARI



Resimdeki yıldızların sayısı hangi seçenekte, onluk ve birliklerine ayrılarak gösterilmiştir?

- 9 onluk, 8 birlik
- 1 onluk, 7 birlik
- 1 onluk, 9 birlik



Yukarıdaki sayı örüntüsünde, verilmeyen sayıların **toplamı** kaç eder?

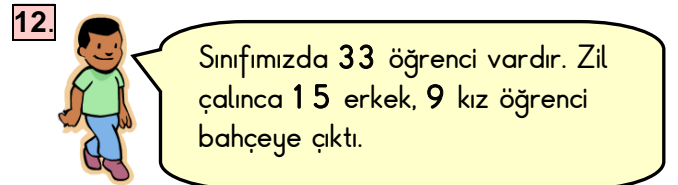
- 17
- 29
- 46



"**Ercan'ın tane fındığı vardı. Bu fındıkların tanesini kardeşine verdi. Ercan'ın geriye fındığı kaldı.**"

Bu anlatımda **ilk boşluğa**, yukarıdaki sayılardan hangisi yazılmalıdır?

- 69
- 44
- 25



Öğrencimizin söylediklerine göre sınıfta kaç öğrenci kalmıştır?

- 24
- 18
- 9

Benim adım Cemil. 8 yaşımdayım.
Babamın yaşı benim yaşımdan 4
katından 3 fazladır.



13. Cemil'in verdiği bilgiye göre
babasının yaşı kaçtır?

- A) 28 B) 35 C) 29

14. Hangi otomobilin üzerindeki çarpma işleminin
sonucu **yanlıştır**?

A)



B)



C)



15.

83

38

64

46

21

Yukarıdaki sayıları **büyükten küçüğe doğru**
sıralarsak **baştan ikinci** sayı hangisi olur?

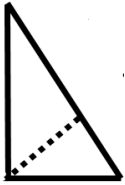
- A) 64 B) 46 C) 38

16. Her gün 3 ekmek tüketen bir aile, 2 haftada
toplam kaç tane ekmek tüketir?

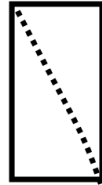
- A) 10 B) 21 C) 42

17. Hangi şekil yarımı ifade **etmez**?

A)



B)



C)



HAYAT BİLGİSİ DERSİ SORULARI

18. "Özlemler, akşam yemeği yiyorlardı. Esmâ,
çatal, bıçak kullanarak yemek yiyordu. Özlem,
kendi bardağından su içerek peçete ile ağzını
siliyordu. Zafer ise ağzına büyük bir lokma
almış, onu güçlükle çiğniyordu. Bir yandan da
fıkra anlatıyordu."

Yukarıdaki kişilerden hangisinin yemek yerken
kurallara uyduğu **söylenemez**?

- A) Özlem B) Zafer C) Esmâ

19. "Ferhat ile Şirin okuldan eve dönerlerken
**tanımadıkları biri, onları arabasıyla evlerine
götürmeyi teklif etti.**"

Bu durumda Ferhat ile Şirin'in yapması gereken
doğru davranış hangisidir?

- A) "Tamam." diyerek arabaya binmeliler.
B) Sevinerek evin yolunu tarif etmeliler.
C) "Hayır." diyerek arabaya binmemeliler.

20. Aşağıdakilerden hangisi tatilde yapacağımız
bir etkinlik **değildir**?

- A) Ders çalışmak.
B) Denizde yüzmek.
C) Kumsalda kumdan kale yapmak.

21. Resimdeki çocuk
ıslak elleriyle prize dokunuyor.
Bu durumda çocuğun başına
hangisi gelir?

- A) Elektrikli eşya bozulabilir.
B) Çocuğu elektrik çarpabilir.
C) Elektrik kesilebilir



22. Aşağıdaki bilgilerden hangisi **yanlıştır**?

- A) Pamukkale, Denizli şehridir.
B) Ağrı Dağı, yurdumuzun en yüksek dağıdır.
C) Anıtkabir, İstanbul'dadır.

23. Aşağıdakilerden hangisi evde alınması gereken
güvenlik önlemlerinden **değildir**?

- A) Bayat ve bozuk yiyecekleri yemek.
B) Yanıcı ve yakıcı maddelerle oynamamak.
C) Başkalarının ilaçlarını içmemek.

24. Hangi teknolojik alet diğer ikisinden farklıdır?

- A) televizyon B) radyo C) ütü

25.



Sağlığım için, dengeli ve düzenli
beslenmenin yanı sıra spor yapmanın
da önemini biliyorum. Bu yüzden her
gün spor yapıyorum.

Buna göre bu çocukta hangisi **görülmez**?

- A) Sık sık hasta olur.
B) Kemik ve kasları gelişir.
C) Sağlıklı bir vücuda sahip olur.

Her soru 4 (dört) puandır.
CEVAPLARINIZI KONTROL EDİNİZ

S. Ocak
Süleyman OCAK
Uzman Sınıf Öğretmeni

Bafra Gazi
İlköğretim Okulu
2 / B Sınıfı
**Genel
Değerlendirme
Sınavı - 20**

Adı:
Soyadı:

- 1 ☐ A ☐ B ☐ C
- 2 ☐ A ☐ B ☐ C
- 3 ☐ A ☐ B ☐ C
- 4 ☐ A ☐ B ☐ C
- 5 ☐ A ☐ B ☐ C
- 6 ☐ A ☐ B ☐ C
- 7 ☐ A ☐ B ☐ C
- 8 ☐ A ☐ B ☐ C
- 9 ☐ A ☐ B ☐ C
- 10 ☐ A ☐ B ☐ C
- 11 ☐ A ☐ B ☐ C
- 12 ☐ A ☐ B ☐ C
- 13 ☐ A ☐ B ☐ C
- 14 ☐ A ☐ B ☐ C
- 15 ☐ A ☐ B ☐ C
- 16 ☐ A ☐ B ☐ C
- 17 ☐ A ☐ B ☐ C
- 18 ☐ A ☐ B ☐ C
- 19 ☐ A ☐ B ☐ C
- 20 ☐ A ☐ B ☐ C
- 21 ☐ A ☐ B ☐ C
- 22 ☐ A ☐ B ☐ C
- 23 ☐ A ☐ B ☐ C
- 24 ☐ A ☐ B ☐ C
- 25 ☐ A ☐ B ☐ C

Doğru:

Yanlış:

PUAN:

Bafra Gazi
İlköğretim Okulu
2 / B Sınıfı
**Genel
Değerlendirme
Sınavı - 20**

Adı:
Soyadı:

- 1 ☐ A ☐ B ☐ C
- 2 ☐ A ☐ B ☐ C
- 3 ☐ A ☐ B ☐ C
- 4 ☐ A ☐ B ☐ C
- 5 ☐ A ☐ B ☐ C
- 6 ☐ A ☐ B ☐ C
- 7 ☐ A ☐ B ☐ C
- 8 ☐ A ☐ B ☐ C
- 9 ☐ A ☐ B ☐ C
- 10 ☐ A ☐ B ☐ C
- 11 ☐ A ☐ B ☐ C
- 12 ☐ A ☐ B ☐ C
- 13 ☐ A ☐ B ☐ C
- 14 ☐ A ☐ B ☐ C
- 15 ☐ A ☐ B ☐ C
- 16 ☐ A ☐ B ☐ C
- 17 ☐ A ☐ B ☐ C
- 18 ☐ A ☐ B ☐ C
- 19 ☐ A ☐ B ☐ C
- 20 ☐ A ☐ B ☐ C
- 21 ☐ A ☐ B ☐ C
- 22 ☐ A ☐ B ☐ C
- 23 ☐ A ☐ B ☐ C
- 24 ☐ A ☐ B ☐ C
- 25 ☐ A ☐ B ☐ C

Doğru:

Yanlış:

PUAN:

Bafra Gazi
İlköğretim Okulu
2 / B Sınıfı
**Genel
Değerlendirme
Sınavı - 20**

Adı:
Soyadı:

- 1 ☐ A ☐ B ☐ C
- 2 ☐ A ☐ B ☐ C
- 3 ☐ A ☐ B ☐ C
- 4 ☐ A ☐ B ☐ C
- 5 ☐ A ☐ B ☐ C
- 6 ☐ A ☐ B ☐ C
- 7 ☐ A ☐ B ☐ C
- 8 ☐ A ☐ B ☐ C
- 9 ☐ A ☐ B ☐ C
- 10 ☐ A ☐ B ☐ C
- 11 ☐ A ☐ B ☐ C
- 12 ☐ A ☐ B ☐ C
- 13 ☐ A ☐ B ☐ C
- 14 ☐ A ☐ B ☐ C
- 15 ☐ A ☐ B ☐ C
- 16 ☐ A ☐ B ☐ C
- 17 ☐ A ☐ B ☐ C
- 18 ☐ A ☐ B ☐ C
- 19 ☐ A ☐ B ☐ C
- 20 ☐ A ☐ B ☐ C
- 21 ☐ A ☐ B ☐ C
- 22 ☐ A ☐ B ☐ C
- 23 ☐ A ☐ B ☐ C
- 24 ☐ A ☐ B ☐ C
- 25 ☐ A ☐ B ☐ C

Doğru:

Yanlış:

PUAN:

Bafra Gazi
İlköğretim Okulu
2 / B Sınıfı
**Genel
Değerlendirme
Sınavı - 20**

Adı:
Soyadı:

- 1 ☐ A ☐ B ☐ C
- 2 ☐ A ☐ B ☐ C
- 3 ☐ A ☐ B ☐ C
- 4 ☐ A ☐ B ☐ C
- 5 ☐ A ☐ B ☐ C
- 6 ☐ A ☐ B ☐ C
- 7 ☐ A ☐ B ☐ C
- 8 ☐ A ☐ B ☐ C
- 9 ☐ A ☐ B ☐ C
- 10 ☐ A ☐ B ☐ C
- 11 ☐ A ☐ B ☐ C
- 12 ☐ A ☐ B ☐ C
- 13 ☐ A ☐ B ☐ C
- 14 ☐ A ☐ B ☐ C
- 15 ☐ A ☐ B ☐ C
- 16 ☐ A ☐ B ☐ C
- 17 ☐ A ☐ B ☐ C
- 18 ☐ A ☐ B ☐ C
- 19 ☐ A ☐ B ☐ C
- 20 ☐ A ☐ B ☐ C
- 21 ☐ A ☐ B ☐ C
- 22 ☐ A ☐ B ☐ C
- 23 ☐ A ☐ B ☐ C
- 24 ☐ A ☐ B ☐ C
- 25 ☐ A ☐ B ☐ C

Doğru:

Yanlış:

PUAN:

Bafra Gazi İÖ - Süleyman ÖCAK