



TÜRKÇE DERSİ SORULARI

MINİK KELEBEK

Minik kelebek dünyaya yeni gelmişti. Çok heyecanlı ve meraklıydı. Her şey ona ilginç geliyordu. Kuşlar, böcekler, ağaçlar çok güzeldi. Özellikle çiçekleri çok sevmişti. Renk renktiler. Üstelik mis gibi de kokuyorlardı. Doğanın bu güzelliği onu mutlu ediyordu.

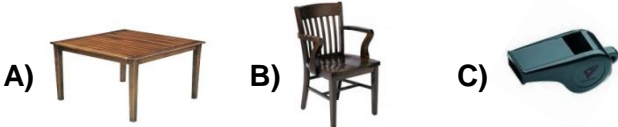
İlk üç soruyu yukarıdaki parçaya göre cevaplayınız.

1. Minik kelebek aşağıdakilerden hangisini çok sevmiş?
A) kuşları B) çiçekleri C) böcekleri

2. Aşağıdakilerden hangisi çiçeklerin özelliklerinden **değildir**?
A) renk renk olmaları
B) çok ilginç olmaları
C) mis gibi kokmaları

3. Minik kelebek için aşağıdakilerden hangisi **söylenemez**?
A) yaramaz B) heyecanlı C) mutlu

4. Aşağıda resmi verilen varlıklardan hangisinin hece sayısı **en fazladır**?



5. Satır sonuna gelen aşağıdaki sözcüklerden hangisi hecelerine doğru ayrılmıştır?
A)oku- lumuz B)yard- imcılar C)ispan- ak

6. Kırtasiyeden kalem silgi alacak.

- Cümlesinde noktalı yere hangi sözcük yazılırsa cümle **anlamsız** olur?
A) ve B) ile C) çünkü

7. Aşağıdaki cümlelerin hangisinde özel isim **kullanılmamıştır**?
A) Karadeniz çok dalgalı olur.
B) Kartal yakaladığı avı yuvaya götürdü.
C) Karabaş kulübesinden çıkmamış.

8. Hangi seçenekteki cümlede kesme işareti doğru kullanılmıştır?

- A) Dayım' lar bize geldi.
B) Ev' im çok uzakta.
C) Sinop' ta kaza olmuş.

MATEMATİK DERSİ SORULARI

9. 42 doğal sayısı onluk ve birlikten oluşur.
Yukarıdaki boşluklara sırasıyla hangi sayılar yazılmalıdır?
A) 40 ve 20 B) 4 ve 2 C) 2 ve 4

10. Hangi çocuğun verdiği bilgi **doğrudur**?

- A) 18 sayısına 6 eklediğimizde, 2 düzine olur.
B) Bir deste, 15 sayısından 3 eksiktir.
C) 1 düzine yumurta, 14 tane eder.

11. 25 29 32 37 41

Yukarıdaki örüntüde kuralı bozan sayının yerine aşağıdakilerden hangisi gelmelidir?

- A) 32 B) 34 C) 33

12. "26" sayısından bir önce ve bir sonra gelen sayıların toplamı kaç eder?
A) 52 B) 42 C) 27

13. Nurşen, marketten eve gelirken elindeki 3 **deste** yumurtanın 4 tanesini kırdı. Geriye kaç yumurta kaldı?
A) 7 B) 26 C) 32



Yukarıdaki ineklerin ayak sayılarını ifade eden işlem aşağıdakilerden hangisidir?

- A) 5 + 4 B) 4 x 5 C) 5 x 4




Masa ve sıra ile ilgili verilen bilgilerden hangisi **yanlıştır**?

- A) Masanın uzunluğu sıradan daha kısadır.
B) Sıra, masadan 15 cm. daha kısadır.
C) Masanın uzunluğu 60 santimetredir.

16. Aşağıdaki seçeneklerin hangisinde **yanlışlık** yapılmıştır?

- A) $7 + 7 + 7 + 7 = 4 \times 7$
B) $9 \times 5 = 45$
C) $6 + 6 + 6 = 6 \times 3$

17. Yandaki yarım portakala aşağıdaki portakal parçalarından hangisi eklenirse **bir bütün** portakal olur?



HAYAT BİLGİSİ DERSİ SORULARI

18. Öğrenim görme hürriyeti
 Seyahat etme hürriyeti
 İletişim hürriyeti

Yukarıdakilerin hangilerini Atatürk'ün önderliğinde kazandık?

- A) B) C)

19. Aşağıdaki teknolojik ürünlerden hangisi evimizde bulunmaz?




20. Aşağıdaki durumların hangisinde **işitme ve görme** duyumuzu bir arada kullanırız?

- A) televizyon izlerken
B) kitap okurken
C) radyo dinlerken

21.

Annem bana bir liste verdi.
Listede almam gerekenler
şunlardı: **ekmek, elma ve et.**



Buna göre çocuk aşağıdaki meslek gruplarından hangisine **uğramamıştır**?

- A) manav B) eczacı C) kasap

22. Aşağıdakilerden hangisi yapılarak tasarruf edilebilir?

- A) her istenilen ürünü alarak
B) hiçbir ihtiyacı almayarak
C) bir kumbarada para biriktirilerek

23. Aşağıdakilerden hangisi doğrudur?

- A) Evde alınan kararlara herkes uymalıdır.
B) Evde en çok görev anneye verilmelidir.
C) Çocuklar ailede görev almamalıdır.

24.



Acil bir durumda 112'yi arayan bir çocuk yukarıdaki araçlardan hangisini çağırıyor demektir?

- A) 1 B) 2 C) 3

25.



Yukarıda verilen kavram haritasında hangi doğal afet **kar** ile ilgilidir?

- A) 4 - 1 B) 2 C) 3

Her soru 4 (dört) puandır.
CEVAPLARINIZI KONTROL EDİNİZ

S. Ocak
Süleyman OCAK
Uzman Sınıf Öğretmeni

Bafra Gazi
İlköğretim Okulu
2 / B Sınıfı
**Genel
Değerlendirme
Sınavı - 19**

Adı:
Soyadı:

- 1 (A) (B) (C)
- 2 (A) (B) (C)
- 3 (A) (B) (C)
- 4 (A) (B) (C)
- 5 (A) (B) (C)
- 6 (A) (B) (C)
- 7 (A) (B) (C)
- 8 (A) (B) (C)
- 9 (A) (B) (C)
- 10 (A) (B) (C)
- 11 (A) (B) (C)
- 12 (A) (B) (C)
- 13 (A) (B) (C)
- 14 (A) (B) (C)
- 15 (A) (B) (C)
- 16 (A) (B) (C)
- 17 (A) (B) (C)
- 18 (A) (B) (C)
- 19 (A) (B) (C)
- 20 (A) (B) (C)
- 21 (A) (B) (C)
- 22 (A) (B) (C)
- 23 (A) (B) (C)
- 24 (A) (B) (C)
- 25 (A) (B) (C)

Doğru:

Yanlış:

PUAN:

Bafra Gazi
İlköğretim Okulu
2 / B Sınıfı
**Genel
Değerlendirme
Sınavı - 19**

Adı:
Soyadı:

- 1 (A) (B) (C)
- 2 (A) (B) (C)
- 3 (A) (B) (C)
- 4 (A) (B) (C)
- 5 (A) (B) (C)
- 6 (A) (B) (C)
- 7 (A) (B) (C)
- 8 (A) (B) (C)
- 9 (A) (B) (C)
- 10 (A) (B) (C)
- 11 (A) (B) (C)
- 12 (A) (B) (C)
- 13 (A) (B) (C)
- 14 (A) (B) (C)
- 15 (A) (B) (C)
- 16 (A) (B) (C)
- 17 (A) (B) (C)
- 18 (A) (B) (C)
- 19 (A) (B) (C)
- 20 (A) (B) (C)
- 21 (A) (B) (C)
- 22 (A) (B) (C)
- 23 (A) (B) (C)
- 24 (A) (B) (C)
- 25 (A) (B) (C)

Doğru:

Yanlış:

PUAN:

Bafra Gazi
İlköğretim Okulu
2 / B Sınıfı
**Genel
Değerlendirme
Sınavı - 19**

Adı:
Soyadı:

- 1 (A) (B) (C)
- 2 (A) (B) (C)
- 3 (A) (B) (C)
- 4 (A) (B) (C)
- 5 (A) (B) (C)
- 6 (A) (B) (C)
- 7 (A) (B) (C)
- 8 (A) (B) (C)
- 9 (A) (B) (C)
- 10 (A) (B) (C)
- 11 (A) (B) (C)
- 12 (A) (B) (C)
- 13 (A) (B) (C)
- 14 (A) (B) (C)
- 15 (A) (B) (C)
- 16 (A) (B) (C)
- 17 (A) (B) (C)
- 18 (A) (B) (C)
- 19 (A) (B) (C)
- 20 (A) (B) (C)
- 21 (A) (B) (C)
- 22 (A) (B) (C)
- 23 (A) (B) (C)
- 24 (A) (B) (C)
- 25 (A) (B) (C)

Doğru:

Yanlış:

PUAN:

Bafra Gazi
İlköğretim Okulu
2 / B Sınıfı
**Genel
Değerlendirme
Sınavı - 19**

Adı:
Soyadı:

- 1 (A) (B) (C)
- 2 (A) (B) (C)
- 3 (A) (B) (C)
- 4 (A) (B) (C)
- 5 (A) (B) (C)
- 6 (A) (B) (C)
- 7 (A) (B) (C)
- 8 (A) (B) (C)
- 9 (A) (B) (C)
- 10 (A) (B) (C)
- 11 (A) (B) (C)
- 12 (A) (B) (C)
- 13 (A) (B) (C)
- 14 (A) (B) (C)
- 15 (A) (B) (C)
- 16 (A) (B) (C)
- 17 (A) (B) (C)
- 18 (A) (B) (C)
- 19 (A) (B) (C)
- 20 (A) (B) (C)
- 21 (A) (B) (C)
- 22 (A) (B) (C)
- 23 (A) (B) (C)
- 24 (A) (B) (C)
- 25 (A) (B) (C)

Doğru:

Yanlış:

PUAN:

Bafra Gazi İÖ - Süleyman ÖCAK