



### TÜRKÇE DERSİ SORULARI

#### İNSANLAR

Çiçekler gibi büyümeli insanlar,  
Kavga etmeden  
Yan yana boy vermeler.  
Dona, kara, ayaza  
Birlikte direnmeliler.  
Karıncalar gibi büyümeli insanlar  
Birlikte çalışıp paylaşmalılar.  
Yuvalarını bozmak isteyenlere  
Birlikte karşı koymalılar.

Turhan OKTAY

İlk üç soruyu yukarıdaki şiire göre cevaplayınız.

- Şiirde insanların büyümesi nelere benzetilmiştir?  
A) arılara – kuşlara  
B) çiçeklere – karıncalara  
C) ağaçlara – kelebeklere
- İnsanlar nelere birlikte direnmeliler?  
A) Yağmura, çamura, doluya  
B) Sıcağa, rüzgâra, fırtınaya  
C) Dona, kara, ayaza
- Şiirde karıncaların hangi özelliği insanlara örnek gösterilmiştir?  
A) Topluluk halinde yaşamaları  
B) Sürekli hareket etmeleri  
C) Birlikte çalışıp paylaşmaları
- Aşağıdaki cümlelerin hangisinde soru eki “mi” yanlış yazılmıştır?  
A) Arkadaşlar okulun bahçesinde toplandımı?  
B) Öğle yemeğini okulda mı yiyorsunuz?  
C) Hiç Keloğlan masalı okudun mu?
- Aşağıdaki cümlelerin hangisinde varlıkların biçimini belirten bir sözcük vardır?  
A) Şu ağaçtan bizim bahçede de var.  
B) Araba, düz yolda çok hızlandı.  
C) Yeşil otlar arasında, kırmızı gelincikler açmış.
- “Aysun ( ) Ece ve Gülay sınıfta ne yapıyor ( )” cümlesinde ( ) yerlerine sırasıyla hangi noktalama işaretleri getirilmelidir?  
A) (.) (.)      B) (,) (?)      C) (,) (.)
- Aşağıdaki cümlelerin hangisinde birden çok varlığı ifade eden bir sözcük kullanılmıştır?  
A) Atın başına süslü bir yular taktık.  
B) Kitap okumayı her öğrenci sevmelidir.  
C) Ağacın dalları meyveden eğilmişti.

- “Dilber, kaç saattir evde .....?” cümlesini hangi sözcük anlamlı tamamlamaz?  
A) gidiyor      B) dinleniyor      C) oynuyor

- Hangi cümlede “gül” kelimesi farklı anlamda kullanılmıştır?  
A) Kardeşim bu çizgi filme çok güldü.  
B) Ablam saksiya gül diyecekmiş.  
C) Parktaki gülleri her gün suluyorlar.

- Aşağıdaki cümlelerin hangisinde “geniş” sözcüğünün zıt anlamlısı kullanılmıştır?  
A) Bugün kısa kollu gömleğimi giyeceğim.  
B) Dar sokaklara arabaları park etmişler.  
C) Eniştem uzun yıllar yurt dışında çalışmış.

- Ahmet, her zaman derse geç gelir.

Arkadaşımızın söylediği cümlede hangi sorunun cevabı yoktur?

- A) Nasıl?      B) Kim?      C) Nerede?



### MATEMATİK DERSİ SORULARI

- Bir inekten 3 günde 21 litre süt alınıyor. Buna göre bir haftada kaç litre süt alınır?  
A) 18 litre      B) 24 litre      C) 49 litre

- 43 tane hikâye kitabımın önce 7 tanesini, sonra 9 tanesini okudum. Okuyacağım kaç kitap kaldı?



- A) 27      B) 34      C) 16

- Bir terzi 29 metrelik kumaşı 3 eşit parçaya bölüp 3 etek dikti. Geriye kaç metre kumaş artmıştır?



- A) 9 metre      B) 2 metre      C) 6 metre







- Dün günlerden pazardı. Buna göre yarın günlerden ne olacak?  
A) pazartesi      B) Salı      C) çarşamba

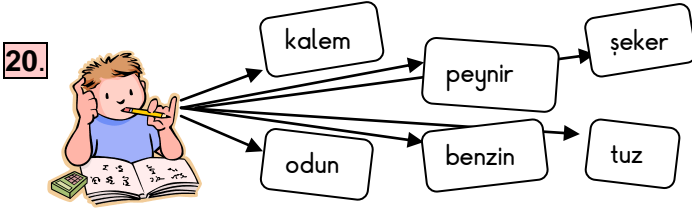
- Dört çeyrek ve dört yarım armut kaç tam armut yapar?  
A) 5 armut      B) 4 armut      C) 3 armut

- Âdem'in 11 tane misketi, İbrahim'in ise 9 tane misketi vardır. İkisinin misketlerinin toplamının 2 düzine etmesi için kaç tane daha misket gerekir?  
A) 4 misket      B) 5 misket      C) 20 misket

- “ A – E – H – J – M – F – Ç – P – O – U – G ” Harflerinden kaç tanesini simetri doğrusu ile ikiye ayırabiliriz?  
A) 6      B) 5      C) 4

19. " 23 – 28 –  – 38 – 43 – 48 – 53 –  – 63 " örüntüsünde şekillerinin yerine yazılacak olan sayıların en yakın onluğa yuvarlanmış hali hangisidir?

- A)  = 40      B)  = 30      C)  = 30  
 = 50       = 60       = 50



Yukarıda verilenlerden kaç tanesi tartılarak alınmaz?

- A) 4      B) 3      C) 2

21. Kerem evlerinin kapısının boyunu ölçüyor. Acaba sonucu yaklaşık kaç metre bulmuştur?

- A) 4 metre      B) 1 metre      C) 2 metre

22. I. Kürenin köşesi ve ayrıtı yoktur.  
 II. Silindirin ayrıtı ve köşesi vardır.  
 III. Küpün 8 köşesi ve 6 yüzü vardır.  
 IV. Karenin bütün kenarları birbirine eşittir.  
 V. Dondurma külahı silindire benzer.


Yukarıda verilen bilgilerden hangileri doğrudur?

- A) I, II, V      B) I, III, IV      C) II, V

### HAYAT BİLGİSİ DERSİ SORULARI

23. "Anneannem gençken çok güzel bir kadınmış. Şimdi de güzel; ama artık ....." cümlesini hangisi ile tamamlamamız doğru olur?

- A) saçlarında beyazlar var.  
 B) boyu daha uzun.  
 C) gözleri kahverengi.

24.  Teknolojinin gelişmesiyle günümüzde bazı meslekler daha da yaygınlaşmıştır.

Öğretmenimizin anlatmak istediği meslek hangisi olabilir?

- A) pilotluk      B) kalaycılık      C) nalbantlık

25. Orman ve park arasındaki en önemli fark hangisidir?

- A) Ormanda ağaçlar vardır.  
 B) Ormanda piknik yapılır.  
 C) Park, yapay çevredir.

26. Güneş, su ve hava olmasaydı canlılara ne olurdu?

- A) Bazı canlılar yine de yaşardı.  
 B) Bütün canlılar ölürdü.  
 C) Sadece bazı canlılar ölürdü.

27. İnsanlar, aşağıdakilerden hangisinin yokluğuna birkaç dakikadan fazla dayanamaz?

- A) yemek      B) hava      C) su

28. Aşağıdakilerden hangisi doğal çevreye örnek olabilir?

- A) orman      B) bahçe      C) mahalle

29.  Yandaki gök cisimlerin küçükten büyüğe doğru sıralanışı hangisidir?

- A) 1 – 3 – 2      B) 3 – 1 – 2      C) 2 – 3 – 1

30. Eski evlerin yapısında hangi malzemeler kullanılmıştır?


- A) demir – çelik  
 B) çimento – tuğla  
 C) taş – toprak

31. Aşağıdakilerden hangisi doğa olaylarından biri değildir?

- A) yağmur      B) havai fişek      C) fırtına

32. Aşağıdaki bilgilerden hangisi yanlıştır?

- A) Ay'ın kendi ışığı vardır ve Güneş'ten büyüktür.  
 B) Dünya, hem kendi etrafında hem de Güneş'in etrafında döner.  
 C) Güneş, Dünya'yı aydınlatır ve ısıtır.

33.  Temiz hava, sağlıklı yaşam için temel ihtiyaçlardan birisidir.

Aşağıdakilerden hangisi havanın kirlenmesini önler?

- A) Yeşil alanların korunması ve çoğaltılması  
 B) Otomobillerden çıkan egzoz gazı  
 C) Çöplerin yerleşim alanlarına yakın yerlerde biriktirilmesi

Her soru 3 (üç) puandır.  
 CEVAPLARINIZI KONTROL EDİNİZ

  
 Süleyman OCAK  
 Uzman Sınıf Öğretmeni

Bafra Gazi İlköğretim  
Okulu  
2 / B Sınıfı

**Genel Değerlendirme  
Sınavı - 28**

Adı: .....  
Soyadı: .....

- 1 (A) (B) (C)
- 2 (A) (B) (C)
- 3 (A) (B) (C)
- 4 (A) (R) (C)
- 5 (A) (B) (C)
- 6 (A) (B) (C)
- 7 (A) (B) (C)
- 8 (A) (B) (C)
- 9 (A) (B) (C)
- 10 (A) (B) (C)
- 11 (A) (B) (C)
- 12 (A) (B) (C)
- 13 (A) (B) (C)
- 14 (A) (B) (C)
- 15 (A) (B) (C)
- 16 (A) (R) (C)
- 17 (A) (B) (C)
- 18 (A) (B) (C)
- 19 (A) (B) (C)
- 20 (A) (B) (C)
- 21 (A) (B) (C)
- 22 (A) (B) (C)
- 23 (A) (B) (C)
- 24 (A) (B) (C)
- 25 (A) (B) (C)
- 26 (A) (B) (C)
- 27 (A) (B) (C)
- 28 (A) (B) (C)
- 29 (A) (B) (C)
- 30 (A) (B) (C)
- 31 (A) (B) (C)
- 32 (A) (B) (C)
- 33 (A) (B) (C)

Doğru:

Yanlış:

PUAN:

Bafra Gazi İlköğretim  
Okulu  
2 / B Sınıfı

**Genel Değerlendirme  
Sınavı - 28**

Adı: .....  
Soyadı: .....

- 1 (A) (B) (C)
- 2 (A) (B) (C)
- 3 (A) (B) (C)
- 4 (A) (R) (C)
- 5 (A) (B) (C)
- 6 (A) (B) (C)
- 7 (A) (B) (C)
- 8 (A) (B) (C)
- 9 (A) (B) (C)
- 10 (A) (B) (C)
- 11 (A) (B) (C)
- 12 (A) (B) (C)
- 13 (A) (B) (C)
- 14 (A) (B) (C)
- 15 (A) (B) (C)
- 16 (A) (R) (C)
- 17 (A) (B) (C)
- 18 (A) (B) (C)
- 19 (A) (B) (C)
- 20 (A) (B) (C)
- 21 (A) (B) (C)
- 22 (A) (B) (C)
- 23 (A) (B) (C)
- 24 (A) (B) (C)
- 25 (A) (B) (C)
- 26 (A) (B) (C)
- 27 (A) (B) (C)
- 28 (A) (B) (C)
- 29 (A) (B) (C)
- 30 (A) (B) (C)
- 31 (A) (B) (C)
- 32 (A) (B) (C)
- 33 (A) (B) (C)

Doğru:

Yanlış:

PUAN:

Bafra Gazi İlköğretim  
Okulu  
2 / B Sınıfı

**Genel Değerlendirme  
Sınavı - 28**

Adı: .....  
Soyadı: .....

- 1 (A) (B) (C)
- 2 (A) (B) (C)
- 3 (A) (B) (C)
- 4 (A) (R) (C)
- 5 (A) (B) (C)
- 6 (A) (B) (C)
- 7 (A) (B) (C)
- 8 (A) (B) (C)
- 9 (A) (B) (C)
- 10 (A) (B) (C)
- 11 (A) (B) (C)
- 12 (A) (B) (C)
- 13 (A) (B) (C)
- 14 (A) (B) (C)
- 15 (A) (B) (C)
- 16 (A) (R) (C)
- 17 (A) (B) (C)
- 18 (A) (B) (C)
- 19 (A) (B) (C)
- 20 (A) (B) (C)
- 21 (A) (B) (C)
- 22 (A) (B) (C)
- 23 (A) (B) (C)
- 24 (A) (B) (C)
- 25 (A) (B) (C)
- 26 (A) (B) (C)
- 27 (A) (B) (C)
- 28 (A) (B) (C)
- 29 (A) (B) (C)
- 30 (A) (B) (C)
- 31 (A) (B) (C)
- 32 (A) (B) (C)
- 33 (A) (B) (C)

Doğru:

Yanlış:

PUAN:

Bafra Gazi İlköğretim  
Okulu  
2 / B Sınıfı

**Genel Değerlendirme  
Sınavı - 28**

Adı: .....  
Soyadı: .....

- 1 (A) (B) (C)
- 2 (A) (B) (C)
- 3 (A) (B) (C)
- 4 (A) (B) (C)
- 5 (A) (B) (C)
- 6 (A) (B) (C)
- 7 (A) (B) (C)
- 8 (A) (B) (C)
- 9 (A) (B) (C)
- 10 (A) (B) (C)
- 11 (A) (B) (C)
- 12 (A) (B) (C)
- 13 (A) (B) (C)
- 14 (A) (B) (C)
- 15 (A) (B) (C)
- 16 (A) (R) (C)
- 17 (A) (B) (C)
- 18 (A) (B) (C)
- 19 (A) (B) (C)
- 20 (A) (B) (C)
- 21 (A) (B) (C)
- 22 (A) (B) (C)
- 23 (A) (B) (C)
- 24 (A) (B) (C)
- 25 (A) (B) (C)
- 26 (A) (B) (C)
- 27 (A) (B) (C)
- 28 (A) (B) (C)
- 29 (A) (B) (C)
- 30 (A) (B) (C)
- 31 (A) (B) (C)
- 32 (A) (B) (C)
- 33 (A) (B) (C)

Doğru:

Yanlış:

PUAN:

Bafra Gazi İÖ - Süleyman OCAK