



TÜRKÇE DERSİ SORULARI

Plansız iş görülmez
Çalışma fayda vermez,
Öğretmenimiz bile,
Derse plansız girmez.

Kasım KAPLAN

1. Yukarıdaki dördlüğe göre kişi için önemli olan nedir?

- A) Çalışmak.
- B) Çevresine faydalı olmak.
- C) Planlı olmak.

2. Kesme işareti hangi cümlede **yanlış** kullanılmıştır?

- A) Anıtkabir'i görmeyi çok istiyorum.
- B) Duyduklarını teyze'ne söylemeyi unutma!
- C) Uçağa Samsun'dan mı bineceksiniz?

Çocuktum
Çöpten bir at yaptım.
Yaprakları kanat yaptım,
Uçtum gül bahçelerine.

İsmail KARAKURT

3. Yukarıdaki dördlüğe göre hangisi şairin çocukken yaptıklarından **değildir**?

- A) Bahçelerden gül toplamak.
- B) Çöpten at yapmak.
- C) Yapraklardan kanat yapmak.

4. Yukarıdaki dördlükte geçen sözcüklerden hangileri **eş seslidir**?

- A) yaprak - kanat
- B) çocuk - bahçe
- C) at - gül

5. Aşağıda verilen eşleştirmelerden hangisi bir yönüyle diğerlerinden **farklıdır**?

- A) İlk - Son
- B) Bilmez - Cahil
- C) Parlak - Mat


6. Aşağıdaki kelimelerin hangisinin hece sayısı en **azdır**?


- A) hikâye
- B) okumayı
- C) seviyorum


7. "Harun ile Musa, dün sabah erken uyanmışlar." Cümlesinde tek başına anlamı olmayan kelime hangisidir?

- A) erken
- B) dün
- C) ile

8. Aşağıdaki cümlelerin hangisinin sonuna ünlem işareti **konulmaz**?

A)  Vay canına, ne büyük balık

B)  Ay, Dünya'nın etrafında döner

C)  Of, sınavım çok kötü geçti

MATEMATİK DERSİ SORULARI

9.


9	17	A	33	B	49
---	----	---	----	---	----

Yukarıdaki örüntüye göre **B - A =** kaçtır?

- A) 16
- B) 24
- C) 67

10. Aşağıdakilerden hangisi 2 basamaklı en küçük ve en büyük doğal sayıların toplamıdır?


- A) 100
- B) 111
- C) 109

11.  Tanesi 50 Kr olan kalemlerden 6 tane aldım ve satıcıya 5 TL verdim. Kaç lira geri almam gerekir?

- A) 3 TL
- B) 2 TL
- C) 20 TL

12. Bir kümeden 3 günde 24 yumurta alınıyor. Buna göre bir haftada kaç yumurta alınır?

- A) 56
- B) 27
- C) 21







13.  38 soruluk testin 9 sorusunu çözen Metin, kaç soru daha çözerse soruların yarısını çözmüş olur?

- A) 29
- B) 10
- C) 9

14. 18 tane balık, 4 kedi arasında eşit olarak paylaştırılırsa kaç balık artar?
A) 22 B) 14 C) 2

15. Hangi seçenekteki problem " 8×4 " işlemiyle çözülür?
A) 8 tavuğun kaç ayağı vardır?
B) 8 kuzunun kaç ayağı vardır?
C) 8 hafta kaç gündür?

16. Aşağıdaki işlemlerden hangisinin sonucu diğerlerinden farklıdır?

 $7 \times 7 =$	 $16 + 32 =$	 $100 - 52 =$
A) 	B) 	C) 

17. Bir saatte 15 km yol alan bir bisikletli 3 saat yol gidiyor. Gideceği yer 55 km olduğuna göre daha kaç km gitmesi gerekir?
A) 10 km B) 12 km C) 18 km

HAYAT BİLGİSİ DERSİ SORULARI

18. Atatürk'ün öz geçmişini yazmaya karar veren Berkay, bu belgede aşağıdaki ifadelerden hangisini kullanmaz?

- A) Selanik
B) Topkapı Sarayı
C) Şemsi Efendi İlkokulu

19. "Katı halde bulunan buz, ısıtılınca erir hale dönüşür. Kaynayan su hale dönüşür."

Yukarıdaki anlatımda noktalı yerleri sırasıyla hangi sözcükler tamamlar?

- A) sıvı - gaz
B) katı - sıvı
C) gaz - sıvı

20. Göçmen kuşlar göç etmeye başlamışlar, yapraklar sararmış ve rüzgârlar sert esiyor artık.



Arkadaşımız hangi mevsimin özelliklerini anlatıyor?

- A) kış B) yaz C) sonbahar

21. Büyük şehirlerde daha çok apartman ve gökdelenlerin yapılmasının temel nedeni aşağıdakilerden hangisidir?

- A) Teknolojinin gelişmiş olması
B) Şehirde yaşayan nüfusun fazla olması
C) Apartmanların daha sağlam olması

22. Aşağıdaki eşleştirmelerden kaç tanesi doğrudur?

Su buharı – gaz

İspirto – sıvı

Şeker – katı

Tuz – sıvı

Limonata – gaz

Duman – gaz

- A) 6 tanesi B) 5 tanesi C) 4 tanesi

- 23.








Yeryüzündeki suların Güneş'in etkisiyle ısınıp bulutları oluşturabilmesi için aşağıdaki olaylardan hangisi gerçekleşmelidir?



- A) buharlaşma B) kaynama C) erime

24. Mevsimlerin oluşmasına aşağıdaki olaylardan hangisi neden olur?

- A) Ay'ın Dünya'mızın etrafında dönmesi.
B) Dünya'mızın Güneş'in çevresinde dönmesi.
C) Dünya'mızın kendi eksenini etrafında dönmesi

P.tesi	Salı	Ç.ba	P.be	Cuma	C.tesi	Pazar
						

25. Yukarıda gösterilen hava grafiğine göre aşağıdaki bilgilerden hangisi doğrudur?

- A) Hafta boyunca en fazla güneşli hava yaşanmıştır.
B) Hafta boyunca en fazla bulutlu hava yaşanmıştır.
C) Hafta boyunca en çok yağmurlu hava yaşanmıştır.

Bafra Gazi
İlköğretim Okulu
2 / B Sınıfı
Genel
Değerlendirme
Sınavı - 27

Adı:
Soyadı:

- 1 ☐ A ☐ B ☐ C
- 2 ☐ A ☐ B ☐ C
- 3 ☐ A ☐ B ☐ C
- 4 ☐ A ☐ B ☐ C
- 5 ☐ A ☐ B ☐ C
- 6 ☐ A ☐ B ☐ C
- 7 ☐ A ☐ B ☐ C
- 8 ☐ A ☐ B ☐ C
- 9 ☐ A ☐ B ☐ C
- 10 ☐ A ☐ B ☐ C
- 11 ☐ A ☐ B ☐ C
- 12 ☐ A ☐ B ☐ C
- 13 ☐ A ☐ B ☐ C
- 14 ☐ A ☐ B ☐ C
- 15 ☐ A ☐ B ☐ C
- 16 ☐ A ☐ B ☐ C
- 17 ☐ A ☐ B ☐ C
- 18 ☐ A ☐ B ☐ C
- 19 ☐ A ☐ B ☐ C
- 20 ☐ A ☐ B ☐ C
- 21 ☐ A ☐ B ☐ C
- 22 ☐ A ☐ B ☐ C
- 23 ☐ A ☐ B ☐ C
- 24 ☐ A ☐ B ☐ C
- 25 ☐ A ☐ B ☐ C

Doğru:

Yanlış:

PUAN:

Bafra Gazi
İlköğretim Okulu
2 / B Sınıfı
Genel
Değerlendirme
Sınavı - 27

Adı:
Soyadı:

- 1 ☐ A ☐ B ☐ C
- 2 ☐ A ☐ B ☐ C
- 3 ☐ A ☐ B ☐ C
- 4 ☐ A ☐ B ☐ C
- 5 ☐ A ☐ B ☐ C
- 6 ☐ A ☐ B ☐ C
- 7 ☐ A ☐ B ☐ C
- 8 ☐ A ☐ B ☐ C
- 9 ☐ A ☐ B ☐ C
- 10 ☐ A ☐ B ☐ C
- 11 ☐ A ☐ B ☐ C
- 12 ☐ A ☐ B ☐ C
- 13 ☐ A ☐ B ☐ C
- 14 ☐ A ☐ B ☐ C
- 15 ☐ A ☐ B ☐ C
- 16 ☐ A ☐ B ☐ C
- 17 ☐ A ☐ B ☐ C
- 18 ☐ A ☐ B ☐ C
- 19 ☐ A ☐ B ☐ C
- 20 ☐ A ☐ B ☐ C
- 21 ☐ A ☐ B ☐ C
- 22 ☐ A ☐ B ☐ C
- 23 ☐ A ☐ B ☐ C
- 24 ☐ A ☐ B ☐ C
- 25 ☐ A ☐ B ☐ C

Doğru:

Yanlış:

PUAN:

Bafra Gazi
İlköğretim Okulu
2 / B Sınıfı
Genel
Değerlendirme
Sınavı - 27

Adı:
Soyadı:

- 1 ☐ A ☐ B ☐ C
- 2 ☐ A ☐ B ☐ C
- 3 ☐ A ☐ B ☐ C
- 4 ☐ A ☐ B ☐ C
- 5 ☐ A ☐ B ☐ C
- 6 ☐ A ☐ B ☐ C
- 7 ☐ A ☐ B ☐ C
- 8 ☐ A ☐ B ☐ C
- 9 ☐ A ☐ B ☐ C
- 10 ☐ A ☐ B ☐ C
- 11 ☐ A ☐ B ☐ C
- 12 ☐ A ☐ B ☐ C
- 13 ☐ A ☐ B ☐ C
- 14 ☐ A ☐ B ☐ C
- 15 ☐ A ☐ B ☐ C
- 16 ☐ A ☐ B ☐ C
- 17 ☐ A ☐ B ☐ C
- 18 ☐ A ☐ B ☐ C
- 19 ☐ A ☐ B ☐ C
- 20 ☐ A ☐ B ☐ C
- 21 ☐ A ☐ B ☐ C
- 22 ☐ A ☐ B ☐ C
- 23 ☐ A ☐ B ☐ C
- 24 ☐ A ☐ B ☐ C
- 25 ☐ A ☐ B ☐ C

Doğru:

Yanlış:

PUAN:

Bafra Gazi
İlköğretim Okulu
2 / B Sınıfı
Genel
Değerlendirme
Sınavı - 27

Adı:
Soyadı:

- 1 ☐ A ☐ B ☐ C
- 2 ☐ A ☐ B ☐ C
- 3 ☐ A ☐ B ☐ C
- 4 ☐ A ☐ B ☐ C
- 5 ☐ A ☐ B ☐ C
- 6 ☐ A ☐ B ☐ C
- 7 ☐ A ☐ B ☐ C
- 8 ☐ A ☐ B ☐ C
- 9 ☐ A ☐ B ☐ C
- 10 ☐ A ☐ B ☐ C
- 11 ☐ A ☐ B ☐ C
- 12 ☐ A ☐ B ☐ C
- 13 ☐ A ☐ B ☐ C
- 14 ☐ A ☐ B ☐ C
- 15 ☐ A ☐ B ☐ C
- 16 ☐ A ☐ B ☐ C
- 17 ☐ A ☐ B ☐ C
- 18 ☐ A ☐ B ☐ C
- 19 ☐ A ☐ B ☐ C
- 20 ☐ A ☐ B ☐ C
- 21 ☐ A ☐ B ☐ C
- 22 ☐ A ☐ B ☐ C
- 23 ☐ A ☐ B ☐ C
- 24 ☐ A ☐ B ☐ C
- 25 ☐ A ☐ B ☐ C

Doğru:

Yanlış:

PUAN:

Bafra Gazi İÖ - Süleyman ÖCAK