



TÜRKÇE DERSİ SORULARI

Biri seni üzse de,
Hatta alay etse de,
Kontrol et kendini,
Kötü söz söylese de.

1. Yukarıdaki dörtlüğe göre insan neye dikkat etmelidir?

- A) Üzülmemeye
- B) Kötü söz söylememeye
- C) Duygularımızı kontrol etmeye

Ağzında bulduğu bir kemiği taşıyan köpek, dereden geçerken suyun içinde kendi yansımasını görür. Korkuya kapılan köpek, kemiği bırakıp kaçar.

2. Paragrafa göre aşağıdakilerden hangisi doğrudur?

- A) Köpek, görüntüyü başka bir köpek zannetmiştir.
- B) Köpek sudan çok korkmuştur.
- C) Kemiği, gördüğü köpeğe yemesi için vermiştir.

3. Hangi sözcük sözlükte diğerlerinden sonra gelir?

- A) bayrak
- B) bayram
- C) balon

4. Hangisinde varlığın rengi belirtilmemiştir?


- A) Açık göz
- B) Ela gözlü
- C) Zeytin gözlü

5. "Mavi () büyük bir topum var () Onu gördünüz mü ()" cümlesinde hangi kelimedenden sonra virgül konmalıdır?

- A) gördünüz mü
- B) mavi
- C) var

6. "doğru" sözcüğü hangisinde farklı bir anlamda kullanılmıştır?


- A) Her zaman doğru olmalıyız.
- B) Söylediği sözlerin hepsi de doğrudur.
- C) Getireceğin oyunlar doğru olsun.


7.  "Feryat etmek" sözcüğünün anlamı aşağıdakilerden hangisi olamaz?

- A) Rahata kavuşmak.
- B) Büyük sıkıntı içinde bulunmak.
- C) Yüksek sesle bağırarak.

8. Hangi cümlede "nerede" sorusunun cevabı yoktur?

A)  Bizim evde parti var.

B)  Kardeşim bahçede düşmüş.

C)  Sabah erkenden uyandım.

MATEMATİK DERSİ SORULARI


9. 

Yıldızları 4'erli gruplara ayırdığımızda kaç grup oluşur?

- A) 5 grup
- B) 6 grup
- C) 7 grup

10. Kadir 33 yaşındadır. Eşi ondan 4 yaş küçüktür. İkisinin yaşları toplamı kaçtır?

- A) 62
- B) 37
- C) 29

11.  Her gün bakkaldan 3 ekmek alıyorum. Buna göre 3 haftada bakkaldan kaç ekmek almış olurum?

- A) 9
- B) 21
- C) 63

12. "54 ve 27" sayılarının yakın oldukları onlukların toplamını aşağıdakilerden hangisi göstermektedir?

- A) 8 onluk, 1 birlik
- B) 8 onluk, 0 birlik
- C) 7 onluk, 0 birlik


13.
$$\begin{array}{r} 21 \\ + 19 \\ \hline \end{array}$$

$$\begin{array}{r} 10 \\ \times 5 \\ \hline \end{array}$$

$$\begin{array}{r} 82 \\ = 23 \\ \hline \end{array}$$
 Hangi işlemin sonucu en küçüktür?

- A) a
- B) b
- C) c

14.



Yukarıdaki sandalyelerin ayak sayılarının toplamını aşağıdaki işlemlerden hangisi gösteriyor?

- A) 4×7 B) $7 + 4$ C) 7×4

15. $8 - 13 - 18 - \dots - 28 - 33 - \dots - 43 - 48 - 53$

Örüntüsünde boş bırakılan yerlere yazılması gereken sayıların toplamı kaçtır?

- A) 51 B) 61 C) 71

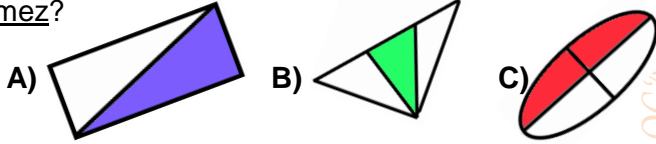
16.



Benim 25 tane bilyem vardı. Babam 3 bilye daha verdi. Sonra bilyelerimi 3 kardeşimle eşit olarak paylaştım. Her birimize kaç bilye düştü?

- A) 7 B) 6 C) 5

17. Aşağıdaki şekillerden hangisi yarımı ifade etmez?



HAYAT BİLGİSİ DERSİ SORULARI

18.



Okula başlamadan önce aşağıdakilerden hangini yapamazdınız?

- A) Yemek yiyemedim.
B) Su içemedim.
C) Okuyup yazamazdım.

19. Kadir, okuldan eve üzgün olarak dönmüşse buna sebep ne olabilir?

- A) Üzücü bir haber almıştır.
B) Yolda yaşlı birine yardım etmiştir.
C) Sınıfın önünde şiir okumuş ve alkış almıştır.

20.



Benim adım Fatma. Sizce, ben küçükken en fazla hangi oyuncakla oynardım?

- A) futbol topu
B) su tabancası
C) bez bebek

21.



Hangi çocukların beslenme, giyim ve oyun tarzları farklıdır?

Öğrencilerimizin sorduğu sorunun cevabı hangisidir?

- A) Aynı şehirdeki çocukların.
B) Farklı ülkelerdeki çocukların.
C) Aynı ailedeki çocukların.

22.

“Bayrak bir millet için en kutsal değerlerden biridir. Çünkü

semboldür.” Boş bırakılan yere hangi kelime yazılmalıdır?

- A) bağımsızlığın
B) zenginliğin
C) güçlülüğün

23.

Sıvı haldeki bir maddenin en önemli özelliği aşağıdakilerden hangisidir?

- A) Katı haledir.
B) Akıcıdır.
C) Ele alınmaz.

24.

Aşağıdaki çocuklardan hangisinin söylediğinde bir yanlışlık vardır?

A)



Tahta, silgi ve kumaş katı maddelere örnektir.

B)



Buhar, tüpgaz ve parfüm gaz maddelere örnektir.

C)



Süt, duman ve meyve suyu sıvı maddelere örnektir.

25.

“Buz su haline gelir.”

Cümlesinde boş bırakılan yere aşağıdakilerden hangisi yazılmalıdır?

- A) buharlaşarak
B) eriyerek
C) donarak

Her soru 4 (dört) puandır.
CEVAPLARINIZI KONTROL EDİNİZ

S. Ocak
Süleyman OCAK
Uzman Sınıf Öğretmeni

Bafra Gazi
İlköğretim Okulu
2 / B Sınıfı
Genel
Değerlendirme
Sınavı - 24

Adı:
Soyadı:

- 1 ☐ A ☐ B ☐ C
- 2 ☐ A ☐ B ☐ C
- 3 ☐ A ☐ B ☐ C
- 4 ☐ A ☐ B ☐ C
- 5 ☐ A ☐ B ☐ C
- 6 ☐ A ☐ B ☐ C
- 7 ☐ A ☐ B ☐ C
- 8 ☐ A ☐ B ☐ C
- 9 ☐ A ☐ B ☐ C
- 10 ☐ A ☐ B ☐ C
- 11 ☐ A ☐ B ☐ C
- 12 ☐ A ☐ B ☐ C
- 13 ☐ A ☐ B ☐ C
- 14 ☐ A ☐ B ☐ C
- 15 ☐ A ☐ B ☐ C
- 16 ☐ A ☐ B ☐ C
- 17 ☐ A ☐ B ☐ C
- 18 ☐ A ☐ B ☐ C
- 19 ☐ A ☐ B ☐ C
- 20 ☐ A ☐ B ☐ C
- 21 ☐ A ☐ B ☐ C
- 22 ☐ A ☐ B ☐ C
- 23 ☐ A ☐ B ☐ C
- 24 ☐ A ☐ B ☐ C
- 25 ☐ A ☐ B ☐ C

Doğru:

Yanlış:

PUAN:

Bafra Gazi
İlköğretim Okulu
2 / B Sınıfı
Genel
Değerlendirme
Sınavı - 24

Adı:
Soyadı:

- 1 ☐ A ☐ B ☐ C
- 2 ☐ A ☐ B ☐ C
- 3 ☐ A ☐ B ☐ C
- 4 ☐ A ☐ B ☐ C
- 5 ☐ A ☐ B ☐ C
- 6 ☐ A ☐ B ☐ C
- 7 ☐ A ☐ B ☐ C
- 8 ☐ A ☐ B ☐ C
- 9 ☐ A ☐ B ☐ C
- 10 ☐ A ☐ B ☐ C
- 11 ☐ A ☐ B ☐ C
- 12 ☐ A ☐ B ☐ C
- 13 ☐ A ☐ B ☐ C
- 14 ☐ A ☐ B ☐ C
- 15 ☐ A ☐ B ☐ C
- 16 ☐ A ☐ B ☐ C
- 17 ☐ A ☐ B ☐ C
- 18 ☐ A ☐ B ☐ C
- 19 ☐ A ☐ B ☐ C
- 20 ☐ A ☐ B ☐ C
- 21 ☐ A ☐ B ☐ C
- 22 ☐ A ☐ B ☐ C
- 23 ☐ A ☐ B ☐ C
- 24 ☐ A ☐ B ☐ C
- 25 ☐ A ☐ B ☐ C

Doğru:

Yanlış:

PUAN:

Bafra Gazi
İlköğretim Okulu
2 / B Sınıfı
Genel
Değerlendirme
Sınavı - 24

Adı:
Soyadı:

- 1 ☐ A ☐ B ☐ C
- 2 ☐ A ☐ B ☐ C
- 3 ☐ A ☐ B ☐ C
- 4 ☐ A ☐ B ☐ C
- 5 ☐ A ☐ B ☐ C
- 6 ☐ A ☐ B ☐ C
- 7 ☐ A ☐ B ☐ C
- 8 ☐ A ☐ B ☐ C
- 9 ☐ A ☐ B ☐ C
- 10 ☐ A ☐ B ☐ C
- 11 ☐ A ☐ B ☐ C
- 12 ☐ A ☐ B ☐ C
- 13 ☐ A ☐ B ☐ C
- 14 ☐ A ☐ B ☐ C
- 15 ☐ A ☐ B ☐ C
- 16 ☐ A ☐ B ☐ C
- 17 ☐ A ☐ B ☐ C
- 18 ☐ A ☐ B ☐ C
- 19 ☐ A ☐ B ☐ C
- 20 ☐ A ☐ B ☐ C
- 21 ☐ A ☐ B ☐ C
- 22 ☐ A ☐ B ☐ C
- 23 ☐ A ☐ B ☐ C
- 24 ☐ A ☐ B ☐ C
- 25 ☐ A ☐ B ☐ C

Doğru:

Yanlış:

PUAN:

Bafra Gazi
İlköğretim Okulu
2 / B Sınıfı
Genel
Değerlendirme
Sınavı - 24

Adı:
Soyadı:

- 1 ☐ A ☐ B ☐ C
- 2 ☐ A ☐ B ☐ C
- 3 ☐ A ☐ B ☐ C
- 4 ☐ A ☐ B ☐ C
- 5 ☐ A ☐ B ☐ C
- 6 ☐ A ☐ B ☐ C
- 7 ☐ A ☐ B ☐ C
- 8 ☐ A ☐ B ☐ C
- 9 ☐ A ☐ B ☐ C
- 10 ☐ A ☐ B ☐ C
- 11 ☐ A ☐ B ☐ C
- 12 ☐ A ☐ B ☐ C
- 13 ☐ A ☐ B ☐ C
- 14 ☐ A ☐ B ☐ C
- 15 ☐ A ☐ B ☐ C
- 16 ☐ A ☐ B ☐ C
- 17 ☐ A ☐ B ☐ C
- 18 ☐ A ☐ B ☐ C
- 19 ☐ A ☐ B ☐ C
- 20 ☐ A ☐ B ☐ C
- 21 ☐ A ☐ B ☐ C
- 22 ☐ A ☐ B ☐ C
- 23 ☐ A ☐ B ☐ C
- 24 ☐ A ☐ B ☐ C
- 25 ☐ A ☐ B ☐ C

Doğru:

Yanlış:

PUAN:

Bafra Gazi İÖ - Süleyman ÖCAK