




ADI-SOYADI:

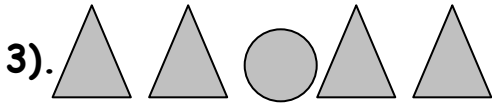

1.sınıfı hatırlayalım

2.SINIF  
MATEMATİK  
20.09.2010

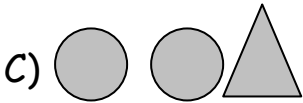
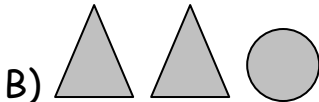
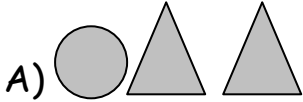
1).Küreye benzeyen varlık hangisidir ?



2). Hangi eşya prizmaya benziyor?



Yukarıdaki örüntünün devamı  
aşağıdakilerden hangisidir ?



4). 2-□-4-□-6


Verilen sayı örüntüsünde  
kutulara hangi sayılar gelmelidir ?

A) 2 ile 6

B) 4 ile 5

C) 3 ile 5

5).



En alçakta olan kimdir ?

A) Ayda

B) Kaya

C) Ayşe

6).



Yukarıdaki varlıklardan  
hangisinin eşi vardır ?



7). Evin pencerelerindeki  
sayıların toplamı  
çatıdaki sayıya  
eşittir.

Bu sayı kaçtır ?



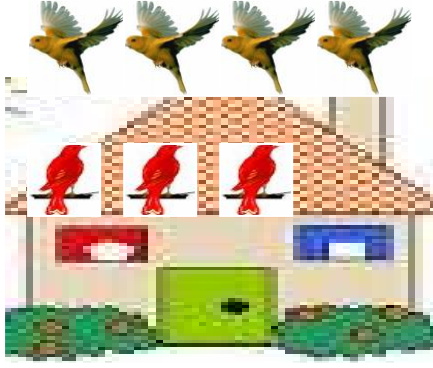
A) 6

B) 7

C) 8

**Diğer sayfaya geçiniz!..**


8).



Yukarıdaki evin çatısındaki kuşların yanına dört kuş daha kondu. Çatının üzerinde kaç kuş olur ?

- A) 7      B) 6      C) 5

9). Ali' nin evlerinin bahçesindeki ağaç yaprak döküyor. Kaç yaprak düşmüştür?



- A) 12  
B) 15  
C) 3

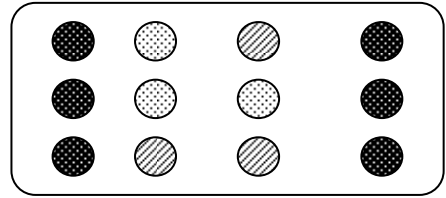
10). Ali'nin bahçelerindeki ağaçta kaç yaprak **kalmıştır**?

- A) 14      B) 15      C) 16

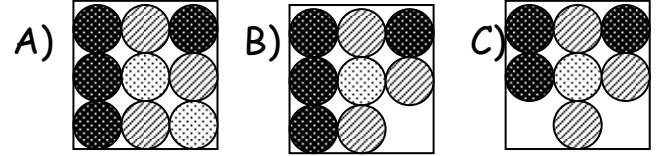
11). Nazlıcan, günde 1 saat matematik 1 saat hayat bilgisi ve 2 saat Türkçe dersi çalışıyor. Nazlıcan, her gün kaç saat ders çalışıyor ?

- A) 2      B) 3      C) 4

12).




Mustafa' nın 12 bilyesinden üçü kayboldu. Aşağıdakilerden hangisi kalan bilyelerini gösterir?



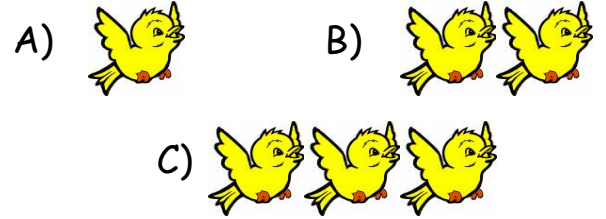
13).  $8 + 0 = ?$  Verilen işlemde soru işareti yerine kaç gelmelidir?

- A) 9      B) 8      C) 10

14).



Yukarıdaki kuşların yarısı kaç kuş eder?



15). Aşağıdaki taşıtlardan hangisi diğerlerine göre **daima uzundur**?

