

A

T.C. ADALET BAKANLIĞI
İCRA MÜDÜR VE İCRA MÜDÜR YARDIMCILARINI
SEÇME SINAVI
GENEL YETENEK VE GENEL KÜLTÜR TESTİ
ALAN BİLGİSİ TESTİ

3 Ekim 2009

ADI :
SOYADI :
T.C. KİMLİK NUMARASI :
SALON NUMARASI :

GENEL AÇIKLAMA

1. Bu kitapçıkta Genel Yetenek ve Genel Kültür Testi ile Alan Bilgisi Testi bulunmaktadır. Bu iki test için verilen toplam cevaplama süresi **120 dakikadır (2 saat)**.

Bu testlerin başladıkları sayfalar şöyledir:

Genel Yetenek ve Genel Kültür Testi 1
Alan Bilgisi Testi 12

2. Bu sınavda A ve B olmak üzere iki tür soru kitapçığı vardır.
3. Bu soru kitapçığının türü **A**'dır. Bunu cevap kâğıdınız-
daki ilgili alana kodlayınız.

**Bu kodlamayı cevap kâğıdınıza yapmadığınız ve-
ya yanlış yaptığınız takdirde, sınavınızın değeren-
dirilmesi mümkün değildir.**

4. Cevaplamaya istediğiniz sorudan başlayabilirsiniz.

5. Test kitapçığındaki her sorunun yalnızca bir doğru cevabı vardır. Bir soru için birden çok cevap yeri işa-
retlenmişse o soru yanlış cevaplanmış sayılacaktır.

6. Bu kitapçıkta soruların cevapları, kitapçıkla birlikte verilen cevap kâğıdında ayrılmış olan yerlere, kurşun kalemle işaretlenecektir. Cevap kâğıdı buruşturulma-
yacak, üzerine gereksiz hiçbir işaret konulmayacaktır.

7. Bu sınavın değerlendirilmesi doğru cevap sayısı üze-
rinden yapılacak, yanlış cevaplar dikkate alınmaya-
caktır. Bu nedenle, her soruda size en doğru görünen
cevabı işaretleyerek cevapsız soru bırakmamanız
yararınıza olabilir.

8. Sınavda uyulacak diğer kurallar bu kitapçığın arka
kapağında belirtilmiştir.

Bu testlerin her hakkı saklıdır. Hangi amaçla olursa olsun, testlerin tamamının veya bir kısmının Merkezimizin yazılı izni olmadan kopya edilmesi, fotoğrafının çekilmesi, herhangi bir yolla çoğaltılması, yayımlanması ya da kullanılması yasaktır. Bu yasağa uymayanlar gerekli cezai sorumluluğu ve testlerin hazırlanmasındaki mali külfeti peşinen kabullenmiş sayılır.

GENEL YETENEK VE GENEL KÜLTÜR TESTİ

2009-İcra Md. ve Md. Yrd.

1. Koebl, çektiği fotoğraflarda ayrıntıları yakalamayı, nesnelerin özelliklerini korumayı başarıyor. Kiminde özgünlüğü, kiminde yapaylığı, basitliği... Bunu, maskelerin düştüğü anda deklanşöre basarak gerçekleştiriyor.

Bu parçada geçen "maskelerin düştüğü anda deklanşöre basmak" sözüyle anlatılmak istenen aşağıdakilerden hangisidir?

- A) Doğal görüntüleri yakalamaya çalışmak
- B) Titizliği kendine ilke edinmek
- C) Aceleci olmamak
- D) Kişisel beğenilerini ön plana çıkarmak
- E) İlginç durumları saptamak

2. Aşağıdaki cümlelerin hangisinde kişisel görüş söz konusudur?

- A) Dereköy yolundan Kırklareli'ne dönmemiz gerektiğini söylediler.
- B) Dönüş yolunda Pınarhisar üzerinden Vize'ye uğrayıp kale ve antik tiyatro kalıntılarını gördük.
- C) Gümüşpınar yakınlarındaki Kurşun Germe Su Kemer, yol üstündeki tarihî yapılardan biri.
- D) Saray yönüne devam ederken yolun onuncu kilometresinde tümülüsleri görürsünüz.
- E) Kırklareli'ndeki Aşağıpınar ve Kanlıgeçit, arkeoloji meraklıları için ilgi çekici gezi durakları.

3. (I) Gazetecisiniz, elinize bir haberin ipucu geçmiştir, doğru olabileceğini düşündüğünüz önemli bir haberdir bu. (II) İşte, o andan başlayarak bir ikilem içine düşersiniz. (III) Haberi size duyuran ya da ileten kaynağın güvenilir olup olmadığı gibi bir yığın soru kurcalar zihninizi. (IV) Böyle durumlarda doğal ve klasik yöntem, haberi ikinci bir kaynaktan doğrulamaktır. (V) Ne var ki bu yapılırken haberin gizliliği kaybolabileceği gibi haberi ileten kaynağın da size olan güveni sarsılacaktır. (VI) Ayrıca, size haberi ulaştıran kişiye "doğrulatmanın" haberciliğin temel kuralı olduğunu anlatmak da çok güç olacaktır.

Bu parçadaki numaralanmış cümlelerden hangisi, kendinden önceki cümlelerin gerekçesi durumdadır?

- A) II. B) III. C) IV. D) V. E) VI.

4. (I) Sanatçılar ince ruhlu insanlardır. (II) Hele bazıları küstüm otu gibidir. (III) Gün gelir kendi kendilerine darılır, sus pus olurlar. (IV) O zaman zorlu bir uğraş içinde bulurlar kendilerini. (V) Kendileriyle ve dolayısıyla sanatlarıyla barışmaları uzun sürer. (VI) Bazen bir resim, bazen bir kitap, bazen bir semt, yeniden üretmeleri için onları harekete geçirir.

Bu parçadaki numaralanmış cümlelerden hangisi, kendisinden önceki cümleyi açıklar niteliktedir?

- A) II. B) III. C) IV. D) V. E) VI.

Diğer sayfaya geçiniz.

5. Öğretmenler öğrencilerine öyküler, romanlar okuma-

larını ; tiyatrolar, nitelikli filmler izlemelerini salık
I

verirler . Çünkü insanoğlunun ömrü, türlü neden-
II

lerle söz konusu yapıtlarda konu edilen yerleri , ki-
III

şileri görmeye yetmez . İşte bu noktada sözü edilen
IV

yapıtlar devreye girer . Onlar aracılığıyla öğrenciler
V

dolaylı olarak yaşantılar edinir.

**Bu parçadaki numaralanmış noktalama işaretle-
rinden hangisi yerinde kullanılmamıştır?**

- A) I. B) II. C) III. D) IV. E) V.

6. Aşağıdaki cümlelerin hangisinde bir anlatım bozukluğu vardır?

- A) İzlediğimiz oyun, yazarın kendisiyle, toplumla hesaplaşmasıydı sanki.
B) Hiç büyümek istemeyen bir çocuğun gizemli öyküsü anlatılıyordu oyunda.
C) Oyunun kendisinde içine karıştığı kimi olaylar, film sahneleri olarak eşlik ediyordu yazara.
D) Toplumsal yaşamı eleştirel bir bakış açısıyla irdeleyen bir oyun izledik.
E) Bir olayla başlayan, geriye dönüşlerle sürüp giden bir oyun bu.

7. “Burası güneşin günde, hatta bazen saatte altı kez doğup battığı tek yer.” diyor rehberimiz. Haksız sayılmaz. Yaklaşık 1500 metre yükseklikte yürürken altımızdaki vadilerden sis, üstümüzdeki tepelerden yağmur bulutları geliyor sürekli. Gri bulutlar hissimla çevremizdeki orman kaplı dağlara çarpıp yağmurunu bırakıyor, bizi iyice ıslatıyor; ardından yine güneşe kavuşuyoruz. Avrupa’nın yaşlı, balta girmemiş ormanlarından ikisi bu sayede hayatta kalıyor. Çayırırları renkli bir kilim gibi kaplayan, on beş günde bir yerini farklı türlerle bırakan çiçekler bu sayede açıyor.

Bu parçanın anlatımıyla ilgili olarak aşağıdakilerden hangisi söylenemez?

- A) Duyu organları aracılığıyla ayırımına varılan ayrıntılara yer verilmiştir.
B) İnsana özgü bir nitelik cansız varlığa aktarılmıştır.
C) İçinde bulunulan ortam, yapılan gözlemlerle somutlaştırılmıştır.
D) Düşünceler, konuşma havasında dile getirilmiştir.
E) Nesnellğe ağırlık verilmiştir.

8. “Nasıl bir gençlik istiyoruz?” sorusu, “Nasıl bir gelecek, nasıl bir ülke istiyoruz?” sorusuyla özdeşdir. Bu da insana, eğitime, araştırma ve geliştirmeye gereğince yatırım yapmayı, bütün kurumları buna göre düzenlemeyi gerektirmektedir. Bu düzenleme sırasında çağdaş ve bilimsel ölçüler kullanmak, yeni sorunlar karşısında ülke çıkarlarına ve gerçeklerine uygun yeni önlemler almak zorunludur. Bunların başarılması ise her konuda ve her aşamada birlikte çalışmayı gerektirmektedir.

Bu parçada anlatılmak istenen aşağıdakilerden hangisidir?

- A) Ülkenin geleceği için yapılması gerekenlerin neler olduğu
B) Ülke sorunlarını bilen gençlere gereksinme duyulduğu
C) Eğitim sorunlarının çok yönlü planlamayla çözülebileceği
D) Gençlerin yetiştirilmesinde gelişmiş ülkelerin örnek alınabileceği
E) Eğitim sorunlarının o konunun uzmanlarınca çözülebileceği

9. Dalgalar, rüzgârın etkisiyle, rüzgâr ise Güneş'in yerküreyi ısıtması sonucu oluşur. Bilindiği üzere ısınan hava, yoğunluğu azaldığı için hafifler ve yükselir. Sıcak havadan boşalan yere, yoğunluğu daha fazla olan soğuk hava hücum eder. İşte, güneşli bir günde hissettiğimiz esinti, bu hava akımının bir sonucudur. Rüzgârın, su yüzeyinden esip geçerken oluşturduğu sürtünme, yüzeyde kıpırtılara yol açar. Rüzgâr bu kıpırtıları itmeyi sürdürdükçe kartopu etkisi denilen doğa yasası uyarınca büyük dalgalar oluşur. Aslında bu, güneş enerjisinin rüzgâr, onun da dalgalar oluşturmamasından başka bir şey değildir.

Bu parçada vurgulanmak istenen aşağıdakilerden hangisidir?

- A) Dalgalardan nasıl yararlanıldığı
B) Güneş enerjisinin neleri, nasıl etkilediği
C) Rüzgârın ne gibi yararları olduğu
D) Doğa yasalarının çeşitli yollarla açıklanabileceği
E) Doğa olaylarının yaşamı etkilediği

10. Yaptığı film müzikleriyle adını duyuran Paul Misraki 1908 yılında İstanbul'da doğmuştur. Onun hayatı, "Müzik bir disiplin işidir ve küçük yaşta eğitim alınmaya başlandığında iyi sonuçlar verir." diyenleri doğrular niteliktedir. Misraki, henüz dört yaşındayken piyano eserleri çalmaya başlar. Yedi yaşına geldiğinde, çaldığı basit eserlerin yerini klasikleşmiş ve önemli eserler alır. Müzik kariyerine adım attığı Paris'teki okulda, hayatında hiç beklemediği değişiklikler yaşayacak ve küçük yaşlarından beri tutkuyla çaldığı piyano, gelecekteki mesleğinin en önemli aracı olacaktır. Misraki, başarılarıyla popüler bir caz piyanisti ve düzenleyicisi olarak uzun yıllar adından söz ettirecek ve müzik dünyasının önemli isimleri arasına parlak bir giriş yapacaktır.

Bu parçada Misraki'yle ilgili olarak aşağıdakilerden hangisine değinilmemiştir?

- A) Ne tür eserler çaldığına
B) Piyano çalmaya ne zaman başladığına
C) Nerede müzik eğitimi aldığına
D) Müzisyenliği neden çok önemseydiğine
E) Sanat dünyasındaki yerine

11.

$$\frac{4}{7} + \frac{3}{11} - \frac{1}{14} + \frac{5}{22}$$

işleminin sonucu kaçtır?

- A) $\frac{11}{14}$ B) $\frac{7}{22}$ C) $\frac{14}{55}$
D) 1 E) 2

12. x bir gerçel sayı ve $3^{x-1} = a$ olduğuna göre,

$$3^{2x+1}$$

aşağıdakilerden hangisine eşittir?

- A) $3a^2$ B) $9a^2$ C) $27a^2$
D) $\frac{9}{a^2}$ E) $\frac{27}{a^2}$

13.

$$3x - y + z = 2$$

$$x + 2y - 2z = 3$$

olduğuna göre, x kaçtır?

- A) -2 B) -1 C) 0 D) 1 E) 2

14.

$$\begin{array}{r}
 AB \\
 \times AB \\
 \hline
 \dots \\
 + \dots \\
 \hline
 BCB
 \end{array}$$

Yukarıdaki çarpma işleminde A, B ve C birbirinden ve sıfırdan farklı birer rakamı göstermektedir.

Buna göre, A + B toplamı kaçtır?

- A) 7 B) 8 C) 9 D) 10 E) 11

15.

$$A = \{x \mid x^2 \leq 4, x \in \mathbb{Z}\}$$

$$B = \{x \mid |x+2| \leq 1, x \in \mathbb{Z}\}$$

kümeleri veriliyor.

$A \cap B$ kümesinin eleman sayısı kaçtır?

- A) 2 B) 3 C) 4 D) 5 E) 6

16.

$$\frac{\left(\frac{1}{a}-1\right)\left(\frac{3}{a}-1\right)}{a^3-4a^2+3a}$$

İfadesinin sadeleştirilmiş biçimi aşağıdakilerden hangisidir?

- A) $a-1$ B) $a+1$ C) $2a-1$
D) $\frac{1}{2a}$ E) $\frac{1}{a}$

17. Bir bina inşaatında kullanılacak çakıl, 4 tonluk kamyonlarla a seferde, 6 tonluk kamyonlarla a – 4 seferde taşınabilmektedir.

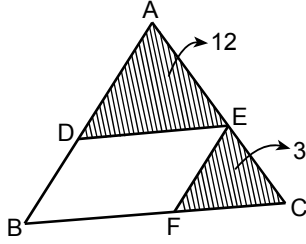
Buna göre, taşınacak çakıl kaç tondur?

- A) 36 B) 40 C) 48 D) 50 E) 60

18. Bir aracın saatte 60 km hızla 12 saatte aldığı yolu 10 saatte alabilmesi için hızı % kaç artırılmalıdır?

- A) 15 B) 20 C) 25 D) 30 E) 40

19.



ABC bir üçgen
DEFB bir paralel-
kenar

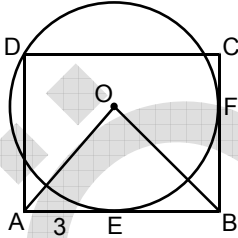
$$\text{Alan}(\text{ADE}) = 12 \text{ cm}^2$$

$$\text{Alan}(\text{EFC}) = 3 \text{ cm}^2$$

Yukarıdaki verilere göre, ABC üçgeninin alanı kaç cm^2 dir?

- A) 27 B) 30 C) 32 D) 36 E) 40

20.



ABCD bir dikdörtgen
O noktası çemberin
merkezi

$$r = 4 \text{ cm}$$

$$|AE| = 3 \text{ cm}$$

Şekildeki dikdörtgenin AB kenarı E noktasında, CB kenarı da F noktasında yarıçap uzunluğu 4 cm olan çembere teğettir.

Yukarıdaki verilere göre, OAB üçgeninin çevresi kaç cm dir?

- A) $2(4 - \sqrt{2})$ B) $4(4 - \sqrt{2})$ C) $3(2 + \sqrt{3})$
D) $2(3 + \sqrt{2})$ E) $4(3 + \sqrt{2})$

21. Birinci Dünya Savaşı'nda Osmanlı Devleti,

- I. Galiçya,
II. Makedonya,
III. Çanakkale

cephelerinin hangilerinde kendisini savunmak için savaştı?

- A) Yalnız I B) Yalnız II C) Yalnız III
D) I ve II E) I, II ve III

22. Sivas Kongresi'nde Mustafa Kemal İstanbul Hükûmetini düşürmek için geçici bir hükûmet kurulmasının yasalara aykırılığını söylemiş, seçimlerin yapılması ve hükûmet sorununun bundan sonra ele alınması önerisini yapmıştır.

Mustafa Kemal bu önerisiyle,

- I. Mebuslar Meclisinin toplanması,
II. Mebuslar Meclisinin denetiminde olan bir hükûmet kurulması,
III. seçime katılacak adayların niteliklerinin saptanması

durumlarından hangilerinin gereğini vurgulamıştır?

- A) Yalnız I B) Yalnız II C) Yalnız III
D) I ve II E) I, II ve III

23. Anadolu'daki millî mücadele hareketinin İstanbul Hükûmeti tarafından hukuki olarak tanındığını gösteren belge aşağıdakilerden hangisidir?

- A) Amasya Protokolleri
B) Havza Genelgesi
C) Amasya Genelgesi
D) Erzurum Kongresi kararları
E) Sivas Kongresi kararları

Diğer sayfaya geçiniz.

24. Kurtuluş Savaşı'nda,

- I. Çerkez Ethem,
- II. Demirci Mehmet Efe,
- III. Millî Aşireti

ayaklanmalarından hangileri milis güçlerin düzenli orduya bağlanmak istememesi nedeniyle çıkmıştır?

- A) Yalnız I B) Yalnız II C) Yalnız III
D) I ve II E) I, II ve III

25. Aşağıdakilerden hangisi Birinci İnönü Savaşı'nın kazanılmasının sonuçlarından biri değildir?

- A) TBMM'nin otoritesinin güçlenmesi
- B) Düzenli ordunun öneminin anlaşılması
- C) Anlaşma Devletlerinin Yunanlılara güveninin azalması
- D) TBMM Hükûmetinin Londra Konferansı'na katılması
- E) Ermenilerle savaş durumunun sona ermesi

26. TBMM Hükûmeti tarafından Lozan Konferansı'na katılacak heyete verilen yönergede,

- I. Osmanlı borçları,
- II. kapitülasyonlar,
- III. savaş tazminatı

konularından hangilerinin tartışılmaması, gerekirse görüşmelerin kesilmesi istenmiştir?

- A) Yalnız I B) Yalnız II C) Yalnız III
D) I ve II E) II ve III

27. Yeni Türk Devleti'nin,

- I. Âşar vergisini kaldırması,
- II. yabancıların elindeki şirketleri satın alması,
- III. demir yolu yapımına hız vermesi

uygulamalarından hangilerinin ulusalcı, halkçı veya devletçi olma özelliklerini gösterdiği savunulabilir?

- A) Yalnız I B) Yalnız II C) Yalnız III
D) I ve II E) I, II ve III

28.

- I. İlköğretimin mecburi ve parasız hâle getirilmesi
- II. Öğretim Birliği Kanunu'nun (Tevhid-i Tedrisat) çıkarılması
- III. Ölçülerin değiştirilmesi

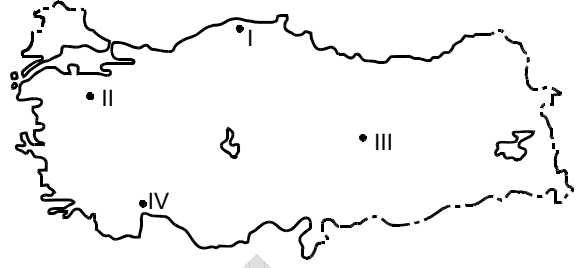
Yukarıdakilerden hangilerinin ülkede kültür birliği sağlamak amacıyla gerçekleştirildiği savunulabilir?

- A) Yalnız I B) Yalnız II C) Yalnız III
D) I ve II E) II ve III

29. Aşağıdakilerden hangisi, Musul sorununun Türkiye'nin aleyhine sonuçlanmasının nedenlerinden biri değildir?

- A) Hatay'ın Türkiye topraklarına katılması
- B) İngiltere'nin Türkiye'den önce Milletler Cemiyeti'nin üyesi olması
- C) Musul'un petrol ve stratejik açıdan önemli bir bölge olması
- D) Şeyh Said Ayaklanması'nın çıkması
- E) İngiltere'nin Musul'u daha önce işgal etmiş olması

31.



Matematik konumları bakımından karşılaştırıldığında, haritada verilen dört nokta için aşağıdakilerden hangisi söylenemez?

- A) Başlangıç meridyenine en yakın nokta II'dir.
- B) Yengeç Dönencesi'ne en yakın nokta IV'tür.
- C) 21 Martta en uzun gündüz yaşanan nokta I'dir.
- D) Yıl içinde gece-gündüz süreleri arasındaki farkın en az olduğu nokta IV'tür.
- E) Yerel saati en ileri olan nokta III'tür.

30.

- I. Midilli ve Sakız
- II. Sisam ve Nikarya
- III. Rodos ve Oniki Ada

İtalya, Ouchy (Uşi) Antlaşması'yla Türklere geri vermeyi kabul ettiği yukarıdaki adalardan hangilerini, İkinci Dünya Savaşı'ndan sonra Yunanistan'a bırakmıştır?

- A) Yalnız I
- B) Yalnız II
- C) Yalnız III
- D) I ve II
- E) I, II ve III

32. Türkiye'de yüzey şekillerinin engebeli oluşu aşağıdakilerden hangisi üzerinde etkili değildir?

- A) Kısa mesafelerde farklı iklim koşullarının görülmesi
- B) İki nokta arasında, gerçek uzunlukla kuş uçuşu uzunluk arasındaki farkın fazla olması
- C) Kara ve demir yolu yapımındaki maliyetin yüksek olması
- D) Doğal bitki türlerinin çok olması
- E) Dağların güney yamaçlarının güneş ışınlarını daha dik alması

33. Aşağıdakilerden hangisi, Türkiye'deki büyük şehirlerin kurulduğu yerlerin ortak özelliği değildir?

- A) İklimin elverişli olması
- B) Yer altı zenginliklerinin çeşitli olması
- C) Önemli ulaşım yolları üzerinde olması
- D) Yüzey şekillerinin yerleşmeye elverişli olması
- E) Üretim ve ticaretin yoğun olarak yapılması

34. İç Anadolu Bölgesi'nin aşağıdaki özelliklerinden hangisi diğer dördünün nedeni olarak gösterilebilir?

- A) Yıllık yağış tutarının az olması
- B) Tahıl tarımının yaygın olması
- C) Doğal bitki örtüsünün bozkır olması
- D) Toprakların bir kısmının nadasa bırakılması
- E) Akarsu rejimlerinin düzensiz olması

35. Türkiye'de modern tarım yöntemlerinin yaygınlaşmasının aşağıdakilerden hangisine neden olduğu söylenemez?

- A) Birim alandan alınan verimin artmasına
- B) Üretimde kalite ve standartların yükselmesine
- C) Ürün çeşidinin artmasına
- D) Üretimde yıllar arasındaki dalgalanmaların azalmasına
- E) Tarımla uğraşan kişi sayısının artmasına

36. Türkiye'nin kıyı kesimlerinde tarımı yapılan birçok ürün genellikle kıyıdan en çok 50-60 kilometre içeri lere kadar yetiştirilebilir.

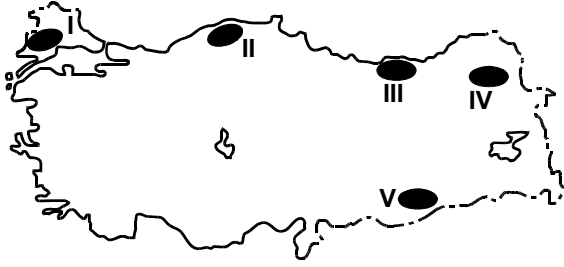
Bu genellemenin,

- I. Adana,
- II. Batı Karadeniz,
- III. Antalya,
- IV. Ege

bölümlerinden hangileri için geçerli olduğu söylenebilir?

- A) I ve II
- B) I ve III
- C) II ve III
- D) II ve IV
- E) III ve IV

37.



İklim koşulları göz önüne alındığında, yukarıdaki haritada numaralarla gösterilen yerlerin hangileri büyükbaş mera hayvancılığına uygundur?

- A) I, II ve III B) II, III ve IV C) II, III ve V
D) III ve V E) IV ve V

38. Aşağıdakilerden hangisi, Doğu Anadolu Bölgesi'nde yürütülen ekonomik etkinliklerden biri değildir?

- A) Kış turizmi B) Termik elektrik üretimi
C) Tatlı su balıkçılığı D) Petrol arıtımı
E) Şeker pancarı tarımı

39.



Yukarıdaki Türkiye haritasında gösterilen çizgiler aşağıdakilerden hangisini ifade etmektedir?

- A) Fay hatlarını
B) Transit ticarete kullanılan otoyolları
C) Demir yollarını
D) Petrol boru hatlarını
E) Kıvrım sistemlerini

40. Aşağıdakilerden hangisi, Türkiye'deki limanların ortak özelliğidir?

- A) İç kesimdeki bölgelerle kara yolu bağlantısının olması
B) Serbest ticaret bölgelerinin bulunması
C) Yabancı ticaret gemilerinin uğrak yeri olması
D) Yükleme boşaltma için modern tesislerle donatılmış olması
E) Gerisinde geniş bir art bölgenin olması

Diğer sayfaya geçiniz.

41. Aşağıdaki TBMM işlemlerinden hangisi kanunla yapılır?

- A) Yüce Divana sevk
- B) Milletvekilliğinin düşmesi
- C) Genel veya özel af ilanı
- D) Yasama dokunulmazlığının kaldırılması
- E) Türk Silahlı Kuvvetlerinin yabancı ülkelere gönderilmesine veya yabancı silahlı kuvvetlerin Türkiye'de bulunmasına izin verme

42. Aşağıdakilerden hangisi TBMM'nin 1982 Anayasası'nda düzenlenmiş görev ve yetkilerinden biri değildir?

- A) Herhangi bir konuda bilgi edinmek amacıyla araştırma yapmak
- B) Radyo ve Televizyon Üst Kurulu üyelerini seçmek
- C) Hâkimler ve Savcılar Yüksek Kurulu üyelerinin beşte birini seçmek
- D) Başbakanı veya bir bakanı Yüce Divana sevk etmek
- E) Milletlerarası antlaşmaların onaylanmasını uygun bulmak

43. Aşağıdakilerden hangisi Cumhurbaşkanının görevlerinden biri değildir?

- A) TBMM'yi gerektiğinde toplantıya çağırmak
- B) Kanunları tekrar görüşülmek üzere TBMM'ye geri göndermek
- C) Başbakanın teklifi üzerine bakanları atamak ve görevlerine son vermek
- D) Gerekli gördüğü takdirde Anayasa değişikliklerine ilişkin kanunları halkoyuna sunmak
- E) Gerekli gördüğü takdirde olağanüstü hâl veya sıkıyönetim ilanına karar vermek

44. Cumhurbaşkanına bağlı olarak faaliyet gösteren ve Cumhurbaşkanının isteği üzerine, tüm kamu kurum ve kuruluşlarında, sermayesinin yarısından fazlasına bu kurum ve kuruluşların katıldığı her türlü kuruluşta, kamu kurumu niteliğinde olan meslek kuruluşlarında, her düzeydeki işçi ve işveren meslek kuruluşlarında ve kamuya yararlı derneklerle vakıflarda her türlü inceleme, araştırma ve denetlemeleri yapmakla görevli olan organ aşağıdakilerden hangisidir?

- A) Devlet Denetleme Kurulu
- B) Cumhurbaşkanı Genel Sekreterliği
- C) Sermaye Piyasası Kurulu
- D) Yüksek Denetleme Kurulu
- E) Bankacılık Düzenleme ve Denetleme Kurumu

45. 1982 Anayasası'na göre, aşağıdakilerden hangisi seçimler ve halk oylaması yapılırken uyulması zorunlu olan esaslardan biri değildir?

- A) Serbest oy
- B) Gizli oy
- C) Tek turlu seçim
- D) Tek dereceli seçim
- E) Açık sayım ve döküm

46. Aşağıdakilerden hangisi TBMM'nin bilgi edinme ve denetim yollarından biri değildir?

- A) Gensoru
- B) Genel görüşme
- C) Meclis araştırması
- D) Meclis soruşturması
- E) Eylemli içtüzük değişikliği

47. 1982 Anayasası'nın 114. maddesine göre, TBMM genel seçimlerinden önce görevlerinden çekilmesi gereken bakanlar aşağıdakilerin hangisinde doğru olarak gösterilmiştir?

- A) İçişleri, Dışişleri ve Adalet bakanları
- B) Adalet, Millî Savunma ve Dışişleri bakanları
- C) İçişleri, Maliye ve Ulaştırma bakanları
- D) Adalet, İçişleri ve Ulaştırma bakanları
- E) Millî Eğitim, Adalet ve Dışişleri bakanları

48. Aşağıdakilerden hangisi Anayasa Mahkemesinin görevlerinden biridir?

- A) Seçimler süresince ve seçimden sonra seçim konularıyla ilgili bütün yolsuzlukları, şikâyet ve itirazları incelemek ve kesin karara bağlamak
- B) Seçimden önce veya sonra bir suç işlediği ileri sürülen bir milletvekilinin yasama dokunulmazlığının kaldırılmasına karar vermek
- C) Savaş sebebiyle yeni seçimlerin yapılamaması durumunda, TBMM seçimlerinin 1 yıl geriye bırakılmasına karar vermek
- D) Siyasi partilerin kuruluş bildirimlerini kabul etmek ve bunlara tüzel kişilik kazandırmak
- E) Siyasi partilerin mali denetimini yapmak

49. Aşağıdaki kurumlardan hangisinin Anayasa Mahkemesine üye seçiminde rolü yoktur?

- A) Yargıtay
- B) Uyuşmazlık Mahkemesi
- C) Askerî Yüksek İdare Mahkemesi
- D) Danıştay
- E) Sayıştay

50. Aşağıdakilerden hangisi yasama organının kanunla bir konuyu dilediği ölçüde ayrıntılı olarak düzenleyebileceğini ifade eder?

- A) Yasama yetkisinin genelliği
- B) Yasama yetkisinin asilliği
- C) TBMM'nin yöntemsel bağımsızlığı
- D) Maddi kanun anlayışı
- E) Süreli kanun anlayışı

**GENEL YETENEK VE GENEL KÜLTÜR
TESTİ BİTTİ.**

ALAN BİLGİSİ TESTİNE GEÇİNİZ.

A

ALAN BİLGİSİ TESTİ

2009-İcra Md. ve Md. Yrd.

51. “Emre muharrer senet” ifadesi aşağıdaki kıymetli evrak tiplerinden hangisi için kullanılır?

- A) Poliçe
- B) Bono
- C) Çek
- D) Varant
- E) Garanti çeki

52. Aşağıdaki kıymetli evrak tiplerinin hangisinde eşya hukukundan doğan aynı bir hak temsil edilmektedir?

- A) Makbuz senedi
- B) Hisse senedi
- C) Bono
- D) Poliçe
- E) Çek

53. Poliçenin kabule arzı ile ilgili aşağıdaki ifadelerden hangisi yanlıştır?

- A) Görüldüğünden belli bir süre sonra ödenmesi gereken poliçelerin kabule arzı zorunludur.
- B) Görüldüğünden belli bir süre sonra ödenmesi gereken poliçelerin keşide gününden itibaren 1 yıl içinde kabule arzı gerekir.
- C) Keşideci, poliçenin kabule arzını yasaklayabilir.
- D) Keşideci poliçenin kabule arzını men etmiş olsa bile ciranta, kabule arz şartını getirebilir.
- E) Muhatabın ikametgâhından başka bir yerde ödenmesi gereken poliçelerde kabule arz yasağı konamaz.

54. Çeklerin ciro suyla ilgili aşağıdaki ifadelerden hangisi doğrudur?

- A) Hamile yazılı çekler ciro edilemez.
- B) Çeklerde keşideciye ciro yapılamaz.
- C) Çeklerde muhatabın yaptığı ciro geçerlidir.
- D) Çeklerin kısmi şekilde ciro edilmeleri mümkündür.
- E) Çeklerde muhataba yapılan ciro makbuz hükmündedir.

55. Lehtarın adının gösterilmediği açıkça “emrine kaydı”nı da içermeyen bir poliçeyle ilgili aşağıdaki ifadelerden hangisi doğrudur?

- A) Nama yazılıdır.
- B) Emre yazılıdır.
- C) Hamile yazılıdır.
- D) Eksik emre yazılıdır.
- E) Geçersizdir.

56. Müracaat hakkı sahibinin, müracaat konusu poliçenin bedelini elde etmek amacıyla müracaat hakkı kapsamında kendisine karşı sorumlu olan kişilerden biri üzerine yeni bir poliçe çekmesine ne ad verilir?

- A) Retret
- B) Aval
- C) İbraz kaydı
- D) Teşhis kaydı
- E) Geriye ciro

Diğer sayfaya geçiniz.

57. Bonoda, keşideciye karşı yöneltilebilecek talep hakları vadeden itibaren ne kadar süre geçmesiyle zaman aşımına uğrar?

- A) 3 ay B) 6 ay C) 1 yıl
D) 2 yıl E) 3 yıl

58. Çeklerin düzenlenmesiyle ilgili aşağıdaki ifadelerden hangisi doğrudur?

- A) Çekler şarta bağlı olarak düzenlenebilir.
B) Çeklerde muhatap olarak ya banka ya da tacirlerin gösterilmesi şarttır.
C) Çekte keşide yeri gösterilmemişse keşidecinin adının yanında yazılı yer keşide yeri sayılır.
D) Çekte lehtarın adının gösterilmesi zorunludur.
E) Çekte keşide tarihi olarak gerçek keşide tarihi değil, ileri bir tarih yazılmışsa çek geçersiz olur.

59. Çeklerin devriyle ilgili aşağıdaki ifadelerden hangisi doğrudur?

- A) Çeklerin devredilebilmesi için muhatap bankanın rızası şarttır.
B) Hamile yazılı çeklerin ciro ve teslim yoluyla devredilebilmesi mümkündür.
C) Emre yazılı çeklerin devri için alacağın temliki yeterlidir, senedin teslimi gerekmez.
D) Nama yazılı çeklerin devri için sadece senedin teslimi yeterlidir.
E) Emre yazılı çeklerin beyaz ciro ile devri, çekin hamile yazılı çeker dönüşmesi sonucunu doğurur.

60. Poliçe muhatap tarafından kabul edilmediği ya da ödenmediği takdirde, senette imzası bulunan ilgililerin ciro zincirinde kendilerinden üstte yer alan kişilerden poliçe bedeli ile faiz ve komisyon gibi eklerini talep edebilmesine ne ad verilir?

- A) Geriye ciro B) Aval hakkı
C) Müracaat hakkı D) İbraz kaydı
E) Teşhis kaydı

61. İcra ve İflas Kanunu'na göre, hacizdeki kesin borç ödemediği aciz belgesiyle ilgili aşağıdaki ifadelerden hangisi yanlıştır?

- A) Aciz belgesinde yazılı alacak miktarı için borçludan faiz istenemez.
B) Aciz belgesi, İcra ve İflas Kanunu'nun 68. maddesi anlamında borç ikrarını havi bir belge niteliğinde olup itirazın kesin kaldırılmasını sağlayıcı niteliktedir.
C) Alacaklı, aciz belgesini aldığı tarihten itibaren 1 yıl içinde borçluya karşı takip yaparsa borçluya yeniden ödeme emri tebliğ edilmesine gerek yoktur.
D) Aciz belgesi alacaklıya, hacizde İcra ve İflas Kanunu'nun 277. ve devamı maddelerinde düzenlenen iptal davasını açabilme hakkını verir.
E) Aciz belgesine bağlanmış olan borç, borçluya karşı aciz belgesinin düzenlenmesinden itibaren 10 yıl geçmesiyle zaman aşımına uğrar.

62. İcra ve İflas Kanunu'na göre, aşağıdaki dava ve işlerden hangisi icra mahkemesinin görevine girmez?

- A) Borçtan kurtulma davası
- B) İhalenin feshi talebi
- C) İtfa sebebiyle icra takibinin iptali talebi
- D) İtirazın kesin kaldırılması talebi
- E) Hacizde istihkak davası

63. İcra ve İflas Kanunu'na göre, kambiyo senetlerine mahsus haciz yolu ile takipte, icra müdürünün ödeme emrini göndermeden önce aşağıdakilerden hangisini inceleme yetkisi yoktur?

- A) Takip konusu alacağın dayandığı kambiyo senedinin zaman aşımına uğrayıp uğramadığını
- B) Takip alacaklısının yetkili hamil sıfatına sahip olup olmadığını
- C) Kambiyo senedi bono ve poliçe ise vadesinin gelip gelmediğini
- D) Takip konusu alacağın dayandığı senedin kambiyo senedi niteliğinde olup olmadığını
- E) Alacaklının müracaat hakkının ödememe protestosu çekilmesine bağlı olduğu hâllerde protesto belgesinin keşide edilip edilmediğini

64. İcra ve İflas Kanunu'na göre, kambiyo senetlerine mahsus iflas yoluyla takiple ilgili aşağıdaki ifadelerden hangisi yanlıştır?

- A) Bu iflas yoluyla takipte ödeme emrine itiraz süresi 5 gündür.
- B) Takip konusu alacak rehinle temin edilmişse alacaklı, kambiyo senetlerine mahsus iflas yoluna başvurmadan önce rehnin paraya çevrilmesi yoluyla takipte bulunmak zorundadır.
- C) Bu iflas yoluyla takipte borçlunun ödeme emrine itiraz dilekçesinin bir nüshası alacaklıya tebliğ edilir.
- D) Bu iflas yoluyla takipte icra müdürü, senedin kambiyo senedi olduğunu ve vadesinin geldiğini görürse borçluya senet sureti ile birlikte hemen bir ödeme emri düzenleyip gönderir.
- E) Bu iflas yoluyla takipte borcun ve takip masraflarının ödenmesi süresi 5 gündür.

65. Ticareti terk eden tacirlerin, ticareti terk ettiklerinin İcra ve İflas Kanunu'nda öngörülen usule uygun olarak ilan edilmesinden itibaren iflasa tabi olmaya devam edecekleri azami süre ne kadardır?

- A) 1 ay B) 2 ay C) 6 ay D) 1 yıl E) 2 yıl

66. İcra ve İflas Kanunu'nun Tatbikatına Dair Nizamname'ye göre müflisin defter ve vesikaları, iflasın adi tasfiye suretiyle sonlanmasından itibaren kaç yıl sonunda imha olunabilir?

- A) 2 B) 3 C) 5 D) 8 E) 10

67. İcra ve İflas Kanunu'nun Tatbikatına Dair Nizamname'ye göre, aşağıdakilerden hangisi müflisin alacak ve hakları da dahil olmak üzere mevcudunu ve kefalet de dahil olmak üzere bütün borçlarını gösterir kayıt ve vesikalara dayanılarak düzenlenir?

- A) Mutemet B) Muhabere C) Bilanço
- D) Zimmet E) Talimat

68. İcra ve İflas Kanunu'nun Tatbikatına Dair Nizamname'ye göre, mevcudat defteriyle ilgili aşağıdaki ifadelerden hangisi yanlıştır?

- A) Müflisin yabancı ülkelerde bulunan malları Türkiye'de açılan iflas lehine paraya çevrilebiliyorsa mevcudat defterine kaydedilir.
- B) Masaya dahil taşınmazların hasılat ve iratları elde edildikçe mevcudat defterinde buna mahsus bir fasılda kaydedilir.
- C) Mevcudat defteri düzenlenirken memur, ismi defterde yazılı olmayan tanınmış alacaklıların isim ve yerleşim yerleri hakkında müflisi isticvap etmekle mükelleftir.
- D) Masanın İcra ve İflas Kanunu'na göre sahip olduğu iptal hakları mahkemelerce kabul edildiği takdirde mevcudat defterine kaydedilir.
- E) Mevcudat defterinin sonuna, kayıt işleminin ne kadar devam ettiği ve defterin düzenlenmesine katılan bütün kişilerin isimleri yazılıp defterin altı, müdür ve davet edilmiş bilirkişi varsa onun tarafından imzalanır.

69. İcra ve İflas Kanunu'nun Tatbikatına Dair Nizamname'ye göre, adi konkordato taleplerinde tayin olunacak konkordato komiserinin ücreti hangi merci tarafından belirlenir?

- A) Birinci alacaklılar toplantısı
- B) İkinci alacaklılar toplanması
- C) İcra müdürü
- D) İcra mahkemesi
- E) Ticaret mahkemesi

70. İcra ve İflas Kanunu'nun Tatbikatına Dair Nizamname'ye göre, müflisin taşınır ve taşınmaz bütün mallarını ve bunların takdir edilen kıymetlerini gösterir defter aşağıdakilerden hangisidir?

- A) Kıymetli evrak ve değerli şeylerin kaydına ilişkin defter
- B) Zimmet defteri
- C) Mevcudat defteri
- D) Haciz takip defteri
- E) Muhabere defteri

71. İcra ve İflas Kanunu Yönetmeliği'ne göre, aşağıdakilerden hangisi icra mahkemesinde tutulması zorunlu olan defterlerden biri değildir?

- A) Zimmet defteri
- B) Esas defteri
- C) Ceza infaz defteri
- D) Cezaevi yapı pulları yevmiye defteri
- E) Değişik işler ve talimat defteri

72. İcra ve İflas Kanunu Yönetmeliği'ne göre, aciz vesikası verilen takip dosyaları en fazla kaç yıl boyunca saklanır?

- A) 5
- B) 8
- C) 10
- D) 15
- E) 20

73. İcra ve İflas Kanunu Yönetmeliği'ne göre, aşağıdakilerden hangisi bir kaydın, borç ödemededen aciz vesikası sicilinden terkin edilebileceği durumlardan biri değildir?

- A) Aciz vesikasının dayanağı olan icra takibinin alacaklısının ölmesi
- B) İşlenmiş faizleriyle birlikte borcun tamamının aciz vesikasını düzenlemiş olan icra dairesine ödemesi
- C) Aciz vesikasının dayanağı olan icra takibinin batıl olduğuna veya iptal edildiğine dair mahkeme kararı ibraz edilmesi
- D) Hakkında aciz vesikası verilmiş olan borçlunun borçlu olmadığını gösteren mahkeme kararının ibraz edilmesi
- E) Aciz vesikasının dayanağı olan icra takibinin alacaklısının icra takibini geri alması

74. İcra ve İflas Kanunu Yönetmeliği'ne göre, tahsilat makbuzuyla ilgili aşağıdaki ifadelerden hangisi yanlıştır?

- A) Tahsilat makbuzu, icra hâkimi tarafından imzalanır ve mühürlenir.
- B) Tahsilat makbuzu, biri asıl iki nüsha olmak üzere 3 adet düzenlenir.
- C) Tahsilat makbuzu, kasa ve yol giderleri ve tazminatı kayıt defterine işlenecek paralar için düzenlenen makbuzdur.
- D) Tahsilat makbuzunda dosya, cilt ve sıra numarası, alınan paraların rakam ve yazı ile belirtilen tutarı, yatırılma sebebi, kim tarafından yatırıldığı sütunları bulunur.
- E) İcra ve iflas dairelerine listeye bağlı olarak topluca gelen paralar 10 ve daha fazla dosyayı ilgilendirdiği takdirde toplam miktar için tek tahsilat makbuzu kesilebilir.

75. İcra ve İflas Kanunu Yönetmeliği'nin 4. maddesine göre takip talepleri, ihtiyatı haciz ve tedbire yönelik isteklerin kaydedildiği defter aşağıdakilerden hangisidir?

- A) Posta mutemet defteri
- B) Talimat defteri
- C) Muhabere defteri
- D) Zimmet defteri
- E) Esas defteri

76. Damga Vergisi Kanunu'na göre, aşağıdakilerden hangisi damga vergisinden istisna edilen kâğıtlardan biri değildir?

- A) İcra dairelerince resmî daireler namına şahıslara ödenen paralar için düzenlenen makbuzlar
- B) Basmayazı ve Resimleri Derleme Kanunu gereğince derlenen eserler için ilgili dairelerce verilecek makbuzlar
- C) Resmî daireler lehine yapılan istimlaklerde düzenlenen kâğıtlar
- D) Kişilerin işlemleri ile ilgili olarak resmî dairelerce görülecek lüzum üzerine yazılacak şerhler
- E) İcra dairelerinin, alınan harç ve masrafin müfredatını göstermek üzere ilgililere verdikleri makbuzlar

77. Damga Vergisi Kanunu'na göre, damga vergisine tabi kâğıtlarda yazılı yabancı paraların Türk parasına çevrilmesiyle ilgili aşağıdaki ifadelerden hangisi doğrudur?

- A) Yabancı paralar, Maliye Bakanlığınca tayin ve ilan edilecek fiyat üzerinden Türk parasına çevrilir.
- B) Yabancı paralar, T.C. Merkez Bankasının günlük döviz satış kuruna göre Türk parasına çevrilir.
- C) Yabancı paralar, Sanayi ve Ticaret Bakanlığınca tayin ve ilan edilecek fiyat üzerinden Türk parasına çevrilir.
- D) Yabancı paralar, T.C. Merkez Bankasınca tayin ve ilan edilecek fiyat üzerinden Türk parasına çevrilir.
- E) Yabancı paralar, T.C. Merkez Bankasının günlük döviz alış kuruna göre Türk parasına çevrilir.

78. Harçlar Kanunu'na göre, yargılamanın üçüncü duruşmasında davadan feragat hâlinde karar ve ilam harcının ne kadarı alınır?

- A) Dörtte biri
- B) Üçte biri
- C) Yarı
- D) Üçte ikisi
- E) Tamamı

79. Harçlar Kanunu'na göre, haczedilen mal satılıp paraya çevrilmeden önce icra takibinden vazgeçilmesi durumunda takipten vazgeçildiğinin zabıtnameye yazılması için tahsil harcının ne kadarı alınır?

- A) Vazgeçilen miktara ait tahsil harcının tamamı
- B) Vazgeçilen miktara ait tahsil harcının üçte ikisi
- C) Vazgeçilen miktara ait tahsil harcının yarısı
- D) Vazgeçilen miktara ait tahsil harcının üçte biri
- E) Vazgeçilen miktara ait tahsil harcının dörtte biri

80. Harçlar Kanunu'na göre, bir hukuk davasında dördte biri peşin ödenen karar ve ilam harcının geri kalan miktarı kararın verilmesinden itibaren en geç hangi süre içinde ödenir?

- A) 1 hafta B) 8 gün C) 15 gün
D) 1 ay E) 2 ay

81. Tebligat Kanunu'na göre, aşağıdakilerden hangisi davetiyeinin içermesi gereken kayıtlardan biri değildir?

- A) Anlaşılacak şekilde kısaca tebliğin konusu
B) Tarafların ve varsa kanuni temsilci ve vekillerinin T.C. Kimlik Numarası
C) Davet edilen şahsın hangi mercide ve hangi gün ve saatte hazır bulunması gerektiği
D) Tarafların ve varsa kanuni temsilci ve vekillerinin ad ve soyadları
E) Davetiyei çıkaran merciin mührü

82. Tebligat Kanunu'na göre, muhatap yerine kendisine tebligat yapılabilecek kişiyle ilgili aşağıdaki ifadelerden hangisi doğrudur?

- A) Bu kimsenin görünüş itibarıyla 12 yaşından büyük olması ve ehliyetsiz bulunmaması gerekir.
B) Bu kimsenin en az 15 yaşında olması ve ehliyetsiz bulunmaması gerekir.
C) Bu kimsenin en az 25 yaşından büyük olması gerekli ve yeterlidir.
D) Bu kimsenin 16 yaşından büyük olması gerekli ve yeterlidir.
E) Bu kimsenin görünüş itibarıyla 18 yaşından aşağı olmaması ve açık şekilde ehliyetsiz bulunmaması gerekir.

83. Tebligat Kanunu'na göre, aşağıdakilerden hangisi tebligat çıkarabilecek mercilerden biri değildir?

- A) Vakıflar B) Noterler
C) Kazai merciler D) Belediyeler
E) Köy tüzel kişilikleri

84. Tebligat Kanunu'na göre, tebligat kural olarak hangi adreste yapılır?

- A) Muhatabın Türk Medeni Kanunu'na göre yerleşim yeri adresinde
B) Muhatabın bilinen en son adresinde
C) Muhatabın meskeninin bulunduğu adreste
D) Muhatabın iş yeri varsa iş yeri adresinde
E) Muhatabın bilinen ilk adresinde

85. Tebligat Kanunu'na göre, ilan yoluyla tebliğ kural olarak son ilan tarihinden itibaren kaç gün sonra yapılmış sayılır?

- A) 5 B) 7 C) 8 D) 15 E) 30

86. Tebligat Tüzüğü'ne göre, kanunun belirlediği adresten başka bir yerde tebligat yapılabilmesinin şartı aşağıdakilerden hangisidir?

- A) Muhatabın başka yerde tebligat yapılmasını kabul etmesi
- B) Muhatabın adreste bulunamaması
- C) Muhatabın adresinin değişmiş bulunması
- D) Muhatabın yurt dışında bulunması
- E) Muhatabın birden çok tebligat adresi bildirmiş olması

87. Tebligat Tüzüğü'ne göre, tüzel kişilere ve ticarethanelere tebligata ilişkin aşağıdaki ifadelerden hangisi yanlıştır?

- A) Tüzel kişilere tebliğ, yetkili temsilcilerine yapılır.
- B) Tüzel kişilere yapılan tebligatta, muhatap tüzel kişinin kendisidir.
- C) Tüzel kişinin birden çok yetkili temsilcisi varsa tebligatın bunların hepsine ayrı ayrı yapılması gerekir.
- D) Bir ticarethanenin işlemlerinden doğan uyuşmazlıklarda, ticarethanenin o işlemde yetkili ticari mümessiline yapılan tebliğ geçerlidir.
- E) Tüzel kişiler namına kendilerine tebliğ yapılacak kimseler herhangi bir sebeple mutat iş saatlerinde iş yerinde bulunmadıkları takdirde tebliğ, tüzel kişinin o yerdeki memur veya müstahdemlerinden birine yapılır.

88. Tebligat Tüzüğü'ne göre, kendisine tebligat yapılacak kimsenin adresinde bulunamaması durumunda aşağıdakilerden hangisine tebligat yapılabilir?

- A) Muhatap ile aynı evde oturan hizmetçisine
- B) Muhatapı ziyarete gelmiş olan annesine
- C) Muhatapın yan dairesinde oturan komşusuna
- D) Muhatapın oturduğu yerin kapıcısına
- E) Muhatapın oturduğu yerin yöneticisine

89. Tebligat Tüzüğü'ne göre, 1 yıldan az hürriyeti bağlayıcı ceza ile mahkûm olmuş bir kimseye cezaevinde yapılacak tebligat ile ilgili aşağıdaki ifadelerden hangisi doğrudur?

- A) Tebligat, bu kişinin ailesine yapılır.
- B) Tebligat, bu kişinin kendisine yapılır.
- C) Tebligat, bu kişinin bulunduğu cezaevi müdürüne yapılır.
- D) Tebligat, bu kişiye iletmek üzere Adalet Bakanlığına yapılır.
- E) Tebligat, bu kişinin bulunduğu cezaevinden sorumlu savcıya yapılır.

90. Tebligat Tüzüğü'ne göre, muhatapın ölmüş olması durumunda aşağıdakilerden hangisi yapılır?

- A) Tebliğ evrakı tebligatı çıkartan mercie geri gönderilir.
- B) Tebliğ evrakı muhatapın mirasçılara verilir.
- C) Tebliğ evrakı en yakın polis karakoluna bırakılır.
- D) Tebliğ evrakı mahalle muhtarına teslim edilir.
- E) Tebliğ evrakı muhatapın komşusuna verilir.

91. Bir taraf, diğer tarafça aleyhine olarak ileri sürülen bir maddi vakianın doğruluğunu kabul etmekle birlikte kabul ettiği bu vakianın hukuki niteliğinin iddia edilenden farklı olduğunu ileri sürüyorsa aşağıdakilerin hangisinden söz edilir?

- A) Bağlantısız bileşik ikrar B) Basit ikrar
C) Bağlantılı bileşik ikrar D) Kısmi ikrar
E) Vasıflı ikrar

92. Dava konusu kılınan hakla davanın tarafları arasındaki ilişkiye ne denir?

- A) Taraf ehliyeti
B) Dava ehliyeti
C) Husumet
D) Davayı takip yetkisi
E) Davaya vekâlet ehliyeti

93. Hukuk Usulü Muhakemeleri Kanunu'na göre, aşağıdakilerden hangisi dava dilekçesinde bulunması zorunlu unsurlardan biri değildir?

- A) Talep sonucu B) Dava sebepleri
C) Dava konusu D) Hukuki sebepler
E) Davacının adı, soyadı ve adresi

94. Hukuk Usulü Muhakemeleri Kanunu'na göre, aşağıdakilerden hangisi hâkimin davaya bakmaktan yasaklı olduğu hâllerden biridir?

- A) Davanın taraflarından birinin hâkimin evlatlığı olması
B) Davanın taraflarından birinin hâkimin teyzesinin oğlu olması
C) Davanın taraflarından birinin hâkimin aynı siteden komşusu olması
D) Davanın taraflarından birinin hâkimin nişanlısı olması
E) Davanın taraflarından biri ile hâkim arasında bakmakta olduğu davadan daha önce açılmış ve hâlen görülmekte olan bir dava bulunması

95. Hukuk Usulü Muhakemeleri Kanunu'na göre, aşağıdakilerden hangisi davaya vekâlette vekile özel yetki verilmesini gerektiren işlemlerden biridir?

- A) İhtiyati tedbir talebinde bulunmak
B) Feri müdahale talebinde bulunmak
C) Hükmü temyiz etmek
D) Sulh olmak
E) Hükmü icraya koymak

96. Hukuk ve Ticaret Mahkemelerinin Yazı İşleri Yönetmeliği'ne göre, aynı mahkemenin birden fazla dairesi bulunan yerlerde, dava dilekçelerinin kaydına mahsus olup bu dilekçelerin mahkemeler arasındaki dağıtımını gösteren ve nöbetçi mahkeme tarafından tutulan defter aşağıdakilerden hangisidir?

- A) Tevzi defteri
B) Zimmet defteri
C) Kasa defteri
D) Kitaplık defteri
E) Esas defteri

97. Hukuk ve Ticaret Mahkemelerinin Yazı İşleri Yönetmeliği'ne göre, muhakeme sırasında verilen vesikaları kaydiyesini yaptırmak için veren kimse-lerden ücretleriyle birlikte alan kişi aşağıdakilerden hangisidir?

- A) Hâkim
B) Mübaşir
C) Kalem şefi
D) Kalem şefi muavini
E) O muhakemede görevli tutanak yazıcısı

98. Hukuk ve Ticaret Mahkemelerinin Yazı İşleri Yönetmeliği'ne göre, vezne teşkilatı olan yerlerde vezneye gelen veznece başka mercilere gönderilen tahriratın kaydı amacıyla tutulan defter aşağıdakilerden hangisidir?

- A) Mevcudat defteri
B) Talimat defteri
C) Esas defteri
D) Muhabere defteri
E) Kasa defteri

99. Hukuk ve Ticaret Mahkemelerinin Yazı İşleri Yönetmeliği'ne göre, bilgisayar kullanan hukuk ve ticaret mahkemelerinde dava açıldığı tarih aşağıdakilerden hangisidir?

- A) Dava dilekçesinin tevzi bürosuna kaydı tarihi
B) Dava dilekçesinin hâkim tarafından havale edildiği tarih
C) Dava dilekçesinin mahkeme esas defterine kaydedildiği tarih
D) Davaya ilişkin harçların yatırıldığı tarih
E) Dava dilekçesinin muhabere defterine kaydedildiği tarih

100. Hukuk ve Ticaret Mahkemelerinin Yazı İşleri Yönetmeliği'ne göre, mahkemeye verilen ve gönderilen muhabere evrakının kalemde açılması aşağıdakilerden hangisine bağlıdır?

- A) Kalem şefinin iznine
B) İşin müstacel olmasına
C) Hâkimin yazılı müsadesine
D) Evrakı veren ya da gönderenin iznine
E) Evrakın "gizlidir" ibaresiyle verilmemiş olmasına

TEST BİTTİ.

CEVAPLARINIZI KONTROL EDİNİZ.

SINAVDA UYULACAK KURALLAR

1. Adayların cep telefonu, çağrı cihazı, telsiz, fotoğraf makinesi, cep bilgisayarı, saat fonksiyonu dışında fonksiyonu olan saat, hesap makinesi, sözlük, kitap, defter, müsvedde kâğıdı, pergel, açi ölçer, cetvel ve benzeri her türlü araç gereçle sınava girmesi kesinlikle yasaktır. Bu araçlarla sınava girmiş adaylar mutlaka Salon Sınav Tutanağına yazılacak, bu adayların sınavı geçersiz sayılacaktır.
2. Bu sınavda verilen toplam cevaplama süresi **120 dakikadır (2 saat)**. Sınavın **ilk 60 ve son 15** dakikası içinde hiçbir aday dışarı çıkarılmayacaktır. Cevaplamayı süre bitmeden tamamlarsanız, cevap kâğıdınızı ve soru kitapçığınızı salon görevlilerine teslim ederek salonu terk edebilirsiniz. Sınav süresinin bittiği ilân edilip cevap kâğıtları ve soru kitapçıkları salon görevlileri tarafından toplanıncaya kadar yerlerinizde kalınız.
3. Sınav evrakını teslim ederek salonu terk eden aday, her ne sebeple olursa olsun tekrar sınava alınmayacaktır.
4. Sınav süresince görevlilerle konuşmak ve soru sormak yasaktır. Aynı şekilde görevlilerin de adaylarla yakından ve alçak sesle konuşmaları; ayrıca, adayların birbirinden kalem, silgi vb. şeyleri istemeleri kesinlikle yasaktır.
5. Sınav sırasında kopya çeken, çekmeye girişen, kopya veren, kopya çekilmesine yardım edenlerin kimlikleri, Salon Sınav Tutanağına yazılacak ve bu adayların sınavları geçersiz sayılacaktır. Görevliler kopya çekmeye veya vermeye kalkışanları uyarmak zorunda değildir, sorumluluk size aittir.

Adayların test sorularına verdikleri cevapların dağılımları bilgi işlem yöntemleriyle incelenecek; bu incelemelerden elde edilen bulgular bireysel veya toplu olarak kopya girişiminde bulunulduğunu gösterirse, kopya eylemine katılan adayların cevaplarının bir kısmı veya tamamı geçersiz sayılacaktır. Cevap kâğıdınızı başkaları tarafından görülmeyecek şekilde tutmanız gerekmektedir. Bu durum sizin için son derece önemlidir.

ÖSYM Temsilcisi bir salondaki sınavın, kurallara uygun biçimde yapılmadığını, toplu kopya girişiminde bulunulduğunu raporunda bildirdiği takdirde, ÖSYM takdir hakkını kullanarak bu salonda sınava giren adayların tümünün sınavını geçersiz sayabilir.
6. Adaylar, görevlilerin her türlü uyarılarına uymak zorundadır. Görevliler, gerektiğinde oturduğunuz yerleri de değiştirebilir. Sınavınızın geçerli sayılması, her şeyden önce sınav kurallarına uymanıza bağlıdır.

Kurallara aykırı davranışta bulunanların ve yapılacak uyarılara uymayanların kimlikleri tutanağa yazılacak ve sınavları geçersiz sayılacaktır.
7. Cevap kâğıdında doldurmanız gereken alanlar bulunmaktadır. Bu alanları eksiksiz doldurunuz. Cevap kâğıdına yazılacak her türlü yazıda ve yapılacak bütün işaretlemelerde kurşun kalem kullanılacaktır. Tükenez kalem ve dolma kalem kesinlikle kullanılmayacaktır.
8. Cevapların cevap kâğıdına işaretlenmiş olması gerekir. Soru kitapçığına işaretlenen cevaplar geçerli değildir.
9. Soru kitapçığınızı alır almaz, sayfaların eksik olup olmadığını, kitapçıkta basım hatalarının bulunup bulunmadığını kontrol ediniz. Soru kitapçığınızın sayfası eksik veya basımı hatalı ise değiştirilmesi için derhâl Salon Başkanına başvurunuz.

Soru kitapçığında her sayfanın tepesinde basılı bulunan soru kitapçığı türünün, kitapçığın ön kapağında basılı soru kitapçığı türüyle aynı olup olmadığını kontrol ediniz. Farklı olması durumunda Salon Başkanından yeni bir soru kitapçığı isteyiniz. Soru kitapçığınızın türünün değişik olduğunu daha sonra fark ederseniz, size o zamana kadar cevaplama yaptığınız türden, hatasız bir soru kitapçığı verilmesi için Salon Başkanına başvurunuz.

Cevap kâğıdınızda, size verilen soru kitapçığının türünü "Soru Kitapçığı Türü" alanında ilgili yuvarlağı doldurarak belirtiniz. Cevap kâğıdınızda işaretlediğiniz Soru Kitapçığı Türü salon görevlileri tarafından sınav öncesi kontrol edilerek paraflanacaktır. Sizin işaretlediğiniz ve salon görevlilerinin parafladıkları kitapçık türü arasında fark olması hâlinde salon görevlilerinin parafladıkları kitapçık türü dikkate alınacaktır.
10. Cevaplamaya geçmeden önce size verilecek soru kitapçığı üzerinde ayrılan yere adınızı, soyadınızı, T.C. Kimlik Numaranızı ve bu salonun salon numarasını yazınız. Sınav sonunda soru kitapçıkları ile cevap kâğıtları toplanacak ve ÖSYM'de tek tek incelenecektir. Soru kitapçığınızın bir tek sayfası bile eksik çikarsa sınavınız geçersiz sayılacaktır.
11. Soru kitapçığının sayfalarındaki boş yerleri müsvedde için kullanabilirsiniz.
12. Sınav süresince, görevliler dahil, salonda kimse sigara, pipo, puro vb. şeyleri içmeyecektir.
13. Soruları ve bu sorulara verdiğiniz cevapları ayrı bir kâğıda yazıp bu kâğıdı dışarı çıkarmanız kesinlikle yasaktır.
14. Sınav salonundan ayrılmadan önce, soru kitapçığınızı cevap kâğıdınızı ve Sınav Giriş ve Kimlik Belgenizi salon görevlilerine teslim etmeyi unutmayınız.
15. Sınav sonuçları 30 gün içinde T.C. Adalet Bakanlığına gönderilecek, ayrıca adresinize de postalanacaktır.

T.C. ADALET BAKANLIĞI
İCRA MÜDÜR VE İCRA MÜDÜR YARDIMCILARINI SEÇME SINAVI

3 EKİM 2009

GENEL YETENEK VE GENEL KÜLTÜR TESTİ – ALAN BİLGİSİ TESTİ

A KİTAPÇIĞI

- | | | | |
|-------|-------|-------|--------|
| 1. A | 26. B | 51. B | 76. A |
| 2. E | 27. E | 52. A | 77. A |
| 3. B | 28. D | 53. D | 78. D |
| 4. B | 29. A | 54. E | 79. C |
| 5. B | 30. C | 55. E | 80. E |
| 6. C | 31. C | 56. A | 81. B |
| 7. E | 32. E | 57. E | 82. E |
| 8. A | 33. B | 58. C | 83. A |
| 9. B | 34. A | 59. B | 84. B |
| 10. D | 35. E | 60. C | 85. B |
| 11. D | 36. C | 61. E | 86. A |
| 12. C | 37. B | 62. A | 87. C |
| 13. D | 38. D | 63. A | 88. A |
| 14. B | 39. D | 64. B | 89. B |
| 15. A | 40. A | 65. D | 90. A |
| 16. E | 41. C | 66. E | 91. E |
| 17. C | 42. C | 67. C | 92. C |
| 18. B | 43. E | 68. A | 93. D |
| 19. A | 44. A | 69. D | 94. A |
| 20. E | 45. C | 70. C | 95. D |
| 21. C | 46. E | 71. D | 96. A |
| 22. D | 47. D | 72. E | 97. B |
| 23. A | 48. E | 73. A | 98. D |
| 24. D | 49. B | 74. A | 99. A |
| 25. E | 50. A | 75. E | 100. C |