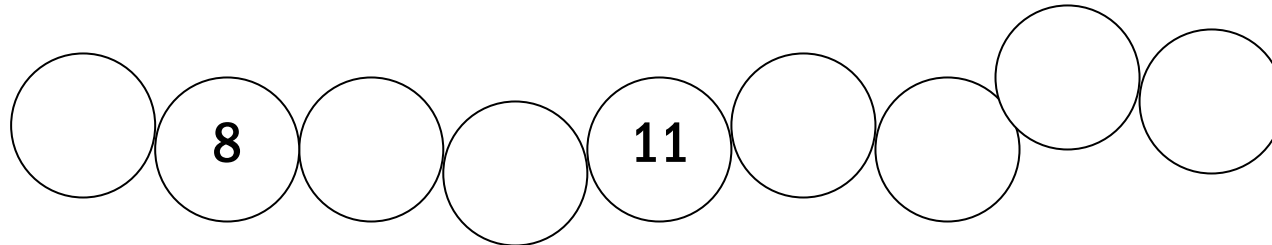

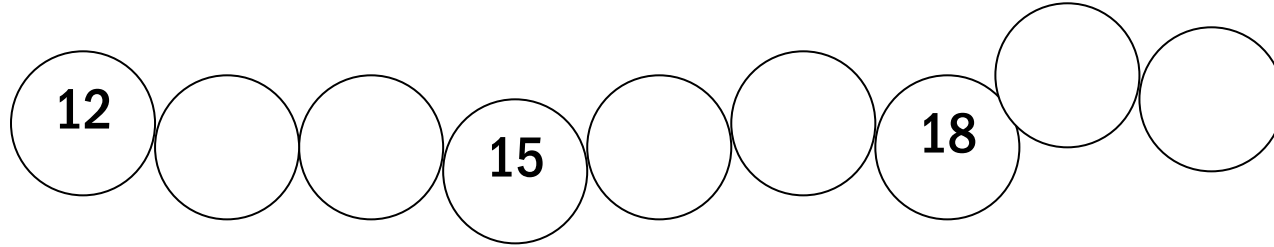
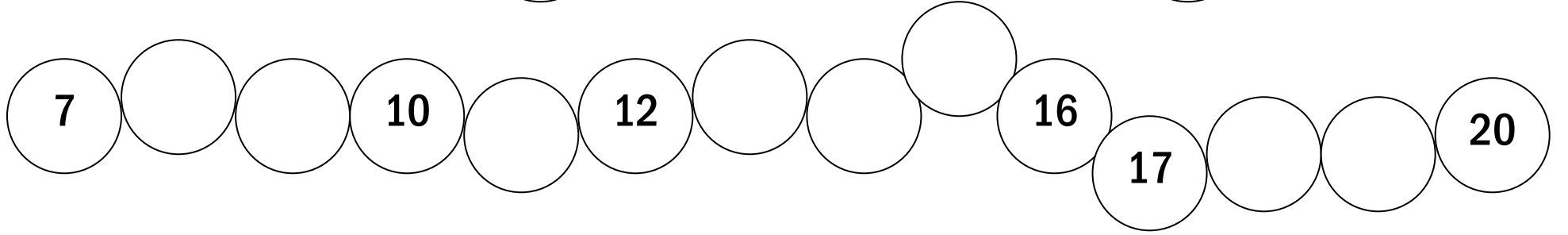
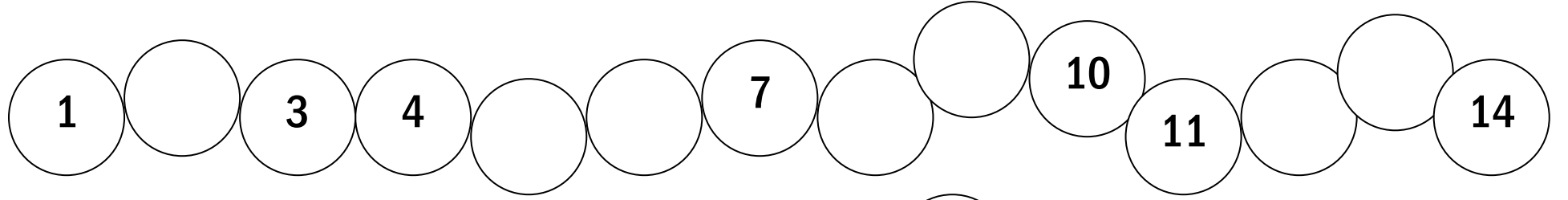


Boş bırakılan yerlere rakamları yazarak ritmik sayma yapalım.



Boş bırakılan yerlere rakamları yazarak ritmik sayma yapalım.

2			5				9				13			
---	--	--	---	--	--	--	---	--	--	--	----	--	--	--

4				8			11					16		
---	--	--	--	---	--	--	----	--	--	--	--	----	--	--

9	10						16							
---	----	--	--	--	--	--	----	--	--	--	--	--	--	--

11					16
----	--	--	--	--	----

	14				18
--	----	--	--	--	----

16				20	
----	--	--	--	----	--

7			10		
---	--	--	----	--	--

	9		11		
--	---	--	----	--	--

		17			20
--	--	----	--	--	----

13			16		
----	--	--	----	--	--

10			13		
----	--	--	----	--	--

			17	18	
--	--	--	----	----	--

	7	8			
--	---	---	--	--	--