

**TÜRKÇE**

(Gerçek/Mecaz Anlam)

1. "Yenmek" kelimesi hangi cümlede farklı anlamda kullanılmıştır?

- A) Öfkemi yenmek için Ömer ile konuştum.  
B) Bizim takım, basketbolda diğer okulu yendi.  
C) Satrançta herkesi yenerek şampiyon oldu.  
D) Melih, Aydın'ı bilek güreşinde yendi

2. Aşağıdaki cümlelerin hangisinde mecazlı bir anlatım yoktur?

- A) Boğazından artırdığı birkaç kuruşu bankaya yatırmıştı.  
B) Boğazından kesip biriktirdi, araba aldı.  
C) "Yangın var!" diye boğazını yırtarcasına bağırıyordu.  
D) Yediği iri lokma bir anda boğazına takıldı.

3. Altı çizili kelimelerden hangisi mecaz anlamda kullanılmıştır?

- A) Avcı elinde sopası, sırtında ağıyla geldi.  
B) Leyla, derin düşüncelere dalmıştı.  
C) Güvercinler ağın içine düştüler.  
D) Güvercinler boş yere kanat çırpıyorlar.



4. "El" sözcüğü hangi cümlede gerçek anlamıyla kullanılmıştır?

- A. Otobüsteki yolculara el salladık.  
B. Bu işte onun da eli var.  
C. Emaneti elden göndermiş.  
D. Bu arabayı hemen elden çıkarmalısın.

5. "Öldürmek" sözcüğü aşağıdaki cümlelerin hangisinde gerçek anlamında kullanılmamıştır?

- A) Savaşta onlarca insanı öldürdü.  
B) Hastalıklar, Afrika'da her yıl binlerce çocuğu öldürdü.  
C) Aslan, bir hamlede bizonu öldürdü.  
D) Komedyen, bütün salonu gülmekten öldürdü.

6. Aşağıdaki cümlelerin hangisinde gerçek anlamının dışında kullanılan bir sözcük vardır?

- A) Çabucak atları durdurdu.  
B) Sözlerimi duyunca yüzünü ekşitti.  
C) Çalıkları, dikenleri elleriyle söktü.  
D) Bu, çok güzel bir kitapmış.

7. "Sıcak" kelimesi hangi cümlede gerçek anlamında kullanılmıştır?

- A. Çorba oldukça sıcaktı.  
B. Sıcak bir yuvam olsun istiyorum.  
C. Kısa sürede sıcacık dostluklar kurdu.  
D. Bize çok sıcak davrandı.

8. Aşağıdaki cümlelerden hangisinde mecazlı bir anlatım vardır?

- A) Duygu ve düşüncelerimi iyi ifade ederim.  
B) Etrafımda gördüklerimi ayrıntılarıyla hatırlarım.  
C) Görsel bulmacalar çözmekten hoşlanırım.  
D) Bakışları çok sert biriydi.

**MATEMATİK**

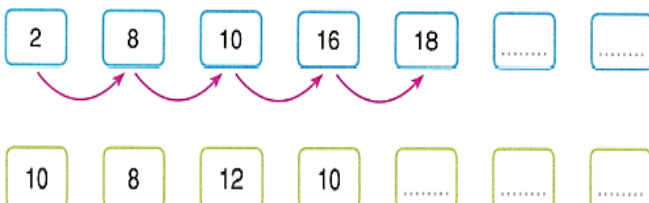
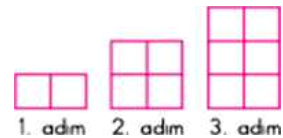
A. Aşağıdaki sayı örüntülerini üçer adım daha devam ettiriniz.

743	751	759	767	....	....	....
601	598	595	592	....	....	....
814	807	800	793	....	....	....
197	201	205	209	....	....	....

B. Aşağıdaki sayı örüntülerinde boş bırakılan yere yazılması gereken sayıları yazınız.

10	20	15	25	20	30	35
54	48	42		30	24	12
128	64	32		8	2	
360		480	540	600		720

C. Aşağıda verilen örüntünün kuralını bularak tamamlayınız

**SORULAR**

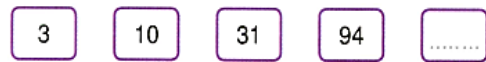
1. Yukarıdaki örüntünün 16. adımında küçük karelerden kaç adet vardır?

- A) 16 B) 24 C) 32 D) 36

$$23 - 31 - 39 - ? - 55$$

2. Yukarıdaki sayı örüntüsünde "?" ile gösterilen yere hangi sayı gelmelidir?

- A) 45 B) 47 C) 49 D) 51



3. Yukarıdaki örüntünün devamında gelmesi gereken sayı kaçtır?

- A. 270 B. 282 C. 283 D. 310

## SOSYAL BİLGİLER

### SORULAR

“Kültürel öğelerin bir parçası da binalardır.”

1. Aşağıdakilerden hangisi kültürümüzün bir parçası değildir?

- A. Topkapı Sarayı B. Alışveriş Merkezi  
C. Sultanahmet Cami D. Kız Kulesi

2. “Millî kültürümüzün vazgeçilmez bir parçası da .....” cümlesinin sonuna aşağıdakilerden hangisinin gelmesi uygun olur?

- A. Pastalarımızdır B. Telefonlardır  
C. Türk kahvesidir D. Selamlaşmadır

3. Aşağıdaki ifadelerden hangisi doğrudur?

- A. Kültürel öğeleri korumalıyız.  
B. Yeni kültürleri benimsemeliyiz.  
C. Kültürel faaliyetlerde bulunmamalıyız.  
D. Teknolojinin kültürümüze etkisi yoktur.

4. Millî kültürünü kaybetmiş, unutmuş bir millet; bu durumdan nasıl etkilenir?

- A. Her alanda gelişir.  
B. Diğer milletleri de etkiler.  
C. Tarih sahnesinden kaybolur.  
D. Yeni kültürler öğrenerek gelişir.

5. Aşağıdakilerden hangisi kültürel olguda zamanla değişimler yaşanmıştır?

- A. Bayram ziyaretleri  
B. Çeyiz hazırlama  
C. Bayramlarda tatile gitme  
D. Büyüklerin elini öpme

6. “Millî kültürün bir parçası da yemek kültürümüzdür.” ifadesine göre aşağıdaki yiyeceklerden hangisi Türk kültürüne ait değildir?

- A. mantı B. dolma C. baklava D. pizza

“At üzerinde, iki takım hâlinde oynanan ve oyuncuların ellerindeki sopaları birbirlerine atarak oynadığı eski oyundur.”

7. Yukarıda tanımlı verilen oyunun ismi nedir?

- A. Çelik - çomak B. Güreş C. Topaç D. Cirit

8. Atatürk, millî kültürümüzün korunması için hangi kurumu kurmuştur?

- A. Türk Dil ve Tarih Kurumu  
B. Millî Eğitim Bakanlığı  
C. Türk Silahlı Kuvvetleri  
D. Şeker Fabrikası

## FEN BİLİMLERİ

A. Aşağıdakilerden hangileri kuvvetin cisimler üzerindeki etkilerindendir? Boyayalım.

Yavaşlatma	Hızlandırma
Sıcaklığını artırma	Yön değiştirme
Renk değiştirme	Şekil değiştirme

B. Aşağıdaki tabloda bazı cisimlere çeşitli kuvvetler uygulanıyor. Yapılan işlemler ve sonuçları tabloda belirtildiğine göre, hangi maddeler kuvvet ortadan kaldırıldığında tekrar eski şekline döner? Yazalım.

	Madde	İşlem	Sonuç
1	Sünger	Sıkma kuvveti	
2	Paket lastiği	Germe kuvveti	
3	Demir tel	Bükme kuvveti	

C. Aşağıda verilen olaylarda kuvvetin hangi etkisi görülür? Eşleştirelim.

A	Cam bardağın kırılması	Hızlandırma
B	Topun direktten dönmesi	Şekil değiştirme
C	Otobüsün fren yapması	Yön değiştirme
D	Otomobilin gazına basma	Yavaşlatma

## DOĞRU YANLIŞ

\* Aşağıda verilen cümlelerden doğru olanlar için “ D ”, yanlış olanlar için “ Y ” yazalım.

Kum torbasına vurduğunuzda şekli değişmez.
Otomobil, uçağa göre daha yavaş hareket eder.
Hareket eden cisimlerin durması için kuvvete ihtiyacı vardır.
Demir tel büküldüğünde kuvvet uygulamayı bıraktığımızda eski hâline döner.
Yavaşlayan hareket yapan cisimlerin hızı artar.
Uzaya fırlatılan uzay aracı hızlanan hareket yapar.
Duvara çarpan top, yönü değişen hareket yapar.
Hareket eden her cismi durdurmaya çalışmak bazen tehlikeli olabilir.
Uçaklar kalkarken hızlanma hareketi yapar.

Veli İmza: .....