

2016

## DENEME SINAVI 2

3/A SINIFI

VEYSEL KANDAK

MUZAFFERETTİN GAZİ İLKOKULU

18.02.2016

Hayat Bilgisi 15 soru,

Türkçe 15 soru,

Matematik 15 soru,


Fen Bilimleri 15 sorudan oluşmaktadır.

Sınav süreniz 70 dakikadır.

BAŞARILAR.

# HAYAT BİLGİSİ SORULARI

1. Görsellerdeki öğrencilerden hangisi okul araç ve gereçlerini düzenli kullanmaktadır?



2. Aşağıdakilerden hangisi sınıf başkanlığı seçiminde oy kullanabilir?

A) **Müdür**

B) **Öğretmen**

C) **Öğrenciler**

3.



Çocuklar, kızgınlık olumsuz bir duygudur. Kızgın olduğumuzda yanlış davranışlarda bulunup çevremizdeki insanları kırabiliriz. Peki bunu engellemek için kızdığımızda nasıl davranmalıyız?

Öğretmenin sorusunu hangi öğrenci doğru cevaplamıştır?

A) Arkadaşımıza kızdığımızda ona birşey söylemeden öğretmenimize şikâyet etmeliyiz.

B) Önce sakinleşmeli sonra arkadaşımıza duygularımızı söylemeliyiz.

C) Bizi kızdıran arkadaşımıza biz de kızmalı ve bağırmalıyız.

4. Aşağıdaki yazılı olan bilgilerden hangileri doğrudur?

I. Her sorunun bir çözümü vardır.  
II. Herkes hata yapabilir.  
III. Hatalardan ders çıkaramayız.  
IV. Hata yaptığımızda özür dilemeliyiz.

A) I, II ve IV

B) I, II ve III

C) I ve IV

5. Karşıya geçmek için yolun en güvenilir yerleri nelerdir?

- A) Alt ve üst geçitler
- B) Kavşaklar
- C) Yaya geçidinin olmadığı yerler

6. Okula geliş ve gidişlerde olumsuz bir durumla karşılaşırsak aşağıdakilerden hangisini yapmamalıyız?

- A) Ailemize ve öğretmenlerimize haber verebiliriz.
- B) Panik ve telaş yapabiliriz.
- C) Güvenlik görevlilerinden yardım isteyebiliriz.

7. İrem'in annesi görselde verilen durumda nereye başvurmalıdır?



Annem, aldığı kazağı kullanma talimatına göre yıkadı. Yıkama sonucunda kazağın şekli bozuldu. Annem kazağı aldığı mağazaya geri götürdü ama mağaza kazağı geri almadı.

- A) Türk Standartları Enstitüsü
- B) Tüketici Hakları Hakem Heyeti
- C) Ormanları Koruma Derneği

8. Aşağıdakilerden hangisi öğrenci kulüplerinin çalışmalarından birisi değildir?

- A) Okulu ve okul çevresini güzelleştirmek
- B) Yardım amaçlı kampanyalar düzenlemek
- C) Ünlü olmak için çalışmak

9. Aşağıda verilen duruma göre seçeneklerden hangisi doğrudur?



Hasan ile Ali teneffüste kantine doğru sıra kapmak için koşarken Hasan, Ali'yi çelme takıp düşürdü. Bunun üzerine Ali öfke ile Hasan'ın üzerine yürüdü ve kavga etmeye başladılar.




- A) Hasan ile Ali birbirinden özür dilemelidir.
- B) Ali, Hasan'a çelme takmalıdır.
- C) Ali, Hasan'ı döverek intikamını almalıdır.



10.

Burak ve arkadaşları maçı kaybetmiştir.

Aşağıdaki öğrencilerden hangisinin davranışı etiktir?

- A)  Arkadaşlarımla bir daha konuşmayacağım.
- B)  Önemli olan eğlenmemizdi.
- C)  Hakem taraf tuttu.



11.

Kerem Emel

Okuldan çıkınca parka gidip biraz oyun oynayalım.

Emel'in bu teklifine Kerem nasıl cevap vermelidir?

- A) Olur, bugün ödevim çok az zaten.
- B) Mete gelirse ben de gelirim.
- C) Önce annemden izin almalıyım.

▲ 19 Mayıs

★ 29 Ekim

● 23 Nisan

12.

Hangi sembolle gösterilen tarih, Ulusal Egemenlik ve Çocuk Bayramı'nı ifade eder?

A) ▲

B) ★

C) ●

13. Aşağıdakilerden hangisi Atatürk'ün öğrencilik yıllarını yansıtmaktadır?

A) Zeki, kavgacı, kıskanç, çalışkan

B) Zeki, başarılı, çalışkan, örnek davranışlı

C) Zeki, başarılı, asi, afacan, yaramaz



Arkadaşlarımı çok seviyorum. Onlara elimden geldiği kadar yardım etmekten hoşlanıyorum.

14.

Dilara, aşağıdaki özelliklerden hangisi ile tanımlanamaz?

A) Yardımseverdir.

B) Sevecendir.

C) Kabadır.

15. Aşağıdakilerden hangisi öğrenme yöntemlerinden değildir?

A) Çizgi film seyretmek

B) Araştırma yapmak

C) Grup çalışması yapmak

HAYAT BİLGİSİ SORULARI BİTTİ.

# TÜRKÇE SORULARI

Çok susayana bir güvercin, su içmek için bir dere kıyısına inmiş. Tam eğilip su içerken bir karıncanın suya düştüğünü görmüş. Zavallı karınca, sudan kurtulmak için çırpınıp duruyormuş. Güvercin, karıncaya çok acımış, kıyıdan aldığı bir çöpü suya bırakmış. Karınca da çöpe tutunarak kıyıya çıkmış. Bu sırada oradan geçen bir avcı, güvercini görünce sevinmiş. "Ne güzel bir av!," diye düşünmüş. Her şeyden habersiz güvercine silahını çevirip nişan almış. Karınca, bunu görünce avcının çıplak topuğundan ısırılmış. Avcı, acı ile haykırarak. Avcının sesini duyan güvercin de havalanıp uçmuş. Böylece karınca da güvercinin yaptığı iyiliğin altında kalmamış.

İlk 3 soruyu yukarıdaki metne göre cevaplayınız.

1. Güvercin karıncayı nasıl kurtarmış?

- A) Ayaklarından tutarak
- B) Gagasına alarak
- C) Kıyıdan aldığı bir çöpü suya atarak

2. Karınca, avcının neresinden ısırılmış?

- A) Çıplak topuğundan
- B) Kulağından
- C) Parmağından

3. Aşağıdakilerden hangisi metnin anahtar kelimelerinden birisi olamaz?

- A) Karınca
- B) Yalnızlık
- C) İyilik

| 1   | 2     | 3         | 4        |
|-----|-------|-----------|----------|
| ile | Ceyda | gideceğiz | sinemaya |

Yukarıdaki sözcüklerle anlamlı ve kurallı bir cümle oluşturursam hangisi en sonda yer alır?



4.

- A) 1
- B) 2
- C) 3



5.



Ben öyle bir noktalama işaretiyim ki hiçbir cümlemin sonuna konulamam.

Yukarıda belirtilen noktalama işareti aşağıdakilerden hangisidir?

A)



B)



C)



6. Hangi karakterin konuşması bir cümle değildir?

A)



B)



C)



7.



Ahmet sınıftaki en uzun öğrencidir.

Cümledeki altı çizili sözcüğün karşıt anlamı hangi görselde verilmiştir?

A)



B)



C)

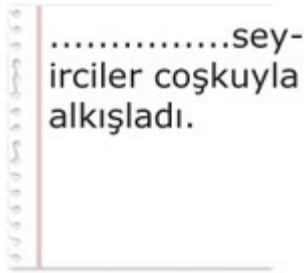


8. Aşağıdaki defterlerin hangisinde satır sonuna sığmayan sözcükler doğru ayrılmıştır?

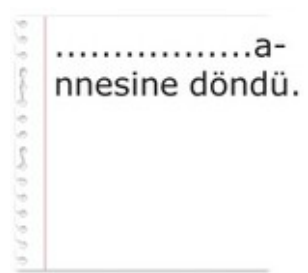
A)



B)



C)

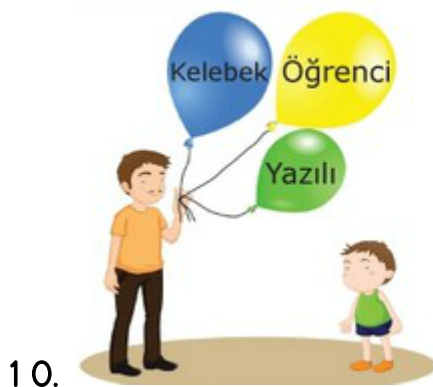


9. Ayşe'nin konuşması hangi seçenekteki ifade ile tamamlanabilir?



Oyun oynarken mutlaka kurallara uyarım, bu yüzden.....

- A) her işi zamanında yapmalıyız.
- B) oyunlarda kazananı kutlamak gerekir.
- C) tüm arkadaşlarım benimle oynamak ister.



Mert, yapım eki **almamış** olan sözcüğün yazılı olduğu balonu satın alıyor. Mert'in aldığı balon aşağıdakilerden hangisidir?




10.

- A) Yazılı
- B) Kelebek
- C) Öğrenci



Aşağıdaki öğrencilerden hangisi konuşmasında karşılaştırma **yapmamıştır**?

11.

- A)  Bilgi yarışmasında birinci oldum.
- B)  Ben bunu diğerinden daha çok beğendim.
- C)  Geçen haftaki oyun bundan daha güzeldi.



1. Demir atmak

2. Gözünde büyötmek

3. Can atmak

12.

Kaç numaralı deyim \* Bir şeyi yapmayı çok istemek. anlamında kullanılmıştır?

A) 3

B) 2

C) 1

13. Hangi kahramanın cümlesindeki altı çizili sözcük basit sözcüktür?

Ben bir şarkıcıyım sayın seyirciler.



A)

Her kemancının mutlaka bir kemani vardır.



B)

Hangi şarkıyı çalmamı istersiniz?



C)

ma

tu

koş

14.

Yukarıdaki heceleri kullanarak seçeneklerdeki sözcüklerden hangisini oluşturamayız?

Koştu

A)

Koşu

B)

Koşma

C)



Köyün çobanı, mısır tarlasının ya-  
nındaki tek katlı evde oturuyordu.

15.

Tolga'nın cümlesinde aşağıdaki hikaye unsurlarından hangisi yoktur?

Karakter

A)

Zaman


B)

Yer


C)

TÜRKÇE SORULARI BİTTİ.


# MATEMATİK SORULARI


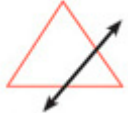

1.  Aşağıdakilerden hangisi doğru parçasıdır?

A)  B)  C) 




2.  Aşağıdaki karşılaştırmalardan hangisi yanlıştır?

A)  $957 < 992$  B)  $578 > 627$  C)  $779 < 902$

3.  Aşağıdaki şekillerden hangisinin simetri doğrusu doğru çizilmiştir?

A)  B)  C) 

4.  Yandaki noktalı kâğıtta, kaç tane dar açı vardır?

A)  B)  C) 



Aşağıdaki tabloda basamak değerleri verilen sayı kaçtır?

| Yüzler b. | Onlar b. | Birler b. |
|-----------|----------|-----------|
| 700       | 70       | 9         |

5.

A)



B)



C)



6. Aşağıdaki cümlede boş bırakılan yere seçeneklerdeki sözcüklerden hangisi gelmelidir?

Duvar bir düzlem ise duvardaki ayna .....dır.

A) Düzlem parçası

B) Nokta

C) Eğik doğru

7. Aşağıdaki örüntüyü devam ettirirsek 5. adımda kaç tane nokta olur?



A) 15

B) 14

C) 13

8.



Yukarıdaki ritmik saymada kuralı bozan sayı hangisidir?

A) 27

B) 36

C) 44

9.

I - III - V - VII - IX - XI - ●

Yukarıdaki örüntüde "●" yerine hangi sayı yazılmalıdır?

A)

XIII

B)

XIV

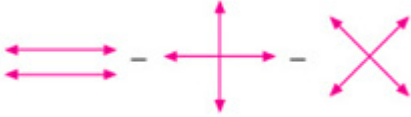
C)

XII

10.

Dik doğrular - paralel doğrular ve kesilen doğrular aşağıdakilerin hangisinde sırasıyla gösterilmiştir?

A)



B)



C)



11.



836 en yakın onluğa yuvarlandığında aşağıdakilerden hangisi bulunur?

A)



B)



C)



$$A = 15 + 25$$
$$B = 20 + 30$$

A ve B sayıları zihinden toplandığında aşağıdaki sayılardan hangisi elde edilir?

12.

A)

70

B)

80

C)

90

$$\begin{array}{r} 218 \\ + 1\text{✿}6 \\ \hline 364 \end{array}$$

Yandaki toplama işleminde "✿" yerine hangi sayı gelmelidir?

13.

A)

3

B)

4

C)

5

14. Aşağıdaki çıkarma işlemlerinden hangisi doğrudur?

$$\begin{array}{r} 187 \\ - 164 \\ \hline 123 \end{array}$$

A)

$$\begin{array}{r} 217 \\ - 105 \\ \hline 102 \end{array}$$

B)

$$\begin{array}{r} 496 \\ - 371 \\ \hline 125 \end{array}$$

C)

15. Tahtada dikdörtgen ile ilgili verilen bilgilerden hangisi yanlıştır?

1. Karşılıklı kenarları eş ve paraleldir.
2. İç açıları dik açıdır.
3. Toplam üç kenarı vardır.

A)

3.

B)

2.

C)


1.

MATEMATİK SORULARI BİTTİ.

# FEN BİLİMLERİ SORULARI

1. Maddelerin çok küçük taneciklerinin burnumuza girmesi sayesinde kokuyu algılarız.
- Bazı zehirli, yakıcı maddelerin çok küçük taneleri bile bize zarar verebilir.
- Ertuğrul'un cümlelerinden aşağıdaki sonuçlardan hangisi çıkarılmalıdır?

- A) Maddeleri koklamadan önce ağızımızı kapatmalıyız.
- B) Bazı maddeleri koklamak tehlikelidir.
- C) Maddeleri koklamak vücudumuza hemen zarar vermez.



Yukarıdaki cisimlerden hangileri esneklik özelliğine sahiptir?

- A) 1 ve 2
- B) 2 ve 3
- C) 1 ve 3

3. Aşağıdakilerden hangisi kuvvetin cisimler üzerindeki etkilerinden değildir?

- A) Hareket halindeki cismi durdurma
- B) Duran cismi hareket ettirme
- C) Sesin yayılmasını engelleme





Arzu, gelen hediye paketini açabilmek için, hediye paketlerinin kurdelelerine ..... kuvveti uygulamalıdır.

4.

Öğretmenin cümlesinde boş bırakılan yere aşağıdaki sözcüklerden hangisi gelmelidir?

A) çekme

B) itme

C) bükme



Okulunu gezen Ünal,  
1- Çöp kovaları  
2- Masa ve sıra  
3- Bahçede çiçekler ve ağaçlar

5.

Yukarıda verilenlerden hangileriyle karşılaşır?

A) 1 ve 2

B) 2 ve 3

C) 1, 2 ve 3

Tabloda verilen kaynağın türüne göre ait olduğu sütuna çarpı işareti (X) konulacaktır.

|            | Doğal Ses Kaynağı | Yapay Ses Kaynağı |
|------------|-------------------|-------------------|
| Alarm      |                   |                   |
| Akarsu     |                   |                   |
| Televizyon |                   |                   |
| Rüzgâr     |                   |                   |

6.

Yukarıdaki etkinlik doğru tamamlandığında "Doğal Ses Kaynağı" sütununda kaç tane çarpı işareti olur?

A) 2

B) 1

C) 3

7. Aşağıda verilen ifadelerden hangisinde sesin şiddeti artmıştır?

- A) Telefon ile konuşmak için televizyonun sesinin kısılması
- B) Sahneye çıkan sanatçının sesinin duyulması için mikrofon kullanması
- C) Baş ağrıyan kişinin gürültülü ortamdaki uzaklaşması



Kemal Bey'in bir düdüğü var. O düdüğü çaldığında biz hiç ses duymuyoruz. Ancak Kemal Bey düdüğü her çaldığında köpeği Tarçın koşup yanına geliyor.

8.

Nezihanur'un anlattığı olaydan hangi seçenekteki sonuç çıkarılabilir?

- A) Kemal Bey'in kullandığı düdük bozuktur.
- B) Köpekler insanların duymadığı sesleri duyabilir.
- C) İnsanlar her sesi duyabilir.

1

Her sesin bir şiddeti vardır.

2

Her sesin bir kaynağı vardır.

3

Ses, dalgalar şeklinde her yöne doğru yayılır.

4

İnsan kulağı her sesi duyamaz.

5

Ses kaynaklarının hepsi doğal kaynaktır.

9.

Verilen bilgilerden kaç tanesi doğrudur?

A)

4

B)

5

C)

3



Müge

Yemeklerin tadını gözlerimiz ile algılarız.



Merve

Oluşan sesleri kulaklarımız ile algılarız.

10.

Yukarıdaki öğrencilerden hangisi ya da hangileri doğru bilgi vermiştir?

A)

Müge

B)

Merve

C)

Müge ve  
Merve



11.

Doğal ışık kaynaklarının görsellerini defterine yapıştıracak olan Ceylin, Yukarıdaki görsellerden hangilerini kesip defterine yapıştırmalıdır?

A)



B)



C)



Buse



Sandalye katı bir maddedir.

Emrah



Çivi sıvı bir maddedir.

Ece



Tava katı bir maddedir.

12.

Yukarıdaki öğrencilerden hangilerinin verdiği örnekler doğrudur?

A)

Buse ve Emrah

B)

Buse ve Ece

C)

Emrah ve Ece

13.

Böcek, ağaç ve kelebeğin ortak özelliği ★ olmasındır.

Yukarıdaki cümlede ★ yerine aşağıdakilerden hangisi gelmelidir?

- A) canlı B) hayvan C) bitki

14.

1) Muhammet salıncakta sallanıyordu. 2) Mustafa'nın düştüğünü görünce elinden tutup onu kaldırdı. 3) Etrafında dönüp üzerini temizlemesine yardımcı oldu.

Ecrin'in anlattığı hikayede numaralı cümlelerde hangi hareket ve kuvvet özellikleri vardır?

- A) 1 Dönme 2 İtme 3 Sallanma  
B) 1 Sallanma 2 Dönme 3 Çekme  
C) 1 Sallanma 2 Çekme 3 Dönme

15.

1. Yarışın son metrelerinde 1. olmak için çabalayan atletin hareketi

2. Kediden kaçan farenin hareketi

3. Kırmızı ışıkta duran arabanın hareketi

Yukarıda verilen kaç numaralı hareket veya hareketler hızlanmaya örnektir?

- A) 1 ve 2 B) 2 ve 3 C) Yalnız 1

SINAVINIZ BİTMİŞTİR. CEVAPLARINIZI KONTROL ETMEYİ UNUTMAYIN.