

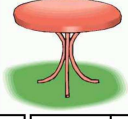


FEN BİLİMLERİ







Adı: Soyadı:
Numarası: Sınıfı: Tarih:

CANLILAR DÜNYASINA YOLCULUK-CANLILAR VE HAYAT 1

1. Aşağıda verilen varlıklardan hangisi cansızdır?

A)  B)  C) 

2.

	Bitki		Toprak		Su
	hava		Hayvan		İnsan

Yukarıda verilenlerden canlı olanların sembolleri hangisinde doğru verilmiştir?

A)    B)    C)   

3. Aşağıda verilen davranışlardan hangisi doğrudur?

- A) Sınıfımızdaki çöpleri pencereden dışarı atmak
B) Yediğimiz çikolatanın çöpünü sıranın altına koymak
C) Okul bahçesinde bulduğumuz çöpleri çöp kovasına atmak

4. İnsanların sürekli yaşadıkları yere ? denir.

Yukarıdaki cümlede "?", yerine aşağıdakilerden hangisi yazılmalıdır?

A) market B) park C) çevre

5. Aşağıda verilenlerden hangisi doğal çevreye örnektir?

A)  B)  C) 

6. Aşağıda verilenlerden hangisi birçok hayvana ev sahipliği yapar?

A)  B)  C) 

7. Aşağıdaki davranışlardan hangisi kaynaklarımızın kullanımı için yanlış olur?

- A) Açık kalan muslukları kapatmak
B) Kullanılmadığında bilgisayarın fişini çekmek
C) Tüm odaların ışıklarını açık bırakmak

8. 1. Sürekli çay, kahve içmek

2. Her gün su içmek




3. Her yemekte ve teneffüste kola içmek

Yukarıdaki ifadelerden hangileri sağlığımız için yanlıştır?

A) 1 ve 2 B) 1 ve 3 C) 2 ve 3

9. "Bütün canlılar hareket etme özelliğine sahiptir."

Buna göre aşağıda verilen resimlerden hangisindeki varlık canlıdır?

A)  B)  C) 

10. Aşağıdaki öğrencilerden hangisi yaşadığı çevreyle ilgili bilgi vermiştir?

- A) Oğuz: En büyük hayalim Eyfel Kulesi'ni görmek.
B) Burcu: Okulumuzun hemen yanında piknik alanları var.

C) Eren: Geçen gittiğimiz ildeki alışveriş merkezi çok büyüktü.

11. 1. Ormanlar 2. Müzeler 3. Dağlar

Yukarıda verilenlerden hangisine gidilirse yapay çevre ile ilgili bir yer görülmüş olur?

A) 1 B) 2 C) 3

12. Aşağıda verilen etkenlerden hangisi doğal çevrenin kirlenmesine neden olarak gösterilemez?

- A) Plansız kentleşme B) Hızlı nüfus artışı
C) Boş arazilerin ağaçlandırılması

13. Aşağıdaki davranışlardan hangisi elektrik enerjisinin kullanımını artırır?

- A) Az kirli çamaşırlar için ekonomik programı kullanmak
B) Bulaşık makinesini doldurmadan çalıştırmamak
C) Fırında yemek pişirirken fırının kapağını açık bırakmak

14. Aşağıdaki öğrencilerden hangisi sağlıklı yaşam için gerekli olan beslenme şekline sahiptir?

- A) Gül: Her sabah kahvaltıda zeytin, peynir, reçel ve yumurta yiyorum.
B) Can: Akşam yemeklerinde iki bardak asitli içecek içiyorum.
C) Oya: Ev yemeklerini sevmediğim için hazır yiyecekler tüketiyorum.

15. "Bütün canlılar, hareket eder, beslenir ve çoğalırlar."

Salih yukarıdaki ifadeden yararlanarak ;

- 1 İnsanlar çoğaldığından canlıdır.
2 Bisiklet hareket ettiğinden canlıdır.
3 Bitkiler su ile beslendiklerinden canlıdır.



Yukarıdaki yargılara ulaşmıştır. Buna göre Salih'in ulaştığı yargılardan hangisi yanlıştır?

- A) 1 B) 2 C) 3

16. Hakan : Oturduğumuz ev metro durağına çok yakın olduğu için hemen bulabilirsin.

Hülya : Hangi durakta ineceğim?

Hakan : Bilemiyorum.

Hakan ve Hülya'nın konuşmasından yararlanarak, Hakan için verilen aşağıdaki ifadelerden hangisi doğru olur?

- A) Metro durağına çok yakın olduklarını bildiği için çevresini çok iyi tanıyor.
B) Hangi durakta ineceğini bilmediği için çevreyi tam olarak bilmiyor.

C) Kendisinin oturduğu yeri bulabilmesi çevreyi tanıyor demek için yeterlidir.

17. Aşağıdaki öğrencilerden hangisinin evi yapay çevreye daha yakındır?

- A) Zeki: Yazlığımız deniz kenarında iki katlı bir ev.
B) Cemil: Oturduğumuz ev alışveriş merkezinin yanında yer alıyor.
C) Ozan: Evimizin balkonundan portakal bahçelerini görebiliyorum.

18.

- 1 Yeşillik alanlarda piknik yapmak
2 Ormanlık alanlarda yürüyüş yapmak
3 Asfalt yolda top oynamak

Yukarıda verilenlerden hangileri doğal çevrede yapılabilecek etkinliklere örnektir?

- A) 1 ve 2 B) 2 ve 3 C) 1,2 ve 3

19. Aşağıdaki öğrencilerden hangisi su tasarrufu için doğru bilgi vermiştir?

- A) Ceren : Bulaşıkları elde yıkamak
B) Barış: Damlatan musluğu tamir ettirmek.
C) Gözde: Dışleri fırçalarken musluğu açık bırakmak

20. Aşağıda farklı lokantalara ait akşam yemeği menüleri verilmiştir. Dengeli beslenen Ersin hangi lokantaya gitmelidir?

A)

HÜNKAR LOKANTASI
<ul style="list-style-type: none">ÇorbaEt sotePilavSalata

B)

SULTAN LOKANTASI
<ul style="list-style-type: none">PilavMakarnaDolmaÇiğ köfte

C)

KRAL LOKANTASI
<ul style="list-style-type: none">ÇorbaPilavKızartmaEkmek