


STANDART ÖLÇÜ BİRİMLERİ

* Problemlerin yanıtlarını aşağıdaki noktalı bölümlere yazınız.



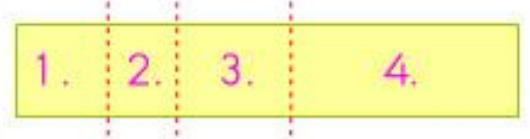
Ben bir inşaat ustasıyım. Uzunlukları ölçmek için elimdeki **metreyi** kullanıyorum.



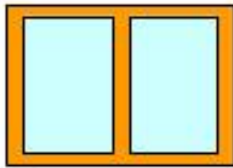
1 - İnşaat ustası, şekildeki arsada bir ev inşaatına başladı. Evin kısa kenarı, uzun kenarından 4 metre kısadır. Evin uzun kenarı 13 metredir. Evin çevresinin uzunluğu kaç metredir?



Ben bir terziyim. Uzunlukları ölçmek için boynuma astığım **mezurayı** kullanıyorum.



2 - Terzi, şekilde modellenen 61 metre kumaştan 3 defa kesim yaptı. Birincide 6, ikincide 5 ve üçüncüde 7 metre kumaş kesti. Şekle göre, kumaşın 4. bölümü kaç metredir?



Ben bir camcıyım. Pencereleere takılacak olan camları **metre** ile ölçüp kesiyorum.



3 - Camcı, şekilde görülen camı iki eş parçaya ayırarak pencereye taktı. Bütün camın kısa kenarı 60 santimetre, uzun kenarı ise 80 santimetredir. Pencereye takılan camlardan bir tanesinin uzun kenarı, kısa kenarından kaç santimetre uzundur?

1.


2.

3.

STANDART OLMAYAN ÖLÇÜ BİRİMLERİ

* Gürkan'ın sorusunu yanıtlayınız. Standart olmayan bazı ölçü birimleri ile görsellerini eşleştiriniz.



Odamın enini ben 5 kulaç olarak annem ise 3 kulaç olarak ölçtü. Ölçümlerin farklılığının nedeni nedir? 



Adım



Parmak



Karış



Ayak

* Tabloda boş bırakılan bölümleri tamamlayınız.

ÖLÇÜLEN YER YA DA NESNE	ÖLÇME ARACI	KENDİ ÖLÇÜMÜMÜZ	BÜYÜĞÜMÜZÜN ÖLÇÜMÜ
MUTFAK KAPIMIZIN ENİ	KARIŞ
DERS KİTABIMIZIN BOYU	PARMAK

* Soruların yanıtlarını noktalı bölümlere yazınız.

1 - Can, kitabının boyunu 24 parmak, enini ise boyundan 6 parmak eksik olarak ölçüyor. Can'ın kitabının eni ile boyunun toplamı kaç parmaktır?

2- Halil, salonlarının enini 16 adım olarak ölçüyor. Salonlarının boyunun uzunluğu ise eninin 2 katı uzunluktadır. Halillerin salonlarının eni ve boyu toplamı kaç adımdır?

3- Duygu, yemek masalarının enini 12 karış, boyunu ise 20 karış olarak ölçüyor. Duyguların yemek masasının boyu, eninden kaç karış uzundur?

1 

2 

3 