

UZUNLUK ÖLÇÜLERİ DEĞERLENDİRME TESTİ

Ahmet'in tanımını aşağıdaki terimlerden hangisi tamamlar?



Standart uzunluk ölçüsü temel birimi dir.

litre

gram

metre

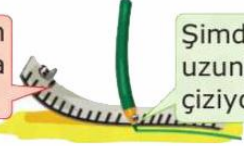


Aşağıdakilerden hangisi standart uzunluk ölçme araçlarından biridir?



Cetvel ve kalemin çizmiş olduğu iki çizginin uzunluğu, toplam kaç santimetredir?

Biraz önce yarım metre uzunluğunda bir çizgi çizmiştik.



Şimdi ise çeyrek metre uzunluğunda bir çizgi çiziyoruz.

[65 cm]

[75 cm]

[85 cm]



Aşağıdaki uzunluk ölçme araçlarından hangisi, bir uzunluğu diğerinden farklı ölçer?



1.

2.

Hiçbiri



Aşağıdaki hayvanların yuvasına olan uzaklığı altlarında yazılıdır. Buna göre hayvanlardan hangisi yuvasına daha yakındır?



23 metre

18 metre

34 metre



Aşağıdaki hayvanların yuvalarının genişlikleri verilmiştir. Hangisinin yuvası daha geniştir?



14 metre



6 metre



2 metre



Camcı

Simitçi

Marangoz

Terzi

Sütçü


Manav

Yukarıdaki meslek gruplarından kaç tanesi metreyi kullanır?

2

3

4



Uzunluk ölçüsü temel birimi olan "metre" ile aşağıdakilerden hangisini ölçemeyiz?



İçtiğimiz sütün miktarını.



Masamızın genişliğini.



Evimiz ile okul arasındaki uzaklığı.

Aşağıdakilerden hangisi ile uzunlukları ölçemeyiz?



Aşağıdakilerden hangisini metre ile ölçerek satın alırız?



Ece'nin anlatımını tamamlayan sözcük aşağıdakilerden hangisidir?



Standart olmayan uzunluk ölçüleri kişiden kişiye

değişmez.

değişir.

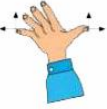
aynıdır.



2 kulaç, 3 karış aşağıdaki varlıklardan hangisinin boyu olabilir?



Okul koridorumuzun uzunluğunu hangi ölçme birimiyle ölçmemiz daha uygundur?



Aşağıdaki varlıklardan hangisinin boyu bir karış olabilir?



Ayşe'nin kulaç, 1 metreden kaç santimetre kısadır?



Odamın enini ölçmek için kulaçımı kullandım. Benim bir kulaçım 83 santimetredir.

16 cm

17 cm

18 cm



Aşağıdakilerden hangisinin uzunluğu 4 kulaç, 2 karış olabilir?



Aşağıdaki uzunluklardan hangisi diğerlerinden daha uzundur?



7 parmak



6 adım



5 kulaç

Aşağıdakilerden hangisinin genişliği 1 karış olabilir?



Sınıfımızın enini hangisi ile ölçmemiz uygun olur?




Karış

Kulaç

Adım



Aşağıdakilerden hangisinin uzunluğu 9 karış olabilir?



CEVAP ANAHTARI

01 (A) (B) (C)

08 (A) (B) (C)

02 (A) (B) (C)

09 (A) (B) (C)

15 (A) (B) (C)

03 (A) (B) (C)

10 (A) (B) (C)

16 (A) (B) (C)

04 (A) (B) (C)

11 (A) (B) (C)

17 (A) (B) (C)

05 (A) (B) (C)

12 (A) (B) (C)

18 (A) (B) (C)

06 (A) (B) (C)

13 (A) (B) (C)

19 (A) (B) (C)

07 (A) (B) (C)

14 (A) (B) (C)

20 (A) (B) (C)

BAŞARILAR