

1. Aşağıdaki işlemlerden hangisinin sonucu yanlıştır?

- A) $6 \times 1 = 1$
 B) $5 \times 0 = 0$
 C) $8 \times 10 = 80$

2.

8×3

1

9×2

2

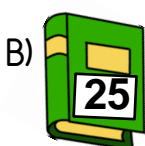
7×4

3

Yukarıda verilen işlemlerden hangisinin sonucu **20** sayısından **küçüktür**?



3. Reyhan 60 sayfalık bir kitabı her gün 7 sayfa okuyarak bitirmeye çalışıyor. Buna göre 5. günün sonunda kitabın okunmayan kaç sayfası kalır?

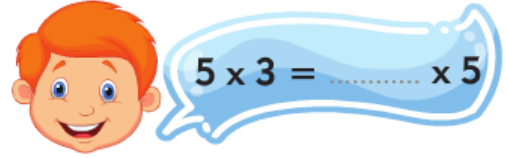


4. Enes marketten 4 kutu şeker alıyor.

Her pakette 8 şeker olduğuna göre, Enes'in almış olduğu toplam şeker sayısı kaçtır?

- A) 30 B) 32 C) 36

5.



Yukarıdaki çarpma işleminde noktalı yere hangi sayı gelmelidir?

- A) 3 B) 5 C) 15

6. Tuna'nın bir miktar çikolatası vardır. Tuna bu çikolataları 3 arkadaşına altışar tane verdiğinde kendisine 8 çikolata kalıyor.

Buna göre, Tuna'nın başlangıçta kaç çikolatası vardı?

- A) 21 B) 24 C) 26



7.



Enes'in 6 kalem, Feyza'nın 4 kalem vardır.

İkisinin kalemlerinin toplamının 5 katı kaçtır?

- A) 10 B) 30 C) 50

8. Annem marketten 6 koli yumurta aldı. Her kolide 10 tane yumurta vardır. Annem eve gelince aldığı yumurtaların 15 tanesini pasta yapımında kullanmıştır.

Buna göre, annemin aldığı yumurtalardan geriye kaç tane yumurta kalmıştır?

- A) 45 B) 40 C) 35

9.



6 inek ve 5 tavuğun toplam kaç ayağı vardır?

- A) 24 B) 34 C) 44


10.



Günde 4 ekme yiyen bir aile, bir haftada kaç ekme yer?

- A) 28 B) 18 C) 10

11.



Bir kümeste tavukların sayısı, ördeklerin sayısının 2 katıdır.

Kümeşte 7 tane ördek olduğuna göre, kümeşteki tavuk ve ördeklerin toplamı kaçtır?

- A)14 B) 18 C)21

12. Okulumuzda 4 merdiven var.

Her merdiven 6 basamaklı ise okulumuzda toplam kaç basamak vardır?



- A)24 B) 28 C)30