

İLETİŞİM ARAÇLARI

Haberleşmede bazı iletişim araçlarını kullanırız. Bunlar telefon, televizyon, bilgisayar, gazete vb.dir. Çeşitli ortamlarda iletişim kurarken farklı duyularımızdan yararlanırız.



Telefon, en çok kullandığımız iletişim aracıdır. Telefon kullanırken dikkat etmemiz gereken kurallar:

Telefonla bir yeri aradığımızda önce söze iyi dileklerle başlamalı (iyi günler, iyi akşamlar vb.) sonra kendimizi tanıtmalıyız. İsteğimizi kibar bir şekilde söylemeli, lafı gereksiz uzatmamalıyız. Telefonu önce arayan kişi kapatmalıdır.

110 (itfaiye), 112 (Hızır Acil), 155 (Polis İmdat) gibi acil durum telefonlarını kesinlikle gereksiz yere aramamalıyız.

Bilgisayar da çok sık kullanılan bir iletişim aracıdır. Bilgisayar kullanırken dikkat etmemiz gereken kurallar:

Monitöre uygun uzaklıkta durmalıyız. Bilgisayar başında gereğinden fazla zaman geçirmemeliyiz. Kullanmadığımız zaman kapatmalı, gereksiz yere elektrik harcamamalıyız.



1- Aşağıdaki iletişim araçlarından hangisini günümüzde daha az kullanırız?

A) Bilgisayar B) Mektup C) Cep telefonu

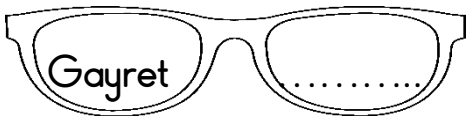
2- Hangi iletişim aracı için sadece işitme organımızı kullanırız?

A) Televizyon B) Gazete C) Radyo

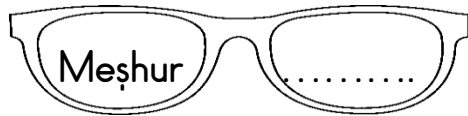
3- Hem görsel hem de işitsel iletişim aracı hangisidir?

A) Televizyon B) Mektup C) Radyo

Aşağıdaki sözcüklerin eş anlamlısını yazın ve eş anlamlısı ile cümle kurunuz.



.....



.....



.....



.....

Kalemlerin boyunu ölçünüz

.....cm





.....cm



.....cm



.....cm



Yukarıda otobüs durağındaki ;

1. sıradaki yolcunun kazağını sarı boy
 4. sıradaki yolcunun pantolonunu mavi boy
 3. sıradaki yolcunun başına şapka çiz
 2. sıradaki yolcunun saçını siyah boy.
- Resmin kalanını istediğin gibi boy.

Aşağıdaki problemleri matematik defterine yazın ve çözün.

- 1-Sıla'nın bir kulacı 23 santimetredir. Kerem'in kulacı Sıla'nın kulacından 4 santimetre uzundur. İkinin kulaçları toplamı kaç santimetredir?
- 2- Arzu evinden bakkala 37 metre yürümüştür. Bakkaldan ise okula 46 metre yürümüştür. Arzu toplam kaç metre yürümüştür ?
- 3- Çuvaldaki cevizlerin 25 tanesini kıldık. Çuvalda kırılmamış 68 ceviz kaldığına göre, kırılmadan önce çuvalda kaç ceviz vardı?

$\begin{array}{r} 35 \\ - 14 \\ \hline \end{array}$	$\begin{array}{r} 69 \\ - 28 \\ \hline \end{array}$	$\begin{array}{r} 54 \\ - 12 \\ \hline \end{array}$	$\begin{array}{r} 78 \\ - 22 \\ \hline \end{array}$
$\begin{array}{r} 46 \\ - 11 \\ \hline \end{array}$	$\begin{array}{r} 91 \\ - 51 \\ \hline \end{array}$	$\begin{array}{r} 47 \\ - 14 \\ \hline \end{array}$	$\begin{array}{r} 75 \\ - 50 \\ \hline \end{array}$
$\begin{array}{r} 26 \\ - 16 \\ \hline \end{array}$	$\begin{array}{r} 98 \\ - 66 \\ \hline \end{array}$	$\begin{array}{r} 39 \\ - 27 \\ \hline \end{array}$	$\begin{array}{r} 63 \\ - 41 \\ \hline \end{array}$
$\begin{array}{r} 55 \\ - 34 \\ \hline \end{array}$	$\begin{array}{r} 76 \\ - 32 \\ \hline \end{array}$	$\begin{array}{r} 81 \\ - 71 \\ \hline \end{array}$	

$\begin{array}{r} 48 \\ + 23 \\ \hline \end{array}$	$\begin{array}{r} 54 \\ + 14 \\ \hline \end{array}$	$\begin{array}{r} 87 \\ + 46 \\ \hline \end{array}$	$\begin{array}{r} 94 \\ + 52 \\ \hline \end{array}$	$\begin{array}{r} 78 \\ + 12 \\ \hline \end{array}$
$\begin{array}{r} 70 \\ + 20 \\ \hline \end{array}$	$\begin{array}{r} 50 \\ + 10 \\ \hline \end{array}$	$\begin{array}{r} 60 \\ + 40 \\ \hline \end{array}$	$\begin{array}{r} 30 \\ + 20 \\ \hline \end{array}$	$\begin{array}{r} 90 \\ + 80 \\ \hline \end{array}$
$\begin{array}{r} 71 \\ + 10 \\ \hline \end{array}$	$\begin{array}{r} 59 \\ + 30 \\ \hline \end{array}$	$\begin{array}{r} 42 \\ + 40 \\ \hline \end{array}$	$\begin{array}{r} 83 \\ + 80 \\ \hline \end{array}$	$\begin{array}{r} 96 \\ + 50 \\ \hline \end{array}$

Gülten ÖZTÜRK