

HAYIR DİYEBİLİRİM

İyi insanların çoğunlukta olduğu bu dünyada, kötülerin de var olduğunu unutmamalym. Tanıdığımız güvendiğimiz kişilerle ilişkilerimiz ile tanımadığımız kişilerle olan ilişkilerimiz çok farklı olmak zorundadır.



Arkadaşlarımız da bazen bizden uygun olmayan bir davranışı yapmamızı isteyebilir. Bu gibi durumlarda onlara bu davranışı yapamayacağımızı söylemeliyiz. Arkadaş seçimimize dikkat etmeli, her zaman dürüst, başarılı, saygılı kişilerle arkadaş olmalıyız.

Çevreden size farklı teklifler gelebilir. Bu tekliflere kesinlikle uymamalıyız. Çünkü uygun olmayan öneriler ve tanımadığınız kişilerden gelen teklifler tehlikelidir.

Aşağıdaki durumlarda ne yapmalıyız, cümleleri tamamlayalım.

Tanımadığımız biri bize yiyecek verirse

Arkadaşımız, ailemize haber vermeden parka gidelim derse

Arkadaşımız sıranın üstüne yazı yazalım derse

Kardeşimiz evde annemiz evde yokken odada top oynayalım derse

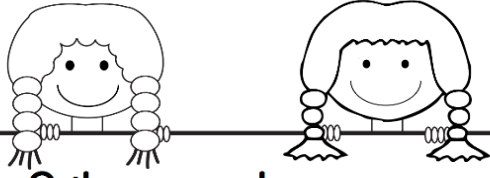
Kapıyı çalan tanımadığınız biri, size misafir geldim derse

Aşağıdaki tabloya belirtilen tür adlarını yazın.

Mevsim	Gün	Ay	Sebze	Meslek	Eşya	Renk

Aşağıdaki adlardan tekil olanları kırmızı, çoğul olanları yeşil boyayınız.

elma	kiler	dergiler	koltuk	biletler
uçak	cevaplar	arı	dersler	ayaklar



2 ile çarpalım

$2 \times 1 =$	$2 \times 7 =$
$2 \times 2 =$	$2 \times 8 =$
$2 \times 3 =$	$2 \times 9 =$
$2 \times 4 =$	$2 \times 10 =$
$2 \times 5 =$	$2 \times 11 =$
$2 \times 6 =$	$2 \times 12 =$

$$\begin{array}{r} 75 \\ - 36 \\ \hline \end{array}$$

$$\begin{array}{r} 21 \\ - 5 \\ \hline \end{array}$$

$$\begin{array}{r} 63 \\ - 27 \\ \hline \end{array}$$

$$\begin{array}{r} 83 \\ - 25 \\ \hline \end{array}$$

$$\begin{array}{r} 55 \\ - 27 \\ \hline \end{array}$$

$$\begin{array}{r} 31 \\ - 17 \\ \hline \end{array}$$

$$\begin{array}{r} 64 \\ - 35 \\ \hline \end{array}$$

$$\begin{array}{r} 42 \\ - 29 \\ \hline \end{array}$$

$$\begin{array}{r} 84 \\ - 25 \\ \hline \end{array}$$

$$\begin{array}{r} 91 \\ - 13 \\ \hline \end{array}$$

$$\begin{array}{r} 56 \\ - 28 \\ \hline \end{array}$$

$$\begin{array}{r} 95 \\ - 66 \\ \hline \end{array}$$

$$\begin{array}{r} 67 \\ - 39 \\ \hline \end{array}$$

$$\begin{array}{r} 73 \\ - 24 \\ \hline \end{array}$$

$$\begin{array}{r} 52 \\ - 14 \\ \hline \end{array}$$

$$\begin{array}{r} 73 \\ - 26 \\ \hline \end{array}$$


$$\begin{array}{r} 52 \\ - 17 \\ \hline \end{array}$$

$$\begin{array}{r} 95 \\ - 46 \\ \hline \end{array}$$


$$\begin{array}{r} 55 \\ - 19 \\ \hline \end{array}$$

$$\begin{array}{r} 83 \\ - 24 \\ \hline \end{array}$$

Hangi onluğa yakın, boyayın.



Saat kaç? Altına yazın.



Aşağıdaki problemleri matematik defterine yazın ve çözün.

- 1- İki düzine kalemin 17 fazlası kaç kalemdir?
- 2- Bahçemizde 36 erik ağacı, erik ağaçlarının 19 fazlası elma ağacı vardır. Bahçemizde toplam kaç ağaç vardır?
- 3- Derya kitabının birinci gün 19 sayfasını okudu. İkinci gün birinci gün okuduğundan 8 sayfa fazla okudu. Geriye okumadığı 24 sayfa kaldığına göre kitap kaç sayfadır?