

# 2/ SINIFI

## 2.DÖNEM

### 2. DENEME SINAVI



#### Açıklamalar:

1. Deneme sınavında Hayat Bilgisi 20 soru, Türkçe 20 soru, Matematik 20 soru olmak üzere 60 soru vardır.
2. Sınav süresi 80 dakikadır.
3. Sınavda 3 yanlış cevap, 1 doğruyu götürmektedir.
4. Her sorunun bir doğru cevabı bulunmaktadır. Cevap kağıdında sadece bir şıkkı işaretleyiniz.

# HAYAT BİLGİSİ

1. Atatürk nerede doğmuştur?

- A. Ankara'da
- B. Selanik'te
- C. İstanbul'da

2. Atatürk hangi şehirde ölmüştür?

- A. Ankara'da
- B. Selanik'te
- C. İstanbul'da

3.  Gazi ilkokulu 2.sınıfına gidiyorum.

diyen Elif hangi hak ya da özgürlüğünü kullanıyordu?

- A. Seyahat etme özgürlüğü
- B. Eğitim hakkı
- C. Seçme ve seçilme hakkı

4. Türk milleti, sahip olduğu hak ve hürriyetlere aşağıdakilerden hangisinin önderliğinde kavuşmuştur?



Mehmet Akif Ersoy

Zübeyde Hanım

C.



Mustafa Kemal Atatürk

5. Ailemize görüşlerimizi bildirirken .....davranmalıyız.

Azra'nın cümlesini aşağıdakilerden hangisiyle **tamamlamalıyız**?

- A. ısrarcı
- B. saygılı
- C. umursamaz



6. Aşağıdakilerden hangisi bir çocuğun tasarruf yaparak alabileceği bir ürün **değildir**?

A.



B.



C.



★ Eğlenmemizi sağlar.

★ Dünyada meydana gelen olayları öğrenmemizi sağlar.

7. Yukarıda tanıtılan teknolojik ürün aşağıdakilerden hangisidir?

A.



B.



C.



8. Ev kazalarının en önemli nedeni nedir?

- A. Dikkatsizlik
- B. Korku
- C. Bilgisizlik

9. Aşağıdaki öğrencilerden hangisi tutumlu davranmaktadır?

A.



Okulda muslukları açık bırakırım.

B.



Odadan çıkarken ışığı açık bırakırım.

C.



Dişlerimi fırçalarken musluğu kapatırım.

10. Para biriktirmeye karar veren Ahmet, Verilenlerin hangisinden yararlanmalıdır?

A.



B.



C.



11. Aile bireyleri ile gezip eğlenmek için plan yapan Nisa'nın yüz ifadesi hangi seçenekteki gibi olur?



A.



B.



C.



12. Dere yatağına ev yapmak hangi doğal felakete neden olabilir?

A.



B.



C.



13. Yurdumuzdaki en büyük yerleşim birimine ne ad verilir?

A.

Köy

B.

İlçe

C.

İl

14. Vatan bizim .....

Yukarıdaki noktalı yere seçenекtekilerden hangisi yazılamaz?

A.

komşumuzdur

B.

yuvamızdır

C.

evimizdir

15. Büyüdükçe aşağıdakilerden hangisi değişmez?

A.

Boy

B.

Kilo

C.

Cinsiyet

16. Aşağıdaki anlatıma göre Ömer'de nasıl bir değişiklik gerçekleşmiştir?



Artık kapının ziline uzanabiliyorum.

A.

kolları güçlenmiştir

B.

boyu uzamıştır

C.

duyguları değişmiştir

17. Aşağıdakilerden hangisi yanlıştır?

A.

Farklılıklarımız bizi eşsiz ve özel yapar.

B.

Bizden farklı olanlarla arkadaşlık etmemeliyiz.

C.

Hepimizin duyguları farklılık gösterir.

18. Kişilerin, doğumundan yaşadığı güne kadar geçirdiği belli başlı aşamaları içeren kısa ve öz yazılara ..... denir.

Yukarıdaki boşluğa ne yazılmalıdır?

A.

Öz geçmiş

B.

Anket

C.

Anı

19. Aşağıdaki bilgilerden hangisi yanlıştır?

A.

Öz geçmişimizi açık ve sade bir dille yazmalıyız.

B.


Öz geçmişimizde özel yeteneklerimizden bahsedebiliriz.

C.

Öz geçmişimizi yazarken kendimizi biraz abartmalıyız.

20. Aşağıdaki mesleklerden hangisi günümüzde önemini yitirmiştir?

A.



B.



C.



# TÜRKÇE

Sevgili Anneciğim, Babacığım,

Siz beni şımartmayın. Bana yerli yersiz sözler de vermeyin. Sözünüzü tutmayınca sizlere güvenim azalıyor.

Beni eğitirken ara sıra yanlışlar yapabilirsiniz. Bunları çabuk unuturum. Ancak birbirinize saygı ve sevginizin azaldığını görmek beni yaralar.

Benden örnek çocuk olmamı istemezseniz, ben de sizden kusursuz anne, baba olmanızı beklemem. Sevecen ve anlayışlı olmanız bana yeter.

**1,2 ve 3. soruları yukarıdaki metne göre cevaplayınız.**

1. Çocuk anne ve babasından ne istemektedir?  
A. Saygı ve sevgi                      B. Örnek anne, baba                      C. Anlayışlı olmalarını
2. Çocuğun anne ve babasına güveni neden azalmaktadır?  
A. Sözlerini tutmamaları                      B. Yanlış yapmaları                      C. Söz vermeleri
3. Çocuğu yaralayan şey nedir?  
A. Sözlerini tutmamaları                      B. Yanlış yapmaları                      C. Birbirlerine saygı ve sevgilerinin azalması
4. Aşağıdaki atasözlerinden hangisi birlik ve beraberliği **ifade etmez**?  
A. Bir elin nesi var, iki elin sesi var.  
B. Damlaya damlaya göl olur.  
C. Birlikten kuvvet doğar.
5. Aşağıdaki atasözlerinden hangisi tutumlu olmayla ilgilidir?  
A. Ak akçe karagün içindir.  
B. Bakarsan bağ olur, bakmazsan dağ olur.  
C. Nerede birlik, orada dirlik.
6. "Etekleri tutuşmak." deyimi hangi anlama gelir?  
A. Bir şey için üzölmek.  
B. Bir şey için telaşlanmak, kaygılanmak.  
C. Eteğin ateş alıp tutuşması.

7. "Ağızından ..... akmak." deyiminde noktalı yere hangi resim gelmelidir?

A.



B.



C.



8. "Bahattin - bütün - kirletti - evi"  
kelimelerinin en doğru diziliş hangisidir?  
A. Bahattin kirletti evi bütün.  
B. Bahattin bütün evi kirletti.  
C. Bütün kirletti evi Bahattin.

9. "oturan-mektup-köyde-dedeme-yazdım"  
sözcüklerinden anlamlı ve kurallı cümle  
oluşturulursa en sonda hangi sözcük  
bulunur?  
A. yazdım  
B. mektup  
C. köyde

10. Aşağıdaki eylemlerden hangisi henüz  
gerçekleşmemiştir?  
A. Ahmet okula gitti.  
B. Ahmet okula gidiyor.  
C. Ahmet okula gidecek.

11. Damla aşağıdaki eylemlerden hangisini  
her zaman anlamı taşımaktadır?  
A. Damla derslerini yaptı.  
B. Damla derslerini yapar.  
C. Damla derslerini yapıyor.

12. "Göz" sözcüğü aşağıdakilerden hangisinde  
farklı anlamda kullanılmıştır?  
A. Ali'nin gözüne toz kaçtı.  
B. Masanın gözüne bak.  
C. Doktor gözüme damla koydu.

13. Aşağıdaki altı çizili kelimelerden hangisi  
anlam bakımından farklıdır?  
A. Arda yüzme havuzunda derine daldı.  
B. Yeşil ördek suya daldı.  
C. Çam ağacının dalı kırıldı.

14. Aşağıdakilerden hangisi birleşik  
sözcüktür?  
A. Karadeniz  
B. Ege Denizi  
C. Köpek Balığı

15. Aşağıdaki sözcüklerden hangisi aldığı ek  
nedeniyle bir meslek adı olmuştur?  
A. su-luk  
B. dış-ci  
C. kitap-lık

16. "Kardeşim yemek yiyor." cümlesinde  
hangi sözcük eylemdir?  
A. kardeşim  
B. yemek  
C. yiyor

17. Aşağıdaki sözcüklerden hangisi hareket  
bildirmez?  
A. duruyor  
B. limon  
C. gelecek

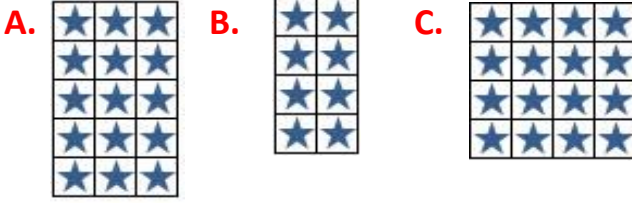
18. Aşağıdaki cümlelerden hangisi  
devrik(kuralsız) cümledir?  
A. Dikkatli olmalıyız trafikte.  
B. Akşama kadar hikâye okudum.  
C. Ömer bahçede oynarken düştü.

19. Aşağıdaki isimlerden hangisi topluluk ismi  
belirtmektedir?  
A. Ağaç  
B. Ağaçlar  
C. Orman

20. İsimlerden önce gelerek onların sayısını,  
biçimini, rengini, durumunu belirten  
kelimelere ne ad verilir?  
A. Türemiş Kelime  
B. Sıfat(Ön Ad)  
C. Zıt Anlamlı Kelime

# MATEMATİK

1.  $5 \times 3 = ?$  İşlemine ait model aşağıdakilerden hangisidir?



2. Elif, kitabından günde 23 sayfa okuyor. Elif kitabını 3 günde bitirdiğine göre okuduğu kitap kaç sayfadır?


A. 96 B. 26 C. 69

3. Sınıfımızdaki öğrencileri 4'erli gruplara ayırınca 3 grup oluştu ve 2 öğrenci arttı. **Sınıfımızda toplam kaç öğrenci vardır?**

A. 12 B. 14 C. 16

4. Bir kırtasiyeci 3 kutu kalem sattı. Her kutuda 2 deste kalem vardı. **Kırtasiyeci kaç kalem satmıştır?**

A. 60 B. 72 C. 84



Yukarıdaki ağaçtaki elmalar, çocuklara eşit olarak paylaştırılırsa her bir çocuğa kaç elma düşer?

A. 5 B. 4 C. 3

6. Yandaki şekle uygun bölme işlemi aşağıdakilerden hangisidir?



A. 
$$\begin{array}{r} 16 \\ 16 \\ \hline 00 \end{array}$$
 B. 
$$\begin{array}{r} 20 \\ 20 \\ \hline 00 \end{array}$$
 C. 
$$\begin{array}{r} 24 \\ 24 \\ \hline 00 \end{array}$$

7. Aşağıdaki şekillerden hangisi çeyreği gösteriyor?



8. Aşağıdaki ifadelerden hangisi yanlıştır?

A. Bir bütün, iki yarımdan oluşur.  
B. İki çeyrek, bir bütünü oluşturur.  
C. Bir bütün, dört çeyrekten oluşur.



Yukarıdaki çeyrek elmalardan kaç bütün oluşturabiliriz?

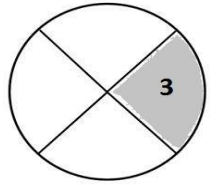
A. 5 B. 4 C. 3



Yukarıdaki verilen yarım elmalardan kaç bütün oluşturabiliriz?

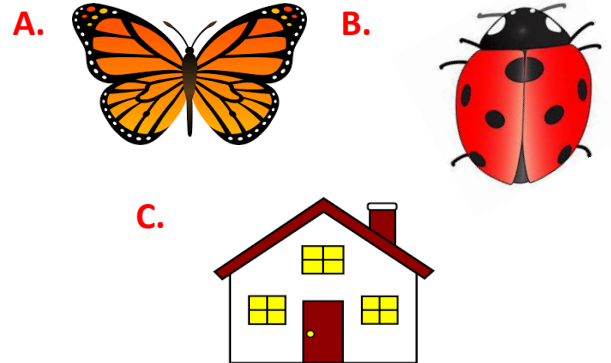
A. 3 B. 4 C. 5

11. Yandaki şeklin tamamı Arda'nın yaşını göstermektedir. **Buna göre Arda kaç yaşındadır?**



A. 16 B. 12 C. 9

12. Aşağıdaki şekillerden hangisi simetrik değildir?



13.

ALMH

Yukarıdaki harflerden kaç tanesi simetrik değildir?

A. 1 B. 2 C. 3

14. Aşağıdaki saatlerin hangisinde akrep ve yelkovan verilen zamana uygun çizilmiştir?

A.



04:30

B.



06:30

C.



08:30

15. Annem 1 metre 35 santimetre uzunluğunda mavi, 2 metre 15 santimetre uzunluğunda kırmızı kurdele aldı. **Annem toplam kaç metre, kaç santimetre kurdele almıştır?**

A. 2 metre 50 santimetre  
B. 3 metre 50 santimetre  
C. 1 metre 50 santimetre

16. Aşağıdaki ifadelerden hangisi doğrudur?

A. Boyum 130 kilogramdır.  
B. Ağırlığım 130 santimetredir.  
C. Boyum 130 santimetredir.

17. Sabah kahvaltıda 24 dilim ekmek kızarttık. Herkes üçer dilim ekmek yedi. Acaba kahvaltıda biz kaç kişiydik?

A. 8 B. 9 C. 10

18. 4 doğal sayısının 7 katının 2 fazlası kaçtır?

A. 28 B. 30 C. 32

19. Aşağıdaki bölme işlemlerinden hangisi yanlıştır?

A.

$$\begin{array}{r} 26 \overline{) 2} \\ \underline{2} \phantom{0} \\ 06 \\ \underline{6} \\ 0 \end{array}$$

B.

$$\begin{array}{r} 36 \overline{) 2} \\ \underline{2} \phantom{0} \\ 16 \\ \underline{16} \\ 00 \end{array}$$

C.

$$\begin{array}{r} 60 \overline{) 2} \\ \underline{6} \phantom{0} \\ 00 \end{array}$$

20. Aşağıdaki çarpma işlemlerinden hangisi doğrudur?

A.

$$\begin{array}{r} 15 \\ \times 6 \\ \hline 630 \end{array}$$

B.

$$\begin{array}{r} 40 \\ \times 6 \\ \hline 246 \end{array}$$

C.

$$\begin{array}{r} 24 \\ \times 3 \\ \hline 72 \end{array}$$