

FEN BİLİMLERİ

1- Aşağıdakilerden hangisi iskeletin görevlerinden değildir?

- A) Vücudun dik durmasını sağlar. B) Akciğerleri korur.
C) Vücudun hareket etmesini sağlar. D) Kemikleri sarar.

2- "Göğüs kafesinde bulunur. Biri sağda, diğeri solda olmak üzere iki tanedir." Tanımı yapılan organ aşağıdakilerden hangisidir?

- A) Burun B) Akciğerler C) Yutak D) Gırtlak

3- İki kemiğin birleştiği ve hareket etmemize yardımcı olan bölüme ne ad verilir?

- A) Kemik B) Kas C) Eklem D) Lif

4- "Kaslarımızyapıya sahiptir."

Cümlesinde noktalı yere aşağıdakilerden hangisinin gelmesi uygun olur?

- A) Lifli B) Eklemlili C) Kaslı D) Kemikli

5- Aşağıdakilerden hangisi soluk alıp verme organı olan burunun görevlerinden değildir?

- A) Havayı ısıtır ve nemlendirir.
B) Havayı temizler.
C) Soluk alıp verme organlarının başında yer alır.
D) İki kola ayrılarak havanın akciğere iletimini sağlar.

6- Soluk alma sırasında;

*AkciğerlerI..... *Diyafram kasıII.....

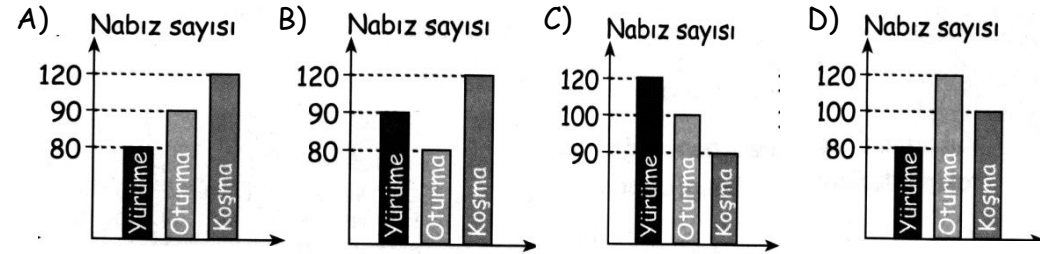
- | | |
|------------|-----------|
| <u>I</u> | <u>II</u> |
| A) Şişer | Gevşer |
| B) Büzülür | Kasılır |
| C) Büzülür | Gevşer |
| D) Şişer | Kasılır |

7- Hangisi kasların görevi değildir?

- A) Kemiklerin hareketini sağlar. B) Vücudumuza şekil verir.
C) Vücudun ihtiyacı olan enerjiyi üretir. D) Solunum sistemimizi çalıştırır.

8- Selma okula geç kalmıştır. Bu nedenle okula hızlı adımlarla yürümektedir. Bir süre sonra arkadaşı Pelin'le karşılaşır ve bir süre bankta oturarak sohbet ederler. Selma, saatine bakıp geç kalacağını anlayınca koşarak okuluna gider.

Yukarıda anlatılan olayda Selma'nın nabız sayısını gösteren grafik aşağıdakilerden hangisi olabilir?



9-

I-Akciğerler daralır.

II-Göğüs kafesi şişer.

III-Akciğerler şişer.

IV-Hava gırtlaktan yutağa geçer.

Soluk verme sırasında yandaki olaylardan hangisi veya hangileri gerçekleşir?

- A) I ve II B) II ve III C) I ve IV D) II, III ve IV

10- Kavram

I. Kan

II. Kalp

III. Damar

Görev

a. Kandaki karbondioksiti akciğerlere taşır.

b. Besin ve oksijen taşır.

c. Kanın vücuda pompalanmasını sağlar.

Kavramların görevlerle eşleştirilmesi hangi seçenekte doğru verilmiştir?

- | | | | |
|----------|----------|----------|----------|
| A) I → b | B) I → a | C) I → c | D) I → a |
| II → c | II → c | II → b | II → b |
| III → a | III → b | III → a | III → c |

SOSYAL BİLGİLER

- 1- 1. Serdar uzun boyludur. 2. Bahar sarışıdır.
3. Selçuk, iyi resim yapar. 4. Dilek, yeşil gözlüdür.

Yukarıda verilen özelliklerden hangisi diğerlerinden farklıdır?

- A) 1 B) 2 C) 3 D) 4

2- Aşağıdakilerden hangisi bireysel farklılıklarımızdandır?

- A) İyi basketbol oynamak. B) Su içmek.
B) Ders çalışmak. C) Uyumak.

- 3- "Çevremizde meydana gelen bir olayla ilgili
zihnimizde tasarladığımız denir."

**Yukarıdaki cümlede noktalı bölüme verilenlerden hangisi yazılırsa,
ifade doğru olur?**

- A) Duygu B) Hoşgörü C) Birey D) Düşünce

4-

	D	Y
Duygu ve düşünce her insanda bulunur.		
Aynı olaylara insanlar aynı tepkiyi verir.		
İnsanların duygu ve düşünceleri hiçbir zaman gözlemlenemez.		

- A)

	X
	X
X	

 B)

X	
X	
	X

 C)

X	
	X
X	

 D)

X	
	X
	X

- 5- "Suzan, ailesinin soy ağacını oluşturmak istiyor." Pınar'ın oluşturduğu soy ağacında aşağıdakilerden hangisi yer almaz?

- A) annesi B) babası C) öğretmeni D) amcası

- 6- * 2001'de doğdum.

* 2003'de(1).....

* 2004'de konuşmaya başladım.

* 2007'de(2).....

Yukarıdaki boşluklara aşağıdaki ifadelerden hangisi yazılmalıdır?

- A) (1) Okula başladım. (2) İlk kez yürüdüm.
B) (1) İlk kez yürüdüm. (2) Okula başladım.
C) (1) İlk kez yürüdüm. (2) İlk kez koştum.
D) (1) İlk dişim çıktı. (2) İlkokul 3. Sınıfa başladım.

7- Nüfus cüzdanında aşağıdaki bilgilerden hangisi yer almaz?

- A) Ad-Soyad B) Kan grubu C) Adres D) Doğum tarihi

8- Aşağıdakilerden hangisinde bireysel farklılıklardan söz edilmiştir?

- A) Tiyatro oyunu tam zamanında başladı. B) Oyunun dekoru güzeldi.
C) Sarı saçlı oyuncuyu daha başarılı buldum. D) Oyunu çok beğendik.

9- Aşağıdakilerden hangisi olumsuz duygulardandır?

- A) Şaşkınlık B) Sevinç C) Kaygı D) Nefret

10- Aşağıdakilerden hangisi fiziksel özellikler arasında yer almaz?

- A) Duygusallık B) Boy C) Göz rengi D) Saç rengi

TÜRKÇE

Cepheden getirilen yaralı askerler hastaneleri doldurmuş, yeni gelenlere yer bulmakta güçlük çekiliyordu. Savaş yokluğu da peşinden getirmişti.

Çanakkale'de şiddetli savaşlar devam ederken cephe gerisinde bir bekleyiş vardı. Bu bekleyiş pek umut verici değildi. Ama dört aydır dünyanın en güçlü ordularına dayanan askerlerimiz, müjdeli zafer haberleri getiriyordu. Bu haberler geldikçe halk daha bir gayrete geliyor, varını yoğunu cephede savaşanlara gönderiyordu.

(İlk iki soruyu yukarıdaki metne göre yanıtlayınız.)

1- Yeni gelen yaralı askerlere niçin yer bulmakta güçlük çekiliyormuş?

- A) Yeterli sayıda hastane olmadığı için B) Çok yaralı olduğu için
C) Hastaneler dolu olduğu için D) Hastaneler kapalı olduğu için

2- Metinde hangisinden söz edilmemiştir?

- A) Halk yokluk çekiyordu.
B) Savaş alanından güzel haberler geliyordu.
C) Askerler Çanakkale'de savaşıyordu.
D) Savaşı Türk askerleri kazanmıştı.

3- Hangi seçenekte verilen sözcükler eş anlamlı değildir?

- A) vatan-millet B) talih-şans C) fayda-yarar D) vazife-görev

4- Hangi cümlede "cümle" sözcüğünün eş anlamlısı kullanılmıştır?

- A) Arda hala heceleyerek okuyor.
B) Anlamını bulduğumuz sözcükleri deftere yazdık.
C) Konuyu bir iki tümceyle özetledi.
D) Harflerin yazılış yönüne dikkat etmeliyiz.

5- Aşağıdaki sözcüklerden hangisi hiç ek almamıştır?

- A) doğru B) silgi C) gemici D) yazlık

6- "Yine mi okula geç kaldın?" "Geç" sözcüğü hangi cümlede bu cümledeki anlamıyla kullanılmıştır?

- A) Sınıfını başarı ile geçmesine sevindik.
B) Hastalığını çok geç olmadan anladılar.
C) Karşıdan karşıya geçerken dikkatli ol.
D) Trafik polisi bize "Geç" işareti yaptı.

7- Aşağıdaki cümlelerin hangisinin sonunda soru işareti kullanılmaz?

- A) Otobüs gelecek mi bilmiyorum()
B) Ali'de gelecek mi()
C) Bilgisayarı açık bırakan kim()
D) Bu öyküde neler anlatılıyor()

8- Aşağıdaki cümlelerin hangisinde yazım yanlışı yoktur?

- A) Cumhuriyet Caddesi'nde yeni bir sinema açılmış.
B) Pamuk, Pazar günü veterinere gidecek.
C) Yalnızlıktan öyle bunalmıştı ki kuşlarla konuşuyordu.
D) Alper'ler bu akşam bize gelecek.

9- Aşağıdaki cümlelerden hangisinde çikolatanın özelliği belirtilmiştir?

- A) Çikolata insanlara mutluluk verir. B) Sıcak çikolata içelim.
C) Eve giderken çikolata da alalım. D) Çikolatamı paylaşalım mı?

10- Aşağıdaki sözcükleri sözlük sırasına göre sıraladığımızda hangi sözcük en sonda yer alır?

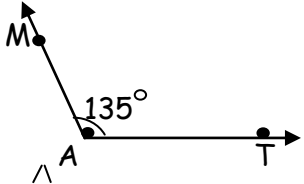
- A) soğan B) sarımsak C) sucuk D) sirke

MATEMATİK

1- Aşağıdaki açı çeşitlerinden hangisinin ölçüsü diğerlerinden büyüktür?

- A) dik açı B) geniş açı C) doğru açı D) dar açı

2-

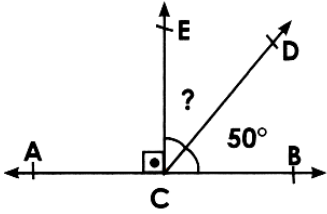


- a) $\angle ATM$ açısı diye yazılır.
c) Dar açıya örnektir.

Yandaki açı ile ilgili verilen bilgilerden hangisi **doğrudur**?

- b) Ölçüsü doğru açıdan 55 derece küçüktür.
d) Ölçüsü dik açıdan 45 derece fazladır.

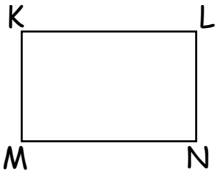
3-



Yandaki şekilde soru işareti(?) ile gösterilen açı kaç derecedir?

- A) 30° B) 40° C) 50° D) 90°

4-

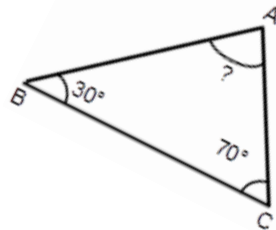


Yandaki geometrik şekle ait isimlendirmelerden hangisi **yanlıştır**?

- A) [KLMN] B) [MKLN] C) [NKLM] D) [LNMK]

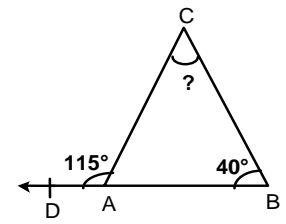
5- Yandaki üçgende verilenlere göre $\angle A$ kaç derecedir?



- A) 80° B) 90° C) 70° D) 60°



6- Yandaki şekilde $\angle C$ açısı kaç derecedir?

- A) 55° B) 65° C) 70° D) 75°



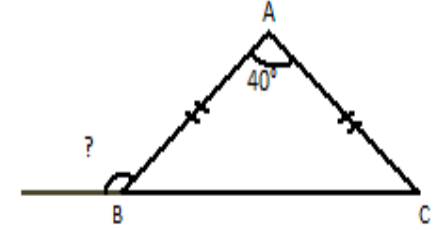
	
Bütün açıları eşittir.	Bütün açıları eşittir.
Karşılıklı kenarları eşittir.	Bütün kenarları eşittir.
Açıları 90° dir.	Açıları 90° dir.

7- Yukarıda özellikleri verilen geometrik şekiller hangileridir?

- A) Dikdörtgen Eşkenar üçgen
B) Kare Dikdörtgen
C) Dikdörtgen Kare
D) İkizkenar üçgen Kare

8- Yandaki üçgende soru işareti ile gösterilen açı kaç derecedir?

- A) 110° B) 120° C) 70° D) 80°



9- Aşağıdaki harflerden hangisinin simetri doğrusu çizilemez?

- A) A B) O C) S D) M

10-

X		W	X		W		
W					X	X	W

1. şekil 2. şekil 3. şekil 4. şekil

Yukarıdaki örüntüye göre **5. şekil** aşağıdakilerden hangisi olmalıdır?

- A)

W	
X	

 B)

X	
W	

 C)

X	W

 D)

W	X