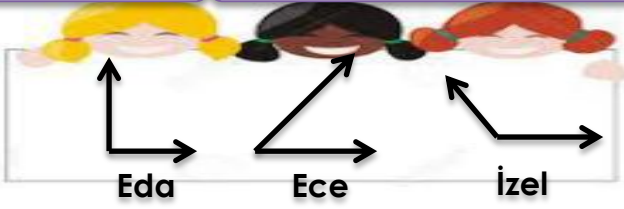


Ad Soyad:

3.SINIF – MATEMATİK SEVİYE TESPİT TESTİ – 2

Not:

1.)



Öğrencilerin çizdiği açılara göre hangisi yanlıştır?

- A. Eda bir dik açı çizmiştir.
B. İzel bir geniş açı çizmiştir.
C. Ece bir doğru açı çizmiştir.


2.)



Hangi öğrencinin söylediği harfte hem paralel hem de dik kesişen doğrular vardır?

- A. B. C.

3.)



Hangisinin söylediği geniş açılı üçgendir?

- A. Cem B. Can C. Ali

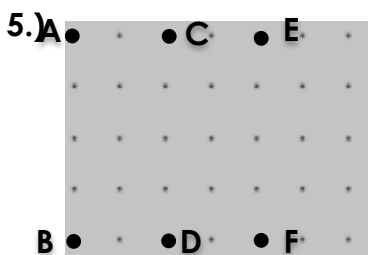
4.)



Yandaki doğrulardan hangileri dik kesişen doğrulardır?

- A. a ve b B. c ve a C. d ve b

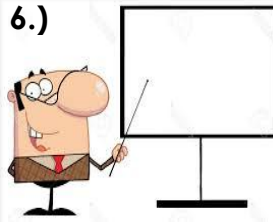
5.)



Yandaki noktalardan hangilerini birleştirirsek bir kare olur?

- A. AEFD B. AEFB C. ACDB

6.)



Tahtaya **geniş açısı** olan bir harf çizmek isteyen Ali, hangi harfi çizmelidir?

- A. **A** B. **T** C. **Z**

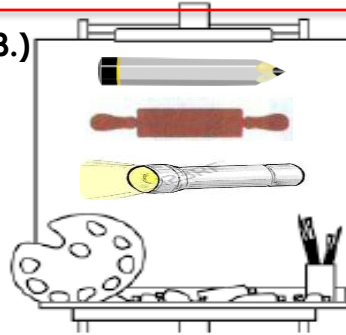
7.)



Hangi öğrencinin söylediği **düzleme bir örnek** olarak verilemez?

- A. Ebru B. Mert C. Berk

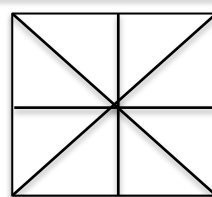
8.)



Yandaki tuvalde aşağıdakilerden hangisine model çizilmemiştir?

- A. Doğru B. Doğru parçası C. Işın

9.)



Yandaki şekilde kaç tane kare, dikdörtgen üçgen vardır?


- | | Kare | Dikdörtgen | Üçgen |
|----|------|------------|-------|
| A. | 5 | 4 | 16 |
| B. | 5 | 4 | 12 |
| C. | 4 | 4 | 12 |

10.)

- 1 Silindir ile bir dikdörtgen çizebiliriz.
- 2 Dikdörtgen prizma ile kare çizilmez.
- 3 Koni ile bir çember çizebiliriz.

Yukarıdaki ifadelerden hangileri doğrudur?

- A. 2 – 3 B. 1 – 3 C. 1 – 2 – 3

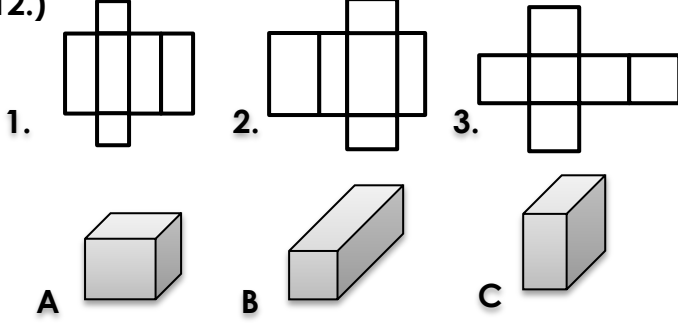


11.)

Hangisi, penguenin çizdiği açının adı olamaz?


- A. CME açısı B. EMC açısı C. CEM açısı

12.)



Aşağıdaki eşleşmelerden hangisi doğrudur?

- A. 1A – 2B – 3C B. 1B – 2A – 3C
C. 1B – 2C – 3A



13.)

Yanda İzel'in çizdiği şekilde kaç tane açı vardır?

- A. 0 B. 2 C. 4

14.) 1 • 2 • 3 •



Yandaki ışıktan kaç numaralı noktaya ışın çizersek dar açı oluşur?

- A. 1 B. 2 C. 3

15.)

YELİZ

Yukarıdaki isimde kaç tane yatay, dikey ve eğik doğru vardır?

	Dikey	Yatay	Eğik
A.	6	4	3
B.	3	6	4
C.	4	6	3

16.)



Nokta ile ilgili aşağıdaki ifadelerden hangisi **yanlıştır**?

- A. Kalem ucunun bıraktığı izdir.
B. İki ucu sınırlı doğrudur.
C. Uzunluğu, alanı, hacmi yoktur.

17.)



Nil, Eren'in sorusuna böyle cevap vermiştir.

Buna göre Eren hangi soruyu sormuştur?

- A. Doğruya örnek ver. B. Işına örnek ver.
C. Doğru parçasına örnek ver.

18.) **Eda** : Bir tek noktadan en az iki paralel doğru geçer.

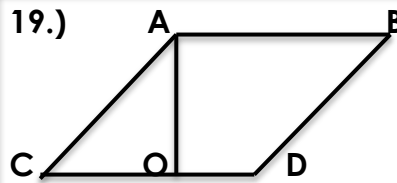
Kaya : Birbirine dik gelen doğrular dik açı oluşturur.

Ali : Halıdaki motifler düzlemsel şekle bir örnektir.

Yukarıdaki öğrencilerden hangisi **yanlış bilgi vermiştir**?

- A. Kaya B. Eda C. Ali

19.)



Yandaki açılarla ilgili aşağıdaki ifadelerden hangisi **yanlıştır**?

- A. ACO açısı dar açıdır. B. DOA açısı dik açıdır.
C. DBA açısı geniş açıdır.

20.)



Aşağıdaki saatlerin hangisinde yelkovan ve akrep bir **doğru açı oluşturur**?

- A. saat 15.00'de B. saat 18.00'de
C. saat 13.00'de