

ZAMAN ÖLÇME ETKİNLİKLERİ-1

Aşağıdaki saatlerin okunuşlarını ve öğleden sonra yazılışlarını yazın.



Saat'i geçiyor.

..... :



Saat'ye var.

..... :




Saat'i geçiyor.

..... :




Saat'ya var.

..... :



Saat'a var.

..... :



Saat'e var.

..... :



Saat'i geçiyor.

..... :



Saat'ü geçiyor.

..... :




Saat'yi geçiyor.


..... :

ZAMAN ÖLÇME ETKİNLİKLERİ-2


Aşağıda yazılışları verilen saatleri çizin.




16 : 20




11 : 35




18 : 15




13 : 50




19 : 05




22 : 40



12 : 45



23 : 55



17 : 25

ZAMAN ÖLÇME ETKİNLİKLERİ-3

Aşağıdaki çevirme işlemlerini yapın.

1 saat = dakika

4 yarım saat = dakika

3 saat = dakika

6 yarım saat = dakika

8 saat = dakika

3 yarım saat = dakika

7 saat = dakika

9 yarım saat = dakika

240 dakika = saat

3 çeyrek saat = dakika

180 dakika = saat

5 çeyrek saat = dakika

480 dakika = saat

2 çeyrek saat = dakika

360 dakika = saat

7 çeyrek saat = dakika

265 dakika = saat dakika

2 saat 20 dakika = dakika

195 dakika = saat dakika

4 saat 05 dakika = dakika

305 dakika = saat dakika

7 saat 10 dakika = dakika

550 dakika = saat dakika

1 saat 35 dakika = dakika

45 dakika = çeyrek saat

150 dakika = yarım saat

15 dakika = çeyrek saat

90 dakika = yarım saat

75 dakika = çeyrek saat

180 dakika = yarım saat

90 dakika = çeyrek saat

60 dakika = yarım saat

