

1-) Adem, Leyla ve Cengiz'in aralarında geçen konuşmaya göre hangisi "köşe" kavramı için doğruyu söylemektedir.

Bir geometrik cisimde yüzleri birbirinden ayıran düz çizgiye köşe denir.



ADEM

Hayır Adem. Kenar veya ayrıtların birleştiği yere köşe denir.



LEYLA



CENGİZ

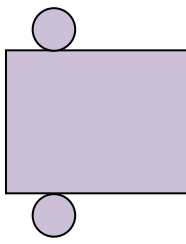
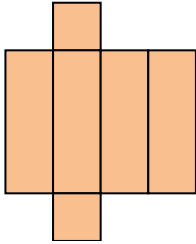
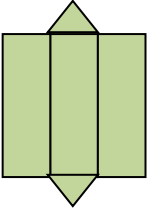
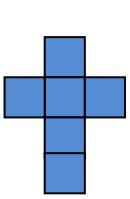
İkiniz de yanılıyorsunuz. Köşe ve yüz aynı şeydir.

a) ADEM

b) LEYLA

c) CENGİZ

2-) Aşağıdaki açılımlar sırasıyla hangi geometrik cisimlere aittir?



a) Küp – Silindir – Kare Prizma – Üçgen Prizma

b) Küp – Üçgen Prizma – Silindir – Kare Prizma

c) Küp – Üçgen Prizma – Kare Prizma – Silindir

3-) Yasin hangi geometrik cismi tarif etmektedir?



Köşesi ve ayrıtı yoktur. İki yüzü vardır. Bu yüzlerden biri daire şeklindedir.

a) Koni

b) Silindir

c) Küp

4-) Aşağıdaki sayılardan hangisini sadece onluk kullanarak oluşturabiliriz?

a) 27

b) 9

c) 50

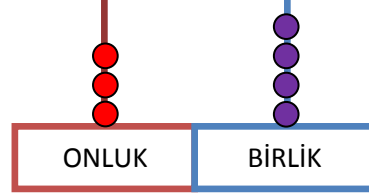
5-) 6 birlik ve 3 onluktan meydana gelen sayı kaçtır?

a) 63

b) 36

c) 46

6-) Aşağıdaki abaküste gösterilen sayı kaçtır?



a) 43

b) 30

c) 34

7-) Zeynep'in misketlerinden kaç tane deste yapılır?

Bugün saydım 57 tane misketim olmuş



a) 3

b) 4

c) 5

8-) İki basamaklı en büyük sayıdan birler basamağı 4 olan en küçük iki basamaklı sayı çıkarsa kaç kalır?

a) 85

b) 86

c) 95

9-) Samet'in 2 düzine kalemi var. Samet 3 tane daha kalem alırsa kaç kalemi olur?

a) 5

b) 27

c) 23

10-) Kerem Can'ın sorusunun cevabı hangi seçenektir?



24 sayısındaki 2 rakamını bir arttırsam 24 sayısı kaç artmış olur?

a) 24'e bir onluk daha ekleyeceği için sayı 10 artar

b) 2'ye bir ekleyerek 3 yapacağı için sayı 1 artar.

c) 24'e 3 onluk daha ekleyeceği için sayı 30 artar.

**11-) Aşağıdaki kelimelerden hangisinin zıt anlamı vardır?**

- a) Tembel**                      **b) Kalem**                      **c) Süt**

**12-) Aşağıdaki cümlelerin hangisinde altı çizili kelime “beyaz” kelimesinin eş anlamlısı olarak kullanılmıştır?**

- a) Bozuk musluktan sürekli su akıyor.  
b) Şu ak saçlı adam bana çok yardımcı oldu.  
c) Siyah renkli bir şemsiye aldım.

**13-) Aşağıdaki eşleştirilmiş kelimelerden hangisi zıt anlamlıdır?**

- a) Gıda-Besin**                      **b) İhtiyar-Yaşlı**                      **c) İhtiyar-Genç**

**14-)** Pelin'in söylediğine göre ziyarete giden kişi kimdir?



Bugün bize ziyaret için annemin erkek kardeşi geldi.

- a)** Pelin'in amcası.  
**b)** Pelin'in dayısı.  
**c)** Pelin'in halası.

**15-) Aşağıdaki cümlelerin hangisinde noktalama işaretlerinin hepsi doğru bir şekilde kullanılmıştır.**

- a) Marketten elma karpuz, ve muz aldın mı ?
- b) Kitapları nereden aldın.
- c) Kalem, silgi ve defteri getirdin mi ?

**16-) Aşağıdakilerden hangisi Enver'in sorusuna cevap olabilir?**



Okula nasıl gidebilirim ?

- a) Okula salı günü gidebilirsin.  
b) Ders çalışmak için okula gidebilirsin.  
c) Okula yürüyerek gidebilirsin.

**17-) Elif, Buğra ve Furkan'ın söyledikleri en çok hangi kavram ile ilgilidir?**



Herkesin kendi tercihini yapma hakkı vardır.



Hiç kimseye kendi düşüncelerimizi  
zorla kabul ettiremeyiz.



Sınıfımızda başkan seçimle belirlenir.

- a) Demokrasi**                      **b) Saygı**                      **c) Adalet**

**18-) Aşağıdaki konuşmalara göre kimin veya kimlerin sağlıklı beslendiğini söyleyebiliriz?**



Ben öğle yemeği yemem. Çünkü kilo vermek istiyorum.

Sedat



Hiç yemek seçmem. Çünkü bütün besinlere ihtiyacımız var.

Efe



Her gün sabah, öğle ve akşam olmak üzere üç öğün yemek yerim. Hiç aksatmam

Hülya

- a) Sedat ile Efe sağlıklı beslenmektedir.
- b) Hülya ile Sedat'ın beslenme şekilleri doğrudur.
- c) Efe ile Hülya'nın beslenmeleri sağlıklıdır.

**19-) Aşağıdaki besinlerden hangisi sağlıklı değildir?**

- a) Kola**                      **b) Bal**                      **c) Süt**

**20-)** Kahvaltıda aşağıdaki besinlerden hangisini yemeliyiz?

- a) Makarna**                      **b) Et**                      **c) Peynir**