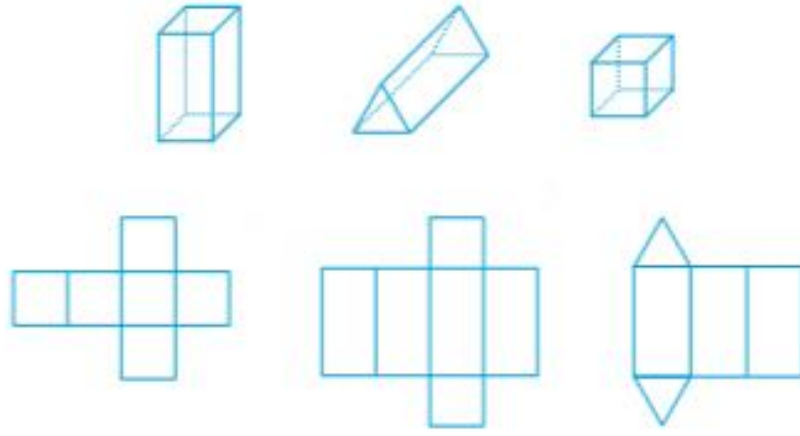


## ÜNİTE DEĞERLENDİRME SORULARI

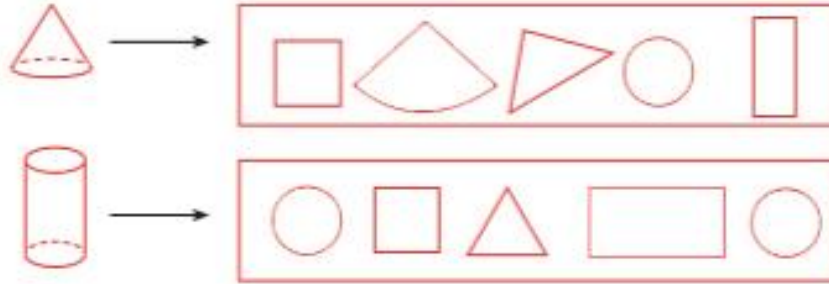
1. Aşağıdaki düzlemsel şekillere çevrenizden örnekler veriniz.

| Düzlemsel şekiller | Örnekler |
|--------------------|----------|
| Üçgen              |          |
| Dikdörtgen         |          |
| Kare               |          |

2. Aşağıdaki şekil ve bu şekillerin açılmış hâllerini birbirleriyle eşleştiriniz.



3. Aşağıdaki şekilleri oluşturan parçaları yan tarafta verilen şekillerden kullanarak sarıya boyayınız.



4. Aşağıda verilen noktalı yerlere "doğru, ışın, doğru parçası" kavramlarından uygun olanı yazınız.

- .....
- .....
- .....

5. Aşağıda verilen doğrudan yola çıkarak ışın ve doğru parçasını çizin.



| İsim          | Şekil |
|---------------|-------|
| Işın          | ..... |
| Doğru parçası | ..... |

6. Aşağıda ev şekli üzerinde gösterilen doğruları isimleri ile eşleştiriniz.

| Doğru adları | Şekil ile gösterim |
|--------------|--------------------|
| Yatay doğru  |                    |
| Dikey doğru  |                    |
| Eğik doğru   |                    |

7. Aşağıda verilen modelleri isimleriyle eşleştiriniz.



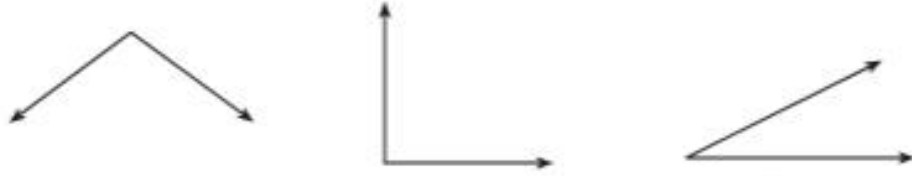
8. Aşağıda verilen şekilleri, isimleriyle eşleştiriniz. Bu sembollere uygun örnekler veriniz.



9. Çevrenizde noktaya benzeyen neler görüyorsunuz? Örnek veriniz.

10. Sınıfınızda açığa benzer şekiller görüyor musunuz? Örnek veriniz.

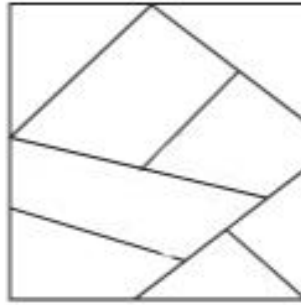
11. Aşağıda verilen açıların çeşitlerini altlarına yazınız.



12. Aşağıda verilen şekillerden hangilerinde dik açı vardır? İşaretleyiniz. Bir dik açı modeli çiziniz.

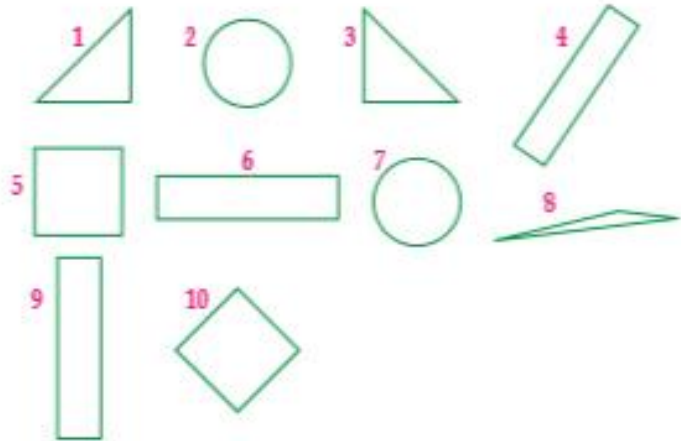


13. Aşağıda verilen şekilde dik, dar, geniş ve doğru açı örnekleri bularak renkli kalem ile gösteriniz.



14. Aşağıda verilen geometrik şekillere ait numaraları tabloda uygun yerlere yazınız.

|            |  |
|------------|--|
| Üçgen      |  |
| Kare       |  |
| Dikdörtgen |  |
| Çember     |  |




15. Cetvel ve gönye kullanarak kare, dikdörtgen ve üçgen çiziniz.

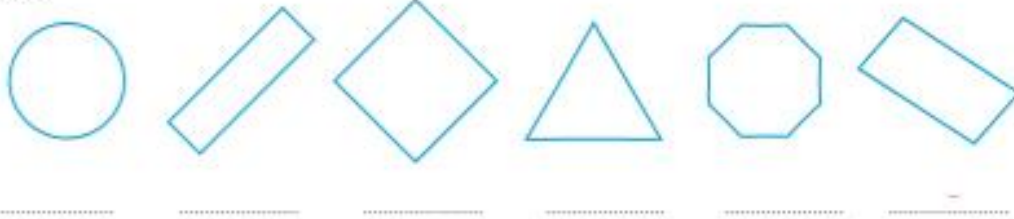
16. Aşağıdaki örüntüyü sürdürünüz.



17. Simetri doğrusuna göre aşağıdaki şekilleri tamamlayınız.



18. Aşağıdaki şekillerin açı sayılarını altlarına yazarak dört açılı olanları yeşile boyayınız.



19. Aşağıda verilen köşe ve açı sayılarını uygun şekillerle eşleştiriniz.

a. Üç köşe  
Üç açı

b. Dört köşe  
Dört açı

c. Sıfır köşe  
Sıfır açı

d. Dört köşe  
Dört açı

