


BİRLİK VE ONLUK ÇALIŞMA ÖDEVİ

Aşağıda verilen nesnelerin sayılarını örneğe uygun olarak yapınız.



.....3..... Onluk



.....5..... Birlik

Onlar B.	Birler B.
3	5
35	




..... Onluk



..... Birlik

Onlar B.	Birler B.
...	...
.....	

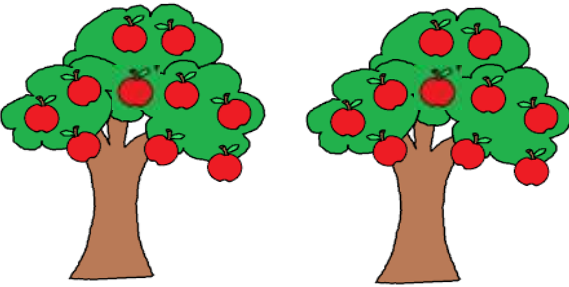


..... Onluk



..... Birlik

Onlar B.	Birler B.
...	...
.....	



..... Onluk

..... Birlik

Onlar B.	Birler B.
...	...
.....	



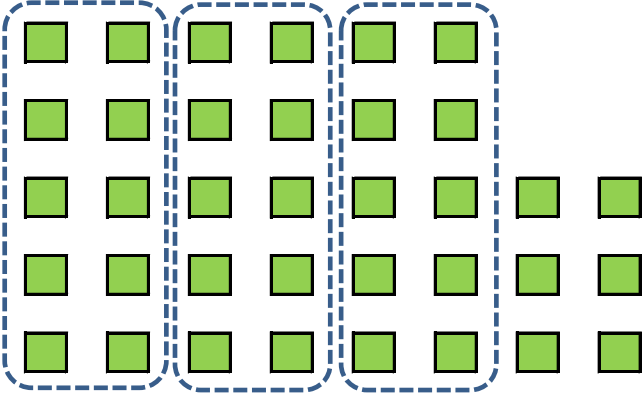
..... Onluk




..... Birlik

Onlar B.	Birler B.
...	...
.....	


Aşağıda verilen nesnelerin sayılarını örneğe uygun olarak yapınız.



Onlar B.	Birler B.
3	6



Onlar B.	Birler B.
...	...



Onlar B.	Birler B.
...	...



Onlar B.	Birler B.
...	...