

Aşağıdaki metni 5 kere okuyunuz, bir büyüğüze anlatınız.

AĞUSTOS BÖCEĞİ İLE KARINCA

Ağustosböceği bütün yaz
Saz çalmış, türkü söylemiş.

Karakış birden bastırınca
Şafak atmış zavallıda;

Bir şey bulamaz olmuş yiyecek:

Koca ormanda ne bir kurtçuk, ne bir sinek.

Gitmiş komşusu karıncaya:

— Aman kardeş, demiş, hâlim fena;

Bir şeycikler ver de kışı geçireyim. .

Karınca iyidir hoştur ama ;

Eli sıkıdır: Can verir, mal vermez

— Sormak ayıp olmasın ama, demiş;

Bütün yaz ne yaptınız?

— Ne mi yaptım? demiş ağustosböceği


Gece gündüz türkü söyledim;

Fena mı ettim sizce? ;

— Yoo, demiş karınca, ne . mutlu size

Ama hep türkü söylemek olmaz

Kışın da oynayın biraz.



1-Ağustos böceği bütün yaz ne yapmış?

.....
.....

2-Ağustos böceği neden karıncaya gelmiş?

.....
.....

3- Metne göre karınca nasıl bir hayvandır?

.....
.....

4-Karınca, ağustos böceğine ne demiş

.....
.....

Aşağıdaki özel adları cümle içinde kullanınız.

Antalya

.....

Gülcan

.....

Karabaş

.....

Atatürk İlkokulu

.....

Sayıları yazı ile yazın.

34: otuz dört

46:.....

78:.....

91:.....

13:.....

62:.....

75:.....

27:.....



Onluk ve birlikleri verilen sayılar

6 onluk + 3 birlik = 63

8 onluk + 0 birlik =

7 onluk + 2 birlik =

0 onluk + 6 birlik =

1 onluk + 4 birlik =

5 onluk + 9 birlik =

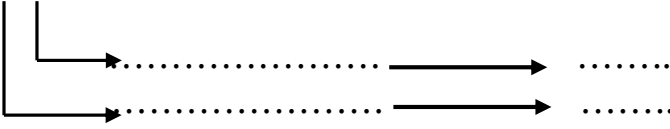
9 onluk + 5 birlik =

3 onluk + 7 birlik = ...

78

Basamak adı

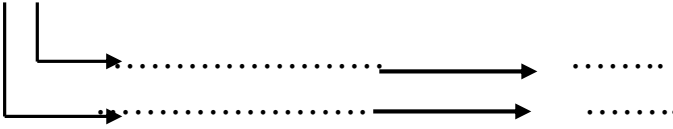
Basamak değeri



37

Basamak adı

Basamak değeri



Bir deste kalem çiz.

Bir düzine top çiz.



Adı:.....

Köşe sayısı:.....

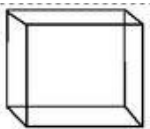
Ayrit sayısı:.....



Adı:.....

Köşe sayısı:.....

Ayrit sayısı:.....



Adı:.....

Köşe sayısı:.....

Ayrit sayısı :.....

Bir basamaklı sayıların en küçüğü.....

Bir basamaklı sayıların en büyüğü.....

İki basamaklı sayıların en küçüğü

İki basamaklı sayıların en büyüğü

23-24-.....-.....-.....-28-.....-.....-31

37-38- 39-.....-.....-.....-44-.....

19-.....-.....-.....-24-.....-.....-.....

45-.....-.....-.....-49-.....-.....-.....